

الدراسات الاجتماعية

الرابع الأساسي

مذكرة إثرائية
سؤال وجوابالفصل الدراسي الأول
الوحدة الأولى

(وطني عمان موقع وحضارة)



محتوى الوحدة الأولى

٢- موقع وطني الجغرافي

١- اقرأ خريطة وطني

٣- معالم من وطني

للتواصل :

99493923

اعداد :

علي بن محمد الحسان
Ali 47536@moe.om

درس : أقرأ خريطة وطني

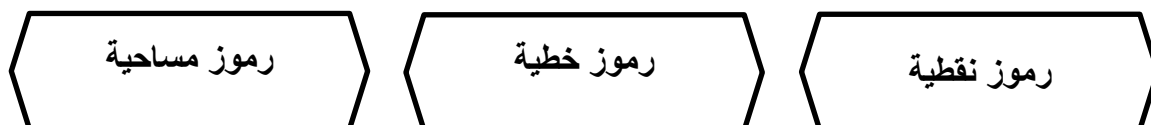
السؤال الأول : ضع علامة (✓) أو (X) أمام العبارة المناسبة.

- ١- (✓) عناصر الخريطة تساعدنا في فهم الخريطة وقراءتها .
- ٢- (X) بإمكاننا ان نرسم البيت كاملة كما هي في الورقة .
- ٣- (✓) تستخدم الألوان في بعض الخرائط للدلالة على تدرج الارتفاعات .

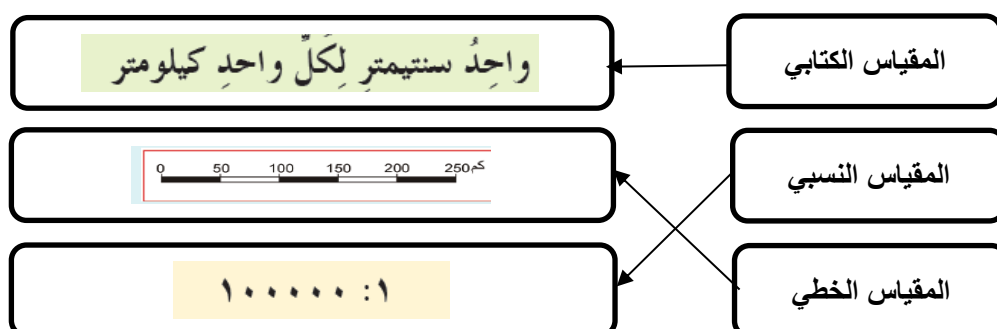
السؤال الثاني : أكمل العبارات التالية بكلمات مناسبة من عندك .

- ١- الخريطة رسمه مصغرة للمكان الذي نعيش فيه وما عليه من ظواهر جغرافية طبيعية وبشرية .
- ٢- يمكننا ان نرسم خريطة لعوقد الشمالية في ورقة باستخدام مقياس الرسم .

السؤال الثالث : " تقسم الظواهر الجغرافية الى ثلاثة أنواع " اكتبها ؟




السؤال الرابع : توجد عدة أنواع لمقاييس الرسم " صل بخط بين أنواع المقاييس التالية

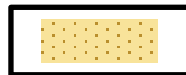


السؤال الخامس : ضع دائرة حول الإجابة الصحيحة.

١- الشكل التالي يمثل رموز

(خطية - نقطية - مساحية)

٢- الشكل التالي يمثل رموز

(خطية - نقطية - مساحية)

٣- الشكل التالي يمثل رموز

(خطية - نقطية - مساحية)**السؤال السادس : صل بخط بين الكلمة ومعناها .**

معناها	الكلمة
توضح أسماء الظاهر والمواقع الجغرافية الواردة في الخريطة	عنوان الخريطة
يدل على موضوع الخريطة	الاسماء الجغرافية
يتضمن معلومات عن الخريطة ودلالات الألوان والرموز الواردة فيها	رموز الخريطة
اشكال وخطوط بالوان مختلفة تعبر عن الظاهر الجغرافية	مفتاح الخريطة
يساعد على معرفة القياسات على الخريطة وما يقابلها في الطبيعة	إشارة الشمال
خط مفرد او مزدوج يحيط بالخريطة	اطار الخريط
تشير الى جهة الشمال في الخريطة	مقياس الرسم

درس : موقع وطني الجغرافي

السؤال الأول : ضع علامة (✓) أو (X) أمام العبارة المناسبة.

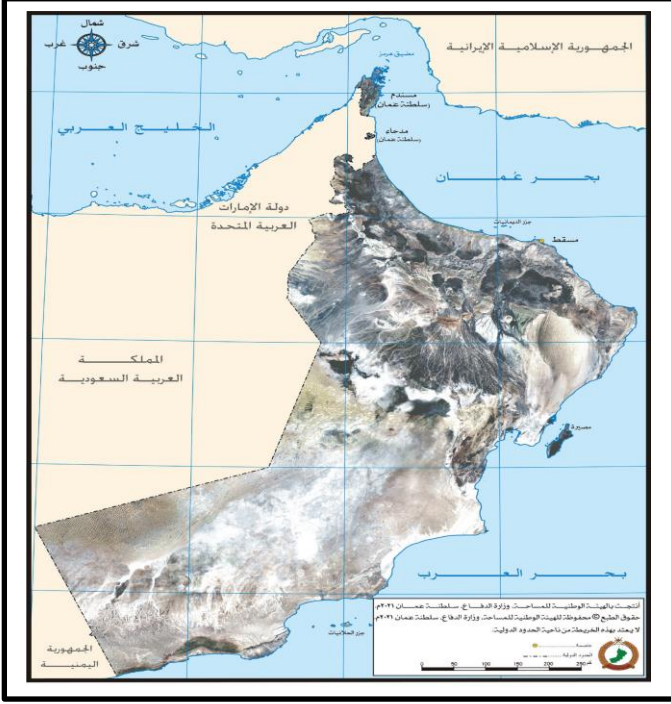
- ١- (✓) يقع وطني عمان في الجنوب الشرقي من شبه الجزيرة العربية .
- ٢- (✓) يعتبر وطني عمان اول دوله عربية تشرق عليها الشمس .
- ٣- (✓) تعد قارة آسيا اكبر قارات العالم من حيث المساحة .
- ٤- (✓) وطني عمان يمتلك موقعا متميزا اكسبه اهميه كبيرة قديما وحديثا .

السؤال الثاني : أكمل العبارات التالية بكلمات مناسبة من عندك .

- ٣- يطل وطني سلطنة عمان على المحيط الهندي .
- ٤- تجاور وطني عمان ثلاث دول .
- ٥- تشرف سلطنة عمان على مضيق هرمز بوابة الخليج العربي .
- ٦- تمر السفن التجارية وناقلات النفط العملاقة عبر مضيق هرمز

السؤال الثالث : ظلل الإجابة الصحيحة من بين البدائل المعطاه .

- ١- يقع وطني عمان بالنسبة للعالم في قارة ...
☐ افريقيا ☒ آسيا ☐ اوربا
- ٢- يقع وطني عمان على ... مسطحات مائية
☐ اثنين ☒ ثلاث ☐ اربع
- ٣- المحيط الذي كان يقطعه التجار العمانيون في رحلتهم البحرية الى شرقي افريقيا ...
☐ الهادي ☒ الاطلسي ☒ الهندي
- ٤- وصل التجار العمانيون في قارة آسيا الى ...
☐ استراليا ☒ الصين ☐ شرقي افريقيا



السؤال الرابع : من خلال الخريطة اجب عن الأسئلة التالية :

- ١- يشرف وطني عمان على - بحر عمان
- بحر العرب
- الخليج العربي
- ٢- يجاور وطني عمان ثلاث دول عربية هي :
 - الامارات العربية المتحدة
 - المملكة العربية السعودية
 - الجمهورية اليمنية

درس : معالم من وطني

السؤال الأول : ضع علامة (✓) أو (X) أمام العبارة المناسبة.

- ١- (✓) من مهام القلاع مراقبة تحركات العدو والدفاع عن البلاد .
- ٢- (X) الحصن اكبر من القلعة .
- ٣- (✓) تضم الحارة العمانية الحصن والقلعة والمسجد .

السؤال الثاني : أكمل العبارات التالية بكلمات مناسبة من عندك .

- ١- من مهام الفتحات في القلاع رمي السهام او اطلاق المدافع .
- ٢- الذي كان يسكن الحصن هو الحاكم .
- ٣- تتكون الحارات العمانية من بيوت أثرية متراصة .
- ٤- تتميز الحارات العمانية بالنوافذ والابواب المزخرفة .

السؤال الثالث : اكتب ثلاث مهام للقلاع والحصون في حياة المجتمع العماني :

الاحتفالات الشعبية	تحفيظ القرآن الكريم	مناقشة قضايا المجتمع
--------------------	---------------------	----------------------

السؤال الرابع : ضع العبارات التالية في العمود المناسب لها :

مسكن للجنود - مبنى ضخم - به فتحات لرمي السهام - يضم مجموعة من الأبراج - مسكن للحكام - يستخدم للدفاع والحماية

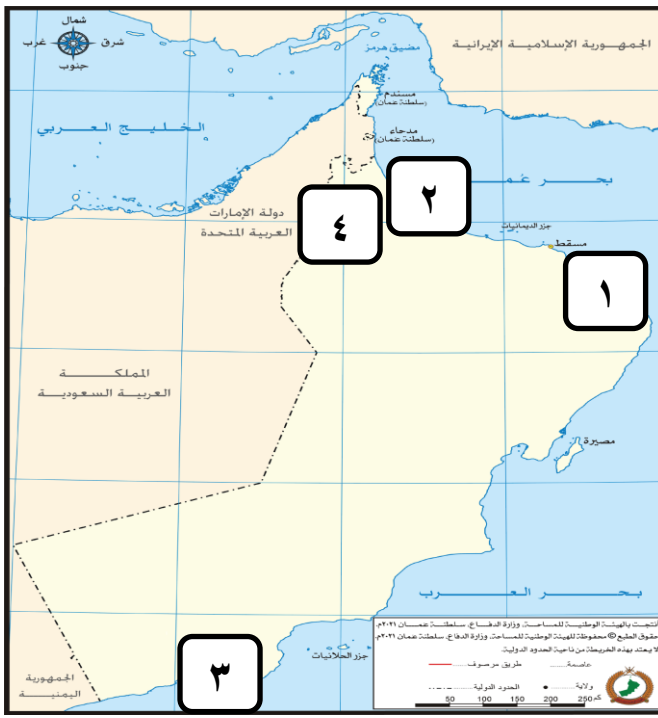
القلعة	الحصن
مبنى ضخم	مسكن للجنود
به فتحات لرمي السهام	يضم مجموعة من الأبراج
مسكن للحكام	يستخدم للدفاع والحماية

السؤال الخامس : اكتب تحت الصورة اسمها (قلعة - حصن) :

قلعة



حصن

السؤال السادس : ضع ارقام الصور التالية في اماكنها الصحيحة في الخريطة :

برج الصيرة



١

قلعة صحار



٢

حصن طاقة



٣

حصن الخندق



٤

السؤال السابع : اجب عن السؤال التالي :

س ١ : مم يتكون الحصن ؟ وماذا يوجد به ؟

ج ١ : يتكون الحصن من عدة طوابق ويحيط به سور كبير كما يوجد به أبراج كثيرة .