

- Suprihartoyo
- Djuminah
- Esti Dwi Wardayati



# Ilmu Pengetahuan Sosial

## Untuk SMP dan MTs Kelas IX



3




PUSAT PERBUKUAN  
Departemen Pendidikan Nasional



Suprihartoyo  
Djuminah  
Esti Dwi Wardayati

# Ilmu Pengetahuan Sosial

## Untuk SMP dan MTs Kelas IX



3



PUSAT PERBUKUAN  
Departemen Pendidikan Nasional



Hak Cipta pada Departemen Pendidikan Nasional  
Dilindungi Undang-undang

# Ilmu Pengetahuan Sosial

*Jilid 3 untuk SMP dan MTs Kelas IX*

Penyusun : **Suprihartoyo**  
**Djuminah**  
**Esti Dwi Wardayati**  
Editor : **Tri Harjanto**  
**Suciati Diah Pramesti**  
**Endang Siti Wuryani**  
Perancang Kulit : **Alfianto S.**  
Perancang Tata Letak Isi : **Alfianto S.**  
Layouter : **Dept. Grafis**  
Sumber Cover : **CD Digital Image**  
**Dokumen Penerbit**

300.07

SUP SUPRIHARTOYO

i Ilmu Pengetahuan Sosial 3 : Untuk SMP/MTs Kelas IX / Penyusun Suprihartoyo, Djuminah, Esti Dwi Wardayati ; Editor Tri Harjanto, Suciati Diah Pramesti, Endang Siti Wuryani. — Jakarta : Pusat Perbukuan, Departemen Pendidikan Nasional, 2009, vii, 326 hlm. : illus. ; 29 cm.  
Bibliografi : hlm. 322-323  
Indeks  
ISBN : 978-979-068-103-3 ( No. Jilid Lengkap )  
978-979-068-109-5  
1. Ilmu-ilmu Sosial-Studi dan Pengajaran I. Judul II. Djuminah  
III. Esti Dwi Wardayati IV. Tri Harjanto V. Suciati Diah Pramesti  
VI. Endang Siti Wuryani

Diterbitkan oleh Pusat Perbukuan  
Departemen Pendidikan Nasional  
tahun 2009  
Diperbanyak oleh ...

---

Hak Cipta Buku ini dibeli oleh Departemen Pendidikan Nasional  
dari Penerbit PT. Sekawan Cipta Karya

---





# Kata Sambutan

Puji syukur kami panjatkan ke hadirat Allah SWT, berkat rahmat dan karunia-Nya, Pemerintah, dalam hal ini, Departemen Pendidikan Nasional, pada tahun 2008, telah membeli hak cipta buku teks pelajaran ini dari penulis/penerbit untuk disebarluaskan kepada masyarakat melalui situs internet (*website*) Jaringan Pendidikan Nasional.

Buku teks pelajaran ini telah dinilai oleh Badan Standar Nasional Pendidikan dan telah ditetapkan sebagai buku teks pelajaran yang memenuhi syarat kelayakan untuk digunakan dalam proses pembelajaran melalui Peraturan Menteri Pendidikan Nasional Nomor 69 Tahun 2008 tanggal 7 November 2008.

Kami menyampaikan penghargaan yang setinggi-tingginya kepada para penulis/penerbit yang telah berkenan mengalihkan hak cipta karyanya kepada Departemen Pendidikan Nasional untuk digunakan secara luas oleh para siswa dan guru di seluruh Indonesia.

Buku-buku teks pelajaran yang telah dialihkan hak ciptanya kepada Departemen Pendidikan Nasional ini, dapat diunduh (*down load*), digandakan, dicetak, dialihmediakan, atau difotokopi oleh masyarakat. Namun, untuk penggandaan yang bersifat komersial harga penjualannya harus memenuhi ketentuan yang ditetapkan oleh Pemerintah. Diharapkan bahwa buku teks pelajaran ini akan lebih mudah diakses sehingga siswa dan guru di seluruh Indonesia maupun sekolah Indonesia yang berada di luar negeri dapat memanfaatkan sumber belajar ini.

Kami berharap, semua pihak dapat mendukung kebijakan ini. Kepada para siswa kami ucapkan selamat belajar dan manfaatkanlah buku ini sebaik-baiknya. Kami menyadari bahwa buku ini masih perlu ditingkatkan mutunya. Oleh karena itu, saran dan kritik sangat kami harapkan.

Jakarta, Februari 2009

Kepala Pusat Perbukuan





# Kata Pengantar

Puji syukur kami panjatkan kepada Tuhan Yang Maha Kuasa, karena atas berkat, rahmat dan karunia-Nya, penyusunan buku Ilmu Pengetahuan Sosial untuk SMP dan MTs kelas VII dapat diselesaikan.

Tujuan dan maksud penyusunan buku ini sebagai salah satu bahan ajar dalam pelaksanaan kegiatan belajar mengajar mata pelajaran Ilmu Pengetahuan Sosial di sekolah. Selain itu, agar kamu memiliki kemampuan berpikir logis dan kritis, mampu memecahkan masalah dengan baik, serta memiliki kemampuan dalam kehidupan sosial. Kehidupan masyarakat yang majemuk dan dinamis menuntutmu memiliki kemampuan berkomunikasi, bekerja sama, dan berkompetisi di tingkat lokal, nasional, dan global. Oleh karena itu pelajasilah buku ini dengan baik.

Sesuai dengan tujuan dalam pembelajaran mata pelajaran Ilmu Pengetahuan Sosial, kamu diharapkan dapat menjadi warga negara Indonesia yang demokratis dan bertanggung jawab, serta warga dunia yang cinta damai.

Dalam buku Ilmu Pengetahuan Sosial untuk SMP dan MTs ini disajikan informasi yang terkait dengan pengetahuan lingkungan dan masyarakat dengan segala aspeknya secara sederhana dan seefektif mungkin sehingga mudah dipahami. Penyajian gambar dan ilustrasi bertujuan untuk mempermudah kamu dalam memahami isi yang terkandung pada setiap materi. Selain itu untuk mengetahui pemahamanmu atas materi yang sedang dipelajari, buku ini juga dilengkapi tugas-tugas di setiap subbab, akhir bab, dan pada akhir semester.

Dalam buku ini, sebelum kamu belajar uraian materi, terlebih dahulu kamu belajar peta konsep. Peta konsep berisi garis besar tentang materi yang akan kamu pelajari. Setelah itu, kamu baru akan belajar tentang materi. Saat belajar materi, kamu juga akan mengerjakan beberapa tugas, ada tugas mandiri dan tugas bersama. Di akhir bab, kamu akan menemui rangkuman yang dapat memudahkanmu memahami keseluruhan isi bab. Kamu juga akan menemukan refleksi untuk mengetahui sikap dan perilaku yang perlu kamu teladani. Dan, di akhir bab maupun di akhir semester kamu harus mengerjakan latihan soal untuk mengukur kemampuanmu dalam memahami materi yang telah disampaikan.

Semoga buku ini dapat bermanfaat bagimu sebagai generasi pewaris tanah air tercinta ini. Akhirnya, kami menyampaikan terima kasih kepada semua pihak yang telah membantu penerbitan buku ini. Kritik dan saran yang bersifat membangun akan kami terima dengan senang hati.

Surakarta, Mei 2008

Penyusun



# Daftar Isi

Kata Sammbutan .....	iii
Kata Pengantar .....	iv
Daftar Isi .....	v

## SEMESTER I

<b>Bab 1</b>	<b>Negara Berkembang dan Negara Maju .....</b>	<b>3</b>
	A. Pembagian Negara Maju dan Negara Berkembang .....	5
	B. Ciri-Ciri Negara Berkembang .....	6
	C. Ciri-Ciri Negara Maju .....	9
	D. Persebaran Negara Maju dan Negara Berkembang .....	11
	E. Contoh Negara-Negara Maju .....	12
	F. Contoh Negara-Negara Berkembang .....	24
	G. Perang Dunia II dan Pengaruhnya terhadap Kehidupan di Indonesia .....	35
	<b>Latihan Soal 1 .....</b>	<b>44</b>
	<b>Wacana Sosial .....</b>	<b>46</b>
<b>Bab 2</b>	<b>Mempertahankan Kemerdekaan Indonesia .....</b>	<b>47</b>
	A. Konflik Indonesia dengan Belanda .....	49
	B. Usaha Perjuangan Mempertahankan Kemerdekaan Indonesia .....	52
	C. Kembalinya Republik Indonesia sebagai Negara Kesatuan .....	59
	D. Peristiwa Politik Indonesia Pascapengakuan Kedaulatan .....	60
	E. Perkembangan Ekonomi Indonesia Pascapengakuan Kedaulatan .....	73
	<b>Latihan Soal 2 .....</b>	<b>76</b>
	<b>Wacana Sosial .....</b>	<b>78</b>
<b>Bab 3</b>	<b>Perubahan Sosial Budaya .....</b>	<b>79</b>
	A. Hakikat Perubahan Sosial Budaya .....	81
	B. Faktor Penyebab Perubahan Sosial Budaya .....	85
	C. Faktor Pendorong dan Penghambat Perubahan Sosial Budaya .....	95
	D. Proses Perubahan Sosial Budaya .....	96
	E. Bentuk-Bentuk Perubahan Sosial Budaya .....	100
	F. Tipe-Tipe Perilaku Masyarakat Menyikapi Perubahan Sosial Budaya .....	103
	<b>Latihan Soal 3 .....</b>	<b>107</b>
	<b>Wacana Sosial .....</b>	<b>110</b>
<b>Bab 4</b>	<b>Uang dan Lembaga Keuangan .....</b>	<b>111</b>
	A. Uang .....	113
	B. Bank .....	122
	<b>Latihan Soal 4 .....</b>	<b>148</b>
	<b>Wacana Sosial .....</b>	<b>150</b>





<b>Bab 5</b>	<b>Perdagangan Internasional .....</b>	<b>151</b>
	A. Timbulnya Perdagangan Internasional .....	153
	B. Neraca Perdagangan .....	158
	C. Neraca Pembayaran .....	159
	D. Kebijakan Perdagangan Internasional .....	162
	E. Manfaat dan Hambatan Perdagangan Internasional .....	167
	F. Alat-Alat Pembayaran Internasional .....	168
	G. Dampak Perdagangan Internasional bagi Perekonomian Indonesia .....	174
	<b>Latihan Soal 5 .....</b>	<b>178</b>
	<b>Wacana Sosial .....</b>	<b>180</b>
	<b>Latihan Soal Semester I .....</b>	<b>181</b>
<b>SEMESTER II</b>		
<b>Bab 6</b>	<b>Permukaan Bumi .....</b>	<b>183</b>
	A. Bentuk-Bentuk Muka Bumi pada Peta .....	185
	B. Diagram Bentuk Muka Bumi Daratan dan Dasar Laut .....	192
	C. Pola dan Bentuk Objek Geografis Sesuai dengan Bentang Alamnya .....	194
	D. Pembagian Bumi Atas Benua dan Samudra .....	196
	<b>Latihan Soal 6 .....</b>	<b>221</b>
	<b>Wacana Sosial .....</b>	<b>223</b>
<b>Bab 7</b>	<b>Unsur Geografis dan Penduduk Asia Tenggara .....</b>	<b>225</b>
	A. Tinjauan Umum Asia Tenggara .....	227
	B. Negara-Negara di Kawasan Asia Tenggara .....	228
	C. Deskripsi Keadaan Geografis dan Penduduk Negara-Negara di Asia Tenggara .....	229
	<b>Latihan Soal 7 .....</b>	<b>254</b>
	<b>Wacana Sosial .....</b>	<b>256</b>
<b>Bab 8</b>	<b>Mempertahankan Keutuhan Bangsa .....</b>	<b>257</b>
	A. Perjuangan Membebaskan Irian Barat .....	259
	B. Peristiwa Tragedi Nasional .....	264
	C. Peristiwa G 30S/PKI .....	274
	<b>Latihan Soal 8 .....</b>	<b>278</b>
	<b>Wacana Sosial .....</b>	<b>280</b>
<b>Bab 9</b>	<b>Kerja Sama Internasional .....</b>	<b>281</b>
	A. Masa Transisi Pemerintahan Indonesia .....	283
	B. Lembaga-Lembaga Internasional dan Peran Indonesia dalam Kerja Sama Internasional .....	285





C. Perilaku Masyarakat dalam Perubahan Sosial Budaya di Era Global .....	301
D. Kerjasama Antarnegara di Bidang Ekonomi .....	309
E. Dampak Kerja Sama Antarnegara terhadap Perekonomian Indonesia.....	310
<b>Latihan Soal 9</b> .....	<b>313</b>
<b>Wacana Sosial</b> .....	<b>315</b>
<b>Latihan Soal Semester II</b> .....	<b>317</b>
<b>Glosarium</b> .....	<b>319</b>
<b>Daftar Pustaka</b> .....	<b>322</b>
<b>Indeks</b> .....	<b>324</b>

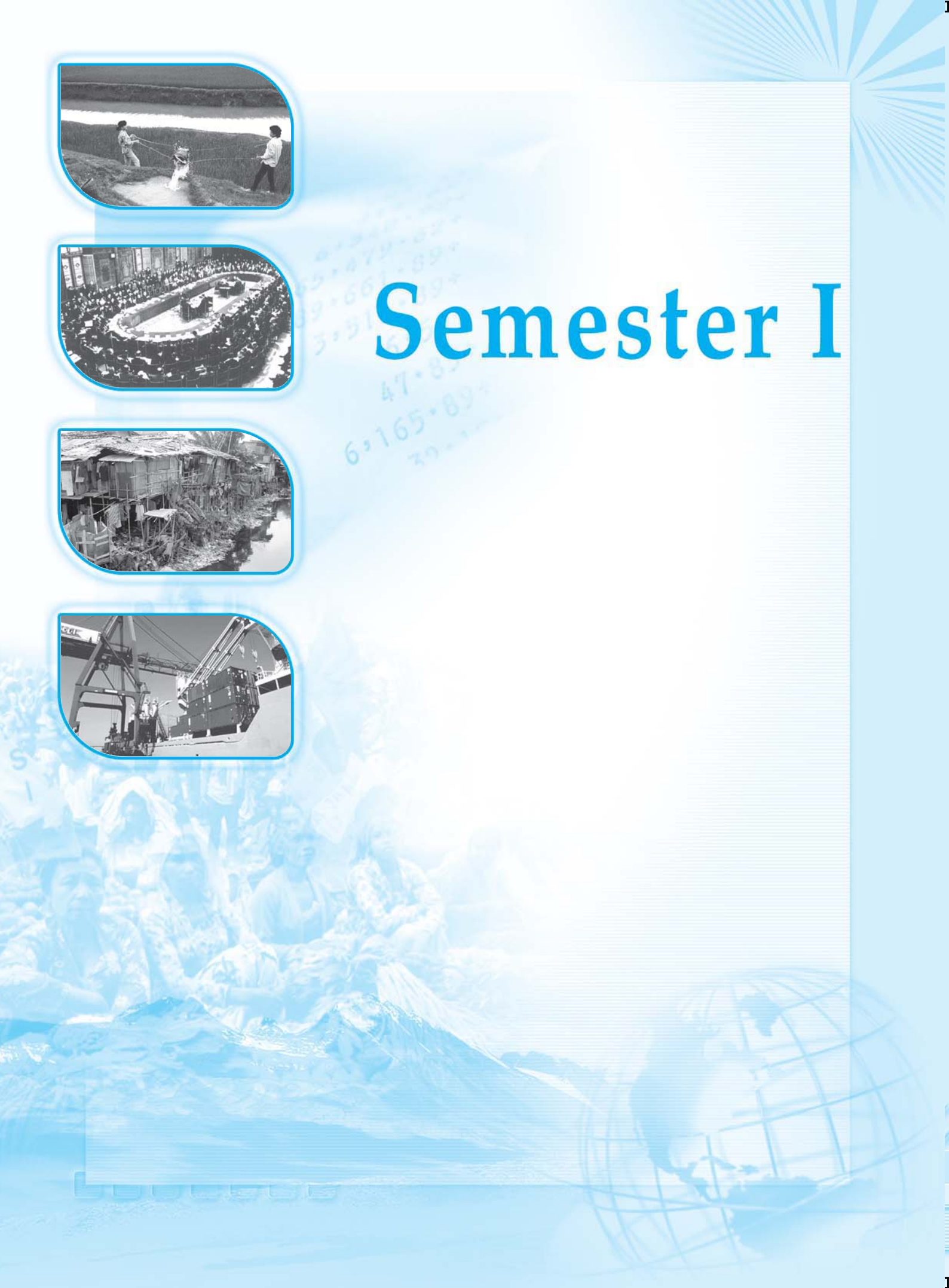








# Semester I










# Negara Berkembang dan Negara Maju

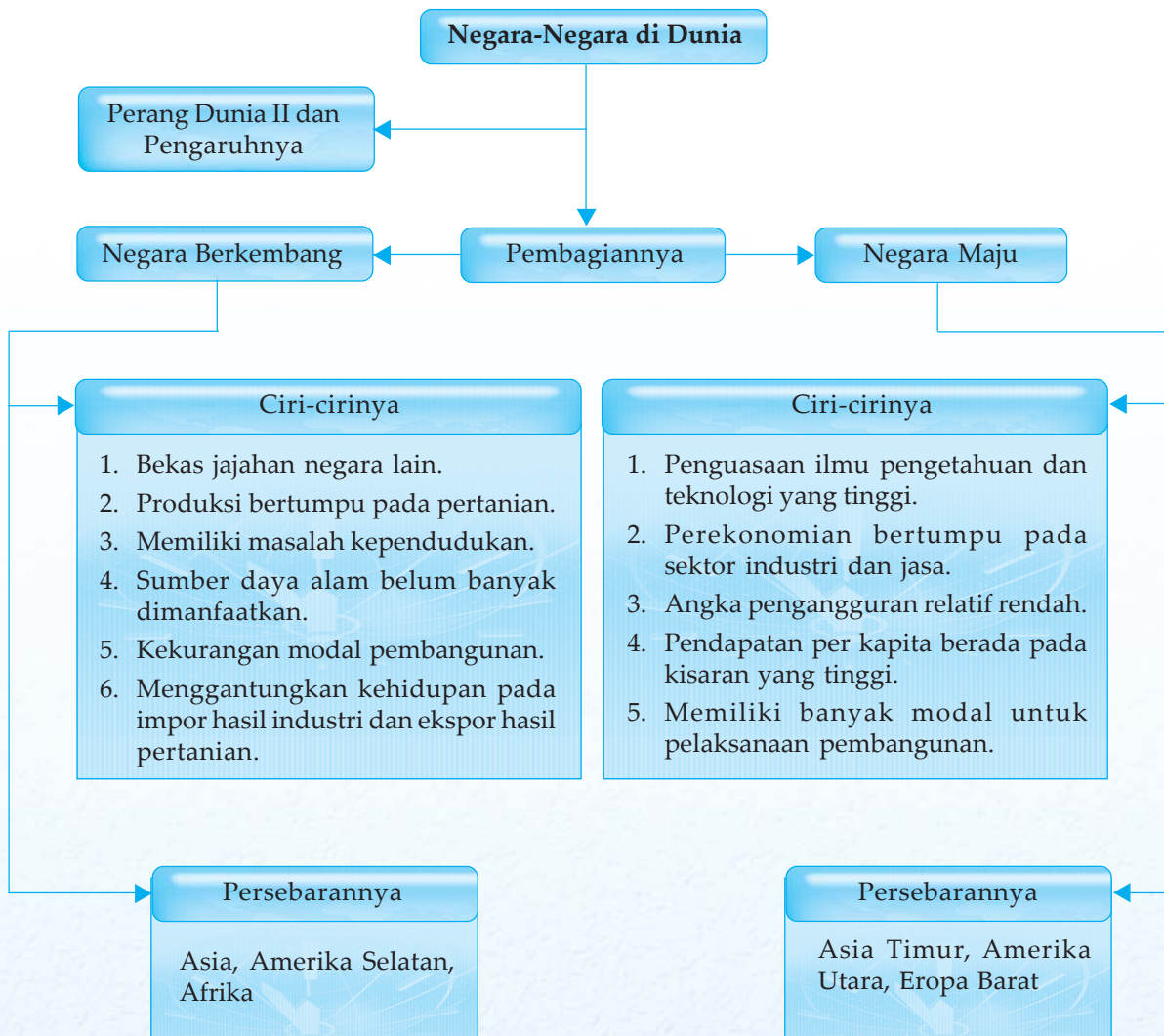


Negara maju memiliki kemampuan untuk menghasilkan produk-produk berteknologi tinggi seperti pesawat terbang, alat-alat elektronik, bahkan pesawat luar angkasa. Namun demikian beberapa negara maju masih sangat memerhatikan sektor pertanian dengan memodernisasikannya. Adapun negara berkembang, masih berfokus pada masalah kependudukannya dan mengandalkan sektor agraris bagi pendapatan negaranya. Tidak semua negara maju memiliki sumber daya alam yang mencukupi kebutuhannya, namun mereka mampu menghasilkan produk-produk teknologi tinggi.

Pada bab ini kita akan mempelajari ciri-ciri negara berkembang dan negara maju.



# Peta Konsep



## Kata Kunci

- negara berkembang
- agraris
- negara maju
- industri
- teknologi



Perkembangan teknologi di setiap bangsa dan negara berbeda satu sama lain. Beberapa negara memiliki pengetahuan dan kemampuan pengembangan teknologi tinggi sehingga dapat memanfaatkan kekayaan alamnya secara lebih maksimal. Namun, ada pula negara dengan pengetahuan dan kemampuan pengembangan teknologi yang masih sederhana. Negara-negara tersebut masih memiliki keterbatasan dalam pemanfaatan sumber daya alam. Karena perbedaan ini, akhirnya muncul istilah negara berkembang dan negara maju.

Munculnya istilah negara berkembang dan negara maju tersebut juga didasarkan pada keberhasilan pembangunan yang dilaksanakan di masing-masing negara. Indikator yang biasanya digunakan untuk menentukan kategori suatu negara antara lain ialah *tingkat urbanisasi, tingkat kematian bayi, tingkat kelahiran, jumlah penduduk, tingkat pertumbuhan penduduk, tingkat usia harapan hidup, dan pendapatan per kapita*. Indikator yang paling utama merupakan *pendapatan per kapita*.


Pada bab ini, kamu akan mempelajari perbedaan ciri-ciri negara maju dan negara berkembang. Dengan memahami perbedaan ini, kamu akan mampu membedakan pencapaian hasil pembangunan antarnegara.

## **A. Pembagian Negara Maju dan Negara Berkembang**

Dalam khazanah wacana negara secara internasional, ada beberapa macam pembagian negara maju dan berkembang. Pembagian negara maju dan berkembang umumnya dilakukan oleh organisasi-organisasi dan lembaga-lembaga internasional yang berkepentingan dengan pembagian negara-negara berdasarkan kriteria tertentu. Walau begitu, tidak ada ketentuan baku yang mengatur pembagian negara maju dan negara berkembang.

Bank Dunia mencoba melakukan pembagian negara maju dan berkembang berdasarkan sektor perekonomian yang dijadikan tumpuan. Maka, menurut Bank Dunia negara-negara di dunia ini terbagi ke dalam empat kelompok. Empat kelompok tersebut ialah sebagai berikut.

1. Negara maju yang berpendapatan tinggi dan mengandalkan perekonomiannya dari sektor industri.
2. Negara berkembang yang berpendapatan menengah dan sektor industri dalam bidang perekonomiannya sedang dalam tahap berkembang.
3. Negara dunia ketiga yang berpendapatan rendah dan tidak memiliki sektor industri yang dapat diandalkan dalam perekonomiannya.
4. Negara-negara pengekspor minyak yang dikelompokkan secara khusus, tidak dimasukkan dalam tiga kelompok di atas. Ini disebabkan negara-negara pengekspor minyak



**Gambar 1.1** Negara-negara pengekspor minyak dikelompokkan secara khusus.

**Sumber:** [www.masterfile.com](http://www.masterfile.com)



## Tugas Mandiri

Sebutkan negara-negara yang termasuk negara-negara maju dan berkembang berdasarkan kriteria dari UNDP!

memiliki pertumbuhan ekonomi yang cepat karena mengandalkan sektor pertambangan minyak bumi dan gas alam yang harganya terus meningkat sejak periode 1970-an.

UNDP (*United Nations Development Program*), yakni lembaga internasional untuk pembangunan yang berada di bawah PBB, mengelompokkan negara maju dan negara berkembang berdasarkan keberhasilan negara-negara tersebut dalam membangun kualitas kehidupan manusia yang menjadi penduduk di wilayahnya. Karena itu, kriteria yang dipakai oleh UNDP dalam mengelompokkan negara-negara maju dan berkembang ialah menggunakan berbagai faktor nonekonomi seperti tingkat harapan hidup, tingkat kematian bayi, dan tingkat pendidikan.

Selain itu, Bank Dunia juga mengelompokkan negara-negara di dunia ini berdasarkan pendapatan per kapita yang diperoleh oleh masing-masing negara. Berdasarkan pendapatan per kapitanya, ada empat macam negara yaitu sebagai berikut.

1. Negara berpendapatan rendah, yakni negara yang memiliki pendapatan per kapita kurang dari US\$ 675.
2. Negara berpendapatan menengah bawah, yakni negara yang memiliki pendapatan per kapita antara US\$ 675–2.695.
3. Negara berpendapatan menengah atas, yakni negara yang memiliki pendapatan per kapita antara US\$ 2.696–8.335.
4. Negara berpendapatan tinggi, yakni negara yang memiliki pendapatan per kapita lebih dari US\$ 8.336.

Secara umum, yang dimaksud dengan negara berkembang ialah negara yang bidang perekonomian dan tingkat kehidupan masyarakatnya masih berada dalam tahap perkembangan. Adapun negara maju ialah negara yang bidang perekonomian dan tingkat kehidupan masyarakatnya telah berada pada tahap yang lebih maju. Berdasarkan definisi umum ini, ada beberapa ciri dan kriteria yang menyebabkan suatu negara digolongkan sebagai negara maju atau negara berkembang.

## B. Ciri-Ciri Negara Berkembang

Negara-negara berkembang umumnya berada di kawasan Asia Selatan, Asia Tengah, Asia Tenggara, Afrika, dan Amerika Selatan. Negara-negara yang termasuk kelompok negara berkembang contohnya antara lain Indonesia, Kazakhstan, India, Kamerun, dan Brasil. Umumnya, negara berkembang memiliki ciri sebagai berikut.

### 1. Bekas Jajahan Negara Lain, Terutama Negara-Negara Eropa

Karena penjajahan yang terjadi selama ratusan tahun, tingkat pendidikan masyarakat di negara berkembang umumnya rendah. Akibatnya, penduduk negara berkembang kurang



mampu mengembangkan dirinya untuk mengejar ketinggalan dalam bidang pembangunan. Penjajahan selama ratusan tahun juga telah menyebabkan hilangnya sejumlah kekayaan alam yang dapat dijadikan sumber modal untuk pembangunan.

Masih banyak dampak kerusakan lain yang diakibatkan oleh penjajahan. Akibat yang paling utama ialah menjadi rendahnya kepercayaan diri bangsa-bangsa yang dijajah untuk dapat berdiri sejajar dengan bangsa-bangsa lain yang lebih maju. Hal ini menyebabkan bangsa-bangsa yang pernah terjajah umumnya sulit mengembangkan tingkat pendidikan dan pengetahuan masyarakatnya.

## **2. Produksi Barang Sangat Bertumpu pada Hasil Pertanian**

Karena tingkat pendidikannya rendah, kemampuan masyarakat dalam melakukan produksi hanya terbatas pada bercocok tanam yang dipelajari secara turun temurun. Hal ini juga merupakan akibat tidak langsung dari penjajahan selama ratusan tahun. Secara umum hasil pertaniannya memiliki nilai komoditas yang rendah karena cepat membusuk dan rusak. Hal ini berbeda dengan hasil industri yang tahan lama dan bernilai tinggi.

Pertanian yang dilakukan secara tradisional umumnya tidak memberikan hasil yang banyak dan melimpah. Keadaan ini makin memperburuk kualitas hasil pertanian negara-negara berkembang sehingga hasil-hasil pertaniannya kurang mampu bersaing dengan hasil-hasil pertanian negara lainnya di pasar internasional. Alternatif untuk mengalihkan tumpuan pada sektor selain sektor pertanian sangat terbatas karena rendahnya pengetahuan masyarakat di luar sektor pertanian.

## **3. Memiliki Masalah Tekanan Penduduk**

Tekanan penduduk berkisar pada tingkat pengangguran tinggi, pertumbuhan penduduk tinggi, produktivitas rendah, kualitas kehidupan rendah, dan kemiskinan.

Masalah-masalah tersebut berkaitan langsung dengan kemampuan ekonomi masyarakat. Sehingga masalah-masalah semacam itu tidak akan dapat diberantas oleh pemerintah sepanjang masalah perekonomian belum juga dapat diatasi. Di sisi lain, masalah perekonomian juga sangat tergantung kepada kualitas kehidupan manusia, sehingga keduanya saling memengaruhi satu sama lain. Akibatnya, hal itu menjadi masalah yang terus berputar dan tak kunjung usai bila tidak diiringi oleh keinginan keras seluruh penduduknya untuk maju.

## **4. Sumber Daya Alam Belum Banyak Dimanfaatkan secara Maksimal**

Penguasaan teknologi dan pendidikan yang rendah menyebabkan negara berkembang memiliki kemampuan terbatas untuk memanfaatkan sumber daya alam yang ada.



**Gambar 1.2** Pertanian di negara berkembang dilakukan secara tradisional.

**Sumber:** Microsoft Student 2006





**Gambar 1.3** Negara-negara di Afrika umumnya tergolong negara miskin dengan kualitas kehidupan relatif rendah.

**Sumber:** *Nationalgeographic.com*

Pengetahuan masyarakat akan potensi yang dimiliki oleh wilayahnya sangat rendah, sehingga tidak mampu memanfaatkan potensi yang dimilikinya. Padahal, pemanfaatan sumber daya alam merupakan faktor pendorong kemajuan suatu bangsa. Sumber daya manusia yang rendah tidak akan mampu mengolah dan memanfaatkan sumber daya alam yang paling tinggi sekalipun. Karena itu, kemajuan sebuah negara sangat tergantung pada kemampuan masyarakatnya dalam memaksimalkan pemanfaatan sumber daya alam yang dimilikinya. Oleh karena itu ada beberapa negara yang memiliki potensi sumber daya alam yang sangat banyak namun tergolong ke dalam negara berkembang.

## 5. Kekurangan Modal untuk Melaksanakan Pembangunan

Modal yang dimiliki negara berkembang cenderung tersedot untuk mengatasi masalah-masalah sosial seperti telah dijelaskan sebelumnya. Akibatnya, modal cepat habis dan tidak ada lagi modal untuk melanjutkan proses pembangunan.

Adapun pengadaan modal melalui ekspor dan pemasukan lainnya tidak dapat berjalan secara optimal karena ketidakmampuan menambah pemasukan ke kas negara secara signifikan.

## 6. Cenderung Menggantungkan Kehidupan pada Impor Hasil Industri dan Ekspor Hasil Pertanian

Kemampuan produksi yang rendah dan hanya mengandalkan sektor pertanian menyebabkan adanya ketidakseimbangan dalam ekspor dan impor. Modal pun banyak tersedot untuk membeli hasil industri. Sementara, pemasukan hanya mengandalkan ekspor hasil pertanian yang nilainya tidak terlalu tinggi. Ketidakseimbangan antara ekspor dan impor menyebabkan tidak seimbang pemasukan dan pengeluaran. Sehingga, terjadi pengeluaran yang berlebihan tanpa diimbangi pemasukan yang menyebabkan kas negara terus mengalami defisit atau kerugian. Akibatnya, perekonomian negara menjadi tidak stabil yang makin memperparah keadaan.

Kurang lebih 80% penduduk dunia saat ini tinggal di negara berkembang. Negara yang termasuk kategori berkembang melebihi tiga perempat jumlah negara di seluruh dunia. Negara berkembang umumnya memiliki tingkat pertumbuhan penduduk yang tinggi. Rata-rata angka pertumbuhan penduduk di negara berkembang mencapai angka 1,6%. Sementara, rata-rata angka pertumbuhan penduduk negara maju hanya 0,1%. Selain itu, negara berkembang umumnya memiliki tingkat kematian dan kelahiran bayi yang tinggi, serta tingkat harapan hidup yang lebih rendah. Hal ini menunjukkan bahwa tingkat kesehatan dan nilai gizi yang dikonsumsi penduduk di negara berkembang masih sangat rendah.

Penduduk negara berkembang umumnya tinggal di pedesaan. Sebagian besar penduduknya bekerja di sektor



**Gambar 1.4** Umumnya negara berkembang mengandalkan sektor pertanian.

**Sumber:** *Dokumen Penerbit*



pertanian. Tingkat pendapatan per kapitanya rata-rata sangat rendah. Pendapatan per kapita rata-rata negara berkembang yang tersebar di berbagai kawasan berada di bawah kisaran 5.000 dollar Amerika. Bahkan masih banyak negara berkembang yang pendapatan per kapitanya berada pada kisaran angka ratusan dollar Amerika saja.

Berdasarkan uraian tersebut di atas dapat disimpulkan bahwa negara-negara berkembang ditandai dengan ciri-ciri sebagai berikut.

- a. Produksi barang-barang primer seperti pertanian masih dominan.
- b. Jumlah dan pertumbuhan penduduknya tinggi.
- c. Jumlah lapangan kerja dengan tenaga kerja yang ada tidak seimbang.
- d. Tingkat produktivitasnya masih rendah.
- e. Tingkat kesejahteraan penduduknya rendah.
- f. Angka beban tanggungannya masih tinggi.
- g. Kualitas atau tingkat keahlian dan keterampilan tenaga kerjanya masih rendah.
- h. Pendapatan nasional dan pendapatan per kapita penduduknya masih rendah.
- i. Ketergantungan terhadap negara lain tinggi dan mudah terpengaruh.
- j. Daya beli masyarakatnya masih rendah.
- k. Tingkat kemiskinan penduduknya masih tinggi.
- l. Tingkat pengangguran yang tinggi berdampak pada tingginya angka kriminalitas.

## C. Ciri-Ciri Negara Maju

Negara-negara di Benua Eropa umumnya merupakan negara maju. Selain itu, negara maju juga tersebar di kawasan Amerika Utara, Australia, dan Selandia Baru. Negara di Benua Asia yang dapat dikategorikan sebagai negara maju adalah Jepang, Korea, dan Singapura. Umumnya, negara maju memiliki ciri-ciri umum sebagai berikut.

### 1. Penguasaan Ilmu Pengetahuan dan Teknologi Relatif Tinggi

Karena penduduknya memiliki penguasaan ilmu pengetahuan dan teknologi yang tinggi, negara-negara maju mampu mengolah sumber daya alam secara optimal. Penguasaan ilmu pengetahuan dan teknologi yang tinggi tersebut ditopang oleh tingginya tingkat pendidikan penduduk di negara maju.

Selain pengaruh pada pengolahan dan pengelolaan sumber daya alam, penguasaan ilmu pengetahuan dan teknologi yang tinggi juga berdampak pada kemampuan masyarakat di negara maju dalam memasarkan produk-produk industri maupun pertanian negara mereka di pasar internasional. Hal ini memungkinkan pendapatan negara maju terus bertambah.

## Tugas Mandiri

Menurutmu, mengapa Indonesia, India, dan Myanmar digolongkan sebagai negara berkembang? Ciri-ciri apa sajakah yang sesuai?



**Gambar 1.5** Produk-produk negara maju didukung penguasaan teknologi tinggi.

**Sumber:** Photo Image



## **2. Perekonomian Bertumpu pada Sektor Industri dan Jasa**

Kegiatan perekonomian utama tidak hanya mengandalkan sektor primer seperti pertanian, namun juga sektor industri dan jasa yang menjadi sektor andalan pemacu pertumbuhan ekonomi. Sektor industri memiliki kelebihan dalam menyedot jumlah tenaga kerja, sehingga masalah pengangguran dapat diatasi. Sementara, sektor jasa melatih masyarakat untuk terbiasa melakukan pekerjaan wiraswasta yang tidak mengandalkan sektor pertanian saja.

Variasi dalam sektor ekonomi andalan menjadikan pendapatan negara maju memiliki banyak alternatif yang tidak tertumpu pada satu sektor saja. Sehingga, ketika salah satu sektor mengalami kemunduran, maka sektor lainnya akan dapat diandalkan untuk menopang perekonomian. Sebagai contoh, bila sektor industri di negara maju mengalami kemunduran, maka sektor jasa dan pertanian masih kuat untuk menopang perekonomian, begitu pula bila sebaliknya.

## **3. Angka Pengangguran Relatif Rendah**

Industri yang berkembang pesat membuka banyak lapangan kerja sehingga angka pengangguran dapat ditekan serendah mungkin. Selain itu, pengetahuan yang tinggi karena tingkat pendidikan yang tinggi menjadikan masyarakat kreatif dan dapat menciptakan lapangan kerja sendiri melalui usaha-usaha wiraswasta yang tepat dan efektif.

Rendahnya angka pengangguran berpengaruh pada angka kejahatan di negara maju yang umumnya rendah sehingga usia harapan hidup meningkat dan mempertinggi kualitas kehidupan manusia yang tinggal di negara maju.

## **4. Pendapatan Per Kapita Berada pada Kisaran yang Tinggi**

Variasi produk impor dan banyaknya lapangan pekerjaan menjadikan negara maju memiliki pendapatan per kapita yang tinggi, sehingga penduduknya memiliki tingkat kesejahteraan yang baik. Pendapatan per kapita juga ditopang oleh surplus atau kelebihan ekspor dari impor sehingga negara memiliki banyak uang yang dapat digunakan untuk menyejahterakan rakyatnya.

## **5. Memiliki Banyak Modal untuk Pelaksanaan Pembangunan**

Besarnya volume ekspor menjadikan banyaknya pemasukan bagi negara maju. Karena itu, negara-negara maju memiliki banyak modal untuk melaksanakan pembangunan serta meningkatkan kesejahteraan dan taraf hidup masyarakatnya.

Banyaknya modal yang dimiliki oleh negara maju juga memungkinkan negara maju untuk makin memperlebar usaha dan proyek-proyek pengadaan fasilitas-fasilitas penunjang kesejahteraan bagi rakyatnya.



Hanya sedikit penduduk dunia yang tinggal di negara maju. Negara maju hanya meliputi 20% dari seluruh wilayah daratan di bumi. Negara maju umumnya memiliki tingkat pertumbuhan penduduk yang rendah. Selain itu, negara maju umumnya memiliki tingkat kematian dan kelahiran bayi yang rendah, serta tingkat harapan hidup yang lebih tinggi. Hal ini menunjukkan bahwa tingkat kesehatan dan nilai gizi yang dikonsumsi penduduk di negara maju telah tinggi.

Penduduk negara maju umumnya tinggal di kawasan *urban* (kota). Sebagian besar penduduknya bekerja di sektor industri dan jasa. Tingkat pendapatan per kapitanya rata-rata tinggi. Pendapatan per kapita rata-rata negara maju berada di atas kisaran 20.000 dollar Amerika. Bahkan Amerika Serikat memiliki pendapatan per kapita hingga 44.260 dollar AS pada tahun 2005.

Ciri-ciri negara maju antara lain sebagai berikut.

1. Angka pertumbuhan penduduknya relatif kecil.
2. Perbandingan lapangan kerja dengan pencari kerja seimbang.
3. Produktivitas tenaga kerjanya sudah tinggi.
4. Sebagian besar penduduk bekerja di sektor industri dan jasa.
5. Tingkat kesehatan dan angka harapan hidupnya tinggi.
6. Tingkat pendidikan dan penguasaan teknologinya rata-rata sudah tinggi.
7. Pendapatan nasional dan pendapatan rata-rata penduduknya tinggi.
8. Daya beli masyarakat sudah tinggi.
9. Kualitas tenaga kerjanya rata-rata tinggi.
10. Angka pengangguran dan kriminalitasnya dapat ditekan.
11. Angka beban tanggungannya atau *dependency ratio*-nya rendah.



**Gambar 1.6** Penduduk negara maju umumnya tinggal di kota besar.

**Sumber:** Microsoft Student 2006

### Tugas Mandiri

Jelaskan hubungan antara tingkat pendidikan dan penguasaan teknologi pada negara maju!

## D. Persebaran Negara Maju dan Negara Berkembang

Seperti telah dijelaskan sebelumnya, konsentrasi negara-negara maju adalah di Benua Eropa, Amerika Utara, Australia, Selandia Baru dan sebagian di Asia Timur. Di kawasan Asia Barat, ada banyak negara pengekspor minyak yang dikelompokkan secara khusus. Persebaran negara-negara berkembang pada umumnya berada di kawasan Asia Selatan, Asia Tengah, Asia Tenggara, Afrika, Amerika Selatan, dan beberapa kepulauan di Pasifik.

Persebaran negara maju dan berkembang pada peta juga dapat dibaca melalui persebaran lahan-lahan tertentu pada peta. Misalnya, karena sektor perekonomian negara berkembang bertumpu pada lahan pertanian, maka persebaran lahan pertanian yang luas dan padat pada peta dapat digunakan untuk mengetahui letak negara-negara berkembang.



## Tugas Mandiri

Sebutkan contoh negara-negara berkembang dan negara-negara maju yang kamu ketahui beserta persebarannya. Masing-masing minimal 10 negara!

Contoh lainnya ialah peta persebaran kawasan industri di dunia juga dapat digunakan untuk menentukan letak dan pemetaan negara-negara maju, mengingat negara maju umumnya merupakan negara yang perekonomiannya bertumpu pada sektor industri.

Beberapa kenampakan alam maupun buatan lainnya pada peta juga dapat digunakan untuk menentukan kekayaan dan potensi yang dapat diolah oleh suatu negara. Karena itu, peta tematik dapat digunakan untuk menentukan persebaran posisi negara-negara berkembang dan negara-negara maju.

## E. Contoh Negara-Negara Maju

Kamu akan mempelajari beberapa contoh negara maju yang telah berhasil membangun negaranya dan meningkatkan kesejahteraan rakyatnya. Dengan pengetahuan ini diharapkan kamu mampu mengambil hikmah dan pelajaran yang dapat diterapkan di negara kita tercinta agar dapat mengejar ketertinggalan dan mampu sejajar dengan negara-negara lain di dunia.

Beberapa negara maju melakukan kerja sama dengan membentuk forum G-8 yang terdiri atas Jepang, Rusia, Inggris, Kanada, Prancis, Jerman, Italia, dan Amerika Serikat. Beberapa contoh negara maju yang akan kita bahas lebih jauh adalah Jepang, Amerika Serikat, Prancis, dan Inggris.

### 1. Jepang

Jepang adalah sebuah negara kepulauan yang terletak di barat laut Samudra Pasifik. Negara ini dikenal dengan julukan “Negeri Matahari Terbit”, karena orang Jepang dahulu adalah penyembah matahari. Bahkan sampai sekarang pun mereka masih percaya kaisar Jepang adalah keturunan Dewa Matahari. Selain itu Jepang juga dikenal sebagai *Negeri Sakura*, karena banyaknya tempat-tempat umum yang ditumbuhi bunga sakura yang menjadi ciri khas negara Jepang.

#### a. Keadaan Alam

Sebagai negara kepulauan, Jepang memiliki empat pulau utama yaitu Pulau Hokkaido, Honshu, Kyushu, dan Shikoku. Selain itu Jepang juga memiliki satu gugusan kepulauan yaitu Kepulauan Ryuku dan sejumlah pulau kecil lainnya yang sebagian tidak berpenghuni.

Secara astronomis, Jepang terletak di antara 30°LU–46°LU dan 128°BT–149°BT. Adapun batas-batas geografisnya adalah di sebelah barat berbatasan dengan Laut Jepang dan Selat Korea. Di sebelah timur berbatasan dengan Samudra Pasifik, di utara berbatasan dengan Laut Okhotsk, dan di sebelah



selatan berbatasan dengan Laut Cina Timur dan Samudra Pasifik. Ibu kota negara ini adalah Kota Tokyo yang terletak di Pulau Honshu.



**Gambar 1.7** Peta Jepang

**Sumber:** Atlas Dunia Buana Raya

Kedadaan alam Jepang relatif kasar yang ditandai dengan banyaknya gunung api, yaitu ada 192 gunung api yang masih aktif. Negara Jepang termasuk dalam rangkaian pegunungan muda Sirkum Pasifik. Hal inilah yang menyebabkan sering terjadinya gempa bumi, baik tektonik ataupun vulkanik. Puncak gunung tertingginya adalah Gunung Fujiyama (3.776 m).

Selain banyaknya pegunungan dan dataran tinggi, di Jepang juga banyak dijumpai dataran-dataran rendah yang subur hasil pengendapan abu vulkanik yang dikeluarkan oleh gunung api. Dataran rendah yang ada dijadikan sebagai pusat-pusat industri Jepang. Dataran itu antara lain Dataran Rendah Kwanto di Teluk Tokyo, Dataran Rendah Nobi di Teluk Ise, Dataran Rendah Kinki di Teluk Osaka, dan Dataran Rendah Isihari di Pulau Hokaido. Sungai-sungai di Jepang pendek-pendek dengan aliran yang deras sehingga sangat cocok digunakan untuk PLTA, maka listrik di Jepang murah dan sangat mendukung untuk kegiatan industri.

Perairan laut di sebelah timur Jepang kaya akan ikan karena merupakan tempat pertemuan antara arus panas Kurosyiwo dengan arus dingin Oyashiwo yang sangat mendukung dalam industri perikanan.

### Jepang

Nama internasional	: Japan
Luas wilayah	: 377.837 km <sup>2</sup>
Ibu kota	: Tokyo
Bentuk pemerintahan	: Kerajaan Konstitusional
Kepala negara	: Kaisar
Kepala	: Perdana
Pemerintahan	: Menteri
Jumlah penduduk	: 127.467.970
Bahasa	: Jepang
Agama mayoritas	: Shinto
Mata uang	: Yen



#### b. Keadaan Penduduk

Penduduk Jepang dikenal dengan sebutan bangsa *Ainu* yang secara fisik lebih mirip orang Eropa dibandingkan Asia. Namun sekarang bangsa *Ainu* asli sudah jarang dijumpai karena bercampur dengan pendatang dari Cina, Korea, dan Asia Tenggara sejak zaman prasejarah. Penduduk asli Jepang banyak tinggal di Pulau Hokaido.

Orang Jepang sangat menghormati tradisi leluhur, meskipun mereka juga sangat terbuka terhadap budaya dari luar. Terbukti sampai saat ini mereka masih menjalani tradisi minum teh, mandi air hangat, menundukkan kepala sebagai perwujudan rasa hormat dan persahabatan, memakai kimono, dan menyelenggarakan sumo.

Tradisi dan budaya Jepang yang sampai saat ini masih kita jumpai antara lain:

- 1) seni mengkerdikan tanaman yang disebut *bonsai*,
- 2) seni merangkai bunga yang disebut *ikebana*,
- 3) olahraga tradisional yang disebut *sumo*,
- 4) tradisi minum teh yang disebut *canoya*.

#### c. Kegiatan Ekonomi

Sektor-sektor yang mendukung perekonomian negara Jepang antara lain sebagai berikut.

##### 1) Pertanian

Luas tanah di Jepang terbatas sehingga kegiatan pertaniannya dilakukan secara intensif dan mekanis. Hasil pertaniannya antara lain padi, gandum, teh, sutra, buah-buahan, sayuran, dan tembakau. Dengan kemajuan teknologi yang ada dan keterbatasan lahan dikembangkanlah teknik bercocok tanam dengan media hidup tanpa menggunakan tanah yang disebut *hidroponik*. Media hidupnya seperti busa, arang, atau serabut kelapa.

##### 2) Perikanan

Penduduk Jepang termasuk yang paling gemar mengonsumsi ikan. Industri perikanannya sangat maju karena didukung oleh kondisi alam yang ada.

Faktor-faktor pendukungnya antara lain mempunyai perairan laut yang kaya ikan, merupakan tempat bertemunya arus panas kurosyiwo dan arus dingin oyasyiwo, menggunakan teknologi modern untuk penangkapan ikan, serta memiliki banyak pelabuhan alam untuk dermaga perikanan (teluk). Hasil ikannya sarden, salmon, tuna, paus, haring.

##### 3) Perindustrian

Mata pencaharian penduduk Jepang sebelum masuk era industrialisasi adalah petani dan nelayan. Sejarah



**Gambar 1.8** Terbatasnya lahan membuat orang Jepang kreatif, salah satunya bercocok tanam Hidroponik

**Sumber:** Microsoft Student 2006



industrialisasi Jepang dimulai sejak tahun 1880-an dengan didirikannya pabrik tekstil dan benang. Namun perkembangan industri sangat pesat terjadi sejak tahun 1920, dengan makin berkembangnya perusahaan raksasa seperti Mitsubishi, Mitsui, dan Sumitomo. Jepang memiliki kota-kota penting pusat perekonomian dan pemerintahan yaitu Tokyo, Ginza, Osaka, Kyoto, Nagoya, dan Yatawa. Hingga saat ini, perekonomian Jepang bertumpu pada perdagangan dan industri yang menghasilkan motor, mobil, kapal laut, alat-alat elektronika, dan kereta api tercepat di dunia.


Daerah-daerah yang dijadikan sebagai pusat-pusat industri Jepang dikelompokkan menjadi empat kawasan, yaitu sebagai berikut.

- a) Kawasan industri *Keihin* (di Dataran Rendah Kwanto)  
Kota industrinya meliputi Tokyo, Yokohama, dan Kawasaki. Hasil industrinya antara lain industri baja, elektronika, kertas, galangan kapal, peralatan listrik.
- b) Kawasan industri *Hanshin* (di Dataran Rendah Kinki)  
Kota industrinya meliputi Osaka sebagai tempat industri tekstil terbesar di Jepang, Kyoto sebagai pusat industri kerajinan, dan Kobe sebagai pusat industri mobil, besi baja, galangan kapal.
- c) Kawasan industri *Chukyo* (di Dataran Rendah Nobi)  
Kota industrinya Nagoya terdapat industri pesawat terbang, elektronika, lokomotif. Hamamatsu merupakan pusat industri peralatan musik.
- d) Kawasan industri *Kitakyushu* (di Pulau Khushyu)  
Kota industrinya meliputi Yutawa sebagai pusat industri baja terbesar di Jepang. Nagasaki pusat industri galangan kapal.

Jepang saat ini telah menjadi negara industri maju dan terkemuka di Asia, bahkan menjadi negara industri kedua di dunia setelah Amerika Serikat. Kemajuan perindustrian Jepang didukung faktor-faktor sebagai berikut.

- a) Masyarakat Jepang memiliki tingkat disiplin yang tinggi dan suka bekerja keras.
- b) Memiliki susunan organisasi yang rapi dan teliti.
- c) Adanya perlindungan terhadap industri dari pemerintah.
- d) Memiliki modal dan tenaga kerja terampil yang memadai.
- e) Memiliki sistem kerja yang teratur dan menggunakan sistem siang malam.

Faktor-faktor tersebut didukung oleh semangat kerja tinggi dan rasa percaya diri yang mampu mengimbangi bangsa Barat telah menjadikan Jepang sebagai negara terkemuka di dunia.



**Gambar 1.9** Teknologi industri di Jepang sangat maju.

**Sumber:** Microsoft Student 2006



## Prancis

Nama internasional	: Republic of French
Luas wilayah	: 543.965 km <sup>2</sup>
Ibu kota	: Paris
Bentuk pemerintahan	: Republik
Kepala Pemerintahan	: Perdana Menteri
Lagu kebangsaan	: A l l o n s Enfants de la Patrie
Jumlah penduduk	: 61.083.916
Bahasa	: Prancis
Agama mayoritas	: Katolik
Mata Uang	: France



**Gambar 1.10** Pegunungan Alpen menjadi batas antara Prancis dan Italia.

**Sumber:** [www.masterfile.com](http://www.masterfile.com)

## 2. Prancis

Prancis merupakan negara terluas di Benua Eropa. Dengan luas 543.965 km<sup>2</sup>, negara ini memiliki perekonomian yang kuat dengan didukung oleh industri dan pertanian yang maju.

### a. Keadaan Alam

Letak astronomis Prancis adalah 42°LU–51°LU dan 5°BB–9°BT. Adapun batas negara ini adalah di sebelah barat berbatasan dengan negara Jerman, Swiss, dan Italia. Di sebelah utara berbatasan dengan Selat Inggris dan Belgia. Adapun di selatan berbatasan dengan Laut Mediterania dan negara Spanyol.

Sebagai negara terluas di Benua Eropa, tentu saja keadaan fisik Prancis sangat bervariasi.

Keadaan alam Prancis secara garis besar dikelompokkan menjadi tiga bagian sebagai berikut.

#### 1) Dataran rendah

Dataran rendahnya yang luas terletak di bagian barat dan dialiri oleh sungai-sungai besar sehingga sangat cocok untuk pertanian. Sungai utamanya antara lain Sungai Rhein merupakan sungai terpenting di Eropa yang bermuara ke Laut Utara, Sungai Loire, Sungai Seine, Sungai Garonne bermuara ke Samudra Atlantik, dan Sungai Rhone bermuara ke Laut Tengah.

#### 2) Dataran tinggi tengah

Dataran tingginya banyak dijumpai di bagian tengah, ke arah timur terdapat rangkaian pegunungan yang dijadikan batas dengan negara-negara tetangga di bagian timur, yaitu Pegunungan Vosges menjadi batas dengan Jerman, Pegunungan Yura menjadi batas dengan Swiss, dan Pegunungan Alpen menjadi batas dengan Italia. Pada Pegunungan Alpen terdapat puncak tertinggi Prancis yaitu Gunung Blanc (4.808 m).

#### 3) Pegunungan bagian selatan

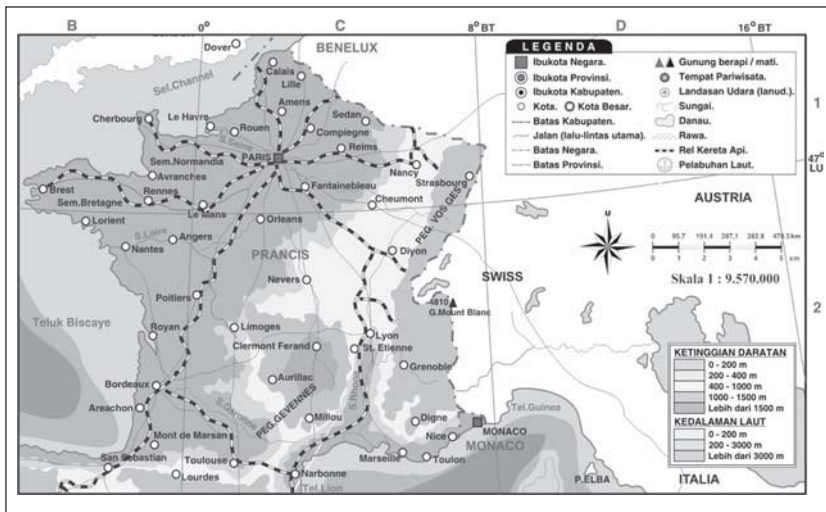
Di bagian selatan terdapat pegunungan yang menjadi batas alam antara Prancis dengan Spanyol yaitu Pegunungan Pyrenes.

Keadaan iklim Prancis terdiri atas tiga bagian yaitu iklim laut yang terletak di bagian utara dan barat dipengaruhi oleh angin barat dari Samudra Atlantik. Iklim kontinental atau daratan terdapat di bagian tengah dan timur Prancis. Iklim yang ketiga adalah iklim mediteran terletak di sepanjang Laut Tengah.

### b. Keadaan Penduduk

Prancis terkenal dengan sejarah revolusinya yang terkenal dengan Revolusi Prancis. Pemerintahan negara ini berbentuk republik dengan kepala negara presiden dan kepala pemerintahan perdana menteri. Ibu kota dan pusat kegiatan pemerintahannya adalah Kota Paris.





**Gambar 1.11** Peta Prancis

**Sumber:** Atlas Dunia Buana Raya

Penduduk Prancis adalah orang Prancis dan beberapa etnis lain yang merupakan imigran dari Portugis, Maroko, Italia, dan Tunisia. Bahasa persatuannya adalah bahasa Prancis. Penduduk Prancis sebagian besar penganut agama Katolik Roma, sisanya menganut agama Islam, Protestan, dan Yahudi.

#### c. Kegiatan Ekonomi

Prancis merupakan salah satu kekuatan ekonomi dunia. Perekonomiannya didukung oleh sektor-sektor sebagai berikut.

##### 1) Pertanian

Sektor pertaniannya dikelola secara intensif dan didukung peralatan dan mesin-mesin yang modern. Kondisi iklimnya mendukung untuk usaha pertanian. Prancis merupakan produsen anggur yang terbesar di dunia, daerahnya terdapat di Champagne dan Lembah Sungai Loire. Hasil tanaman lainnya yaitu gandum, bit gula, padi, dan buah-buahan.

##### 2) Peternakan

Binatang ternak yang dipelihara oleh penduduk Prancis antara lain lembu, biri-biri, dan babi. Daerah peternakannya terdapat di Convensus. Hasil peternakannya meliputi mentega, susu (ketiga di dunia), keju, dan daging (keempat dunia).

##### 3) Pertambangan

Hasil tambang utamanya adalah bijih besi di Lorraine dan batubara di Saar. Hasil tambang lainnya bauksit, timah, minyak bumi, gas alam, dan garam.

##### 4) Perindustrian

Industri Prancis cukup maju karena didukung oleh hasil tambang dan teknologinya yang sudah maju. Hasil-hasil



**Gambar 1.12** Anggur adalah komoditas pertanian utama Prancis.

**Sumber:** Microsoft Student 2006



industri antara lain pesawat terbang di Paris dan Toulouse, kapal di Marseille, besi baja, mobil, tekstil, dan elektronika di kota-kota besar Prancis.

### 3. Amerika Serikat

Amerika Serikat merupakan republik federal dengan ibu kota Washington DC. Negara ini terdiri atas 50 negara bagian. Dua negara bagian letaknya terpisah dari negara bagian lainnya yaitu Alaska yang terletak di sebelah barat daya Kanada dan Hawaii, terletak di Samudra Pasifik. Amerika Serikat memproklamasikan kemerdekaan dari kerajaan Inggris pada tanggal 4 Juli 1776 di Philadelphia.

Pada awal kemerdekaannya, Amerika hanya terdiri atas tiga belas negara bagian, pada tahun 1959 Alaska dan Hawaii menjadi negara bagian yang terakhir.

Dalam perkembangan saat ini, Amerika Serikat menjadi negara yang secara ekonomi dan politik sangat berpengaruh di dunia.

#### a. Letak dan Batas Wilayah

Amerika Serikat terletak di Benua Amerika bagian utara. Secara astronomi terletak antara 24°33'LU–70°23'LU dan 172°27'BT–66°51'BB. Batas-batas wilayahnya antara lain negara Kanada di sebelah utara, Samudra Atlantik di sebelah timur, Teluk Meksiko dan negara Meksiko di sebelah selatan, dan Samudra Pasifik di sebelah barat.

#### b. Keadaan alam

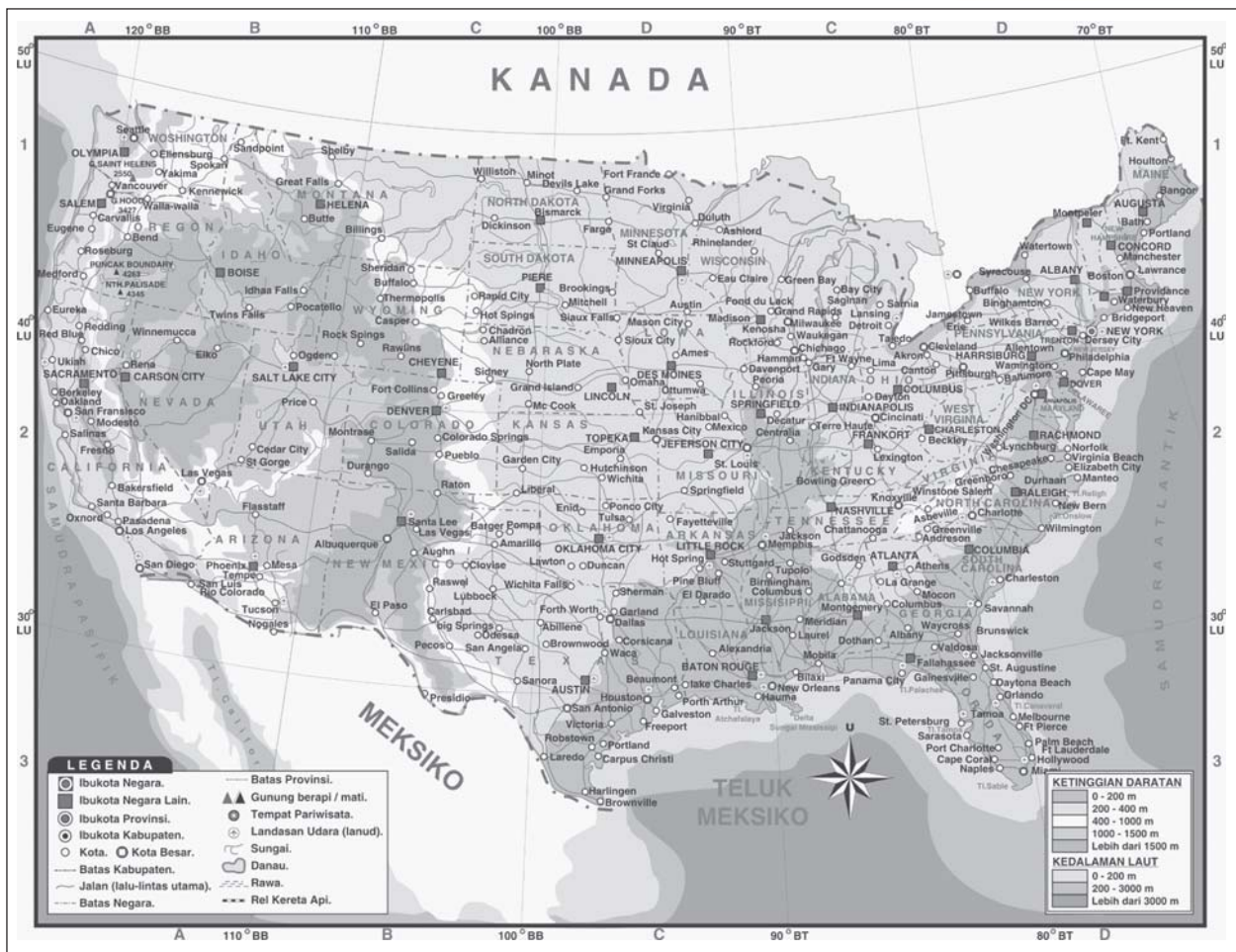
Keadaan alam Amerika Serikat dari barat ke timur terbagi menjadi tiga bagian sebagai berikut.

- 1) Bagian barat terdapat dataran pantai sempit Samudra Pasifik yang berinding curam dan di bagian timur yang terdapat kompleks Pegunungan Rocky yang terdiri atas Pegunungan Sierra Nevada, Pegunungan Cascade, Dataran Tinggi Colombia, dan Dataran Tinggi Great Basin.
- 2) Bagian tengah, berada di bagian timur Pegunungan Rocky di bagian barat dan Pegunungan Appalachia di bagian timur. Di bagian ini terdapat dataran tinggi yang terkenal yaitu Dataran Tinggi Central Plain dan Dataran Tinggi Great Plain. Sungai-sungai besar yang mengalir di Amerika Serikat berasal dari wilayah ini dan membentuk lembah-lembah sungai yang subur. Sungai-sungainya antara lain Sungai Mississippi, Sungai Missouri, Sungai Colorado, Sungai Arkansas, Sungai Minnesota. Pada bagian Sungai Colorado terbentuk ngarai yang terluas di dunia yaitu Grand Canyon.

#### Amerika Serikat

Nama Internasional	: United States of Amerika (USA)
Luas wilayah	: ± 9.826.630 km <sup>2</sup>
Bentuk pemerintahan	: Republik federal
Kepala pemerintahan	: Presiden
Lagu kebangsaan	: The Star Spangled Banner
Jumlah penduduk	: 301.139.950
Bahasa	: Inggris
Agama mayoritas	: Kristen dan Katholik
Mata uang	: Dollar





**Gambar 1.13** Peta Amerika Serikat tanpa Alaska dan Hawaii.

**Sumber:** Atas Dunia Buana Raya

- 3) Bagian timur terdapat Pegunungan Alleghany dan Pegunungan Appalachia. Dua pegunungan ini terletak di ujung timur dekat pantai Samudra Atlantik. Pada bagian utara Pegunungan Appalachia terdapat danau-danau besar yang berbatasan dengan Kanada yaitu Danau Michigan, Danau Huron, Danau Superior, Danau Eyre, dan Danau Ontario.

Kedadaan iklim Amerika Serikat antara lain iklim subtropis terdapat di bagian selatan sekitar Teluk Meksiko, sebagian besar wilayah Amerika Serikat beriklim kontinental.

Iklim laut terdapat di pesisir pantai bagian barat yang berhadapan dengan Samudra Pasifik mulai dari Alaska sampai California. Adapun iklim gurun terdapat di sekitar Pegunungan Cascade dan sebelah timur kompleks Pegunungan Rocky.

#### c. Keadaan Penduduk

Amerika Serikat merupakan negara yang multi-etnis, yaitu negara yang penduduknya berasal dari berbagai ras utama di dunia. Penduduknya aslinya adalah suku bangsa Eskimo





**Gambar 1.14** Rangkaian pegunungan di Alaska, Amerika.

**Sumber:** Photo Image

yang banyak bertempat tinggal di negara bagian Alaska dan suku bangsa Indian yang berdiam di daratan utara. Selain penduduk asli terdapat penduduk pendatang yang berasal dari Asia, Eropa, dan Afrika. Mereka saling berinteraksi satu dengan lainnya sehingga menimbulkan suku bangsa campuran di Amerika Serikat.

Suku bangsa campurannya antara lain suku bangsa Mestis, Mulat, Zambo, dan suku bangsa Kreol.

#### d. Kegiatan Ekonomi

Perekonomian Amerika Serikat termasuk yang paling maju di dunia. Adapun sektor-sektor yang mendukung kemajuan bidang ekonomi antara lain sebagai berikut.

##### 1) Pertanian

Sektor pertanian Amerika Serikat dilakukan dan diusahakan dengan sangat baik, faktor-faktor yang memengaruhi kemajuannya antara lain:

- diselenggarakan dengan cara intensif dan ekstensif,
- mempunyai dataran rendah yang luas dan subur,
- diselenggarakan dengan peralatan-peralatan modern (mekanisasi),
- mempunyai iklim yang cocok untuk usaha pertanian,
- menerapkan sistem pertanian *monokultur* yaitu hanya menanam satu jenis tanaman saja di lahan pertanian yang luas.

Hasil-hasil pertaniannya antara lain sebagai berikut.

- Gandum, daerahnya disebut *Wheat Belt* terdapat di daerah utara dan tengah Dataran Rendah Mississipi. Gudang gandumnya disebut *Elevator*.
- Kapas terdapat di Texas, Arizona, Oklahoma, dan Alabama. Daerah pertaniannya disebut *Cotton Belt*.
- Jagung terdapat di Ohio, Minnesota, Missouri. Daerah pertanian disebut *Corn Belt*. Tanaman jagung di Amerika Serikat banyak dimanfaatkan untuk makan ternak. Hal ini yang menyebabkan peternakan berkembang pesat. Pusat pemotongan hewan ternak di Amerika Serikat terdapat di Chicago.
- Tembakau terdapat di Virginia, Kentucky, Carolina, dan Ohio. Daerah pertaniannya disebut *Tobacco Belt*.
- Hasil pertanian lainnya berupa buah-buahan, sayuran, tebu, dan padi.

##### 2) Pertambangan

Amerika Serikat termasuk negara yang mempunyai kekayaan hasil tambang yang cukup besar di dunia. Hasil tambangnya antara lain:

- batu bara, terdapat di pegunungan Alleghany, Virginia dan Pennsylvania;



- b) minyak bumi, terdapat di California, Texas, Oklahoma, Ohio;
- c) bijih besi terdapat di sekitar Danau Superior, Pegunungan Alleghany;
- d) tembaga terdapat di Arizona, Utah, Montana;
- e) emas terdapat di Collorado, California;
- f) bauksit terdapat di Arkansas;
- g) belerang terdapat di Texas, Lousiana.

e. Perindustrian

Amerika Serikat merupakan negara industri terbesar di dunia. Majunya bidang perindustrian ini didukung oleh beberapa faktor berikut.

- 1) Kekayaan hasil tambang berupa batu bara dan bijih besi yang melimpah.
- 2) Perindustrian menggunakan teknologi modern.
- 3) Mempunyai modal yang besar.
- 4) Mempunyai tenaga ahli.
- 5) Kegiatan industrinya dilakukan secara profesional.

Adapun sifat-sifat perindustrian Amerika Serikat antara lain sebagai berikut.

- 1) Produksinya dilakukan secara besar-besaran.
- 2) Adanya pembagian kerja yang sangat teliti.
- 3) Pembentukan *trust* dan *kartel* yaitu usaha untuk menghindari persaingan dengan menggabungkan perusahaan sejenis.
- 4) Standardisasi produk sesuai dengan ukuran tertentu sehingga dapat menghasilkan barang dalam waktu singkat dengan jumlah besar.

Macam-macam industri yang dihasilkan antara lain:

- 1) industri pesawat terbang di Seatle, Washington;
- 2) industri mobil dan lokomotif di Detroit;
- 3) industri besi baja di Pittsbury, Birmingham, Buffalo;
- 4) industri tekstil di Carolina, Georgia, Boston;
- 5) industri tembaga di Montana;
- 6) industri perfilman di Hollywood;
- 7) industri pengilangan minyak di Texas, Oklahoma.

#### 4. Inggris

Inggris adalah salah satu negara industri yang berpengaruh di dunia.

a. Letak dan Batas

Inggris merupakan negara kepulauan yang terletak di Dangkalan Eropa dan merupakan kepulauan kontinental. Secara geografis terletak di antara dua benua yaitu Benua Eropa di bagian timur dan Benua Amerika di bagian barat serta antara Samudra Atlantik dengan Laut Utara sehingga posisi Inggris sangat strategis baik secara ekonomi dan politik.



**Gambar 1.15** Industri mobil di Detroit Amerika Serikat.

**Sumber:** Microsoft Student 2006



## Inggris

Nama internasional :	The United Kingdom of Great Britain Notherm Ireland
Luas wilayah :	± 244.110 km <sup>2</sup>
Ibukota :	London
Bentuk pemerintahan :	Kerajaan Kostitusional
Kepala pemerintah :	P e r d a n a Menteri
Kepala negara :	Ratu
Lagu kebangsaan :	God Save the Queen
Jumlah penduduk :	60.776.238
Bahasa :	Inggris
Agama mayoritas :	Kristen dan Katholik
Mata uang :	Poundsterling

Secara astronomis wilayah negara Inggris terletak 49°LU-61°LU dan 2°BT-10°BB. Inggris dilewati garis bujur nol derajat yang melewati Kota Greenwich dan dijadikan sebagai pedoman waktu internasional, sekaligus sebagai garis batas yang memisahkan wilayah bujur barat dan wilayah bujur timur.

Batas-batas wilayah negaranya antara lain:

sebelah utara : Samudra Atlantik dan Laut Norwegia  
sebelah timur : Laut Utara  
sebelah selatan : Selat Channel (Selat Inggris)  
sebelah barat : Samudra Atlantik.

### b. Keadaan Alam

Negara Inggris terletak pada dua pulau besar yaitu Irlandia dan Britania. Selain itu juga ada pulau-pulau kecil di sekitarnya. Wilayahnya terdiri atas empat negara bagian yaitu England, Wales, Skotlandia, dan Irlandia Utara.

Keadaan alam Inggris secara garis besar dibedakan menjadi dua bagian sebagai berikut.

#### 1) Bagian timur dan selatan

Di wilayah ini merupakan dataran rendah dengan Kota London sebagai pusatnya. Di tengah Kota London mengalir Sungai Thames yang merupakan sungai terbesar di Inggris di sepanjang daerah pantai bagian timur banyak dijumpai teluk antara lain Teluk Liverpool, Teluk Humber, Teluk Serevu.

#### 2) Bagian barat dan utara

Daerah ini berupa daratan tinggi bergelombang dan sebagian besar pegunungan. Pegunungannya meliputi Skotlandia dan Wales, puncak tertinggi adalah Gunung Ben Neevis (1.343 m). Pegunungan lainnya adalah Pegunungan Pennine dan Pegunungan Cornwall.

Iklm yang berlaku di Inggris adalah iklim laut sedang yang dipengaruhi oleh angin barat dan arus laut *Gulfstream* yang bersifat panas. Angin barat yang berasal dari Samudra Atlantik menyebabkan Inggris mempunyai curah hujan yang tinggi rata-rata 1000 mm per tahun. Adapun arus teluk (*gulfstream*) yang bersifat panas sangat menguntungkan Inggris karena di musim dingin udaranya tidak terlalu dingin dan di musim panas bersifat hangat. Adanya pengaruh arus panas inilah pelabuhan-pelabuhan di Inggris tidak mengalami pembekuan sehingga sangat membantu dalam pelayaran.


### c. Keadaan Penduduk

Berdasarkan ciri fisiknya mayoritas penduduk Inggris termasuk suku bangsa Nordik. Secara umum penduduk Inggris dikelompokkan menjadi dua yaitu suku bangsa Kelt, yang meliputi orang Irladia, Wales, Skotlandia dan









**Gambar 1.17** Pertambangan batu bara di Inggris.

**Sumber:** Microsoft Student 2006

Pusat perikanannya terdapat di perairan sekitar Grimsbi, Aberdeen, dan Wick. Inggris merupakan salah satu negara di Eropa yang industri perikanannya sangat maju.

Inggris merupakan penghasil terbesar ketiga batu bara di dunia setelah Amerika Serikat dan Rusia. Daerah pertambangannya terdapat di Wales, Skotlandia, Pegunungan Peak dan Peannine. Tambang bijih besi terdapat di daerah Cornwall, Cleveland. Tembaga dan timah di Coundall, minyak bumi di sekitar Laut Utara.

#### f. Perindustrian

Setelah revolusi industri yang berlangsung di Eropa dengan ditemukannya mesin-mesin uap, perkembangan industri Inggris termasuk cepat. Saat ini Inggris merupakan negara industri yang paling maju di Eropa setelah Jerman. Pusat industri Inggris terdapat di Kota Birmingham dan Sheffield sehingga mendapat julukan *The Black Country* atau kawasan hitam akibat tingginya tingkat polusi yang diakibatkan banyaknya pabrik-pabrik yang mengeluarkan asap.

Hujan asam sering terjadi di kawasan ini karena campuran antara hujan dengan asap pabrik.

Hasil-hasil industri Inggris antara lain sebagai berikut.

- 1) Industri kapas terdapat di Manchester dan Liverpool.
- 2) Industri peleburan bijih besi terdapat di Middlebrough, New Castel, Wellington.
- 3) Industri baja terdapat di Sheffield, Yorkshire, Middlebrough.
- 4) Industri tekstil terutama berpusat di Landcastere.
- 5) Industri galangan kapal terdapat di Glasgow, Greenoch, Peasly, New Castel.
- 6) Industri pesawat terbang dan mobil di London, Oxford, Birmingham.
- 7) Industri kain wol terdapat di Leeds, Broofferd.

Jenis industri lainnya antara lain elektronika, lokomotif, industri kimia, dan yute.

## F. Contoh Negara-Negara Berkembang

Negara-negara berkembang sebagian besar terdapat di Asia, Amerika Latin, Afrika, dan Amerika Tengah. Beberapa contoh negara berkembang yang akan kita bahas lebih jauh adalah Meksiko, Brasil, India, Mesir, dan Kenya. Negara-negara tersebut tergolong negara berkembang karena perekonomiannya masih didominasi oleh sektor pertanian. Di kawasan Asia Tenggara, satu-satunya negara yang tidak termasuk negara berkembang adalah Singapura karena 50% lebih penduduknya bekerja di sektor industri dan jasa.



## 1. Meksiko

Nama asli negara Meksiko adalah *Estados Unidos Mexicanos*. Pada awalnya Meksiko diperintah oleh raja-raja, kemudian terjadi pemberontakan yang dipimpin oleh seorang bekas tentara Spanyol dan berhasil memproklamasikan kemerdekaan Meksiko. Antara tahun 1836 sampai 1846 Meksiko berperang dengan Amerika Serikat sehingga kehilangan beberapa wilayahnya yaitu California, Texas, New Meksiko, dan Arizona yang kini telah menjadi negara bagian di Amerika Serikat.

### a. Letak dan Batas

Negara Meksiko merupakan negara yang secara geografis terletak di Amerika Utara akan tetapi mempunyai kebudayaan Amerika Latin. secara astronomi Meksiko terletak antara 15°LU–32°LU dan antara 87°BB–117°BB. Batas wilayahnya di sebelah utara Amerika Serikat, sebelah timur Teluk Meksiko, Belize, Guatemala, sebelah selatan dan barat Samudra Pasifik.

### b. Keadaan Alam

Sebagian besar wilayah Meksiko merupakan dataran tinggi Plato Tengah yang merupakan daerah pemusatan penduduk yang dikelilingi oleh pegunungan. Tiga pegunungan utama yang mengelilingi negara Meksiko adalah Pegunungan Sierra Madre Occidental di bagian barat merupakan perpanjangan dari Pegunungan Rocky di Amerika Serikat; Pegunungan Sierra Madre Oriental di bagian timur merupakan perpanjangan dari Pegunungan Sierra Nevada dan Pegunungan Sierra Madre Del Sur di bagian Selatan. Puncak tertinggi di Meksiko adalah Gunung Citlaltepetl (5.700 m). Sungai utamanya adalah Sungai Rio Grande yang merupakan batas alam antara Meksiko dengan Amerika Serikat.

### c. Iklim

Secara astronomis Meksiko memiliki iklim tropis dan subtropis dengan curah hujan yang berbeda antara bagian utara dan tenggara. Bagian utara kering dan di bagian tenggara sangat basah karena dipengaruhi angin pasat yang berasal dari Teluk Meksiko dan Laut Karibia. Iklim fisiknya antara lain iklim panas di daerah selatan, iklim sedang di bagian Plato Tengah, iklim dingin terdapat di sekitar Mesa Central, dan iklim beku di puncak-puncak gunung.

### d. Keadaan Penduduk

Penduduk Meksiko terdiri atas penduduk asli, pendatang dan campuran. Penduduk aslinya adalah orang-orang Indian, penduduk pendatangnya berasal dari Eropa terutama Spanyol dan Portugis yang membawa kebudayaan Latin. Adapun penduduk campurannya adalah Mestis, Amerindian dan bangsa Negro.

Pada masa lampau bangsa Meksiko memiliki kebudayaan yang tinggi yaitu warisan dari bangsa Aztec yang meliputi bidang seni, sosial, dan politik.

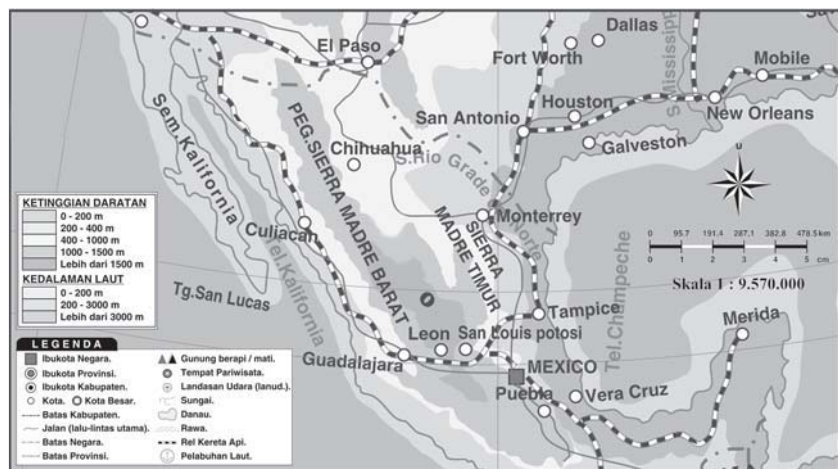
## Meksiko

Nama Internasional	: The United Mexican States
Luas wilayah	: $\pm$ 1.964.382 km <sup>2</sup>
Ibukota	: Mexico City
Bentuk pemerintahan	: Republik
Kepala pemerintah	: Presiden
Jumlah penduduk	: 108.700.890
Bahasa	: Spanyol
Agama Mayoritas	: Katholik
Mata uang	: Peso



**Gambar 1.18** Penduduk Meksiko.  
**Sumber:** Microsoft Student 2008





**Gambar 1.19** Peta Meksiko  
**Sumber:** Atlas Dunia Buana Raya

#### e. Kegiatan Ekonomi

Pertanian dan pertemukannya dilakukan di daerah plato tengah. Hasil pertaniannya meliputi jagung, kopi, tembakau, dan sisal. Adapun binatang ternak yang dihasilkan antara lain lembu, kuda, babi, dan unggas.

Pertambangan utamanya adalah perak yang terdapat di Tazco, Guanajuato, Pachuca. Meksiko merupakan penghasil perak terbesar di dunia. Hasil tambang lainnya antara lain tembaga, minyak bumi, belerang, timah, dan gas alam.

Perindustriannya masih dalam tahap perkembangan. Hasil industri utamanya adalah tekstil di Meksiko City dan Pueblo. Industri baja terdapat di Mounterrey, Toluca, dan Las Truchas. Hasil industri lainnya adalah elektronika, pengolahan karet, dan minyak bumi.

## 2. Brasil

Brasil merupakan negara terluas di kawasan Amerika Selatan. Banyak sebutan yang ditujukan kepada Brasil seperti negeri Samba, raja kopi dunia, bahkan terkenal sebagai negara dengan pemain sepak bola yang terkenal di dunia.

Negara Brasil pertama kali ditemukan oleh pelaut dari Portugis yang dipimpin oleh Pedro Alvares Cabral.

Pada tahun 1815 Brasil menjadi sebuah kerajaan yang dipimpin oleh Raja John VI dari Portugis. Setelah kembali ke Portugis pada tahun 1821, Raja John VI menyerahkan wilayah kekuasaannya kepada putranya yang bernama Don Pedro. Brasil menjadi negara republik pada tahun 1889.

#### a. Letak dan Batas

Secara Astronomis Brasil terletak antara 5°LU–34°LS dan 35°BB–74°BB. Batas-batas wilayahnya di sebelah utara adalah Venezuela, Guyana, Suriname, dan Guyana Prancis. Di sebelah timur berbatasan dengan Samudra Atlantik, sebelah selatan dengan Uruguay, Paraguay, dan Argentina. Adapun di sebelah barat Brasil berbatasan dengan Columbia, Peru, dan Bolivia.

### Brasil

Nama internasional	: F e d e r a l Republik of Brazil
Luas wilayah	: ± 8.547.404 km <sup>2</sup>
Ibu kota	: Brasilia
Bentuk pemerintahan	: Republik Federasi
Kepala pemerintahan	: Presiden
Merdeka	: 7 September 1822
Jumlah penduduk	: 190.010.650
Bahasa resmi	: Portugis
Agama mayoritas	: Katholik
Mata uang	: Cruzeiro





**Gambar 1.20** Peta Brasil

**Sumber:** Atlas Dunia Buana Raya

#### b. Keadaan Alam

Secara garis besar keadaan alam Brasil adalah sebagai berikut.

- 1) Lembah Amazon, merupakan lembah terluas di dunia yang terletak di antara Dataran Tinggi Brasil di bagian selatan dan Dataran Tinggi Guyana di bagian utara. Daerah ini sebagian besar tertutup oleh hutan tropis yang terluas di dunia yaitu Hutan Amazon.
- 2) Dataran Tinggi Brasil terletak di sebelah selatan muara Sungai Amazon. Di wilayah ini banyak terdapat padang sabana yang disebut *campos*. Dataran Tinggi Brasil sering disebut jantungnya Brasil karena terletak di tengah-tengah wilayah Brasil dan merupakan sumber mata air dari beberapa sungai besar seperti Sungai Paranaíba, Sungai Tapajos, Sungai Sao Fransisco, dan Sungai Amazon.
- 3) Dataran Tinggi Guyana terletak di sebelah utara Lembah Amazon yang merupakan batas alam dengan negara Venezuela, Guyana, dan Suriname. Di daerah ini terdapat gunung tertinggi di Brasil yaitu Gunung Nebila (3.014 m).

#### c. Keadaan Penduduk

Sebagian besar penduduk Brasil terpusat di bagian timur yang berhadapan dengan Samudra Atlantik. Penduduknya merupakan campuran antara penduduk asli dan pendatang. Jumlah terbanyak adalah orang Portugis 60%, orang Mestizo 26%, orang Afrika 9%, dan 2% campuran etnis lain. Penduduk aslinya adalah orang Indian, sedangkan pendatangnya berasal dari Eropa, Asia, dan Afrika.



**Gambar 1.21** Hutan Amazon merupakan hutan terluas di dunia yang terdapat di Brasil.

**Sumber:** Microsoft Student 2008



#### d. Kegiatan Ekonomi

Perekonomian Brasil didukung oleh beberapa sektor berikut.

- 1) Pertanian dengan daerah pertanian terpusat di sekitar Lembah Sungai Amazon. Hasil pertanian utamanya adalah kopi yang banyak ditanam di dataran tinggi sekitar Brasilia, Rio de Janeiro, dan Sao Paulo. Daerah perkebunan kopi disebut *Fasenda*. Brasil merupakan negara penghasil kopi terbesar di dunia sehingga mendapat julukan sebagai negara raja kopi dunia. Hasil pertanian lainnya jagung, gandum, kopi, tembakau, kacang, kapas.
- 2) Perdagangan dengan pusat perdagangan terdapat di Sao Paulo.
- 3) Pertambangan, hasil tambangnya berupa bijih besi di Belo Horizonte, batu bara di Tubarau dan Rio Grande De Sul. Minyak bumi di Bahia dan Alagoas. Tembakau di Belo Horizonte.
- 4) Perindustrian, terpusat di Rio de Janeiro, Sao Paulo, dan Belo Horizonte. Hasil industrinya antara lain tekstil baja, semen, pupuk, kertas, ban mobil.

### 3. India

India merupakan negara bekas jajahan Inggris yang memperoleh kemerdekaan pada tanggal 15 Agustus 1947. Sebelum menjadi koloni Inggris, Ibukotanya bernama Indra Prasta dan setelah merdeka menjadi New Delhi. Dua tokoh India yang terkenal dalam masa perjuangan adalah Mahatma Gandhi dan Pandit Jawaharlal Nehru.

#### a. Letak dan Batas

Negara India terletak di kawasan Asia Selatan di daratan yang merupakan jazirah atau semenanjung besar yang diapit oleh Laut Arab dan Teluk Benggala. Secara astronomis India terletak antara 8°LU–37°LU dan antara 68°BT–97°BT. Batas-batas wilayahnya yaitu sebelah utara adalah Nepal, Bhutan, dan Cina. Di sebelah timur berbatasan dengan Myanmar, Bangladesh, dan Teluk Benggala. Di sebelah barat berbatasan dengan Pakistan dan Laut Arab. Adapun di sebelah selatan berbatasan dengan Srilanka dan Samudra Hindia.

#### b. Keadaan Alam

Secara garis besar keadaan alam India dibagi tiga sebagai berikut.

- 1) *Bagian utara*, merupakan daerah Pegunungan Himalaya yang bersambung dengan Pegunungan Hindukush di bagian barat. Di antara Pegunungan Hindukush dengan Pegunungan Himalaya terdapat celah yang dapat dijadikan jalur menuju Asia Tengah yaitu Celah Kaiber (*Kaiber Pass*).

#### India

Nama internasional	: Republic of India
Luas wilayah	: ± 3.165.596 km <sup>2</sup>
Ibu kota	: New Delhi
Bentuk pemerintahan	: Republik
Kepala negara	: Presiden
Kepala pemerintahan	: Perdana Menteri
Lagu kebangsaan	: Jana Gana Man
Bahasa resmi	: Hindi
Agama mayoritas	: Hindu
Mata uang	: Rupee
Jumlah penduduk	: 1.129.866.200



- 2) *Bagian tengah*, di wilayah ini terdapat dataran rendah yang luas dan subur karena dialiri oleh dua sungai besar yaitu Sungai Gangga dan Sungai Brahmaputra yang bermuara ke Teluk Benggala. Pertanian India terpusat di daerah dataran rendah ini.
- 3) *Bagian selatan*, di mana terdapat dataran tinggi yang luas yaitu Dataran Tinggi Dekan yang diapit oleh Pegunungan Ghat Barat di bagian barat dan Pegunungan Ghat Timur di bagian timur. Di Dataran Tinggi Dekan mengalir Sungai Godavari, Sungai Kistna, dan Sungai Mahamadi yang bermuara di Teluk Benggala.



**Gambar 1.22** Dataran Tinggi Dekan.  
**Sumber:** Microsoft Student 2008



**Gambar 1.23** Peta India  
**Sumber:** Atlas Dunia Buana Raya

#### c. Keadaan Penduduk

India merupakan negara yang jumlah penduduknya terbesar ke dua di dunia setelah Cina. Mayoritas penduduk India beragama Hindu yang mengenal adanya beberapa kelompok penduduk (*kasta*) yang keanggotaannya ditentukan berdasarkan kelahirannya.





**Gambar 1.24** Tekstil adalah salah satu hasil industri utama dari India.

**Sumber:** Microsoft Student 2006

Kota suci umat Hindu terdapat di Benares dan Allahabad yang terletak di aliran Sungai Gangga.

Selain agama Hindu, terdapat juga agama Sikh dengan kota sucinya Amritsar. Di kota Agra terdapat bangunan yang terkenal dengan arsitekturnya yaitu Taj Mahal. Bangunan ini dipersembahkan untuk permaisuri Kaisar Mogul, Shah Jehan.

Penduduk India terdiri atas empat kelompok besar sebagai berikut.

- 1) Bangsa *Dravida*, merupakan penduduk asli berkulit hitam yang tinggal di daerah Dataran Tinggi Dekan bagian selatan.
- 2) Bangsa *Hindu*, merupakan keturunan bangsa Arya yang berkulit putih, sebagian besar tinggal di daratan rendah Hindustan atau Lembah Sungai Gangga.
- 3) Bangsa *Mongol*, adalah orang-orang keturunan Mongol yang banyak tinggal di daerah Assam, Benggala dan lerang-lereng Pegunungan Himalaya.
- 4) Bangsa *Munda*, merupakan bangsa yang kehidupannya masih primitif dan sederhana. Mereka banyak berdiam di daerah-daerah pegunungan.

#### d. Kegiatan Ekonomi

Kegiatan perekonomian India meliputi pertanian, pertambangan, dan perindustrian.

Daerah Pertanian terdapat di Dataran Rendah Sungai Gangga, Dataran Tinggi Dekan, dan daerah Assam. Hasil pertaniannya antara lain kapas, teh, yute (bahan karung goni), padi, tebu, dan tembakau.

India kaya akan hasil tambang antara lain mangan yang terdapat di Madras, Orissa, dan Bihar. India adalah pengeksport mangan terbesar di dunia. Mika menempati urutan keempat dunia. Daerah pertambangannya terdapat di Dataran Tinggi Dekan dan Bihar. Hasil tambang lainnya yaitu emas, bijih besi, batu bara, dan bauksit.

Di kawasan Asia Selatan, industri India tergolong paling maju. Hasil-hasil industrinya antara lain peleburan bijih besi di Jamshedpur, tekstil di Bombay, Madras, dan Ahmadabad. Industri yute di Kalkuta, industri pesawat terbang di Kanpur. Industri kapal di Bombay, Kalkuta, dan Visakhapatnam. Adapun industri perfilman Bollywood terdapat di Bombay.

## 4. Mesir

Mesir merupakan negara bekas jajahan Inggris yang setelah merdeka menjadi kerajaan konstitusional dengan Raja Fuad I sebagai raja yang pertama. Nama resmi Mesir adalah *Jumhuriat Misr el Arabia*. Pada tanggal 23 Juli 1952 terjadi pemberontakan yang dipimpin Jenderal Muhammad Naquib yang berhasil menumbangkan kerajaan. Pada tanggal 18 Juni 1953 sistem



kerajaan dihapus, selanjutnya diganti negara republik dengan presiden pertamanya adalah Jenderal Muhammad Naquib.

Di Mesir terdapat Terusan Suez yang menghubungkan antara Laut Merah dengan Laut Tengah. Terusan ini dibangun oleh Ferdinan de Lesseps (dari Prancis pada tahun 1859-1869) yang penggaliannya melewati beberapa danau yaitu Danau Timzeh, Danau Bellah, dan Danau Pahit. Panjang Terusan Suez kurang lebih  $\pm 166$  km yang menghubungkan Kota Suez dengan Port Said. Dengan adanya terusan ini, perekonomian Mesir berkembang pesat, karena merupakan jalur transportasi laut yang menghubungkan Benua Eropa dengan Benua Asia.

a. Letak dan Batas

Negara Mesir terletak di wilayah Afrika Utara dan merupakan satu-satunya negara di Benua Afrika yang berbatasan darat langsung dengan Benua Asia. Secara astronomis, Mesir terletak antara  $22^{\circ}\text{LU}$ – $32^{\circ}\text{LU}$  dan antara  $25^{\circ}\text{BT}$ – $36^{\circ}\text{BT}$ . Batas-batas wilayahnya antara lain di sebelah timur dengan Laut Merah, Palestina, dan Yordania. Di sebelah selatan berbatasan dengan Sudan, di sebelah barat dengan Libia, dan sebelah utara berbatasan dengan Laut Tengah.


b. Keadaan Alam

Secara garis besar keadaan alam Mesir dibagi menjadi lima wilayah sebagai berikut.

- 1) Gurun Barat atau Gurun Libia merupakan daerah terluas dari wilayah Mesir. Di daerah ini dijumpai depresi atau cekungan yang lebih rendah dari permukaan laut yaitu Depresi Qattara ( $\pm 137$  m di bawah permukaan laut). Sumber-sumber air atau *oase* banyak dijumpai di daerah ini, di antaranya Oase Faranfra, Oase Kharijah, dan Oase Siwa.
- 2) Gurun Timur atau Gurun Arab, terletak di antara Sungai Nil dengan Laut Merah. Sebagian besar Gurun Arab merupakan dataran tinggi yang gersang dan rangkaian pegunungan sempit dengan puncaknya Gunung Shayed (2.175 m).
- 3) Semenanjung Sinai, terletak di sebelah timur Terusan Suez. Di kawasan ini terdapat pegunungan yang tandus dan berbatu kapur dengan puncak tertingginya Gunung Khaterina (2.637 m).
- 4) Delta Sungai Nil  
Delta Nil merupakan dataran *alluvial* yang sangat luas, membentang dari Kairo sampai Laut Tengah, dan dari Iskandariah sampai Port Said sepanjang  $\pm 250$  km. Daerah ini dijadikan kawasan pertanian karena mempunyai tanah yang subur. Delta ini terbentuk dari proses pengendapan yang berlangsung lama dari Sungai Nil di bagian muaranya.

## Mesir

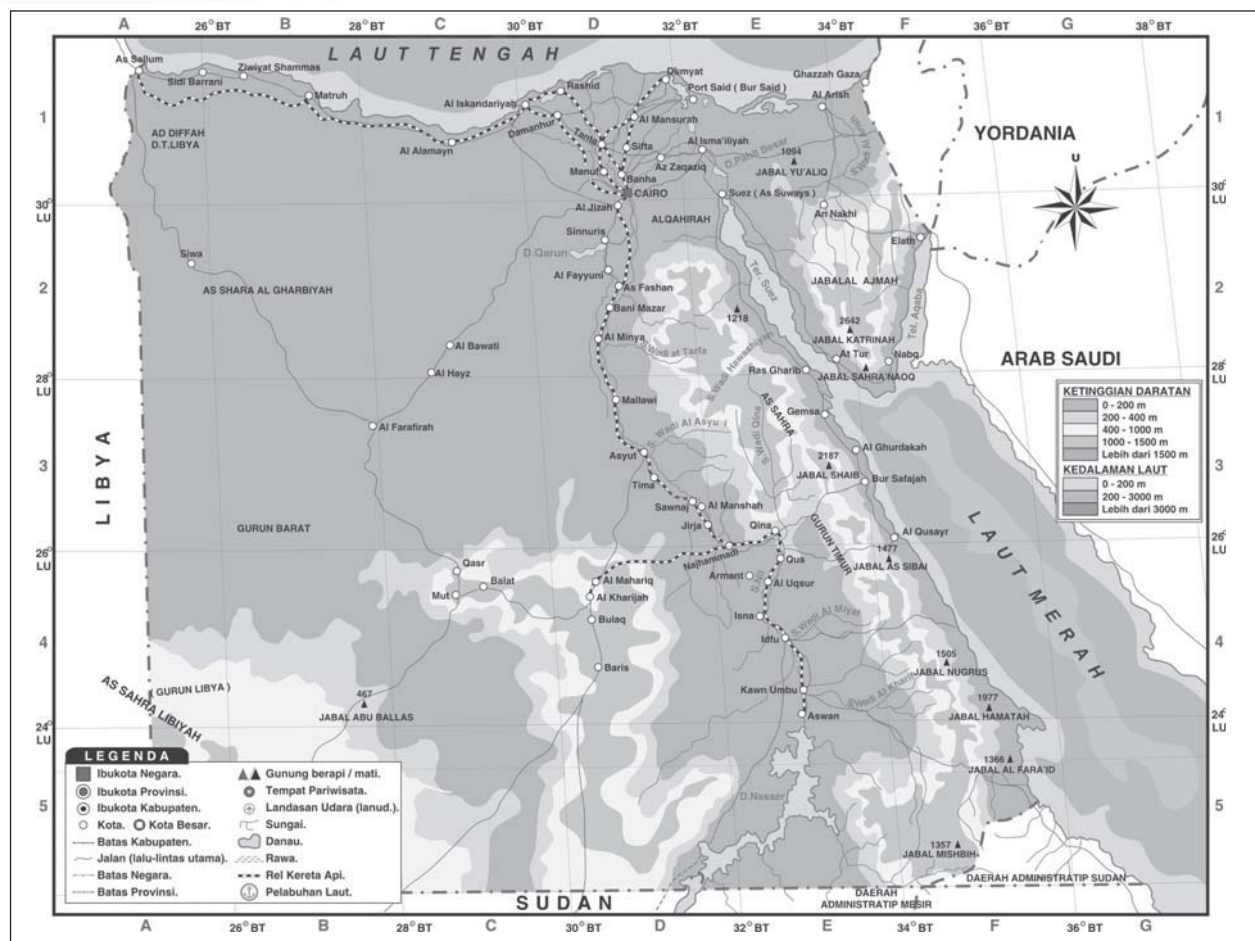
Nama internasional	: Arab Republik of Egypt
Luas wilayah	: $\pm 997.739$ km <sup>2</sup>
Jumlah penduduk	: 80.264.543
Ibu kota	: Kairo
Bentuk pemerintahan	: Republik
Merdeka	: 28 Februari 1922
Kepala negara	: Presiden
Bahasa	: Arab
Agama mayoritas	: Islam
Mata uang	: Pound Mesir



**Gambar 1.25** Aktivitas sungai Nil Mesir.

**Sumber:** Microsoft Student 2008





**Gambar 1.26** Peta wilayah Mesir  
**Sumber:** Atlas Dunia Buana Raya

#### 5) Lembah Sungai Nil

Sungai Nil merupakan sungai yang terpanjang di dunia (6.690 km). Lembah Sungai Nil merupakan daerah yang subur dan menjadi pusat permukiman penduduk. Letaknya membentang sepanjang 1.300 km dari perbatasan Sudan sampai Laut Tengah

Di Sungai Nil terdapat Bendungan Aswan yang berguna untuk irigasi dan pembangkit listrik. Sumber mata air Sungai Nil berasal dari Danau Victoria di Afrika Tengah dan Danau Tana di Ethiopia, kedua sungai tersebut bertemu di Khartoum (Sudan).

Sungai Nil sangat penting bagi perekonomian Mesir. Adapun manfaatnya antara lain sebagai sarana transportasi, irigasi bagi pertanian, PLTA, sumber air minum, dan wisata air.

Mesir berdasarkan letak astronominya beriklim subtropis di bagian utara sepanjang Laut Tengah dan iklim darat atau gurun di bagian tengah.

#### c. Keadaan Penduduk

Penduduk Mesir terdiri atas tiga kelompok utama yaitu Suku Bangsa Arab dan Hamid yang berkulit putih serta Suku Bangsa Numbia yang berkulit hitam.



Persebaran penduduk Mesir tidak merata, karena sebagian besar wilayahnya berupa gurun pasir. Penduduknya terkonsentrasi di Kairo dan Iskandariah. Penduduk Mesir yang mayoritas beragama Kristen tinggal di kota yang disebut *Kopta*.

Kebudayaan Mesir termasuk tinggi, hal ini dapat dilihat dari peninggalannya sejarahnya antara lain *piramida* yaitu kuburan raja-raja, *spinx* yaitu patung singa berkepala manusia, *obelisk* yaitu tugu segi empat yang terbuat dari batu, dan *hieroglif* yaitu tulisan dan lukisan Mesir Kuno.

Piramida dan spinx terbesar terdapat di Giza. Di Kairo terdapat universitas Islam tertua di dunia yaitu Universitas Al-Azhar yang didirikan pada tahun 910 Masehi.

d. Kegiatan Ekonomi

Perekonomian Mesir didukung oleh beberapa sektor sebagai berikut.

1) Pertanian

Pertanian Mesir berkembang pesat setelah dibangunnya bendungan-bendungan seperti Aswan dan Assuit. Daerah pertaniannya terpusat di sekitar lembah Sungai Nil dan Delta Sungai Nil yang subur. Petani-petani Mesir disebut *Fellahin*. Hasil pertaniannya berupa kapas, gandum, jagung, kurma, buah-buahan, padi, dan minyak zaitun. Kapas merupakan komoditas ekspor terbesar dari Mesir.

2) Pertambangan

Hasil pertambangan Mesir antara lain minyak bumi yang terdapat El Alamin Qattarana, sekitar Terusan Suez. Bijih besi terdapat di sekitar Bendungan Aswan, mangan terdapat di Semenanjung Sinai, dan fosfat di Pantai Laut Merah.

3) Perindustrian

Mesir merupakan negara yang perkembangan industri-nya nomor dua di Afrika setelah Afrika Selatan.

Hasil industrinya antara lain tekstil, pupuk, semen, bahan kimia, baja, gula, dan rokok. Pusat-pusat industrinya terdapat di Kairo, Iskandariah, dan di sekitar Terusan Suez.



**Gambar 1.27** Pendidikan di Mesir sudah berumur sangat tua. Salah satu buktinya adalah Universitas Al-Azhar Kairo.

**Sumber:** Microsoft Student 2008

## 5. Kenya

Nama resmi Kenya adalah *Jamhuriya*, sedangkan nama Kenya diambil dari nama gunung tertinggi di negara ini, yaitu Gunung Kenya.


a. Letak dan batas

Kenya merupakan salah satu negara yang terletak di kawasan Afrika Timur yang berhadapan dengan Samudra Hindia di bagian timurnya. Secara astronomis, Kenya terletak pada 5°LU–5°LS dan antara 35°BT–45°BT. Batas-batas wilayahnya yaitu sebelah utara berbatasan dengan Ethiopia, dan Sudan.



## Kenya

Nama internasional	: Republik of Kenya
Luas wilayah	: ± 582.646 km <sup>2</sup>
Ibu kota	: Nairobi
Bentuk pemerintahan	: Republik
Merdeka	: 12 Desember 1963
Kepala pemerintahan	: Presiden
Lagu kebangsaan	: Ee Mungu Nguvu Yetu
Jumlah penduduk	: 36.913.721
Bahasa resmi	: Swahili
Agama	: Islam, Katolik, Protestan, dan kepercayaan tradisional
Mata uang	: Shiling Kenya



**Gambar 1.28** Keadaan alam Kenya dengan faunanya.

**Sumber:** Microsoft Student 2006

Di sebelah timur berbatasan dengan Somalia dan Samudra Hindia. Adapun di sebelah selatan berbatasan dengan Tanzania, dan di sebelah barat dengan Uganda.

### b. Keadaan Alam

Keadaan alam Kenya secara garis besar dikelompokkan menjadi empat bagian sebagai berikut.

- 1) Dataran pantai yang merupakan sabuk pesisir di bagian timur dengan pasir putihnya dan banyak dijumpai terumbu karang.
- 2) Dataran tinggi, terdapat di sekitar Gunung Kenya (5.193 m) yang merupakan gunung tertinggi di Afrika setelah Gunung Kilimanjaro (5.963 m) di Tanzania.
- 3) Daerah Sabana atau semak belukar merupakan daerah yang cukup luas membentang dari utara ke selatan. Pemerintah Kenya menjadikan daerah ini sebagai taman nasional untuk melindungi binatang-binatang langka.
- 4) Lembah Retak Besar merupakan kawasan lembah yang sangat luas membentang dari utara ke selatan di bagian barat Kenya.

Di sepanjang lembah besar ini terdapat banyak danau besar, yaitu Danau Victoria yang merupakan danau terbesar di Afrika dan berada di tiga negara yaitu Tanzania, Uganda, serta Kenya. Danau-danau yang lain Danau Naivasha, Danau Rudolf, dan Danau Nahuru. Sungai-sungai utamanya adalah Sungai Tana dan Sungai Athi yang bermuara ke Samudra Hindia.

Iklm yang berlaku di negara Kenya adalah iklim tropis karena merupakan salah satu negara di Afrika yang dilewati garis khatulistiwa.

### c. Keadaan Penduduk

Penduduk Kenya berdasarkan bahasa dan kebudayaannya dikelompokkan menjadi empat kelompok yaitu Suku Kikuyu atau Bantu merupakan suku terbesar, Suku Luo atau Nilot, Suku Luhya, dan Suku Masai yang merupakan suku primitif yang hidupnya nomaden atau berpindah-pindah.

Suku Kikuyu mendominasi kehidupan politik Kenya. Suku ini mempunyai kepercayaan bahwa gunung atau pohon yang besar dianggap keramat dan merupakan tempat tinggal para dewa yang disebut *Ngai*.

### d. Kegiatan Ekonomi

Sektor pertanian merupakan tulang punggung perekonomian Kenya, karena sebagian besar penduduknya bermata pencaharian sebagai petani. Hasil pertanian untuk komoditas ekspor antara lain teh, kopi, sisal, dan *pirethrum* yaitu bahan campuran insektisida. Kenya menjadi negara penghasil *pirethrum* terbesar dunia.



Di sektor pertanian, Kenya merupakan salah satu negara penghasil susu terbesar di Afrika. Binatang ternak yang dipelihara yaitu lembu, kambing, domba, dan unta.

Kenya tidak banyak mempunyai hasil tambang, sehingga tidak cukup untuk kebutuhan dalam negeri. Hasil tambangnya yaitu minyak bumi terdapat di lembah Sungai Tana. Selain itu ditemukan juga asbes, batu kapur, abu soda, bijih besi, perak, dan tembaga. Abu soda dan batu kapur menjadi komoditas ekspor utamanya.

Perindustrian Kenya belum berkembang baik dan terbatas pada industri yang memproses hasil pertanian. Industri-industri lainnya adalah industri kimia, semen, dan tekstil.

## **G. Perang Dunia II dan Pengaruhnya terhadap Kehidupan di Indonesia**

Pecahnya Perang Dunia II berawal saat Hitler menuntut Polandia untuk menyerahkan Kota Danzig yang terletak di perbatasan Jerman dan Polandia. Hitler beralasan bahwa warga Kota Danzig adalah bangsa Jerman, sehingga sudah seharusnya Danzig menjadi bagian dari wilayah Jerman.

Polandia tentu saja menolak mentah-mentah permintaan Jerman tersebut. Karena penolakan Polandia tersebut, maka pada 1 September 1939 Jerman menyerang Polandia. Hanya dalam waktu sekitar tiga minggu, Jerman berhasil menduduki seluruh wilayah Polandia. Tindakan Jerman tersebut memicu kemarahan negara-negara Sekutu, karena Polandia merupakan negara yang berada di bawah perlindungan Sekutu. Akhirnya, Prancis langsung menyatakan perang terhadap Jerman, kemudian diikuti oleh Inggris.

Secara umum, kancah peperangan Perang Dunia II lebih luas dari Perang Dunia I. Bila Perang Dunia I secara efektif hanya terjadi di Eropa saja, maka Perang Dunia II ini meliputi kawasan Afrika, Asia, dan Pasifik.

### **1. Kancah Perang di Eropa**

Jerman yang telah menduduki Polandia menyerang Belanda dan Belgia sebagai titik awal untuk menyerang Prancis, hingga akhirnya pada bulan Juni 1940 Prancis berhasil diduduki oleh Jerman. Serangan Jerman tersebut terus berlanjut hingga pada 1941, Uni Soviet yang sebelumnya terikat perjanjian untuk tidak saling menyerang dengan Jerman juga ikut diserang.

Daerah Balkan di selatan pun berhasil direbut oleh pasukan gabungan Italia dan Jerman pada tahun 1941. Pasukan gabungan Italia-Jerman tersebut juga berhasil menduduki seluruh wilayah Afrika Utara pada tahun 1942, kecuali Mesir yang menjadi basis pertahanan Inggris di Afrika.

Namun, keunggulan Blok As tersebut tidak bertahan lama. Pada 6 Juni 1944, pasukan Sekutu mendarat di Normandia. Pasukan



yang terdiri atas gabungan pasukan Amerika Serikat, Inggris, dan Prancis tersebut berada di bawah kendali Jenderal Eisenhower dari Amerika Serikat. Mereka bisa memasuki Casablanca, Maroko untuk mengobrak-abrik pertahanan Jerman-Italia di Afrika Utara.


Setelah itu, pasukan Sekutu terus merangsek ke utara dan memasuki Prancis melalui Pantai Florence di selatan. Sehingga pasukan Jerman mundur dari Prancis. Di timur, pasukan Uni Soviet di bawah pimpinan Jenderal Zhukov berhasil merebut Polandia dari Jerman dan melanjutkan penyerangan hingga ke basis-basis pertahanan Jerman.

Pada 7 Mei 1945, pasukan gabungan Sekutu berhasil memasuki Jerman dari barat sedangkan pasukan Uni Soviet berhasil memasuki Jerman dari timur hingga kedua pasukan tersebut bertemu di Berlin. Dengan demikian, Jerman berhasil diduduki oleh pasukan Sekutu. Selanjutnya Sekutu membagi Jerman menjadi dua bagian yaitu Jerman Barat yang diduduki pasukan gabungan Sekutu dan Jerman Timur yang diduduki pasukan Uni Soviet.

## 2. Kancan Perang di Asia dan Pasifik

Dengan alasan ingin melindungi bangsa-bangsa Asia Timur dari penjajahan negara-negara Eropa, Jepang yang tergabung dalam Blok As melancarkan serangan mendadak ke pangkalan Amerika Serikat di Pearl Harbour, Hawaii pada 7 Desember 1941. Amerika Serikat yang semula netral pun segera menyatakan perang terhadap Jepang. Ini menjadi awal pecahnya perang di kancan Asia Timur dan Pasifik. Oleh karena itu, kancan perang di Asia Timur dan Pasifik juga dikenal dengan sebutan Perang Asia Timur Raya.

Selanjutnya Jepang melakukan penyerangan ke kawasan Asia bagian selatan.



**Gambar 1.29** Kota Nagasaki dan Hiroshima setelah dijatuhi bom atom oleh Sekutu.

**Sumber:** Microsoft Student 2006



Jepang menyerang kawasan Asia bagian selatan dengan gerakan yang cepat. Dalam waktu kurang dari 100 hari, Jepang berhasil mengusir Inggris dari Malaya dan Burma, Amerika Serikat dari Filipina, dan Belanda dari Indonesia. Kedatangan Jepang disambut gembira di kawasan-kawasan taklukannya karena diharapkan akan membebaskan seluruh kawasan Asia dari penjajahan bangsa-bangsa Barat.

Pendaratan pasukan Jepang di Indonesia dilakukan di tiga tempat, yaitu di Desa Bojonegoro (Banten), Eretan (Subang), dan Kranggan (Rembang, Jawa Tengah). Setelah pendaratan pasukan Jepang, terjadi pertempuran di kawasan Ciater, Jawa Barat dan di beberapa tempat lainnya di Jawa Tengah serta Jawa Timur. Pasukan Sekutu yang pada saat itu berkuasa atas Indonesia segera dapat dikalahkan dan pertempuran pun lekas padam.

Jepang datang dengan mengaku sebagai saudara tua bangsa Indonesia yang akan membebaskan dari cengkeraman Belanda. Demi menarik simpati bangsa Indonesia, Jepang selalu menggembar-gemborkan pernyataan sebagai berikut.

- a. Indonesia dan Jepang berkedudukan sederajat.
- b. Jepang adalah saudara tua bangsa Indonesia.
- c. Jepang akan memimpin Asia untuk membangun kemajuan Asia Timur Raya.
- d. Bendera Merah Putih boleh dikibarkan dan lagu Indonesia Raya boleh dinyanyikan, berdampingan dengan bendera Hinomaru dan lagu kebangsaan Kimigayo milik Jepang.

Seiring berjalannya waktu ternyata Jepang justru lebih kejam dari Belanda.

Setelah menguasai Indonesia, Jepang membagi Indonesia menjadi tiga wilayah.

- a. Wilayah I, yakni Jawa dan Madura di bawah komando angkatan darat (Rikugun) yang berpusat di Batavia.
- b. Wilayah II, yakni Sumatra dan kepulauan sekitarnya di bawah komando angkatan darat (Rikugun) yang berpusat di Bukittinggi.
- c. Wilayah III, meliputi Kalimantan, Sulawesi, Maluku, Bali, dan Nusa Tenggara, di bawah komando angkatan laut (Kaigun) yang berpusat di Makassar.

Dengan demikian, terlihat bahwa Jepang memerintah di Indonesia dengan pemerintahan militer. Indonesia dijadikan salah satu front pertahanan Jepang dalam menghadapi gempuran pasukan Sekutu dari selatan, yakni dari Australia. Saat itu, Australia merupakan front pertahanan pasukan Sekutu di Pasifik. Pada mulanya, rakyat Indonesia mempercayai janji-janji dan propaganda Jepang. Jepang dianggap sebagai pembebas bangsa Indonesia dari belenggu penjajahan Barat. Para pemimpin pergerakan kebangsaan pun menerima tawaran kerja sama Jepang. Mereka berharap bahwa kemerdekaan akan segera terwujud setelah Perang Dunia II dan Perang Pasifik.

Sementara itu, Jepang berupaya dengan berbagai cara agar rakyat dan para pemimpin nasional Indonesia mendukung

### Tugas Mandiri

Sebutkan tujuan utama pendudukan Jepang atas Indonesia!



kebijakan-kebijakan Jepang. Para pemimpin Indonesia yang sejak awal menginginkan kemerdekaan Indonesia, memanfaatkan program-program dari pemerintah Jepang untuk mempersiapkan kemerdekaan Indonesia.

Kebijakan-kebijakan pemerintah Jepang tersebut dapat kamu pelajari pada pembahasan berikut.

a. Organisasi Sosial dan Keagamaan

Pada zaman Jepang, pergerakan nasional Indonesia ditunjukkan untuk membantu Jepang dalam perang.

1) Gerakan 3 A

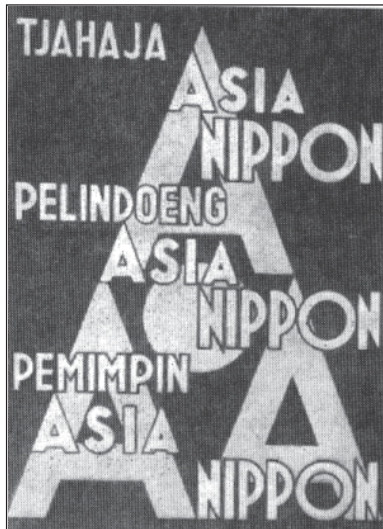
Pemerintah militer Jepang melarang berdirinya partai politik di Indonesia. Kegiatan politik pergerakan nasional Indonesia dikendalikan sepenuhnya oleh Jepang. Kegiatan hanya ditujukan untuk membantu Jepang dalam peperangan. Jepang giat melancarkan propaganda bahwa Jepang memicu Perang Asia Timur Raya untuk membebaskan seluruh Asia dari penjajahan Barat dan mempersatukannya di bawah kepemimpinan Jepang. Jepang merumuskan dan menyebarkan Gerakan Tiga A yang isinya sebagai berikut.

- a) Nippon Cahaya Asia.
- b) Nippon Pelindung Asia.
- c) Nippon Pemimpin Asia.

Jepang mengangkat Mr. Syamsudin, bekas anggota Parindra pada zaman Hindia Belanda untuk memimpin gerakan ini.

2) Pusat Tenaga Rakyat (Putera)

Jepang menghentikan Gerakan Tiga A karena dianggap tidak memberikan keuntungan lagi bagi Jepang. Sebagai gantinya, Jepang membentuk Pusat Tenaga Rakyat (Putera) yang diresmikan pada tanggal 1 Maret 1943. Jepang mengangkat Empat Serangkai yang terdiri atas Ir. Soekarno, Drs. Moh. Hatta, K.H. Mas Mansoer, dan Ki Hajar Dewantara untuk memimpin Putera.



Gambar 1.30 Poster Gerakan 3 A



Gambar 1.31 Empat Serangkai pemimpin Pusat Tenaga Rakyat; Ki Hajar Dewantara, Drs. Moh Hatta, Ir. Soekarno, dan K.H. Mas Mansyur.

Sumber: Sejarah Nasional Indonesia



3) Jawa Hokokai (Himpunan Kebaktian Jawa)

Pada tahun 1944, Jepang mendirikan organisasi Jawa Hokokai (Himpunan Kebaktian Jawa). Saat itu kondisi perang makin mencekam dan Jepang mencoba memupuk semangat kebaktian demi kepentingannya. Semangat kebaktian tersebut mencakup kemauan untuk mengorbankan diri, meningkatkan kesatuan, dan melaksanakan tugas untuk kepentingan Jepang. Berbeda dengan Putera, Jawa Hokokai merupakan organisasi resmi pemerintah Jepang. Pimpinan Jawa Hokokai berada langsung di bawah pengawasan para pembesar Jepang. Jawa Hokokai bertugas mengerahkan rakyat agar mengumpulkan padi, besi, dan barang berharga lainnya serta menanam jarak (bahan untuk minyak pelumas). Semua itu merupakan bahan-bahan pokok yang sangat dibutuhkan Jepang dalam peperangan.

d. Chuo Sangi-In

Pada tanggal 5 September 1943, Jepang mendirikan Chuo Sangi-In. Lembaga ini didirikan atas anjuran perdana menteri Jepang saat itu, Jenderal Tojo. Anggota Chuo Sangi-In berjumlah 43 orang yang terdiri atas 23 orang Jepang dan 20 orang Indonesia. Tugas resmi Chuo Sangi-In ialah memberi masukan dan pertimbangan kepada pemerintah pendudukan Jepang dalam pengambilan keputusan. Chuo Sangi-In diketuai oleh Ir. Soekarno.

Situasi Jepang makin memburuk selama bulan Agustus 1944. Terbukti bahwa moril masyarakat mulai mundur, apalagi saat itu Jepang mulai terdesak dalam peperangan. Faktor-faktor yang tidak menguntungkan tersebut menyebabkan jatuhnya Kabinet Tojo dan diangkatnya Jenderal Kuniaki Kaiso sebagai penggantinya. Kondisi yang buruk itu membuat Jepang meningkatkan usahanya untuk menancapkan pengaruh di Indonesia. Oleh karena itu, pada sidang parlemen tanggal 7 September 1944 Perdana Menteri Kaiso berjanji bahwa Jepang akan segera memerdekakan Indonesia. Pernyataan Kaiso bertujuan untuk menyemangati para pemimpin Indonesia agar lebih mempererat dukungan dan kerja samanya dengan Jepang. Dengan cara demikian, Jepang mengharapkan bahwa Sekutu akan disambut oleh penduduk bukan sebagai pembebas rakyat, melainkan sebagai penyerbu.

Para pemimpin Indonesia sendiri yang duduk dalam keanggotaan Chuo Sangi-In mencoba memanfaatkan untuk memperkuat posisi orang-orang Indonesia dalam pemerintahan Jepang. Salah satu keberhasilan para pemimpin Indonesia yang duduk dalam Chuo Sangi-In adalah diluluskannya permohonan membentuk tentara lokal Indonesia dengan alasan membantu Jepang dalam mempertahankan wilayah Indonesia dari serbuan Sekutu. Tentara lokal Indonesia tersebut diberi nama PETA (Pembela Tanah Air).

**Tugas Mandiri**

Sebutkan tugas-tugas dari Chuo Sangi-In!

**Tugas Mandiri**

Bagaimana para pemimpin nasional memanfaatkan organisasi PETA?



### Tugas Mandiri

Jelaskan segi positif dari terbentuknya organisasi-organisasi semimiliter di Indonesia!

#### b. Pengerahan Pemuda

Sejak pertempuran di wilayah Pasifik, Jepang mulai menyadari perlunya dukungan dari penduduk di masing-masing daerah jajahan. Demikian juga di Indonesia, Jepang memberi perhatian terutama kepada pemuda. Dengan dalih mendidik dan melatih mereka agar mampu mempertahankan tanah air dari serangan Sekutu, Jepang berusaha mempertahankan kedudukannya di kawasan Asia.

Organisasi yang menghimpun para pemuda dapat digolongkan dalam organisasi semimiliter dan organisasi militer.

#### Organisasi Semimiliter

##### 1) Seinendan


Organisasi pemuda ini dibentuk pada tanggal 9 Maret 1943 dengan tujuan mendidik dan melatih para pemuda untuk dipersiapkan menghadapi pasukan Sekutu. Untuk melancarkan tujuan tersebut, Jepang beralih mempersiapkan pemuda Indonesia agar dapat mempertahankan tanah air.

##### 2) Fujinkai

Organisasi yang didirikan pada bulan Agustus 1943 ini menghimpun kaum wanita untuk diberi latihan militer.

##### 3) Keibodan

Organisasi ini dibentuk di berbagai daerah di seluruh Indonesia sebagai barisan pembantu polisi.



**Gambar 1.32** Para pemuda sedang latihan Seinendan.

**Sumber:** *Sejarah Nasional Indonesia*

#### Organisasi Militer

##### 1) Heiho

Organisasi ini dibentuk pada bulan April 1943. Heiho dibentuk dengan maksud mengerahkan tenaga dari rakyat Indonesia sebagai prajurit pembantu Jepang.



2) Peta

Didirikan pada tanggal 3 Oktober 1945. Maksud pembentukan PETA adalah untuk membentuk pasukan bersenjata guna membela tanah air.

c. Romusa

Selain bantuan militer, Jepang membutuhkan banyak tenaga kerja dalam membangun sarana pendukung perang. Tenaga-tenaga itulah yang disebut romusa. Pada mulanya pengerahan tenaga ini bersifat sukarela dan mendapat dukungan rakyat karena masih terpengaruh propaganda Jepang untuk membangun keluarga besar Asia. Tetapi lama-kelamaan karena kebutuhan terus meningkat di seluruh Asia Tenggara, pengerahan tenaga berubah menjadi paksaan. Romusa dikirim ke luar Jawa bahkan ke luar negeri. Kaum romusa diperlakukan sangat buruk. Mereka sangat menderita karena dipaksa bekerja berat tanpa mendapatkan makanan yang layak.

### Tugas Mandiri

Apa akibat dari pengerahan tenaga dan kekayaan rakyat Indonesia selama penjajahan Jepang?

Carilah informasi dari sumber dan buku referensi lain untuk menjawab pertanyaan di atas.



**Gambar 1.33** Contoh kerja romusa dalam pembangunan jalan kereta api Cianjur–Bandung tahun 1879.

**Sumber:** *Gatra edisi khusus Agustus 2005*

d. Penguasaan Sumber Alam

Mengingat situasi Jepang pada saat itu berada dalam kondisi peperangan, maka kegiatan ekonomi penduduk Indonesia sebagai jajahan diarahkan pada kepentingan perang Jepang.



### Tugas Mandiri

Apa yang dimaksud dengan perjuangan gerakan bawah tanah?

Jepang berusaha mendapatkan sumber-sumber bahan mentah guna kepentingan industri persenjataan dan militer perangnya. Untuk itu, Jepang melakukan eksploitasi besar-besaran dalam memeras potensi sumber daya alam Indonesia. Beberapa peraturan yang bersifat kontrol terhadap kegiatan ekonomi yang dikeluarkan di antaranya sebagai berikut.

- 1) Menetapkan aturan bahwa sebagian hasil pertanian dan peternakan harus diserahkan pada pemerintah Jepang, dan semua hasil tambang, hutan, maupun kebun diambil oleh Jepang.
- 2) Lahan-lahan pertanian pun dipakai untuk perkebunan jarak yang merupakan bahan utama pembuatan minyak pelumas.
- 3) Hasil panen setengahnya harus dijual pada pemerintah Jepang dengan harga yang sangat murah.
- 3) Rakyat dituntut untuk menyeter padi dan meningkatkan produksi padi.

Pemerintahan Jepang yang kejam membuat bangsa Indonesia mulai bangkit dan ingin melepaskan diri dari penindasan Jepang. Oleh karena itu, upaya-upaya untuk melawan kekejaman pemerintahan Jepang pun muncul di berbagai tempat di Indonesia.

Perjuangan rakyat Indonesia melawan pemerintah Jepang dilakukan melalui lembaga resmi (legal), melalui gerakan bawah tanah, maupun melalui perjuangan bersenjata.

Kondisi tersebut mengakibatkan semakin berkurangnya bahan-bahan perang yang dimiliki Jepang. Dalam keadaan tersebut, dengan pergerakan yang cepat Sekutu berhasil merebut pulau-pulau di Pasifik yang semula diduduki Jepang hingga sampai ke Morotai, Filipina, Guam, Taiwan, Bonin, dan Okinawa.

Dalam kondisi terdesak, pada awal Agustus 1945 Amerika Serikat mengultimatum Jepang agar menyerah. Namun, Jepang tidak menggubris ultimatum tersebut. Akhirnya Amerika Serikat menjatuhkan bom atom di dua kota pelabuhan penting di Jepang, yakni Hiroshima pada tanggal 6 Agustus 1945 dan Nagasaki tanggal 9 Agustus 1945.

Hancurnya Hiroshima dan Nagasaki menandai berakhirnya upaya perang Jepang karena mereka tidak lagi memiliki pelabuhan yang dapat diandalkan untuk mengirim pasukan ke luar atau memasukkan barang kebutuhan mereka. Pemboman itu akhirnya berujung pada pernyataan menyerah yang diucapkan oleh Kaisar Tenno Heiko pada tanggal 14 Agustus 1945 dan menandai berakhirnya perlawanan Jepang. hal tersebut menandai pula berakhirnya pendudukan Jepang di Indonesia.

Perang Dunia II membawa dampak yang luas di berbagai bidang.

- a) Politik
  - 1) Lahirnya organisasi perdamaian dunia (PBB).
  - 2) Muncul negara adikuasa.
  - 3) Timbul persekutuan militer.



- 2) Dalam bidang ekonomi mengakibatkan terjadi inflasi sehingga muncul lembaga donatur sebagai berikut.
  - a) Truman Doctrine bertujuan memberikan bantuan ekonomi dan militer kepada Yunani dan Turki.
  - b) Marshall Plan bertujuan untuk membangun ekonomi terhadap rencana negara-negara Eropa atas persetujuan Amerika Serikat.
  - c) Point Four Truman bertujuan memberi bantuan untuk negara yang masih terbelakang di Asia.
  - d) Colombo Plan ciptaan Inggris mengutamakan kerja sama dalam lapangan ekonomi dan budaya.
- 3) Di bidang sosial muncul gerakan sosial untuk membantu kesejahteraan yang porak-poranda akibat perang.



### Rangkuman

- ❖ Negara-negara di dunia dapat dikelompokkan dalam berbagai kategori. Indikator yang digunakan meliputi tingkat urbanisasi, tingkat kematian bayi, tingkat kelahiran, jumlah penduduk, tingkat pertumbuhan penduduk, tingkat usia harapan hidup, dan pendapatan per kapita.
- ❖ Bank Dunia membagi negara-negara di dunia dalam empat kelompok, yaitu negara maju, negara berkembang, negara dunia ketiga, dan negara pengekspor minyak.
- ❖ Secara umum, negara-negara di dunia dikelompokkan dalam dua kategori, yaitu negara maju dan negara berkembang.
- ❖ Negara-negara berkembang umumnya memiliki ciri-ciri sebagai berikut.
  - a. Bekas jajahan negara lain.
  - b. Produksi bertumpu pada pertanian.
  - c. Memiliki masalah kependudukan.
  - d. Sumber daya alam belum banyak dimanfaatkan.
  - e. Kekurangan modal untuk pembangunan.
  - f. Perekonomian tergantung pada impor hasil industri dan ekspor hasil pertanian.
- ❖ Adapun ciri-ciri umum negara maju adalah sebagai berikut.
  - a. Penguasaan ilmu pengetahuan dan teknologi relatif tinggi.
  - b. Perekonomian bertumpu pada sektor industri dan jasa.
  - c. Angka pengangguran relatif rendah.
  - d. Pendapatan per kapita berada pada kisaran yang tinggi.
  - e. Memiliki banyak modal untuk pelaksanaan pembangunan.
- ❖ Negara-negara berkembang sebagian besar terletak di Asia, Amerika Selatan, dan Afrika.
- ❖ Negara-negara maju sebagian besar terletak di Amerika Utara, Eropa, dan Asia Timur.
- ❖ Contoh negara-negara berkembang antara lain Indonesia, Thailand, India, Meksiko, Mesir, Arab Saudi, dan negara-negara di Afrika seperti Afrika Selatan, Kenya, dan Kongo.
- ❖ Contoh negara-negara maju antara lain Jerman, Inggris, Amerika Serikat, Jepang, Prancis, Italia, dan Singapura.



## Refleksi

Kamu sudah mempelajari negara berkembang dan negara maju. Untuk mengetahui pemahamanmu tentang materi yang telah kamu pelajari, berilah tanda cek (√) sesuai dengan keadaan dirimu.

No	Pernyataan	Ya	Tidak
1.	Sudahkah kamu paham ciri-ciri negara maju?		
2.	Sudahkah kamu paham ciri-ciri negara berkembang?		
3.	Apakah Indonesia termasuk negara maju?		
4.	Apakah Indonesia termasuk negara berkembang?		
5.	Apakah Sumber daya alam Indonesia belum banyak dimanfaatkan?		
6.	Apakah Indonesia menggantungkan perekonomiannya pada sektor pertanian?		

## Latihan Soal

1

*Kerjakan di buku tugasmu!*

### I. Pilihlah satu jawaban yang paling tepat!

- Indikator yang paling utama dalam penempatan kategori suatu negara ialah ....
  - tingkat pertumbuhan penduduk
  - tingkat usia harapan hidup
  - pendapatan per kapita
  - angka kematian bayi
- Negara-negara maju umumnya berada di kawasan ....
  - Asia Selatan
  - Asia Tengah
  - Asia Tenggara
  - Eropa Barat
- Negara yang termasuk kelompok negara berkembang, adalah ....
  - Selandia Baru
  - India
  - Jepang
  - Italia
- Rata-rata angka pertumbuhan penduduk di negara berkembang mencapai angka ....
  - 1,6%
  - 2%
  - 0,1%
  - 1,9%
- Penduduk negara berkembang umumnya tinggal di ....
  - kota
  - pedesaan
  - urban
  - metropolitan
- Sebagian besar penduduk negara berkembang bekerja di sektor ....
  - pertanian
  - jasa
  - industri
  - perdagangan



7. Pendapatan per kapita rata-rata negara berkembang yang tersebar di berbagai kawasan berada di bawah kisaran ....
  - a. 5.000 Dollar Amerika
  - b. 7.500 Dollar Amerika
  - c. 10.000 Dollar Amerika
  - d. 2.500 Dollar Amerika
8. Salah satu negara di Benua Asia yang dapat dikategorikan sebagai negara maju adalah ....
  - a. Jepang
  - b. Mongolia
  - c. Bhutan
  - d. Maladewa
9. Penduduk negara maju umumnya tinggal di kawasan ....
  - a. urban
  - b. desa
  - c. kampung
  - d. hutan
10. Berikut ini jenis pengelompokan negara menurut Bank Dunia, adalah ....
  - a. negara Islam
  - b. negara agraris
  - c. negara berdaulat
  - d. negara pengekspor minyak
11. Salah satu ciri negara maju adalah ....
  - a. bekas jajahan negara lain
  - b. bertumpu pada sektor pertanian
  - c. menguasai teknologi tinggi
  - d. pengangguran sangat besar
12. Berikut ini adalah sektor-sektor yang mendukung perekonomian Jepang, *kecuali* ....
  - a. kehutanan
  - b. pertanian
  - c. industri
  - d. perikanan
13. Sistem pertanian monokultur di Amerika Serikat yang wilayahnya khusus untuk menanam gandum disebut ....
  - a. *corn belt*
  - b. *wheat belt*
  - c. *elevator*
  - d. *cotton belt*
14. Secara umum, keadaan alam di India dibagi tiga sebagai berikut, *kecuali* ....
  - a. bagian utara
  - b. bagian tengah
  - c. bagian selatan
  - d. bagian barat
15. Negara berkembang yang terletak di Benua Afrika adalah ....
  - a. Meksiko
  - b. Mesir
  - c. Iran
  - d. India

## II. Jawablah pertanyaan berikut dengan benar!

1. Mengapa muncul istilah negara maju dan negara berkembang?
2. Apa saja ciri-ciri umum negara maju?
3. Masalah apa yang paling lazim dijumpai di negara berkembang?
4. Tuliskan sekurangnya tiga negara maju di kawasan Asia!
5. Jepang merupakan sebuah negara maju yang miskin sumber daya alam, menurutmu mengapa kemajuan Jepang lebih baik dari Indonesia?



*Di bawah ini ada sebuah kutipan berita yang menceritakan salah satu kondisi yang dihadapi oleh Indonesia sebagai salah satu negara berkembang di dunia ini. Baca dan cermatilah kutipan berita di bawah ini!*

### Sebanyak 22,7% adalah Warga Miskin

Sekitar 22,7% atau lebih dari satu juta dari 4,6 juta warga Sumatra Barat dilaporkan masih hidup miskin. Mereka tersebar di sejumlah kabupaten dan kota di daerah Ranah Minang itu.

Dari jumlah warga miskin itu, 66,7% di antaranya hanya mengenyam pendidikan setingkat sekolah dasar (SD) atau bahkan tidak tamat. Sementara 51% di antaranya berprofesi sebagai petani.

"Memang ada juga tamatan SMA atau sarjana yang miskin, tetapi jumlahnya sangat-sangat kecil dan itu karena faktor malas saja," ujar Gubernur Sumbar H. Gamawan Fauzi di Padang, kemarin.

Gubernur ketika berbicara pada pendeklarasian Forum Pamong Senior Sumatra Barat, kemarin menambahkan, tingginya angka kemiskinan memiliki korelasi dengan tingkat pendidikan yang rendah. Faktor lain yang memengaruhi adalah faktor kemalasan atau rendahnya daya juang masyarakat.

"Analisis sementara kita menunjukkan, salah satu penyebab utama kemiskinan itu adalah karena faktor pendidikan dan malas," katanya.

Menurut Gubernur, angka tersebut sangat serius sekaligus mengkhawatirkan. "Bayangkan saja, hampir seperempat penduduk kita ternyata hidup dalam kemiskinan, dan itu tentu sebuah kondisi yang harus bisa ditanggulangi secepatnya," katanya. (ant)

**Sumber:** *Harian Seputar Indonesia, Kamis, 8 Desember 2005*

### Langkah-langkah mengerjakan:

1. Bentuklah kelompok yang terdiri atas lima siswa.
2. Bacalah kutipan berita di atas dengan saksama!
3. Carilah berita atau artikel lain yang mendukung atau berkaitan dengan berita di atas!
4. Jawablah pertanyaan-pertanyaan berikut ini dengan mendiskusikannya dalam kelompokmu!
  - a. Menurutmu, apa hubungan antara jumlah penduduk miskin dengan negara berkembang? Jelaskan!
  - b. Mengapa negara-negara berkembang umumnya memiliki masalah dengan jumlah penduduk miskin dan tingkat pendidikan warganya?
  - c. Berdasarkan kutipan berita di atas, jelaskan masalah kemiskinan yang sedang dihadapi oleh Provinsi Sumatra Barat!
  - d. Menurutmu, bagaimanakah masalah kemiskinan yang sedang dihadapi oleh Indonesia saat ini?
  - e. Kini, cobalah untuk mencari posisi Provinsi Sumatra Barat pada atlasmu dan buatlah daftar yang menginformasikan data penting tentang Provinsi Sumatra Barat seperti letak, luas, batas-batas, dan kota-kota besarnya.
5. Buatlah laporan tertulisnya untuk didiskusikan dengan kelompok lain di kelas!



# Mempertahankan Kemerdekaan Indonesia

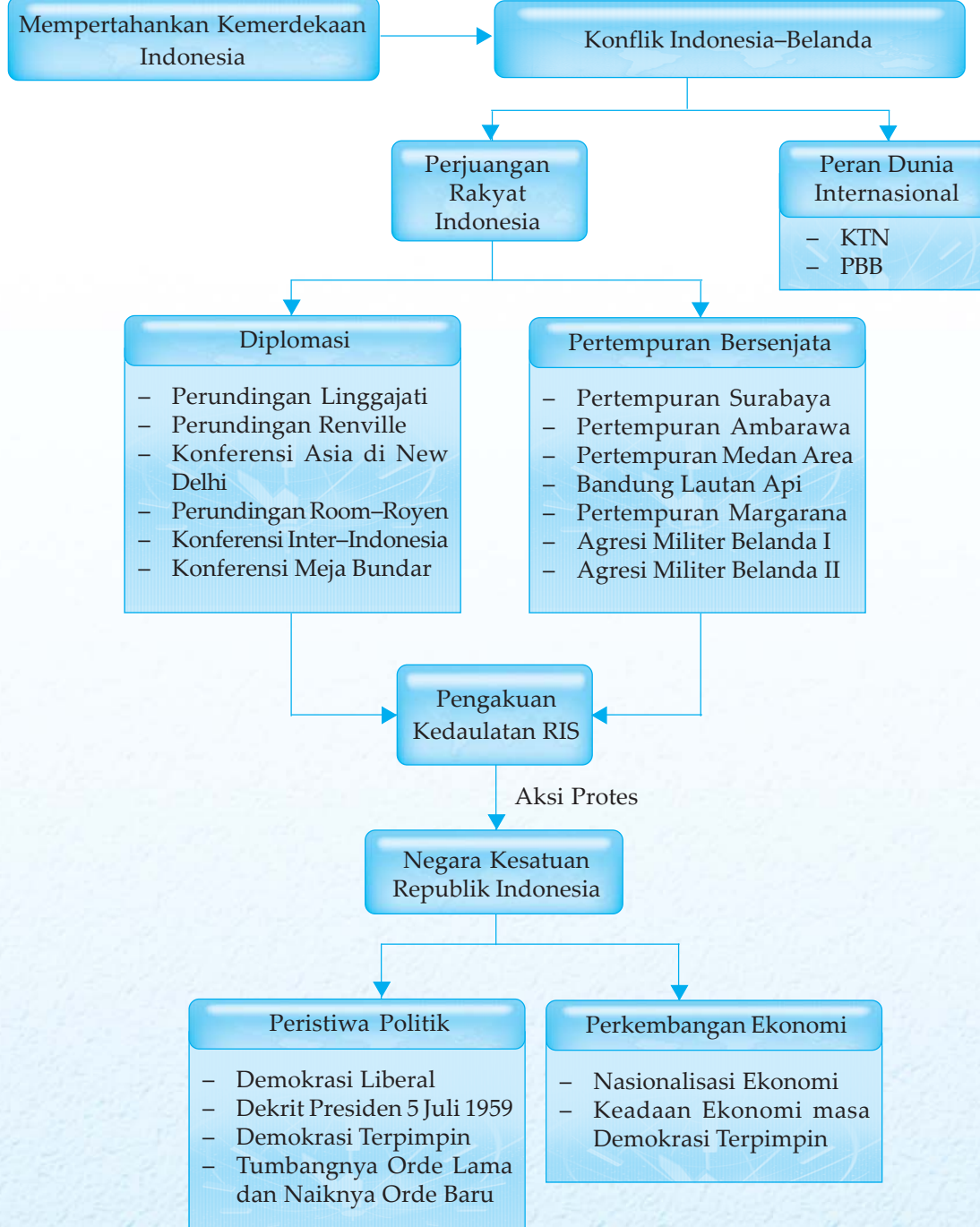


Perjuangan rakyat Indonesia dalam mempertahankan kemerdekaan dilakukan dengan berbagai cara. Pertempuran yang terjadi di berbagai tempat menunjukkan perlawanan yang dilakukan rakyat. Namun, perjuangan diplomasi yang dilakukan dengan mengadakan perundingan-perundingan juga tidak kalah pentingnya. Perundingan-perundingan dilakukan untuk menarik dukungan internasional terhadap perjuangan bangsa Indonesia dalam mempertahankan kemerdekaannya.

Pada bab ini kamu akan belajar mengenai usaha-usaha yang dilakukan bangsa Indonesia dalam mempertahankan kemerdekaan, beserta keadaan dan peristiwa politik-ekonomi setelah kembali ke Negara Kesatuan Republik Indonesia.



# Peta Konsep



## Kata Kunci

- Dekrit Presiden 5 Juli 1959
- perjuangan diplomasi
- perjuangan bersenjata
- demokrasi Liberal
- demokrasi terpimpin



Di dalam perjalanan sejarah Indonesia setelah proklamasi kemerdekaan, bangsa Indonesia memasuki masa revolusi fisik. Upaya mempertahankan kemerdekaan Indonesia melewati berbagai peristiwa yaitu pelucutan senjata Jepang, menghadapi tentara Sekutu dan *Netherlands Indies Civil Administration* (NICA), serta perjuangan politik untuk mendapatkan pengakuan internasional.

Perjuangan mempertahankan kemerdekaan bukanlah persoalan yang mudah. Perjuangan itu perlu mendapat dukungan dari semua elemen masyarakat untuk bersatu. Fase yang kurang lebih berlangsung selama lima tahun ini kemudian dikenal dengan sebutan "*fase revolusi fisik untuk mempertahankan kemerdekaan*".

## A. Konflik Indonesia dengan Belanda

Setelah Indonesia memproklamasikan kemerdekaannya, Belanda dengan membonceng tentara Sekutu ingin menancapkan kekuasaannya lagi di Indonesia. Hal itu mengakibatkan munculnya konflik antara Indonesia dengan Belanda.

### 1. Faktor Penyebab Konflik Indonesia–Belanda

Faktor-faktor yang menyebabkan terjadinya konflik antara Indonesia dengan Belanda setelah Proklamasi Kemerdekaan 17 Agustus 1945 antara lain sebagai berikut.

#### a. Misi Sekutu yang Pertama


Pada tanggal 16 September 1945, pasukan Sekutu dengan dipimpin Laksamana Muda Petterson mendarat di Tanjung Priok dengan kapal *Cumberland* milik Inggris. Dalam rombongan itu juga terdapat C.H.O. Van der Plas sebagai wakil dari van Mook. Selanjutnya pasukan Sekutu membagi daerah masing-masing divisi. Kedatangan pasukan Sekutu yang diboncengi NICA menunjukkan bukti bahwa Sekutu mendukung pendudukan kembali Belanda di Indonesia. Hal ini membuat mereka menghadapi berbagai pertempuran dengan rakyat Indonesia yang tidak mau lagi dijajah Belanda.

#### b. Pendaratan Tentara Sekutu ke Indonesia

Divisi yang bertugas mengambil alih Indonesia dari tangan Jepang bernama *Allied Force Netherlands East Indies* (AFNEI), pimpinan Letnan Jenderal Sir Phillip Christison.

Tugas AFNEI yaitu menerima penyerahan kekuatan bersenjata Jepang, membebaskan tawanan perang Sekutu dan sipil, melucuti senjata, serta mengumpulkan orang Jepang untuk dikirim kembali ke Jepang. Selain itu, AFNEI juga bertugas membangun keamanan dan ketertiban di Indonesia sebelum berfungsinya kembali pemerintah sipil.

Pihak pemerintah Indonesia menginstruksikan agar tidak



**Gambar 2.1** Van der Plas, wakil van Mook.

**Sumber:** 30 Tahun Indonesia Merdeka

### Wawasan Sosial

Panglima AFNEI Letnan Jenderal Christison melakukan perundingan dengan pemerintah Republik Indonesia pada tanggal 25 Oktober 1945, dan mengeluarkan pernyataan yang pada hakikatnya mengakui secara *de facto* negara Republik Indonesia.





**Gambar 2.2** Anggota tentara Sekutu yang ditugaskan di Indonesia di bawah pimpinan Letjend Christison.

**Sumber:** 30 Tahun Indonesia Merdeka

berurusan dengan pasukan Sekutu, apalagi berbagai pihak sudah merasa curiga dengan tujuan-tujuan Sekutu. Pihak Sekutu, Laksamana Muda Petterson menyatakan bahwa pasukan Sekutu datang ke Indonesia untuk melindungi rakyat dan menegakkan kembali hukum Belanda sebelum pemerintahan sipil berfungsi. Bahkan diperkuat oleh pernyataan Letjend. Christison yang mengemukakan bahwa penggunaan pasukan Sekutu sangat diperlukan untuk keamanan dan ketertiban. Namun, setelah penyampaian pernyataan itu ternyata ditindaklanjuti dengan pendaratan pasukan Belanda. Tentu saja hal tersebut membuat pemimpin nasionalis Indonesia marah dan memperingatkan tentara Sekutu agar menghentikan pendaratan pasukan Belanda yang mereka lindungi. Rakyat juga sudah curiga akan kedatangan Sekutu yang diboncengi pasukan Belanda sebagai suatu usaha untuk menggulingkan pemerintahan republik yang baru berdiri.

Tampaknya peringatan pemimpin Indonesia tidak didengar. Semakin hari jumlah pasukan Belanda semakin besar. Mereka sudah mulai banyak yang berpatroli di berbagai sudut Kota Jakarta dan melakukan berbagai kekerasan terhadap penduduk, seperti penembakan dan perampasan rumah.

#### c. Pertempuran-Pertempuran Awal

Sikap tentara Sekutu yang melindungi pendaratan Belanda, mendorong para pemuda dan badan-badan perjuangan untuk segera mengorganisasi diri dan membagi kelompok menjadi satuan-satuan tempur kecil. Penyerangan terhadap patroli Belanda dan Inggris semakin sering terjadi, sehingga semakin mendorong kegiatan para pemuda untuk mendapatkan senjata dengan menyerang dan melucuti senjata Jepang.

Dengan adanya bentrokan antara para pemuda dengan pasukan Belanda dan Inggris, menjadikan penegakan keamanan dan ketertiban menjadi tujuan utama tentara Sekutu. Sementara tugas untuk melucuti senjata pasukan Jepang akan dilaksanakan setelah keamanan dan ketertiban dapat dipulihkan. Pasukan Sekutu terus bergerak untuk menguasai kota-kota yang dikuasai oleh pasukan Republik. Hal tersebut membuat situasi semakin runyam sehingga memunculkan berbagai pertempuran besar antara Sekutu (Inggris dan Belanda) yang dibantu pasukan Jepang menghadapi pasukan dan pemuda Indonesia.

## 2. Peran Dunia Internasional dalam Konflik Indonesia-Belanda

Berikut ini adalah peran lembaga internasional dalam membantu penyelesaian konflik antara Indonesia dengan Belanda.

### Tugas Mandiri

1. Sebutkan tugas pasukan Sekutu (AFNEI) di Indonesia!
2. Mengapa rakyat Indonesia tidak menyukai kedatangan pasukan Sekutu?



a. Peran Komisi Tiga Negara

Akibat Belanda melanggar ketentuan gencatan senjata, PBB mengambil inisiatif untuk mengajak pihak-pihak yang bertikai ke meja perundingan. Perundingan berlangsung ditengahi oleh komisi jasa baik yang dibentuk PBB, yaitu KTN (Komisi Tiga Negara). Komisi jasa baik ini diwakili oleh Australia, Amerika Serikat, dan Belgia. Komisi Tiga Negara dibentuk untuk menyelesaikan konflik Indonesia–Belanda. Dalam perundingan tersebut, Indonesia menunjuk Australia, Belanda menunjuk Belgia, sedangkan yang menjadi penengah adalah Amerika Serikat. Tugas KTN adalah mengawasi secara langsung penghentian tembak-menembak sesuai resolusi Dewan Keamanan PBB. Kesulitan yang dihadapi KTN adalah garis van Mook, karena Belanda tetap mempertahankan garis van Mook yaitu suatu garis yang menghubungkan pucuk-pucuk pasukan Belanda yang maju sesudah perintah Dewan Keamanan PBB untuk menghentikan tembak-menembak.

b. Peran PBB

Konflik yang terjadi antara Indonesia dengan Belanda semakin berlarut-larut tanpa penyelesaian. Gagalnya peran Komisi Tiga Negara dalam menengahi konflik Indonesia–Belanda tersebut menyebabkan permasalahan ini langsung ditangani oleh PBB. Desakan masyarakat internasional melalui resolusi yang dihasilkan dalam Konferensi Asia menyebabkan PBB mengeluarkan suatu resolusi tentang penyelesaian konflik Indonesia–Belanda. Amerika Serikat pun turut serta memberi dukungan atas resolusi PBB tersebut.

Isi resolusi Dewan Keamanan PBB pada tanggal 28 Januari 1949, antara lain sebagai berikut.

- 1) Penghentian semua operasi militer dengan segera oleh Belanda dan penghentian semua aktivitas gerilya oleh Republik. Kedua belah pihak harus bekerja sama untuk mengadakan perdamaian kembali.
- 2) Pembebasan dengan segera dan tidak bersyarat semua tahanan politik di daerah Republik oleh Belanda semenjak tanggal 19 Desember 1946.
- 3) Belanda harus memberikan kesempatan kepada pembesar-pembesar pemerintah Republik Indonesia untuk kembali ke Jogjakarta dengan segera.
- 4) Perundingan-perundingan akan dilakukan dalam waktu yang secepat-cepatnya.
- 5) KTN (Komisi Tiga Negara) berganti namanya menjadi Komisi Perserikatan Bangsa-Bangsa untuk Indonesia (UNCI).

UNCI (*United Nations Commissions for Indonesia*) bertugas membantu melancarkan perundingan-perundingan untuk mengurus pengembalian kekuasaan pemerintah Republik Indonesia, serta mengamati pemilihan dan berhak



**Gambar 2.3** Anggota Misi Militer KTN dengan perwira penghubung TNI di daerah Sumatra Tengah pada tahun 1947.

**Sumber:** 30 Tahun Indonesia Merdeka



### Tugas Bersama

Dalam perjuangan kemerdekaan, mengapa Indonesia membutuhkan dukungan internasional? Lakukan diskusi dengan temanmu sebangku!

mengajukan usul-usul mengenai berbagai hal yang dapat membantu tercapainya penyelesaian. Peran UNCI lainnya yaitu menindaklanjuti Perundingan Roem Royen dengan menyelenggarakan Konferensi Meja Bundar (KMB) di Den Haag setelah pemerintah RI kembali ke Jogjakarta.



## B. Usaha Perjuangan Mempertahankan Kemerdekaan Indonesia

Revolusi Indonesia memiliki pola dan struktur perjuangan yang tidak seragam. Hal itu dapat dilihat dengan adanya strategi diplomasi dan perjuangan bersenjata, bahkan ada yang menggunakan revolusi sosial dengan pihak yang menentangnya.

Namun di balik perbedaan pendapat tersebut, pada kenyataannya cara bertempur dan berunding tetap digunakan. Bahkan, secara langsung maupun tidak langsung kedua cara itu saling mendukung.

### 1. Perjuangan di Berbagai Daerah dalam Usaha Mempertahankan Kemerdekaan Indonesia

Setelah Proklamasi Kemerdekaan Indonesia 17 Agustus 1945, perjuangan bangsa Indonesia belum selesai. Bangsa Indonesia masih berjuang melawan kekuatan-kekuatan yang ingin menghancurkan negara yang baru saja berdiri itu.

Berikut adalah pertempuran-pertempuran dalam mempertahankan kemerdekaan.

#### a. Pertempuran Surabaya

Pendaratan tentara Sekutu (Inggris) Brigade 49 yang berasal dari divisi India ke-23 di Surabaya pada awalnya hanya bertugas untuk melucuti serdadu Jepang dan menyelamatkan tawanan Sekutu. Tentara Sekutu yang dipimpin oleh Brigjen A.W.S. Mallaby berhasil mengadakan pertemuan dengan pemerintah Indonesia dan menghasilkan kesepakatan sebagai berikut.

- 1) Inggris menjamin bahwa dalam pasukannya tidak terdapat tentara NICA (Belanda).
- 2) Adanya jaminan dari kedua belah pihak terhadap keamanan dan ketenteraman dalam bentuk kerja sama.
- 3) Untuk mendukung upaya kerja sama tersebut, maka akan segera dibentuk Kontak Biro.
- 4) Inggris berjanji hanya akan melucuti senjata Jepang.

Tetapi pada perkembangan selanjutnya Inggris telah mengingkari janji. Terbukti pada tanggal 26 Oktober 1945, lebih dari satu peleton pasukan Inggris menyerbu penjara Kalisosok guna membebaskan seorang perwira perang RAPWI (*Relief of Prisoners of War and Internees*). Keesokan harinya, tanggal 27 Oktober 1945 Sekutu menduduki



### Wawasan Sosial

Brigade 49/Divisi India ke-23 tentara Sekutu (AFNEI) di bawah komando Brigadir Jenderal A.W.S. Mallaby untuk pertama kali mendarat di Surabaya tanggal 25 Oktober 1945. Maka dimulailah rangkaian peristiwa terjadinya Pertempuran Surabaya.



Pangkalan Udara Tanjung Perak, Kantor Pos Besar, Gedung Internatio, dan beberapa objek vital lainnya.

Tindak provokatif ini akhirnya memupuskan kepercayaan pemerintah Indonesia terhadap Inggris di Surabaya, sekaligus menyulut pertempuran. Dalam pertempuran tersebut hampir saja memusnahkan pasukan Inggris, sebelum Soekarno memerintahkan gencatan senjata pada tanggal 30 Oktober atas permintaan Inggris. Namun, keadaan kembali memanas setelah Brigadir Jenderal Mallaby tewas dalam tembak-menembak antara Tentara Keamanan Rakyat (TKR) dengan Inggris.

Untuk membangkitkan semangat rakyat, Bung Tomo menyerukan agar rakyat Surabaya tidak takut dan tidak menyerah terhadap ancaman Sekutu. Keberanian rakyat Surabaya diperingati setiap tanggal 10 November sebagai Hari Pahlawan.

b. Pertempuran Ambarawa

Pertempuran Ambarawa diawali oleh mendaratnya tentara Sekutu di bawah pimpinan Brigadir Jenderal Bethel di Semarang pada tanggal 20 Oktober 1945. Kedatangan mereka disambut dengan baik oleh masyarakat Semarang karena tujuan mereka adalah untuk mengambil dan mengurus tawanan Jepang. Mereka pun berjanji tidak mengganggu kedaulatan RI. Namun, pertempuran demi pertempuran terjadi di Magelang dan Ambarawa antara pasukan Sekutu dan NICA dengan TKR. Hal ini dipicu oleh pihak Sekutu yang secara sepihak membebaskan interniran Belanda di Magelang dan Ambarawa. Kemudian Presiden Soekarno dan Brigadir Jenderal Bethel berunding, hasilnya pasukan Sekutu mundur ke Ambarawa pada tanggal 21 November 1945. Gerakan mundur pasukan Sekutu tertahan oleh serangan dari pasukan TKR yang dipimpin Sastrodihardjo di Desa Jambu. Di Desa Ngipik pun mereka dihadang lagi oleh Batalyon I Surjosumpeno. Komandan Resimen Banyumas Kolonel Isdiman gugur ketika mencoba membebaskan dua desa yang dikuasai Sekutu. Karena Isdiman gugur, maka pimpinan diambil alih oleh Soedirman. Beliau menggunakan taktik untuk menyerang semua posisi Sekutu secara bersamaan. Sampai pada akhirnya tanggal 12 Desember 1945 pasukan Sekutu harus mundur ke Semarang.

c. Pertempuran Medan Area

Berita proklamasi baru sampai di Medan pada tanggal 22 Agustus 1945 dibawa oleh Gubernur Sumatra Mr. Teuku M. Hassan. Gubernur ditugaskan untuk menegakkan kedaulatan RI dengan membentuk Komite Nasional Indonesia Wilayah Sumatra.

Pasukan Sekutu yang diboncengi oleh serdadu Belanda dan NICA mendarat di Medan pada tanggal 9 Oktober 1945 dipimpin oleh Brigadir Jenderal T.E.D. Kelly bertujuan



**Gambar 2.4** Bung Tomo, pemimpin perjuangan rakyat Surabaya.

**Sumber:** 30 Tahun Indonesia Merdeka



**Gambar 2.5** Teuku Moh. Hasan

**Sumber:** 30 Tahun Indonesia Merdeka



## Tugas Mandiri

Apa alasan para pejuang Bandung membumihanguskan Kota Bandung Selatan?

mengambil alih pemerintahan. Pertempuran pertama meletus pada tanggal 13 Oktober 1945 antara para pemuda dengan pasukan Belanda yang dikenal dengan Pertempuran Medan Area. Pertempuran semakin meluas yang menyebabkan Sekutu membuat larangan masyarakat untuk membawa senjata. Bahkan semua senjata yang ada harus diserahkan kepada Sekutu. Pada tanggal 10 Desember 1945, Sekutu melancarkan operasi militer yang berdampak pada pertempuran dengan pasukan TKR dan para pemuda.

### d. Bandung Lautan Api

Pasukan Sekutu yang datang pada bulan Oktober 1945 menghendaki senjata-senjata yang didapatkan para pemuda agar diserahkan kepada Sekutu. Karena perintah itu tidak diindahkan oleh para pemuda, maka pada tanggal 21 November 1945 pasukan Sekutu mengultimatum agar mengosongkan Bandung Utara yang berujung pada seringnya terjadi insiden antara Sekutu dengan para pemuda. Akhirnya Bandung Utara dapat dikuasai pasukan Belanda, sedangkan Bandung Selatan tetap dikuasai oleh pasukan TKR. Sekutu mengeluarkan ultimatum kedua pada tanggal 23 Maret 1946. Para pemuda terpaksa meninggalkan Kota Bandung atas perintah pemerintah RI dengan terlebih dahulu membakar Bandung Selatan, lalu mundur ke luar kota. Peristiwa itu kemudian dikenal dengan "*Bandung lautan Api*".

### e. Pertempuran Margarana di Bali

Akibat Perjanjian Linggajati, maka daerah Bali bukan lagi termasuk wilayah RI. Ketika Belanda hendak membentuk negara boneka yaitu Negara Indonesia Timur, Letnan Kolonel Ngurah Rai ditawarkan untuk bekerja sama dengan Belanda. Namun, tawaran itu ditolak mentah-mentah oleh beliau. Bahkan, pada tanggal 18 November 1946 Ngurah Rai menyerang pasukan Belanda. Belanda membalasnya dengan mengerahkan semua kekuatan di Bali dan Lombok, lengkap dengan pesawat terbang. Pertempuran yang dikenal dengan Pertempuran Puputan itu dimenangkan Belanda, dan Ngurah Rai gugur beserta anak buahnya.

## 2. Aktivitas Diplomasi Indonesia untuk Mempertahankan Kemerdekaan

Berikut ini merupakan cara diplomasi yang dilakukan Indonesia dengan Belanda.

### a. Perundingan Linggajati

Perundingan Linggajati yang diadakan oleh pemerintah Indonesia dan Belanda pada tanggal 10 November 1946 dan ditandatangani secara resmi pada tanggal 25 Maret 1947 menghasilkan perjanjian yang disebut dengan Perjanjian Linggajati yang isi pokoknya adalah sebagai berikut.



- 1) Belanda mengakui secara *de facto* Republik Indonesia dengan wilayah kekuasaan meliputi Sumatra, Jawa, dan Madura. Belanda sudah harus meninggalkan daerah *de facto* paling lambat tanggal 1 Januari 1949.
- 2) Republik Indonesia dan Belanda akan bekerja sama dalam membentuk Negara Indonesia Serikat dengan nama Republik Indonesia Serikat, di mana salah satu negara bagiannya adalah Republik Indonesia.
- 3) Republik Indonesia Serikat dan Belanda akan membentuk Uni Indonesia Belanda dengan ratu Belanda sebagai ketuanya.

Pada Perundingan Linggajati, delegasi Indonesia dipimpin Sutan Syahrir dan delegasi Belanda dipimpin Prof. Schermerhorn. Sementara itu Inggris yang menjadi penengah mengirim Lord Killearn.

Anggota delegasi Indonesia terdiri atas Moh. Roem, Susanto Tirtoprojo, AG. Pringgodigdo, J. Leimena, AK. Gani, Amir Syarifudin, dan Ali Budiharjo. Sedangkan delegasi Belanda terdiri atas M. van Poll dan Dr. van Mook

Akibat Perjanjian Linggajati bagi Indonesia adalah sebagai berikut.

- 1) Sisi positif, setelah Belanda mengakui wilayah RI secara *de facto*, beberapa negara menyampaikan pengakuan kedaulatan RI (Mesir, Lebanon, Suriah, dan lain-lain).
- 2) Sisi negatif, menimbulkan pro dan kontra dalam anggota KNIP serta jatuhnya Kabinet Syahrir.

#### b. Perundingan Renville

Perundingan Renville diselenggarakan tanggal 8 Desember 1947 di geladak kapal perang Amerika USS Renville. Delegasi Indonesia dipimpin oleh PM. Amir Syarifudin dan delegasi Belanda dipimpin R. Abdul Kadir Widjoatmodjo.

Delegasi Indonesia pada perundingan ini antara lain Amir Syarifudin, Dr. J. Leimena, dan Ali Sastroamidjoyo. Perundingan itu menghasilkan sebuah Perjanjian Renville yang ditandatangani pada tanggal 17 Januari 1948. Perjanjian Renville terdiri atas 10 pasal persetujuan gencatan senjata, 12 pasal prinsip politik, dan 6 pasal prinsip-prinsip tambahan. Isi Perjanjian Renville antara lain sebagai berikut.

- 1) Segera dikeluarkan perintah penghentian tembak-menembak di sepanjang garis *van Mook*.
- 2) Penghentian tembak-menembak segera diikuti dengan perjanjian peletakan senjata dan pembentukan daerah-daerah kosong militer.
- 3) RI menyetujui dibentuknya RIS dengan masa peralihan.
- 4) Daerah RI yang diduduki Belanda dari agresi pertama harus diakui oleh Indonesia sebagai daerah pendudukan Belanda.

### Wawasan Sosial

Perjanjian Linggajati ditentang oleh beberapa partai seperti PNI, Masyumi, Partai Rakyat Indonesia, Partai Rakyat Jelata, dan Partai Wanita. Partai penentang ini selanjutnya mendirikan organisasi Benteng Republik Indonesia.



## Wawasan Sosial

Dalam Perjanjian Renville, pihak Belanda sengaja mengangkat orang Indonesia sebagai ketua, sekretaris, dan anggota delegasi untuk menimbulkan kesan bahwa pertikaian yang sesungguhnya terjadi antara orang Indonesia sendiri dan Belanda hanya bertindak sebagai penengah.



**Gambar 2.6** Suasana perundingan di atas kapal Renville.

**Sumber:** 30 Tahun Indonesia Merdeka

Perjanjian ini sangat merugikan pihak Indonesia karena wilayah Indonesia menjadi sempit dan dikepung oleh wilayah-wilayah yang dikuasai Belanda dengan garis van Mook. Apalagi Indonesia harus menghadapi blokade ekonomi dari Belanda yang membuat posisi Indonesia semakin sulit.

### c. Konferensi Asia di New Delhi

Konferensi yang diprakarsai oleh Birma dan India ini merupakan bentuk dukungan negara-negara Asia terhadap kemerdekaan Indonesia sekaligus merupakan tekanan internasional bagi Belanda. Konferensi yang dilaksanakan tanggal 20 sampai 23 Januari 1949 ini dihadiri negara-negara Afrika dan Australia yang menghasilkan resolusi sebagai berikut.

- 1) Pengembalian pemerintah Republik Indonesia ke Jogjakarta.
- 2) Pembentukan pemerintahan interim yang mempunyai kemerdekaan dan politik luar negeri, sebelum tanggal 15 Maret 1949.
- 3) Penarikan tentara Belanda dari seluruh wilayah Indonesia.
- 4) Penyerahan kedaulatan kepada pemerintah Indonesia Serikat paling lambat tanggal 1 Januari 1950.

### d. Perundingan Roem-Royen

Lahirnya Perundingan Roem-Royen merupakan tindak lanjut dari resolusi Dewan Keamanan PBB yang sebelumnya telah didahului dengan perundingan di Hotel Des Indes Jakarta pada tanggal 14 April 1949. Dalam perundingan ini delegasi Republik Indonesia dipimpin Moh. Roem dengan anggota Ali Sastroamidjojo, Dr. J. Leimena, Djoeanda, Soepomo, dan Latuharhary. Delegasi Belanda dipimpin oleh van Royen yang didampingi N. Blom, A. Jacob, dan J.J. van der Velde. Sementara itu wakil dari PBB (UNCI) adalah Merle Cochran.



**Gambar 2.7** Suasana Konferensi Asia di New Delhi yang membicarakan masalah Indonesia.

**Sumber:** 30 Tahun Indonesia Merdeka



Perundingan Roem-Royen mencapai kesepakatan tanggal 7 Mei 1949 dengan melahirkan persetujuan yang kemudian dikenal dengan nama "*Roem-Royen statements*". Adapun isi pokok persetujuan tersebut adalah sebagai berikut.

- 1) Delegasi Indonesia menyatakan kesediaan pemerintah RI untuk berikut ini.
  - a) Menghentikan perang gerilya.
  - b) Bekerja sama dalam mengembalikan perdamaian serta menjaga ketertiban dan keamanan.
  - c) Turut serta dalam Konferensi Meja Bundar (KMB) di Den Haag.
- 2) Delegasi Belanda menyetujui untuk berikut ini.
  - a) Mengembalikan pemerintahan RI di Jogjakarta.
  - b) Menjamin penghentian gerakan-gerakan militer dan membebaskan semua tawanan perang.
  - c) Tidak akan mendirikan atau mengakui negara-negara di daerah yang dikuasai RI sebelum tanggal 19 Desember 1948 dan tidak akan meluaskan negara atau daerah dengan merugikan penduduk.
  - d) Menyetujui adanya Republik Indonesia sebagai bagian dari Negara Indonesia Serikat.
  - e) Berusaha untuk segera mengadakan Konferensi Meja Bundar (KMB) sesudah pemerintah republik ke Jogjakarta.

Perjanjian itu sangat menguntungkan Indonesia karena Belanda harus meninggalkan Jogjakarta, sehingga TNI dapat memasuki Jogjakarta. Presiden dan wakilnya serta pejabat tinggi pun dibebaskan dan dapat kembali ke Jogjakarta.

Dengan situasi seperti itu, maka Jenderal Soedirman dapat kembali ke Jogjakarta dan Pemerintah Darurat Republik Indonesia (PDRI) menyerahkan kembali mandatnya kepada Presiden RI di Jogjakarta.

e. Konferensi Inter-Indonesia

Konferensi Inter-Indonesia diadakan pada tanggal 19–22 Juli di Jogjakarta dan pada tanggal 30 Juli sampai tanggal 2 Agustus 1949 di Jakarta. Penyelenggaraan Konferensi Inter-Indonesia ini dilatarbelakangi oleh keinginan menjalin persatuan dan sikap bersama guna menghadapi Belanda dalam Konferensi Meja Bundar (KMB) nanti.

Pembicaraan dalam konferensi ini hampir semuanya mengenai masalah pembentukan Indonesia Serikat (RIS), terutama mengenai tata susunan dan hak pemerintah RIS di satu pihak, serta hak negara-negara bagian di lain pihak.

Konferensi yang diselenggarakan antara wakil-wakil Republik Indonesia dengan pemimpin-pemimpin *Bijeenkomst Voor Federal Overleg* (BFO) ini menghasilkan kesepakatan sebagai berikut.



**Gambar 2.8** Setiba di Jogjakarta Jenderal Soedirman langsung menemui presiden dan wakil presiden.

**Sumber:** 30 Tahun Indonesia Merdeka

### Tugas Mandiri

Apakah makna yang dapat diambil dengan kembalinya presiden, wakil presiden, dan para pejabat tinggi ke Jogjakarta?





**Gambar 2.9** Suasana Konferensi Inter-Indonesia pertama di Jogjakarta.

**Sumber:** 30 Tahun Indonesia Merdeka



**Gambar 2.10** Konferensi Meja Bundar yang berlangsung di Den Haag, Belanda.

**Sumber:** Ensiklopedi Umum untuk Pelajar

- 1) BFO mendukung tuntutan RI atas penyerahan kedaulatan tanpa ikatan-ikatan politik ataupun ekonomi.
- 2) Angkatan Perang Republik Indonesia Serikat (APRIS) adalah angkatan perang nasional dan TNI menjadi inti dari APRIS.
- 3) Pertahanan negara adalah semata-mata hak pemerintah RIS, negara-negara bagian tidak mempunyai angkatan perang sendiri.
- 4) Negara Indonesia Serikat diganti namanya menjadi Republik Indonesia Serikat (RIS).

Dalam konferensi ini delegasi RI terdiri atas Moh. Hatta, Moh. Roem, Soepomo, J. Leimena, Ali Sastroamidjojo, Djoeanda, Soemitro Djojohadikoesoemo, Soekiman, Soejono Hadinoto, T.B. Simatupang, dan Soemardi. Sedangkan delegasi BFO dipimpin Sultan Hamid II dari Pontianak.

f. Konferensi Meja Bundar (KMB)

Konferensi Meja Bundar dilaksanakan tanggal 23 Agustus 1949 di Den Haag. Pihak Indonesia diwakili Drs. Moh Hatta, BFO dipimpin oleh Sultan Hamid II, Belanda diketuai Mr. van Maarseveen, dan UNCI oleh Chritchley sebagai peninjau. Konferensi tersebut menghasilkan keputusan sebagai berikut.

- 1) Belanda akan mengakui RIS sebagai negara yang merdeka dan berdaulat selambat-lambatnya pada akhir Desember 1949.
- 2) Penyelesaian soal Irian Barat ditangguhkan sampai tahun berikutnya sesudah pengakuan kedaulatan.
- 3) RIS dan Belanda akan bekerja sama dalam suatu perserikatan yang dipimpin ratu Belanda atas dasar sukarela serta persamaan derajat dan hak.
- 4) RIS mengembalikan hak milik Belanda, memberi hak konsensi, dan izin baru bagi perusahaan-perusahaan Belanda.
- 5) Semua utang bekas Hindia Belanda harus dibayar oleh RIS.
- 6) Pembubaran KNIL, dan RIS akan membentuk angkatan perang dengan TNI sebagai inti kekuatannya.

Persetujuan KMB berhasil ditandatangani pada tanggal 2 November 1949. Kemudian tanggal 29 Oktober 1949, RI dan BFO melakukan penandatanganan piagam persetujuan Konstitusi RIS.

Dengan persetujuan hasil KMB, maka berdirilah negara Indonesia dalam bentuk federal dengan nama RIS (Republik Indonesia Serikat). Negara RIS terdiri dari negara-negara bagian, yaitu Negara Republik Indonesia, Negara Sumatra Timur, Negara Sumatra Selatan, Negara Pasundan, Negara Jawa Timur, Negara Madura, Negara Indonesia Timur, dan sembilan satuan kenegaraan, yaitu Kalimantan Barat,



Kalimantan Timur, Kalimantan Tenggara, Banjar, Dayak Besar, Bangka, Biliton, Riau, dan Jawa Tengah.

Pada tanggal 23 Desember 1949 delegasi Indonesia yang dipimpin oleh Moh. Hatta berangkat ke negeri Belanda untuk menandatangani naskah pengakuan kedaulatan dari pemerintah Belanda.

Selanjutnya Ratu Yuliana pada tanggal 27 Desember 1949 menandatangani piagam pengakuan kedaulatan RIS di Amsterdam. Pada saat yang bersamaan di Istana Merdeka Jakarta juga berlangsung penandatanganan pengakuan kedaulatan RIS dari Wali Tinggi Mahkota Belanda Lovink kepada wakil pemerintahan RIS Sri Sultan Hamengkubuwono IX.

Berbagai konferensi telah dilakukan oleh Indonesia dengan Belanda untuk menyelesaikan pertikaian. Keberhasilan tokoh-tokoh nasionalis Indonesia dalam perjuangan diplomasi memaksa Belanda keluar dari Indonesia. Setelah Belanda pergi, di dalam masyarakat muncul tuntutan-tuntutan untuk kembali ke bentuk negara kesatuan sesuai dengan amanat UUD 1945.

### Wawasan Sosial

Di samping rasa syukur bahwa perjuangan bersenjata telah berakhir, di kalangan masyarakat terdapat pula rasa tidak puas terhadap hasil-hasil yang dicapai dalam KMB. Memang terbukti kemudian bahwa Belanda telah meninggalkan bom-bom waktu yang akan mengganggu ketenteraman bangsa Indonesia dalam mengisi kemerdekaan.

## C. Kembalinya Republik Indonesia sebagai Negara Kesatuan

Posisi Republik Indonesia yang hanya merupakan salah satu negara bagian di dalam RIS secara tidak langsung telah memperlemah posisi dan kedudukan RI sendiri. Hal inilah yang diharapkan oleh Belanda. Karena walau bagaimanapun, negara-negara bagian bentukan Belanda tersebut tentu lebih memberikan dukungan kepada Belanda sebagai pembentuknya daripada kepada Pemerintah Republik Indonesia yang jelas-jelas berseberangan dengan Belanda.

Terbentuknya RIS mengakibatkan UUD 1945 hanya berlaku di Republik Indonesia yang berstatus sebagai salah satu negara bagian RIS. Sebagai undang-undang tertinggi, para pemimpin RI dan negara-negara bagian memberlakukan Konstitusi RIS. Kemudian, Ir. Soekarno diangkat sebagai presiden RIS dan Drs. Mohammad Hatta sebagai perdana menteri RIS. Karena diangkat sebagai presiden RIS, maka jabatan presiden RI kemudian dijalankan oleh Mr. Asaat dengan status sebagai pemangku tugas presiden RI.

Namun dalam perkembangannya, rencana Belanda untuk tetap menanamkan pengaruhnya di Indonesia justru gagal total. Ini disebabkan sebagian besar rakyat Indonesia yang sejak Proklamasi Kemerdekaan Indonesia mendukung Republik Indonesia, tidak menerima kenyataan bahwa negara yang mereka cintai hanya diakui sebagai salah satu negara bagian dalam RIS. Karena itu, muncul asumsi bahwa RIS merupakan negara bentukan Belanda, terutama karena adanya ketentuan pembentukan Uni Indonesia-Belanda yang dipimpin ratu Belanda.



Akhirnya, Uni Indonesia–Belanda yang semula diharapkan Belanda akan menjadi sarana untuk memengaruhi pemerintahan di Indonesia tidak memberikan hasil apapun. Sarana RIS sebagai negara federal yang mereka ciptakan pun ternyata tidak bisa bertahan lama. Segera setelah pengakuan kedaulatan RIS melalui hasil KMB, muncul berbagai aksi protes atas pendirian RIS di berbagai wilayah Indonesia.

Empat hari setelah didirikannya RIS, Dewan Perwakilan Rakyat Kabupaten Malang menyatakan diri keluar dari negara Jawa Timur dan kembali bergabung dengan Republik Indonesia. Kemudian disusul oleh Dewan Perwakilan Rakyat Kabupaten Sukabumi di Jawa Barat yang keluar dari Negara Pasundan. Rangkaian aksi protes dan keluarnya kabupaten-kabupaten di berbagai negara bagian terus memuncak, hingga Negara Pasundan dan Jawa Timur lenyap begitu saja.

Dalam berbagai aksi protes yang menuntut dikembalikannya bentuk negara kesatuan, banyak korban berjatuh di mana-mana. Puncak semua itu terjadi saat Mohammad Natsir mengajukan mosi dalam parlemen agar pemerintah RIS mengambil tindakan tegas.

Akhirnya, 13 dari 16 negara bagian RIS memenuhi tuntutan rakyat untuk membubarkan diri dan menyatakan bergabung dengan Republik Indonesia. Pada 14 Agustus 1950, Parlemen dan Senat RIS sebagai perwakilan rakyat mengesahkan pergantian Konstitusi RIS dengan Undang-Undang Dasar Sementara (UUDS) 1950. Setelah satu hari, Presiden RIS Soekarno menerima pengalihan mandat dari perdana menteri RIS dan kembali memangku jabatan presiden RI yang semasa RIS dijalankan oleh Mr. Asaat. Pada hari itu pula presiden menyatakan pembubaran RIS dan terbentuknya kembali Negara Kesatuan Republik Indonesia. RIS resmi dibubarkan pada tanggal 17 Agustus 1950.

### Tugas Mandiri

Sebutkan alasan rakyat Indonesia ingin kembali ke dalam bentuk negara kesatuan!



## **D. Peristiwa Politik Indonesia Pasca-pengakuan Kedaulatan**

Setelah sekian lama bangsa Indonesia berjuang menegakkan dan mempertahankan kemerdekaan dari rongrongan Sekutu dan Belanda yang masih ingin menancapkan kekuasaannya, akhirnya bangsa Indonesia berhasil kembali lagi pada cita-cita semula, yaitu pembentukan Negara Kesatuan Republik Indonesia.

Perjuangan bangsa Indonesia belum selesai dengan kembalinya ke bentuk Negara Kesatuan Republik Indonesia. Hal itu karena di negara kita muncul gerakan-gerakan yang berusaha untuk memecah belah Negara Kesatuan Republik Indonesia. Gerakan-gerakan itu justru muncul dari masyarakat kita sendiri.



Gerakan-gerakan itu mencoba memisahkan diri dan menghimpun kekuatan-kekuatan sendiri, baik secara sembunyi-sembunyi maupun secara terang-terangan. Mereka berusaha memengaruhi rakyat dan menyebarkan fitnah-fitnah yang menjadikan rakyat benci terhadap negara. Kelompok-kelompok yang berusaha memecah belah Negara Kesatuan Republik Indonesia itu melakukan berbagai pemberontakan. Pemberontakan tersebut antara lain pemberontakan PKI (Madiun) 1948 dan pemberontakan DI/TII.

### **1. Pemberontakan Partai Komunis Indonesia di Madiun 1948**

Pemberontakan ini dipimpin oleh Muso. Tujuan dilakukannya pemberontakan PKI Madiun adalah untuk meruntuhkan Negara Kesatuan Republik Indonesia dan menggantikannya dengan negara komunis. Pemberontakan ini dapat ditumpas pada 30 September 1948.

### **2. Pemberontakan Darul Islam (DI)/Tentara Islam Inonesia (TII)**

Pemimpin gerakan pembentuk negara Islam adalah Sekarmadji Marijan Kartosuwiryo. Pada perkembangan selanjutnya, ia diakui sebagai pimpinan tertinggi dari DI/TII di Jawa, Sumatra, dan Sulawesi. Gagasan mendirikan negara Islam Indonesia telah dicanangkan pada tahun 1942. Di Malangbong oleh Kartosuwiryo didirikan pesantren Sufah. Selain berfungsi sebagai pesantren, digunakan pula sebagai tempat latihan kemiliteran bagi pemuda Islam, khususnya Hizbulla dan Sabilillah maupun untuk menyebarluaskan propaganda pembentukan negara Islam.

Melalui majelis umat Islam yang kemudian dibentuk, Kartosuwiryo diangkat sebagai Imam dari Negara Islam Indonesia (NII). Selanjutnya dibentuk angkatan perang yang diberi nama Tentara Islam Indonesia (TII) yang ditempatkan di daerah pegunungan di sekitar Jawa Barat. Pada tanggal 7 Agustus 1949 Kartosuwiryo secara resmi menyatakan berdirinya Negara Islam Indonesia (NII) yang berlandaskan Kanun Asasi.

Gerakan DI/TII ini tidak hanya terjadi di Jawa Barat saja. Melainkan juga terjadi di daerah-daerah lain, yaitu Jawa Tengah, Aceh, Sulawesi Selatan, dan Kalimantan Selatan. Setiap daerah memiliki pemimpin-pemimpin sendiri. Gerakan DI/TII di Jawa Tengah dipimpin Amir Fatah, di Aceh dipimpin Daud Beureuh, di Sulawesi Selatan di pimpin oleh Khahar Muzakar, dan di Kalimantan Selatan dipimpin oleh Ibnu Hajar.

Berkat kegigihan serta semangat persatuan dan kesatuan bangsa Indonesia, berbagai gerakan tersebut bisa ditumpas. Dan, kita bisa kembali lagi ke Negara Kesatuan Republik Indonesia. Nah, setelah kembali ke Negara Kesatuan Republik Indonesia, bagaimanakah peristiwa politik di negara kita?



## 1. Masa Demokrasi Liberal

Diberlakukannya UUDS 1950 yang mengatur ketentuan bahwa Indonesia menganut sistem multipartai dan demokrasi liberal dengan corak pemerintahan kabinet parlementer mengakibatkan berbagai partai politik bermunculan bagai jamur di musim hujan.

### a. Pelaksanaan UUDS 1950 dan Sistem Multipartai

Dalam kabinet parlementer, pemerintahan sepenuhnya dijalankan oleh parlemen yang merupakan perwakilan rakyat melalui partai-partai politik. Karena banyaknya partai politik yang ada, maka pemerintahan mudah sekali goyah dan jatuh. Ini disebabkan partai politik tersebut saling berebut untuk memegang pemerintahan sehingga antarpolitical partai mencoba untuk saling menjatuhkan. Usia sebuah kabinet pun tidak pernah bertahan lama karena pada saat suatu partai memegang pucuk pemerintahan, maka partai lainnya akan mencoba menjatuhkan untuk mengambil alih kekuasaan pemerintahan.

Walau begitu, pada masa demokrasi liberal ada dua partai yang paling kuat, yakni Partai Masyumi (Majelis Syuro Muslimin Indonesia) dan PNI (Partai Nasional Indonesia). Pada saat tertentu, kedua partai tersebut berkoalisi, namun dalam beberapa kesempatan lainnya, kedua partai tersebut saling bersaing dan membentuk koalisi masing-masing dengan partai lainnya. Beberapa kabinet yang sempat terbentuk pada masa demokrasi liberal adalah sebagai berikut.

#### 1) Kabinet Natsir (September 1950–Maret 1951)

Kabinet ini merupakan kabinet pertama setelah kembali menjadi negara kesatuan. Kabinet ini dilantik pada tanggal 7 September 1950 dengan Moh. Natsir (Partai Masyumi) sebagai perdana menteri. Kabinet ini didominasi oleh orang-orang Partai Masyumi.



**Gambar 2.11** Anggota-anggota Kabinet Natsir bersama Presiden Soekarno dan Wakil Presiden Moh. Hatta.

**Sumber:** 30 Tahun Indonesia Merdeka

### Tugas Mandiri

Sebutkan sisi positif sistem multipartai semasa demokrasi liberal!



Kabinet ini jatuh karena mosi tidak percaya yang diajukan oleh PNI dalam parlemen, berkenaan dengan pencabutan peraturan pemerintah tentang DPRS dan DPRDS.

Program Kabinet Natsir adalah sebagai berikut.

- a) Menyempurnakan susunan pemerintahan.
- b) Meningkatkan dan memperkuat ekonomi rakyat.
- c) Memperjuangkan Irian Barat masuk ke dalam wilayah RI.

2) Kabinet Sukiman (April 1951–Februari 1952)

Kabinet ini dipimpin oleh Sukiman Wiryosanjoyo dari Masyumi dan Suwiryo dari PNI. Kabinet ini merupakan koalisi antara Partai Masyumi dengan PNI. Kabinet Sukiman jatuh karena mosi tidak percaya akibat dilaksanakannya kesepakatan antara Menteri Luar Negeri Soebandrio dengan duta besar Amerika Serikat. Hal ini disebabkan bantuan ekonomi dan militer menurut parlemen tidak sejalan dengan kebijakan politik luar negeri bebas aktif.

3) Kabinet Wilopo (April 1952–Juni 1953)

Kabinet ini dipimpin oleh Mr. Wilopo. Kabinet Wilopo disebut *zaken kabinet*, yakni kabinet yang terdiri atas para ahli di bidangnya. Kabinet Wilopo jatuh karena mosi tidak percaya akibat terjadinya Peristiwa Tanjung Morawa di Sumatra Utara, yakni peristiwa di mana para petani dan polisi terlibat bentrokan.

4) Kabinet Ali Sastroamijoyo I (Juli 1953–Juli 1955)

Kabinet ini dipimpin oleh Ali Sastroamijoyo dari PNI. Kabinet Ali Sastroamijoyo merupakan koalisi antara PNI dengan Partai Nahdatul Ulama (NU). Kabinet Ali Sastroamijoyo I jatuh karena Partai NU menarik dukungannya dan mosi tidak percaya yang diajukan parlemen tentang pergantian pucuk pimpinan angkatan darat. Keberhasilan kabinet ini adalah menyelenggarakan Konferensi Asia–Afrika.

5) Kabinet Burhanuddin Harahap (Agustus 1955–Maret 1956)

Kabinet ini dipimpin oleh Burhanuddin Harahap dari Masyumi. Pada masa kabinet inilah pemilu untuk pertama kalinya dilaksanakan di Indonesia, yaitu pada tahun 1955. Kabinet ini juga mencatat prestasi lainnya, yakni berhasil membubarkan Uni Indonesia–Belanda. Walau begitu, kabinet ini pun akhirnya jatuh karena kurang memperoleh banyak dukungan di parlemen.

6) Kabinet Ali Sastroamijoyo II (Maret 1956–Maret 1957)

Ali Sastroamijoyo kembali memimpin kabinet setelah jatuhnya kabinet Burhanuddin Harahap. Kabinet ini merupakan koalisi antara PNI dan Masyumi, dengan Partai NU. Kabinet Ali Sastroamijoyo II jatuh setelah banyak terjadi pergolakan di daerah yang berujung pada pemberontakan-pemberontakan bersenjata.



### Wawasan Sosial

Kabinet Ali Sastroamijoyo I mencatat prestasi tersendiri melalui penyelenggaraan Konferensi Asia Afrika pada tahun 1955. Konferensi Asia Afrika tahun 1955 menghasilkan Dasasila Bandung yang melatarbelakangi lahirnya Gerakan Nonblok.



#### 7) Kabinet Juanda (April 1957–Juli 1959)

Kabinet ini dipimpin oleh Ir. Juanda dan disebut juga dengan Kabinet Karya. Seperti halnya Kabinet Wilopo, kabinet ini merupakan *zaken kabinet* yang terdiri atas para ahli di bidangnya. Kabinet Juanda kemudian jatuh karena keluarnya Dekrit Presiden tanggal 5 Juli 1959. Program Kabinet Juanda disebut Panca Karya yang isi pokoknya adalah sebagai berikut.

- Membentuk dewan nasional.
- Normalisasi keadaan RI.
- Mempercepat pembangunan.
- Pembatalan Konferensi Meja Bundar (KMB).
- Memperjuangkan Irian Barat.

#### b. Perencanaan dan Pelaksanaan Pemilu

UUDS 1950 menekankan bahwa sistem yang digunakan di Indonesia adalah sistem demokrasi liberal. Namun suasana demokratis belum terasa sepenuhnya karena orang-orang yang duduk di parlemen bukanlah wakil rakyat yang sesungguhnya, melainkan orang-orang yang diutus oleh partai politik saja. Untuk menumbuhkan suasana demokrasi yang sesungguhnya, masyarakat menuntut diadakannya pemilihan umum (pemilu).

#### Tugas Mandiri

Apa yang kamu ketahui tentang pengertian partai oposisi? Bandingkan jawabanmu dengan jawaban temanmu!

#### Tugas Mandiri

Mengapa rakyat menginginkan diadakan pemilu?



**Gambar 2.12** Tanda-tanda gambar pada pemilihan umum pertama tahun 1955.  
**Sumber:** 30 Tahun Indonesia Merdeka

Pada masa Kabinet Ali Sastroamijoyo I, pemerintah mencoba merintis penyelenggaraan pemilu dengan membentuk Panitia Pemilu (Papilu) pada bulan Mei 1954. Papilu merencanakan pelaksanaan pemilu dalam dua tahap, yakni sebagai berikut.

- Pemilu tahap I diselenggarakan tanggal 29 September 1955 untuk memilih anggota DPR.
- Pemilu tahap II diselenggarakan tanggal 15 Desember 1955 untuk memilih anggota Badan Konstituante (lembaga yang bertugas menyusun undang-undang dasar).



Pemilu baru dapat terlaksana pada masa Kabinet Burhanudin Harahap tahun 1955. Lebih dari 40 juta rakyat Indonesia berduyun-duyun datang ke tempat pemungutan suara untuk memberikan suaranya. Terlepas dari segala pergolakan dan kekacauan pada masa tersebut, pemilu pertama dapat berjalan dengan tertib, jujur, dan adil tanpa diwarnai politik uang atau paksaan pihak mana pun. Oleh karena itu, banyak ahli politik yang menyatakan bahwa Pemilu 1955 sebagai pemilu paling demokratis yang pernah dilaksanakan sepanjang sejarah Indonesia.

Pemilu 1955 diikuti oleh 28 partai politik dan beberapa calon perorangan. Pemilu ini memperebutkan 272 kursi di DPR dan 520 kursi di Badan Konstituante. Pada pemilu ini, ada empat partai yang meraih kursi terbanyak. Keempat partai tersebut adalah Masyumi, PNI, PKI, dan NU.

Berikut ini perolehan kursi di DPR pada Pemilu 1955.

- 1) Masyumi dengan perolehan 60 kursi.
- 2) PNI dengan perolehan 58 kursi.
- 3) NU dengan perolehan 47 kursi.
- 4) PKI dengan perolehan 32 kursi.
- 5) Sisa 75 kursi lainnya terbagi atas partai-partai lain dan calon perorangan.

Adapun di Badan Konstituante, perolehan kursi adalah sebagai berikut.

- 1) Masyumi dengan perolehan 119 kursi.
- 2) PNI dengan perolehan 112 kursi.
- 3) NU dengan perolehan 91 kursi.
- 4) PKI dengan perolehan 80 kursi.
- 5) Sisa 118 kursi lainnya terbagi atas partai-partai lain dan calon perorangan.

Walau Pemilu 1955 terlaksana dengan baik dan demokratis, DPR dan Badan Konstituante tidak mampu menjalankan tugasnya dengan baik. Partai-partai yang duduk di DPR maupun Badan Konstituante cenderung mementingkan kepentingan kelompoknya daripada aspirasi rakyat. Oleh karena itu, stabilitas politik menjadi tidak menentu. Keadaan tersebut memicu timbulnya pergolakan di sejumlah daerah yang memunculkan berbagai pemberontakan. Krisis politik semakin memuncak, sehingga mendorong Presiden Soekarno mengeluarkan Dekrit Presiden 5 Juli 1959. Dekrit tersebut menandai berakhirnya masa demokrasi liberal di Indonesia.

## 2. Dekrit Presiden 5 Juli 1959

Setelah dilaksanakannya Pemilu 1955, Badan Konstituante mulai bersidang untuk menyusun undang-undang dasar sebagai pengganti UUDS 1950. Namun, hingga tahun 1958 sidang tidak kunjung usai. Perdebatan berlangsung berkepanjangan dalam



**Gambar 2.13** Suasana Pemilu 1955.  
**Sumber:** *Sejarah Nasional Indonesia IV*



setiap sesi persidangan karena tidak ada pihak yang mau mengalah. Salah satu sebab yang menjadi sumber perdebatan adalah dasar negara Indonesia yang hendak dicantumkan dalam undang-undang dasar yang baru.

Di tengah kondisi yang tidak menentu tersebut, pada tanggal 22 April 1959 Presiden Soekarno berpidato di tengah Sidang Badan Konstituante. Dalam pidatonya, presiden menyarankan agar Badan Konstituante menempuh langkah singkat dengan kembali ke UUD 1945. Guna merespon usul tersebut, Badan Konstituante melakukan pemungutan suara dalam dua periode, yaitu pada tanggal 29 Mei dan tanggal 2 Juni 1959. Dalam kedua pemungutan suara itu, tidak semua anggota Badan Konstituante hadir sehingga sidang tidak memenuhi kuorum. Hal ini mengakibatkan masalah semakin berlarut-larut.

Krisis pemerintahan pun terjadi dalam penyelenggaraan ketatanegaraan Indonesia. Hal tersebut diperburuk oleh terjadinya pergolakan-pergolakan di berbagai daerah karena keresahan masyarakat akan keadaan politik yang tidak menentu. Beberapa pergolakan berkembang menjadi pemberontakan yang bertujuan menjatuhkan pemerintahan yang sah.

Indonesia semakin berada di ambang kehancuran akibat berbagai pemberontakan yang timbul dan kegagalan Badan Konstituante untuk menyusun undang-undang dasar baru. Atas pertimbangan itu, maka pada 5 Juli 1959 Presiden Soekarno mengeluarkan sebuah dekrit.

Isi Dekrit Presiden 5 Juli 1959 adalah sebagai berikut.

- Membubarkan Badan Konstituante.
- Pencabutan UUDS 1950 dan pemberlakuan kembali UUD 1945 sebagai konstitusi negara Indonesia.
- Presiden akan segera membentuk MPR Sementara dan DPA Sementara.

Dekrit yang dikeluarkan Presiden Soekarno pada tanggal 5 Juli 1959 itu mendapat dukungan dari berbagai pihak. Mahkamah Agung juga membenarkan dekrit tersebut. Bahkan, DPR hasil Pemilu 1955 melakukan sidang untuk membahas dekrit tersebut pada tanggal 22 Juli 1959. Dari hasil sidang tersebut, DPR pun menyetujui Dekrit Presiden 5 Juli 1959 secara aklamasi dan menyatakan siap untuk bekerja berdasarkan UUD 1945. Sementara itu, dari kalangan militer juga memberikan dukungan. Hal itu ditunjukkan oleh Kepala Staf Angkatan Darat TNI dengan memerintahkan pada seluruh jajaran TNI-AD untuk melaksanakan dan mengamankan Dekrit Presiden 5 Juli 1959.

Sehubungan dengan pelaksanaan jalannya pemerintahan, Dekrit Presiden 5 Juli 1959 memberikan pengaruh yang luar biasa. Dengan diberlakukannya UUD 1945, Presiden Soekarno menyatakan bahwa demokrasi liberal ala Barat tidak cocok dengan jiwa bangsa Indonesia. Oleh karena itu, beliau mencoba menerapkan sistem demokrasi terpimpin.

### Tugas Mandiri

Sebutkan hal-hal apa saja yang melatarbelakangi presiden mengeluarkan Dekrit Presiden 5 Juli 1959!

### Tugas Mandiri

Apa sisi positif dikeluarkannya Dekrit Presiden 5 Juli 1959?



Sisi positif dikeluarkannya Dekrit Presiden 5 Juli 1959 adalah sebagai berikut.

- a. Menyelamatkan negara dari perpecahan dan krisis politik yang berkepanjangan.
- b. Memberi pedoman yang jelas (UUD 1945) bagi kelangsungan negara.
- c. Merintis pembentukan MPR Sementara dan DPA Sementara selama masa demokrasi liberal tertunda.



**Gambar 2.14** Presiden Soekarno sedang membacakan Dekrit Presiden 5 Juli 1959 di Istana Merdeka.

**Sumber:** 30 Tahun Indonesia Merdeka

### 3. Masa Demokrasi Terpimpin

Istilah demokrasi terpimpin berasal dari penggalan sila ke empat Pancasila yang berbunyi “Kerakyatan yang *dipimpin* oleh hikmat kebijaksanaan dalam permusyawaratan perwakilan”. Sejak itu, praktis kepemimpinan dan pemerintahan bertumpu kepada Presiden Soekarno. Namun setelah diberlakukannya UUD 1945 dan demokrasi terpimpin, presiden sangat mendominasi pemerintahan dan sangat menentukan segala urusan yang berkenaan dengan penataan kehidupan politik di Indonesia.

Akibat pemberlakuan demokrasi terpimpin, hakikat awal Dekrit Presiden 5 Juli 1959 untuk menata kembali kehidupan politik dan pemerintahan yang telah rusak pada masa demokrasi liberal mengalami penyimpangan. Pemerintahan cenderung menjadi sentralistik, karena terpusat pada presiden saja. Kondisi tersebut menjadikan posisi presiden sangat kuat dan berkuasa, sehingga berkali-kali terjadi penyimpangan dan pelanggaran terhadap UUD 1945 dalam penyelenggaraan pemerintahan Indonesia.

#### a. Pembentukan MPRS

Salah satu upaya yang dilakukan Presiden Soekarno untuk menata kembali pemerintahan Indonesia adalah membentuk Majelis Permusyawaratan Rakyat Sementara (MPRS) berdasarkan Penpres No.12 Tahun 1959. Menurut penpres tersebut, tugas MPRS terbatas pada kewenangan menetapkan GBHN.



### Tugas Mandiri

Apakah tugas MPRS yang dibentuk setelah keluarnya Dekrit Presiden 5 Juli 1959?

### Wawasan Sosial

Dengan berlakunya kembali UUD 1945, kemudian dibentuk kabinet dengan Ir. Juanda sebagai Menteri Pertama. Kabinet yang terbentuk dinamai *Kabinet Kerja* dengan program yang disebut *Tri Program*.

- Sandang pangan
- Keamanan
- Perjuangan merebut Irian Barat

Dalam kurun waktu 1959–1965, MPRS sempat melaksanakan Sidang Umum sebanyak tiga kali di Gedung Merdeka Bandung. Beberapa hasil Sidang Umum tersebut menunjukkan indikasi kuat bahwa MPRS hanya berfungsi untuk memperkuat posisi presiden dan tunduk pada segala keinginan presiden. Beberapa hasil persidangan tersebut adalah sebagai berikut.

- 1) Penetapan pidato presiden (Manifesto Politik Republik Indonesia) sebagai GBHN.
- 2) Pengangkatan Ir. Soekarno sebagai presiden seumur hidup.
- 3) Penetapan pidato presiden yang berjudul ‘Berdikari’ (Berdiri di Atas Kaki Sendiri) sebagai pedoman revolusi dan politik luar negeri Indonesia.

Ketetapan tersebut jelas sebuah pengingkaran terhadap UUD 1945. Karena GBHN merupakan hasil persidangan MPRS yang mengacu pada kepentingan dan kebutuhan rakyat, presiden hanya menjabat selama lima tahun, dan politik luar negeri Indonesia bersifat bebas aktif dan tidak memihak.

- b. Pembentukan DPRGR dan Pembubaran DPR Hasil Pemilu 1955

Presiden membubarkan DPR hasil pilihan rakyat pada Pemilu 1955. Hal ini disebabkan DPR menolak RAPBN tahun 1960 yang diajukan pemerintah. Untuk mengganti DPR, presiden membentuk DPRGR (Dewan Perwakilan Rakyat Gotong Royong). Melalui Penpres No. 24 Tahun 1960 seluruh anggota DPRGR diangkat oleh presiden. Akibatnya, DPRGR pun sangat berpihak pada pemerintah serta mengikuti seluruh kebijakan dan keputusan pemerintah.

Pembubaran DPR hasil pilihan rakyat pada Pemilu 1955 merupakan sebuah pengkhianatan aspirasi rakyat. Selain itu, pembubaran DPR oleh presiden sebenarnya merupakan pelanggaran serius terhadap UUD 1945, karena posisi DPR dan presiden adalah sejajar. Demikian pula dengan pengangkatan anggota DPRGR oleh presiden, karena anggota DPR seharusnya dipilih oleh rakyat.

- c. Pembentukan DPAS

Salah satu upaya lain yang dilakukan oleh Presiden Soekarno untuk menata pemerintahan adalah membentuk Dewan Pertimbangan Agung Sementara (DPAS) menurut Penpres No. 3 Tahun 1959. Pada pelaksanaannya, DPAS diketuai oleh presiden sendiri dan para anggotanya pun diangkat oleh presiden. Seperti halnya MPRS dan DPRGR, DPAS pun cenderung membela keinginan dan kebijakan pemerintah karena para anggotanya diangkat oleh presiden sendiri. Hal ini terbukti bahwa DPAS mengusulkan agar pidato presiden yang berjudul *Penemuan Kembali Revolusi Kita* dijadikan GBHN yang ditempatkan sebagai *Manifesto Politik Republik Indonesia*.



d. Penghapusan Jabatan Wakil Presiden

Sejak 1 Desember 1956, Wakil Presiden Mohammad Hatta mengundurkan diri dari jabatannya. Sejak itulah jabatan wakil presiden kosong. Selanjutnya Presiden menetapkan jabatan wakil presiden dihapuskan dan untuk menggantikannya, presiden membuat sebuah jabatan yang disebut *Menteri Pertama*. Pada 9 Juli 1959, presiden membentuk sebuah kabinet yang dinamakan Kabinet Kerja. Jabatan menteri pertama dalam kabinet tersebut dijabat oleh Ir. Juanda.

e. Ajaran Nasakom

Ketika memasuki masa demokrasi terpimpin presiden mencoba untuk merumuskan sebuah pemahaman kehidupan berbangsa dan bernegara yang menyatukan tiga paham utama di Indonesia, yakni nasionalis, agama, dan komunis. Pemahaman kehidupan berbangsa dan bernegara tersebut dinamakan ajaran Nasakom.

Presiden menyatakan bahwa Nasakom merupakan cermin kesatuan berbagai paham yang ada di Indonesia. Menurutnya, persatuan seluruh Indonesia dapat terwujud dengan menerima dan mengamalkan ajaran Nasakom. Sejak dicetuskannya ajaran Nasakom, pemerintah giat memasyarakatkan ajaran itu ke tengah-tengah masyarakat.

Pada kenyataannya, ajaran Nasakom ternyata dimanfaatkan oleh PKI untuk kepentingan-kepentingan penyebaran paham komunisme di Indonesia. Perlahan-lahan, ajaran Nasakom digunakan oleh PKI untuk menggusur Pancasila sebagai dasar negara.

f. Pembatasan Partai Politik

Ketika memasuki masa demokrasi terpimpin, presiden mencoba membatasi kegiatan partai-partai politik. Presiden mengeluarkan penpres yang isinya membatasi ruang gerak aktivitas politik. Partai politik yang tidak memenuhi syarat sesuai penpres akan dibubarkan. Akibatnya, dari 28 partai politik yang ada menjadi 11 partai saja.



**Gambar 2.15** Pimpinan Partai Masyumi dan PSI. Kedua partai tersebut kemudian dinyatakan sebagai partai terlarang.

**Sumber:** 30 Tahun Indonesia Merdeka

### Tugas Bersama

Lakukan diskusi dengan temanmu sebangku mengenai akibat ajaran Nasakom! Kumpulkan informasi sebanyak-banyaknya dari buku dan sumber yang lain!



## Wawasan Sosial

GANEFO diselenggarakan di Jakarta dari tanggal 10–12 November 1963. Pesta olahraga ini diikuti oleh 46 kontingen.

Pembatasan jumlah dan kegiatan partai politik semakin memperkuat kedudukan dan posisi presiden, karena tidak ada lagi kontrol dan kritik jalannya pemerintahan. Beberapa partai politik yang sering bersuara kritis terhadap kebijakan presiden pun dibubarkan.

Berdasarkan Keputusan Presiden No. 200 Tahun 1960 dan No. 201 Tahun 1960, pada tanggal 17 Agustus 1960 pemerintah membubarkan Partai Masyumi dan Partai Sosial Indonesia (PSI).

### g. Politik Poros dan Politik Mercusuar

Pemikiran presiden yang revolusioner ketika itu akhirnya membawa Indonesia menyimpang dari peran politik luar negeri bebas aktif yang ditandai dengan berbagai kebijakan yang menempatkan Indonesia lebih dekat dengan negara-negara blok Timur. Padahal, Indonesia merupakan salah satu negara anggota Gerakan Nonblok.

Pandangan politik presiden ketika itu menyatakan bahwa di dunia ini ada dua kekuatan yang saling berlawanan yakni kekuatan OLDEFO (*Old Emerging Forces*) atau blok Barat dan NEFO (*New Emerging Forces*) atau blok Timur. Menurut presiden, OLDEFO merupakan kekuatan lama yang beranggotakan negara-negara kolonialis yang bersifat kapitalis.

Sementara NEFO adalah kekuatan baru yang mewakili sikap antikolonialis dan antikapitalis. Presiden menetapkan bahwa Indonesia merupakan salah satu pilar kekuatan NEFO. Sejak itu, Indonesia cenderung menjaga jarak dengan negara-negara blok Barat dan lebih dekat dengan negara-negara blok Timur.

Politik akibat pandangan NEFO dan OLDEFO tersebut berkembang menjadi lebih keras dengan dilancarkannya politik poros oleh pemerintah Indonesia. Oleh karena itu, terjadilah politik luar negeri yang mengutamakan poros tertentu seperti Poros Jakarta–Peking (Indonesia dan Cina), Poros Jakarta–Phnom Penh–Hanoi–Peking–Pyongyang (Indonesia, Kamboja, Vietnam Utara, Cina, dan Korea Utara). Hal ini berarti Indonesia lebih memihak blok sosialis/komunis, sehingga politik luar negeri tidak bebas dan aktif lagi.

Selanjutnya sebagai negara yang menjadi pilar NEFO, presiden melakukan kebijakan *politik mercusuar* dengan membuat berbagai proyek besar untuk memunculkan citra Indonesia sebagai negara kuat. Politik mercusuar meliputi pembangunan kompleks olahraga Gelora Bung Karno dan penyelenggaraan pesta olahraga GANEFO (*Games of the New Emerging Forces*).

## 4. Tumbangnya Orde Lama (Rezim Soekarno) dan naiknya Orde Baru (Rezim Soeharto)

Jatuhnya Rezim Soekarno dan Soeharto mempunyai kesamaan, yaitu atas andil para mahasiswa dalam aksi unjuk rasa. Berikut kamu akan memperoleh kejelasan mengenai kronologi tumbangannya Orde Lama dan naiknya Orde Baru.



a. Tumbangnya Orde Lama

Peristiwa G 30S/PKI dan melambungnya harga-harga barang pokok memicu terjadinya demonstrasi yang dilakukan oleh rakyat. Demonstrasi ini dipelopori oleh para mahasiswa dan pelajar. Para mahasiswa mengoordinasikan gerakan unjuk rasa mereka dengan membentuk KAMI (Kesatuan Aksi Mahasiswa Indonesia), sementara para pelajar membentuk KAPPI (Kesatuan Aksi Pemuda Pelajar Indonesia). Kegiatan mahasiswa tersebut segera diikuti oleh elemen masyarakat lain.

Pada tanggal 10 Januari 1966, KAMI dan KAPPI melakukan unjuk rasa besar-besaran di depan kantor DPRGR. Akhirnya, tercetuslah Tri Tuntutan Hati Nurani Rakyat atau lebih dikenal dengan Tritura (Tri Tuntutan Rakyat) yang terdiri atas tiga poin utama, yaitu sebagai berikut.


- 1) Bubarkan PKI dan ormas-ormasnya.
- 2) Bersihkan Kabinet Dwikora dari unsur-unsur PKI.
- 3) Turunkan harga barang-barang.

Setelah dikemukakannya Tritura, pemerintah tampaknya tetap tidak mau mendengarkan tuntutan tersebut. Presiden justru melakukan perombakan Kabinet Dwikora menjadi Kabinet Dwikora Yang Disempurnakan. Kabinet Dwikora Yang Disempurnakan tersebut dijuluki *Kabinet Seratus Menteri* karena terdiri atas banyak menteri.

Pada tanggal 24 Februari 1966, presiden hendak melakukan pelantikan Kabinet Dwikora Yang Disempurnakan di Istana Merdeka. Saat itu, para mahasiswa berunjuk rasa dan memblokir jalan-jalan menuju Istana Merdeka untuk menggagalkan pelantikan tersebut. Dalam suasana seperti itu, terjadi bentrokan antara mahasiswa dan tentara yang menyebabkan tewasnya seorang mahasiswa bernama Arief Rachman Hakim. Keesokan harinya, pemerintah membubarkan KAMI.

Angkatan darat yang pada masa demokrasi dipimpin merupakan saingan PKI pun sejak awal jelas mendukung aksi Tritura. Bentuk dukungan yang dilakukan oleh angkatan darat meliputi beberapa hal. Misalnya, kodam-kodam se-Indonesia melarang pembentukan Barisan Soekarno di wilayahnya masing-masing. Kemudian, Kodam Jaya ikut memberikan perlindungan pada mahasiswa mantan anggota KAMI saat membentuk Laskar Arief Rachman Hakim.

Keamanan negara saat itu sangat gawat karena pemerintah sudah tidak mempunyai wibawa di mata rakyat. Karena itu, guna memulihkan keamanan negara, tiga orang perwira tinggi angkatan darat, yakni Mayjen. Basuki Rahmat (Menteri Urusan Veteran), Brigjen. M. Yusuf (Menteri Perindustrian), dan Brigjen. Amir Mahmud (Panglima Kodam Jaya) menghadap presiden di Istana Bogor. Pada kesempatan itu, mereka menyampaikan bahwa Angkatan



**Gambar 2.16** Rakyat menyambut pelantikan Kabinet Dwikora Yang Disempurnakan dengan demonstrasi yang menelan korban, Arief Rachman Hakim.

**Sumber:** 30 Tahun Indonesia Merdeka



## Wawasan Sosial

Dengan Surat Perintah 11 Maret 1966 dimulailah koreksi total atas penyelewengan yang dilakukan oleh Orde Lama serta usaha untuk menegakkan Pancasila dan UUD 1945 secara murni dan konsekuen. Atas dasar itu, tanggal 11 Maret dijadikan sebagai hari lahirnya Orde Baru. Supersemar merupakan tonggak lahirnya Orde Baru.

Darat tidak akan pernah mengkhianati presiden. Selain itu, mereka mengusulkan agar Men/Pangad Letjen. Soeharto diberi kepercayaan untuk memulihkan keamanan.

Setelah itu, presiden mengeluarkan surat perintah kepada Men/Pangad untuk mengambil segala tindakan yang dianggap perlu dalam rangka memulihkan keamanan dan kewibawaan pemerintah. Surat itu dikenal sebagai Surat Perintah Sebelas Maret (Supersemar).

Berdasarkan wewenang Supersemar, Men/Pangad segera mengambil beberapa kebijakan yang dianggap perlu di antaranya sebagai berikut.

- 1) Membubarkan PKI dan seluruh ormasnya serta menyatakan PKI sebagai partai terlarang.
- 2) Mengamankan 15 orang menteri yang diduga kuat terlibat atau mendukung G 30S/PKI
- 3) Membersihkan MPRS dan lembaga negara lain dari unsur-unsur G 30S/PKI dan mengembalikan peran lembaga-lembaga itu sesuai UUD 1945.

### b. Naiknya Orde Baru

Sejak dikeluarkannya Supersemar, pemerintah mencoba untuk menata kembali kehidupan berbangsa dan bernegara berdasarkan Pancasila dan UUD 1945. Upaya penataan tersebut difokuskan pada lembaga pemerintahan. Pada pelaksanaannya, penataan tersebut berimbas pada jatuhnya Soekarno dan naiknya Soeharto sebagai pemegang kekuasaan. Sebagai tindak lanjutnya dilakukan reorganisasi MPRS.

MPRS yang pada masa demokrasi terpimpin tidak dapat melaksanakan kedaulatan rakyat karena cenderung tunduk pada kebijakan pemerintah, diupayakan agar kedudukannya sebagai lembaga tertinggi negara dapat pulih. Selanjutnya guna menciptakan stabilitas politik, MPRS mengadakan Sidang Umum yang ke-4 di Jakarta pada tanggal 20 Juni sampai 5 Juli 1966.

Keputusan penting yang dihasilkan dalam Sidang Umum tersebut adalah sebagai berikut.

- 1) Menetapkan Supersemar sebagai ketetapan MPR.
- 2) Mengembalikan kedudukan seluruh lembaga negara pada posisi yang diatur dalam UUD 1945.
- 3) Menetapkan rencana penyelenggaraan pemilu selambat-lambatnya pada 5 Juli 1968.
- 4) Mencabut ketetapan MPRS yang mengangkat Ir. Soekarno sebagai presiden seumur hidup.
- 5) Menetapkan pembubaran PKI dan ormas-ormasnya.
- 6) Menetapkan pelarangan penyebaran ajaran Marxisme dan komunisme di Indonesia.
- 7) Menetapkan sumber tertib hukum RI dan tata urutan peraturan perundang-undangan RI.
- 8) Menetapkan penegakan kembali politik luar negeri RI.



Untuk memperbaiki lembaga pemerintahan, Kabinet Dwikora Yang Disempurnakan dibubarkan dan sebagai gantinya dibentuk Kabinet Ampera (Amanat Penderitaan Rakyat). Kabinet ini dibentuk untuk menjamin pelaksanaan Tritura di bidang sosial, politik, dan ekonomi. Kabinet Ampera diresmikan pada 28 Juli 1966 untuk masa kerja dua tahun. Kabinet Ampera masih berada di bawah Presiden Soekarno, namun dalam pelaksanaannya Soeharto sebagai pemegang mandat Supersemar ditempatkan sebagai ketua presidium yang memimpin kabinet. Akibatnya, terjadi dualisme kepemimpinan nasional. Di satu sisi, Soekarno masih memegang jabatan presiden, sedang di sisi lain Soeharto menjadi pelaksana pemerintahan.

Namun, pada tanggal 7–12 Maret 1967 MPRS menyelenggarakan Sidang Istimewa untuk meminta pertanggungjawaban Presiden Soekarno. Pidato jawaban presiden atas tuntutan MPRS yang diberi judul *Nawaksara* ditolak MPRS sehingga Presiden Soekarno harus turun dari jabatannya. Peristiwa tersebut melapangkan jalan bagi Soeharto sebagai orang yang dianggap paling berjasa dalam penanganan peristiwa G 30S/ PKI. Kemudian MPRS mengangkat Soeharto sebagai Pejabat Presiden RI. Akhirnya, dalam Sidang Umum MPRS 21–30 Maret 1968 secara resmi mengangkat Soeharto sebagai Presiden RI. Maka, kekuasaan panjang Soeharto di Indonesia selama 32 tahun pun dimulai.



**Gambar 2.17** Pengambilan sumpah dan pelantikan Jenderal Soeharto sebagai pejabat Presiden Republik Indonesia.

**Sumber:** 30 Tahun Indonesia Merdeka

## **E. Perkembangan Ekonomi Indonesia Pascapengakuan Kedaulatan**

Kondisi perekonomian Indonesia sesaat setelah proklamasi kemerdekaan sangatlah kritis. Meski secara politis kemerdekaan telah diraih, namun terdapat berbagai permasalahan ekonomi yang dihadapi bangsa Indonesia, di antaranya adalah inflasi cukup tinggi, defisit dalam perdagangan internasional, dan kekurangan tenaga ahli untuk menuju ekonomi nasional.



## Wawasan Sosial

Nasionalisme terhadap perusahaan Belanda dilakukan setelah terjadi pemogokan massal yang dilakukan kaum buruh Indonesia yang bekerja di perusahaan-perusahaan tersebut.



**Gambar 2.18** Menteri Keuangan Mr. Ishak Cokrohadisuryo pada masa Kabinet Ali Sastroamidjoyo I.

**Sumber:** Gatra, 20 Agustus 2005

Adapun perkembangan ekonomi Indonesia dapat kamu pelajari dalam uraian materi ini.

### 1. Nasionalisasi Ekonomi

Sektor ekonomi Indonesia pada tahun 1950-an diwarnai oleh berbagai kebijakan pemerintah di antaranya sebagai berikut.

- Untuk memperbaiki sektor ekonomi Indonesia secara bertahap dan perubahan ciri ekonomi kolonial menjadi ekonomi nasional.
- Pada masa Kabinet Natsir, Menteri Keuangan Soemitro Djoyohadikusumo membuat program yang dinamakan *Gerakan Benteng*. Gerakan Benteng bertujuan untuk menumbuhkan kelas pengusaha di tengah-tengah masyarakat Indonesia melalui kemudahan pemberian pinjaman modal bagi kaum pengusaha Indonesia. Dengan begitu, diharapkan para pengusaha Indonesia akan maju dan mampu ikut mendorong perbaikan perekonomian nasional sehingga secara perlahan ciri ekonomi kolonial akan berubah menjadi ekonomi nasional.
- Pada tahun 1950, pemerintah mengambil kebijakan untuk memotong nilai mata uang rupiah di atas Rp2,5 menjadi setengahnya. Ini dilakukan untuk menanggulangi masalah defisit kas negara yang mencapai angka Rp5,1 miliar. Kebijakan itu ditempuh oleh Menteri Keuangan Syafruddin Prawiranegara pada 19 Maret 1950.
- Melakukan nasionalisasi *De Javasche Bank* menjadi *Bank Indonesia* untuk menekan biaya ekspor dan menaikkan pendapatan.
- Mengurangi volume impor dan memberikan bantuan pengusaha lemah.

Pada masa Kabinet Ali Sastroamidjoyo I, Menteri Keuangan Mr. Ishak Cokrohadisuryo memunculkan *Sistem Ekonomi Ali Baba*. Sistem Ekonomi Ali Baba merupakan upaya untuk meningkatkan kemampuan ekonomi dari 'Ali' (warga pribumi) dan 'Baba' (warga keturunan Tionghoa) agar kedua elemen masyarakat tersebut mampu ikut mendorong perbaikan sistem ekonomi Indonesia. Seperti halnya Gerakan Benteng, sistem ekonomi Ali Baba pun memberikan fasilitas kemudahan kredit yang dalam kenyataannya disalahgunakan oleh sebagian pengusaha untuk memperkaya diri sendiri dengan mengajukan kredit tanpa melakukan pembayaran utang.

Setelah melakukan nasionalisasi *De Javasche Bank* menjadi *Bank Indonesia*, akhirnya pada tahun 1958 pemerintah melakukan nasionalisasi terhadap lebih dari 700 perusahaan Belanda yang masih ada. Dengan melakukan nasionalisasi terhadap berbagai perusahaan Belanda, pemerintah berharap agar Indonesia memiliki kemandirian dalam sektor ekonomi hingga tidak lagi menggantungkan kehidupan pada sistem ekonomi yang merupakan warisan kolonial Belanda. Selain itu juga mempercepat pembangunan sistem ekonomi yang berciri nasional mengingat Indonesia telah menjadi sebuah negara merdeka.



## 2. Keadaan Ekonomi Masa Demokrasi Terpimpin

Keadaan berubah total saat Indonesia memasuki masa demokrasi terpimpin. Pemerintah menggunakan sistem ekonomi terpimpin di mana sektor ekonomi ditangani langsung oleh presiden. Akibatnya, kegiatan ekonomi sangat tergantung pada pemerintah pusat dan kegiatan ekonomi pun mengalami penurunan. Saat itu, Indonesia mulai melakukan politik mercusuar yang menuntut pembangunan fasilitas-fasilitas umum besar-besaran, seperti pembangunan Gelora Bung Karno untuk keperluan pesta olahraga GANEFO. Akibatnya uang kertas dicetak secara besar-besaran tanpa perhitungan yang mengakibatkan laju inflasi meroket tidak terkendali dan mencapai angka 650 %.

### Tugas Mandiri

Apa makna politik mercusuar?

### Rangkuman

- ❖ Usaha perjuangan mempertahankan kemerdekaan Indonesia dilakukan melalui cara diplomasi dan pertempuran
  - Cara diplomasi yang dilakukan Indonesia dengan Belanda adalah Perundingan Linggajati, Perundingan Renville, Konferensi Asia di New Delhi, Perundingan Roem-Royen, Konferensi Inter-Indonesia, dan Konferensi Meja Bundar.
  - Berbagai pertempuran dalam mempertahankan kemerdekaan adalah pertempuran Surabaya, Pertempuran Ambarawa, Pertempuran Medan Area, Bandung Lautan Api, Pertempuran Margarana, Agresi Militer Belanda I, dan Agresi Militer Belanda II.
- ❖ Dengan disetujuinya hasil KMB, pada tanggal 27 Desember 1949 ditandatangani naskah pengakuan kedaulatan RIS di Amsterdam.
- ❖ Kedaulatan RIS hasil KMB memunculkan berbagai aksi protes, sehingga pada tanggal 14 Agustus 1950, parlemen dan senat RIS sebagai perwakilan rakyat mengesahkan penggantian Konstitusi RIS dengan UUDS 1950. Dengan demikian Negara Kesatuan Republik Indonesia terbentuk kembali, dan secara resmi RIS dibubarkan pada tanggal 17 Agustus 1950.
- ❖ Peristiwa politik Indonesia pascapengakuan kedaulatan antara lain sebagai berikut.
  - Masa demokrasi liberal, meliputi pelaksanaan UUDS 1950 dan sistem multipartai, serta perencanaan dan pelaksanaan pemilu.
  - Dekrit Presiden 5 Juli 1959
  - Masa demokrasi terpimpin, meliputi pembentukan MPRS, pembentukan DPRGR, pembubaran DPR hasil Pemilu 1955, pembentukan DPAS, penghapusan jabatan wakil presiden, ajaran Nasakom, pembatasan partai politik, serta politik poros dan politik mercusuar.
  - Tumbangnya Orde Lama dan naiknya Orde Baru.
- ❖ Kebijakan pemerintah di sektor ekonomi Indonesia pada tahun 1950-an antara lain sebagai berikut.
  - Memperbaiki sektor ekonomi Indonesia secara bertahap dan perubahan ciri ekonomi kolonial menjadi ekonomi nasional.
  - Program Gerakan Benteng.
  - Memotong nilai mata uang rupiah.
  - Nasionalisasi *De Javasche Bank* menjadi Bank Indonesia.
  - Mengurangi volume impor dan membantu pengusaha lemah.



## Refleksi

Kamu sudah mempelajari perjuangan bangsa Indonesia dalam mempertahankan kemerdekaan. Sekarang berilah tanda cek (✓) pada kolom Ya atau Tidak, sesuai dengan pemahamanmu tentang materi yang telah kamu pelajari.

No	Pernyataan	Ya	Tidak
1.	Sudah tahukah kamu, apa penyebab konflik antara Indonesia dengan Belanda?		
2.	Sudahkah kamu paham, bagaimana usaha bangsa Indonesia dalam berjuang mempertahankan kemerdekaannya?		
3.	Apakah di daerah tempat tinggalmu pada zaman dahulu juga terjadi pertempuran yang hebat untuk mempertahankan kemerdekaan Indonesia?		
4.	sudah pahamkah kamu mengenai adanya aktivitas diplomasi yang dilakukan bangsa Indonesia untuk mempertahankan kemerdekaannya?		
5.	Apakah kamu sudah berjuang dengan gigih tanpa kenal menyerah seperti para pejuang bangsa dalam meraih prestasi?		

## Latihan Soal

### 2

*Kerjakan di buku tugasmu!*

#### I. Pilihlah satu jawaban yang paling tepat!

- Tujuan datangnya Sekutu ke Indonesia dalam rangka ....
  - mengembalikan kekuasaan Inggris
  - memerangi Indonesia
  - melatih tentara Indonesia
  - melucuti tentara Jepang
- Berdasarkan Perundingan Linggajati, wilayah RI meliputi ....
  - Jawa, Sumatra, dan Bali
  - Jawa, Sumatra, dan Madura
  - Jawa, Madura, dan Bali
  - Jawa dan Bali
- Pemilu tahap pertama dilaksanakan pada tanggal ....
  - 28 September 1955
  - 27 September 1955
  - 29 September 1955
  - 30 September 1955
- Kimisi Tiga Negara dibentuk PBB dengan tujuan ....
  - membantu menyelesaikan perselisihan antara Indonesia dengan Belanda
  - memberi bantuan pangan dan perlengkapan perang kepada Indonesia
  - membantu proses kemerdekaan Indonesia
  - membantu Indonesia melawan agresi militer Belanda
- Pada 23 Maret 1946 terjadi pembumi-hangusan sebuah kota oleh para pejuang Indonesia sendiri. Peristiwa itu dikenal dengan nama ....
  - pertempuran 10 November
  - peristiwa Merah Putih di Biak
  - Bandung Lautan Api
  - pertempuran Medan Area



6. Presiden RI semasa RIS dijabat oleh seorang pemangku tugas presiden RI, yaitu ....
  - a. Mr. Asaat
  - b. Mr. Muh. Yamin
  - c. Ir. Juanda
  - d. Mohammad Natsir
7. Pada masa Kabinet Natsir, Menteri Keuangan Soemitro Djoyohadikusumo membuat program ....
  - a. Gerakan Benteng
  - b. Gerakan Ali Baba
  - c. Sistem Ekonomi Benteng
  - d. Sistem Ekonomi Ali Baba
8. Penyebab pertempuran 10 November 1945 di Surabaya adalah ....
  - a. adanya bentrokan antara pejuang Surabaya dengan pasukan Belanda
  - b. Inggris terang-terangan membantu NICA
  - c. Belanda melakukan provokasi terhadap pejuang Surabaya
  - d. tewasnya Brigjen. A. W. S. Mallaby
9. Berikut ini adalah isi dekrit Presiden 5 Juli 1959, *kecuali* ....
  - a. pembubaran Badan Konstituante
  - b. pencabutan UUDS 1950
  - c. pemberlakuan kembali UUD 1945
  - d. pengunduran diri presiden
10. Jumlah partai politik peserta Pemilu 1955 adalah ....
 

a. 28 partai	c. 26 partai
b. 48 partai	d. 15 partai
11. Beberapa kabinet yang sempat terbentuk dimasa demokrasi liberal adalah sebagai berikut, *kecuali* ....
  - a. Kabinet Natsir
  - b. Kabinet Sukiman
  - c. Kabinet Burhanudin Harahap
  - d. Kabinet Sultan Hamengku Buwono IX
12. Para mahasiswa menyampaikan Tritura pada tanggal 10 Januari tahun ....
 

a. 1965	c. 1967
b. 1966	d. 1968
13. Bentrokan antara mahasiswa dan tentara yang menyebabkan tewasnya Arief Rachman Hakim terjadi pada tanggal ....
  - a. 24 Februari 1965
  - b. 24 Februari 1966
  - c. 24 Februari 1967
  - d. 24 Februari 1968
14. Tritura terdiri atas tiga poin berikut ini, *kecuali* ....
  - a. pembubaran PKI dan ormas-ormasnya
  - b. bersihkan Kabinet Dwikora dari unsur-unsur PKI
  - c. turunkan harga barang-barang
  - d. pertahankan kedudukan Presiden Soekarno
15. Sejak dikeluarkannya Supersemar, pemerintah mencoba untuk menata kembali kehidupan berbangsa dan bernegara berdasarkan ....
  - a. ketetapan MPR
  - b. Pancasila dan UUD 1945
  - c. agama
  - d. keputusan presiden

## II. Jawablah pertanyaan berikut dengan benar!

1. Jelaskan peran perjuangan bersenjata dalam mempertahankan kemerdekaan!
2. Mengapa Indonesia perlu menarik dukungan internasional dalam perjuangan diplomasinya?
3. Jelaskan tujuan politis Belanda dalam pembentukan RIS dan negara-negara bagian!
4. Apakah latar belakang pembentukan MPRS, DPAS, dan DPRGR yang dilakukan Presiden Soekarno?
5. Jelaskan penyebab laju inflasi pada masa demokrasi terpimpin!



*Bacalah wacana di bawah ini dengan saksama!*

### Benteng Marlborough



Sudah sejak lama, Inggris menancapkan kekuasaannya di Indonesia. Hal itu bisa diketahui dari pendaratan yang dilakukan Inggris pada tahun 1685 di Pulau Tikus dan masuk ke Pelabuhan Selebar. Bukti dari berkuasanya Inggris itu adalah didirikannya Benteng Marlborough di Bengkulu. Raja Selebar, Pangeran Nata Dirja, menentang keberadaan benteng tersebut. Konflik antara Inggris dan Kerajaan Selebar pun tidak dapat dihindari, yang berakhir dengan kekalahan dari pihak kerajaan. Berdasarkan Traktat London (1824), Bengkulu diserahkan oleh Inggris kepada Belanda, hingga kedatangan Jepang pada tahun 1942. Dan pada tahun 1968, Bengkulu menjadi salah satu provinsi dari Republik Indonesia.

**Sumber:** Obyek Wisata Nusantara Penerbit PT Fery Agung Corporation.

**Jawablah pertanyaan-pertanyaan di bawah ini dengan mendiskusikannya dalam kelompokmu!**

1. Sebutkan bentuk-bentuk perlawanan yang dilakukan oleh bangsa Indonesia terhadap Inggris beserta sekutunya!
2. Usaha apa lagi yang dilakukan oleh Inggris untuk menancapkan kekuasaannya di Indonesia?



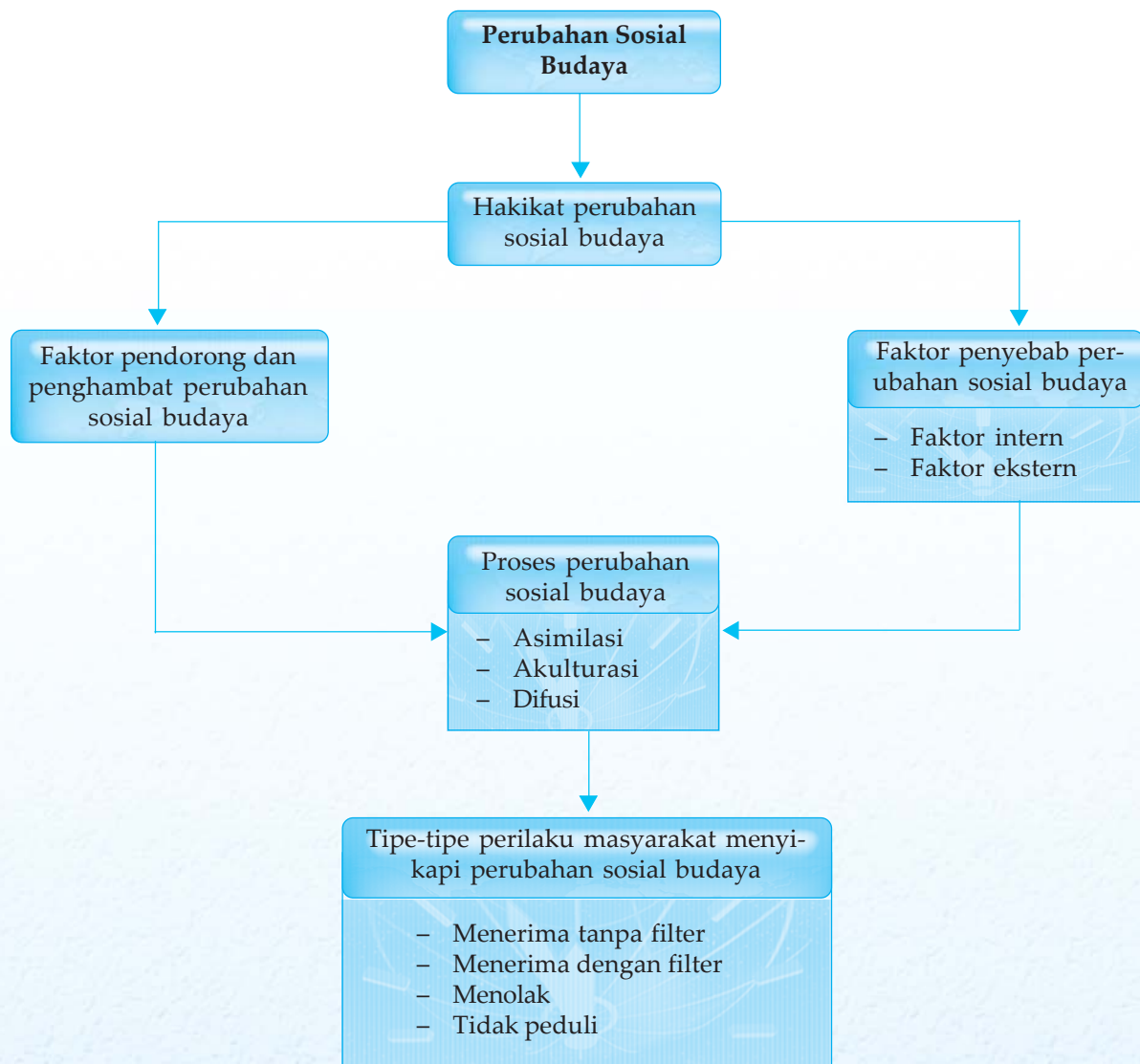
## Perubahan Sosial Budaya



Segala sesuatu yang ada di muka bumi ini pasti akan mengalami perubahan. Begitupun juga kehidupan masyarakat. Tidak ada suatu masyarakat di dunia ini yang berhenti pada suatu titik tertentu sepanjang masa tanpa mengalami perubahan-perubahan. Perubahan di masyarakat misalnya dapat kita lihat pada penggunaan traktor dalam mengolah tanah pertanian sebagai pengganti bajak. Perubahan sosial budaya yang terjadi di masyarakat dimaksudkan untuk menciptakan keadaan yang baru yang berbeda dari sebelumnya atau untuk menyempurnakan keadaan yang sudah ada dengan tujuan untuk disesuaikan dengan kebutuhan manusia. Bagaimana kita harus menyikapi perubahan tersebut? Pada bab ini kamu akan belajar mengenai perubahan sosial budaya beserta tipe-tipe perilaku masyarakat dalam menyikapi perubahan sosial budaya.



# Peta Konsep



## Kata Kunci

- perubahan sosial budaya
- asimilasi
- akulturasi
- difusi



Pernahkah kamu mendengar slogan “berubah sekarang atau tidak sama sekali?” Berubah atau perubahan merupakan kata yang tidak asing di telinga kita. Mengapa sesuatu harus berubah? Salah satu tujuannya yaitu menuju ke arah yang lebih baik. Apakah perubahan tersebut perlu dilakukan? Jawabannya bisa *ya* bisa *tidak*, tergantung pada faktor apa yang harus mengalami perubahan. Kamu akan mempelajari perubahan sosial budaya serta faktor-faktor yang memengaruhinya.

## A. Hakikat Perubahan Sosial Budaya

Perubahan (*change*) merupakan sebuah dimensi sosial budaya yang pada umumnya menyertai perubahan bentuk lain juga. Perubahan berkaitan dengan suatu hal atau keadaan berubah. Hal yang pasti kita tahu, bahwa perubahan tersebut bersifat dinamis, artinya akan terus bergerak sesuai dengan arah kebutuhan manusia.

Setiap perubahan yang dilakukan oleh manusia selalu disertai dengan timbulnya konflik, krisis, penghapusan, atau penggantian nilai-nilai lama dengan tatanan nilai yang baru. Hal ini disebabkan adanya ketidaksesuaian antara unsur-unsur budaya yang berbeda tahapan perkembangannya, sehingga terjadi ketidakserasian fungsinya bagi kehidupan.

Dalam perubahan sosial budaya, manusia adalah aktor utama yang menyebabkan terjadinya perubahan (*agent of change*) dan merasakan hasil perubahan tersebut.

Perubahan sosial budaya merupakan dua hal yang saling berkaitan. Untuk mengetahui pengertian perubahan sosial budaya, maka terlebih dahulu perlu diketahui pengertian perubahan sosial dan perubahan kebudayaan.

### 1. Pengertian Perubahan Sosial

Perubahan sosial dapat dikatakan sebagai suatu perubahan dari kejadian-kejadian yang ada di masyarakat. Perubahan ini dimulai dari perubahan secara individu hingga ke wilayah yang lebih luas, yaitu masyarakat.

Perubahan sosial dalam masyarakat ternyata sangat kompleks, karena di dalamnya melibatkan berbagai karakteristik individu yang beragam. Jenis perubahannya meliputi perubahan dalam norma, adat istiadat, sistem pemerintahan, sistem sosial politik, sistem ekonomi, hukum, dan lainnya.

Perubahan sosial merupakan suatu perubahan menuju ke sebuah keadaan baru yang berbeda dengan keadaan sebelumnya. Perubahan ini didorong oleh timbulnya desakan dari lingkungan dan kemauan untuk bertindak, baik secara individual maupun secara berkelompok.

Secara individu, perubahan dilakukan untuk meningkatkan taraf dan derajat kehidupannya baik secara moral maupun



**Gambar 3.1** Perubahan sosial budaya dapat menghasilkan kemudahan dalam hidup.

**Sumber:** Microsoft Student 2006



**Gambar 3.2** Mahasiswa sebagai salah satu *agent of change*.

**Sumber:** Tempo, Mei 2005



## Wawasan Sosial

Secara umum proses perubahan sosial dipengaruhi oleh empat faktor sebagai berikut.

- Perubahan sosial terjadi di mana-mana.
- Perubahan sosial bisa terjadi secara direncanakan dan tidak direncanakan.
- Perubahan sosial sering menghasilkan kontroversi, atau perubahan yang terjadi dalam suatu bidang akan selalu memunculkan bantahan dari pihak lain.
- Beberapa perubahan memiliki nilai kepentingan yang berbeda dengan kepentingan lainnya.



**Gambar 3.3** Pemukiman pinggir sungai di Jakarta Utara dihuni oleh kaum migran yang menginginkan perubahan kondisi sosialnya.

**Sumber:** [www.wikipedia.org](http://www.wikipedia.org)

material. Bentuk perubahannya pun disesuaikan dengan tingkat kebutuhan masing-masing. Contohnya seseorang yang melakukan urbanisasi dengan harapan untuk memperbaiki taraf kehidupannya.

Perubahan sosial meliputi berbagai aspek, antara lain nilai-nilai sosial, norma-norma sosial, interaksi sosial, pola-pola perilaku, organisasi sosial, susunan lembaga-lembaga kemasyarakatan, lapisan masyarakat, serta otoritas dan kewenangan. Seluruh aspek itu tidak berdiri sendiri, tetapi selalu terkait dan berkompetisi.

Setiap manusia, selama hidupnya sudah pasti mengalami perubahan. Perubahan yang dirasakan dapat berupa perubahan fisik-biologis maupun perubahan sosial dan perilaku. Perubahan tersebut, tentu saja mulai dari perubahan yang kecil dan sederhana sampai ke perubahan yang besar, dan dari perubahan yang lambat sampai perubahan yang cepat.

Kadang, perubahan terjadi secara serentak atau tiba-tiba. Seperti halnya perubahan kepemimpinan dari pemerintahan Orde Baru kepada Orde Reformasi pada Mei 1998. Selain itu, perubahan juga kadangkala terjadi sangat lambat, bahkan tidak dirasakan oleh anggota masyarakat.

Berikut ini pengertian perubahan sosial yang dikemukakan oleh beberapa ahli sosiologi.

a. Selo Soemardjan

Perubahan sosial merupakan segala perubahan-perubahan pada lembaga-lembaga kemasyarakatan di dalam suatu masyarakat yang memengaruhi sistem sosialnya, termasuk di dalamnya nilai-nilai, sikap, dan pola perilaku di antara kelompok-kelompok dalam masyarakat.

b. Astrid S. Susanto

Perubahan sosial adalah perubahan masyarakat yang mengalami kemajuan dengan suatu pola masyarakat yang sesuai, bahkan dapat menguasai kemajuan teknologi dan menghindari bahaya degradasi martabatnya.



c. Kingsley Davis

Perubahan sosial adalah perubahan-perubahan yang terjadi dalam struktur dan fungsi masyarakat. Misalnya, timbulnya pengorganisasian buruh dalam masyarakat kapitalis telah menyebabkan perubahan-perubahan dalam organisasi ekonomi dan politik.

Berdasarkan pengertian perubahan sosial yang dikemukakan para ahli di atas dapat disimpulkan bahwa perubahan sosial adalah perubahan yang terjadi akibat adanya ketidak-sesuaian di antara unsur-unsur yang saling berbeda yang ada dalam kehidupan sosial, sehingga menghasilkan suatu pola kehidupan yang tidak serasi fungsinya bagi masyarakat yang bersangkutan.

## 2. Pengertian Perubahan Kebudayaan

Kebudayaan dihasilkan oleh manusia dalam hidup dengan manusia lain di dalam masyarakat. Tujuannya guna memenuhi kebutuhannya yang sangat beragam. Misalnya manusia menciptakan telepon dengan tujuan untuk memperpendek jarak agar bisa berkomunikasi jarak jauh.

Koentjaraningrat mengartikan kebudayaan sebagai hasil cipta, rasa, dan karsa manusia. Sebagai hasil dari cipta, rasa, dan karsa manusia dalam hidup bermasyarakat, maka kebudayaan senantiasa mengalami perubahan-perubahan. Perubahan itu dimaksudkan untuk mengadakan penyempurnaan terhadap kebudayaan yang telah dihasilkan sebelumnya. Contohnya manusia menciptakan komputer sebagai penyempurnaan terhadap mesin ketik. Perubahan kebudayaan jauh lebih luas daripada perubahan sosial. Perubahan kebudayaan mencakup kesenian, bahasa, sistem kepercayaan, sistem ekonomi, dan sistem sosial. Perubahan budaya adalah perubahan yang terjadi akibat adanya ketidaksesuaian di antara unsur-unsur budaya yang saling berbeda, sehingga tercapai keadaan yang tidak serasi fungsinya bagi kehidupan.

Untuk menambah wawasanmu mengenai apa itu perubahan budaya, mari kita pelajari pengertian perubahan budaya menurut pendapat para ahli berikut ini.

a. Kingsley Davis

Perubahan kebudayaan adalah perubahan yang mencakup segenap cara berpikir dan bertindak laku, yang timbul karena adanya interaksi yang bersifat komunikatif.

b. E. B. Taylor

Perubahan kebudayaan adalah perubahan yang mencakup pengetahuan, kepercayaan, kesenian, moral, hukum, adat istiadat, dan setiap kemampuan serta kebiasaan manusia sebagai warga masyarakat.

### Tugas Mandiri

Setelah kamu mengetahui berbagai pengertian perubahan sosial, coba kamu rumuskan dengan kata-katamu sendiri konsep perubahan sosial!

### Wawasan Sosial

Musik *tanjidor*, kini terimpit menghadapi dangdut, jaipongan, dan organ tunggal. Dahulu, lagu-lagu wajib seperti *Mars Jalan*, *Jali-Jali*, *Stambul*, *Persi*, *Kang Haji*, dan *Kembang Kacang* cukup menyenangkan penonton. Sekarang penonton menuntut kemampuan para pemain dengan lagu-lagu para primadona rekaman, jaipongan, dan dangdut.

**Sumber:** *Tempo*, 20 Februari 2005



### Tugas Bersama

Penemuan bola lampu pijar oleh Thomas Alfa Edison mengubah pola hidup masyarakat. Mengapa demikian?

### 3. Pengertian Perubahan Sosial Budaya

Perubahan sosial dan perubahan kebudayaan yang terjadi di masyarakat saling berkaitan. Tidak ada masyarakat yang tidak memiliki kebudayaan dan sebaliknya, tidak mungkin ada kebudayaan tanpa masyarakat. Setiap masyarakat di mana pun sudah pasti akan memiliki kebudayaan. Perubahan sosial dan perubahan kebudayaan pada dasarnya memiliki aspek yang sama, yaitu keduanya berkaitan dengan proses penerimaan cara-cara baru atau perbaikan cara dalam masyarakat untuk memenuhi aneka kebutuhannya. Oleh karena itu, dalam masyarakat kedua perubahan tersebut sering digabung, yang kemudian dikenal dengan istilah perubahan sosial budaya.

Perubahan sosial budaya adalah perubahan yang terjadi dalam kehidupan masyarakat, mencakup perubahan budaya yang di dalamnya terdapat perubahan nilai-nilai dan tata cara kehidupan dari tradisional menjadi modern.

Perubahan sosial budaya dapat bersumber pada pengalaman baru, pengetahuan baru, penemuan baru, persepsi dan konsepsi baru, serta teknologi baru, sehingga menuntut penyesuaian cara hidup serta kebiasaan masyarakat pada situasi yang baru. Di dalamnya terjadi juga perubahan sistem nilai budaya, sikap mental demi terciptanya keseimbangan, dan integrasi terhadap sistem nilai budaya.

Alasan manusia mengadakan perubahan sosial budaya dengan menciptakan berbagai alat-alat teknologi, dan berbagai penyampaian ide adalah sebagai berikut.

- Kebutuhan manusia senantiasa bertambah, baik kuantitas maupun kualitas.
- Kemampuan akal manusia yang menghasilkan ide, gagasan, dan karya senantiasa berkembang.
- Kepuasan manusia tidak pernah ada habisnya.



**Gambar 3.4** Perubahan di bidang teknologi (komputer) menuntut masyarakat untuk bisa mengoperasikannya.

**Sumber:** *Tempo*, 3 September 2006



#### 4. Ciri-Ciri Perubahan Sosial Budaya

Setiap perubahan tentu memiliki tanda-tanda sebagai cirinya. Demikian juga dengan perubahan sosial budaya. Hal ini dimaksudkan untuk membedakan dengan yang lainnya.

Semua bentuk masyarakat, baik masyarakat tradisional maupun masyarakat modern akan selalu mengalami perubahan secara berkesinambungan. Perubahan itu bagaikan dua sisi mata uang yang berbeda, bisa memperbaiki keadaan atau bahkan semakin memperburuk keadaan yang selama ini telah mapan. Dengan mengamati keadaan yang ada di sekitar tempat tinggalmu atau keadaan yang ada di masyarakat, dapatkah kamu mengidentifikasi ciri-ciri perubahan sosial budaya?

Perubahan sosial budaya memiliki ciri-ciri sebagai berikut.

- a. Perubahan yang terjadi sangat tergantung pada dinamika masyarakat itu sendiri, yang nantinya akan berpengaruh pada tingkat kecepatan atau kelambatan proses perubahan tersebut.
- b. Perubahan yang terjadi pada suatu lembaga kemasyarakatan akan diikuti oleh perubahan lembaga-lembaga kemasyarakatan yang lainnya.
- c. Suatu perubahan dalam masyarakat yang cepat, biasanya akan diikuti oleh timbulnya keadaan yang kacau, terjadinya akomodasi, dan penyesuaian diri.
- d. Akan membawa perubahan pada bidang material dan nonmaterial (ide).
- e. Perubahan sosial budaya terbagi atas beberapa bentuk, yaitu proses sosial, segmentasi atau pembagian, dan perubahan struktur.
  - 1) Proses sosial, yaitu pergantian beragam penghargaan, fasilitas, dan anggota dalam suatu struktur sosial.
  - 2) Segmentasi atau pembagian, yaitu timbulnya pengklasifikasian unit-unit struktur yang hampir sama dengan unit yang telah ada sebelumnya.
  - 3) Perubahan struktur, yaitu timbulnya peran dari organisasi yang baru.



#### B. Faktor Penyebab Perubahan Sosial Budaya

Perubahan sosial budaya dapat berlangsung di semua lapisan masyarakat, baik lapisan masyarakat atas maupun lapisan masyarakat bawah. Apabila dikaji lebih jauh, terjadinya perubahan sosial budaya disebabkan adanya sesuatu yang dianggap sudah tidak memuaskan lagi. Selain itu, juga dapat disebabkan telah ditemukannya sesuatu yang baru, yang menurut pandangan masyarakat akan memiliki manfaat lebih besar bagi kehidupannya.



Ada dua faktor utama yang menyebabkan perubahan sosial budaya, yaitu faktor yang berasal dari dalam masyarakat itu sendiri atau disebut faktor *intern* dan faktor yang datang dari luar masyarakat atau faktor *ekstern*.

## 1. Faktor Intern

Perubahan sosial budaya didasarkan pada kesadaran masyarakat pendukungnya. Ada beberapa indikasi perubahan sosial budaya yang disebabkan faktor intern, antara lain konflik nilai, faktor demografi, penemuan baru, konflik dan perubahan, ide dan perubahan, pertentangan dalam masyarakat, dan revolusi.

### a. Konflik Nilai

Nilai adalah segala sesuatu tentang hal yang baik dan buruk. Nilai-nilai yang diamati oleh individu atau kelompok berbeda satu dengan yang lainnya. Demikian pula di tempat yang satu dengan tempat yang lainnya. Setiap nilai pada suatu tatanan yang baru tentu saja akan menghasilkan dua masalah, yaitu nilai tersebut *diterima* dan diterapkan pada kehidupan masyarakat, atau nilai tersebut *ditolak* yang pada akhirnya akan menghasilkan konflik nilai.

Konflik nilai terjadi karena adanya pemahaman dan pengertian baru terhadap sistem nilai yang terjadi dalam masyarakat. Berkat taksiran dan tafsiran baru atas sistem nilai, pola interaksi, dan pandangan terhadap masa lampau dan masa depan, terjadilah pembaruan nilai-nilai lama.

Hal ini disebabkan oleh nilai-nilai lama yang menjadi acuan dan diperjuangkan dalam hidup bermasyarakat, berbangsa, dan bernegara tidak lagi relevan terhadap situasi yang berlaku sekarang.

Oleh karena itu, dapatlah dipahami jika situasi tersebut menimbulkan konflik nilai. Artinya, ada usaha untuk memberi bobot baru terhadap situasi dan kondisi yang sama. Misalnya, struktur keluarga modern dengan konsep keluarga kecil dalam program Keluarga Berencana (KB). Dengan adanya program KB, mau tidak mau pemahaman mengenai keluarga berubah, pola interaksi berubah, serta pemahaman terhadap hidup dan kehidupan juga berubah. Demikian pula halnya dengan kemajuan pola pikir.

Konflik nilai sebagai salah satu penyebab perubahan sosial budaya terjadi sepanjang sejarah kehidupan manusia dan bersifat universal. Di mana pun, kapan pun, dan dalam hal apapun konflik nilai sebagai pijakan pembaruan kualitas sosial budaya selalu dan akan terus terjadi.

Konflik nilai sosial budaya bukanlah suatu kekurangan atau kelemahan, melainkan suatu tahapan penyempurnaan sistem nilai, sistem sosial, dan seluruh unsur budaya fisik. Di sini, konflik nilai dapat diartikan sebagai otokritik yang didasarkan pada penemuan baru dalam masyarakat melalui refleksi sosial budaya oleh setiap pelaku perubahan sosial budaya yang bersangkutan.

### Tugas Bersama

Sebutkan beberapa contoh konkret konflik nilai yang terjadi di masyarakat! Diskusikan dengan teman sekelompokmu!



Program Keluarga Berencana memiliki tujuan membatasi jumlah kelahiran. Program tersebut dilakukan dengan berbagai cara, salah satunya penggunaan alat kontrasepsi.



**Gambar 3.5** Hadirnya program Keluarga Berencana mengubah pula pemahaman mengenai keluarga sejahtera.

**Sumber:** Dokumen Penerbit

### b. Faktor Demografi

Bertambah atau berkurangnya penduduk dalam suatu kelompok masyarakat akan berpengaruh langsung maupun tidak langsung terhadap pola kehidupan masyarakat. Bertambahnya penduduk berpengaruh pada aspek ekonomi, misalnya kepemilikan lahan dan persaingan pekerjaan.

Semakin tinggi laju pertumbuhan penduduk suatu daerah, maka semakin tinggi pula tuntutan akan pemenuhan sandang, pangan, dan papan. Apabila diperhatikan, jumlah luas lahan yang ada sekarang ini berbanding terbalik dengan jumlah kebutuhan akan lahan tersebut. Oleh sebab itu, sudah bukan hal yang aneh lagi, apabila orang mengeringkan sawah hanya untuk mendirikan tempat bernaung.

Faktor demografi juga akan memengaruhi gaya hidup masyarakat. Masyarakat desa yang melakukan urbanisasi ke kota atau para pekerja yang *nglaju* (pulang pergi) dari desa ke kota, lambat laun akan menyerap berbagai bentuk perubahan kehidupan masyarakat kota. Misalnya, apabila masyarakat desa mulanya hanya mengenal ubi jalar dan singkong sebagai makanan tambahan selain nasi, sekarang mereka sudah mencoba makanan siap saji (*fast food*).



**Gambar 3.6** Keterbatasan lahan untuk bernaung memaksa manusia mendirikan rumah di lahan persawahan produktif.

**Sumber:** Dokumen Penerbit



### c. Penemuan Baru

Penemuan-penemuan baru dalam masyarakat juga akan menjadi salah satu penyebab terjadinya perubahan sosial budaya. Penemuan baru didasarkan pada sikap kritis individu atau kelompok yang terkait dengan alam, gagasan, dan metode. Di samping itu, penemuan baru sebagai salah satu proses pembaruan menginginkan adanya kesadaran dari individu atau kelompok akan kekurangan dalam budayanya, kualitas pribadi dalam suatu budaya, dan rangsangan akan aktivitas-aktivitas penciptaan dalam masyarakat. Penemuan-penemuan baru secara umum dapat dibedakan atas dua macam, yaitu *discovery* dan *invention*.

- 1) *Discovery* adalah suatu penemuan unsur kebudayaan baru baik yang berupa alat, ide, atau gagasan yang diciptakan oleh individu atau kelompok individu. Contoh *discovery* adalah penemuan listrik, mesin disel, lokomotif, atau alat komunikasi.

*Discovery* terjadi ketika manusia mempelajari hal baru dengan metode yang baru pula.

Gejala *discovery* harus didahului oleh kesempatan, pengamatan, penilaian, dan pengkhayalan. Di samping itu harus ada pula keinginan dan kebutuhan.

Bentuk-bentuk penemuan baru tersebut memengaruhi kehidupan manusia. Setiap perubahan yang terjadi, baik perubahan fisik, materi, maupun mental akan menghasilkan akibat, karena perubahan dihasilkan dari proses sebab akibat.

- 2) *Invention* adalah suatu penemuan baru yang telah diakui, diterima, dan diterapkan atau digunakan masyarakat. Misalnya mobil, kereta api, pesawat terbang, dan komputer. *Invention* merupakan kelanjutan dari *discovery* yang telah diterima masyarakat. Contohnya dengan ditemukannya mesin-mesin maka dibuatlah mobil, pesawat, dan alat-alat pertanian modern. *Invention* erat kaitannya dengan penemuan baru dalam teknologi yang merupakan suatu hasil usaha sadar.

*Invention* terdiri atas *basic invention* dan *reproving invention*.

- a) *Basic invention* atau penemuan dasar merupakan suatu peristiwa yang meliputi pemakaian prinsip baru atau kombinasi dari prinsip baru. *Basic invention* merupakan hasil dari dua aktivitas, yaitu aktivitas yang diusahakan secara sadar dan yang terjadi secara kebetulan.
- b) *Improving invention* atau penyempurnaan merupakan suatu peristiwa yang biasanya memiliki arti perbaikan atau penyempurnaan terhadap penemuan yang telah ada. Kadang-kadang untuk melakukan *improving invention* harus dilakukan secara berulang-ulang atas suatu barang dan pada akhirnya menghasilkan sebuah barang yang sama sekali baru, berbeda dengan bentuk aslinya.

#### Tugas Mandiri

Berikan contoh penemuan baru yang didahului oleh pengkhayalan penemunya!

#### Tugas Mandiri

Apa perbedaan *invention* dan *discovery*?



Agar suatu *invention* dapat diterapkan untuk suatu kegiatan praktis dan dapat tersebar luas dalam suatu masyarakat, maka dibutuhkan beberapa persyaratan, yaitu masyarakat harus merasa butuh terhadap pembaruan, yang disebabkan oleh *invention* tersebut; masyarakat sudah tidak puas lagi dengan keadaan yang telah ada; perubahan yang disebabkan oleh *invention* itu harus dipahami dan dapat dikuasai oleh anggota masyarakat; perubahan tersebut harus dapat diajarkan; perubahan itu harus dapat menggambarkan keuntungan di masa yang akan datang; dan perubahan tersebut tidak mengubah prestise pribadi atau golongan.

Sebaliknya, sebuah *invention* tidak dapat meluas di masyarakat apabila penggunaan penemuan baru itu akan mendapat suatu hukuman dan penemuan baru yang berupa material atau nonmaterial itu sulit untuk diintegrasikan di dalam kebudayaan di mana penemuan itu timbul.



**Gambar 3.7** Penemuan alat pertanian modern adalah bagian dari *invention* yang diterima dan digunakan masyarakat.

**Sumber:** Dokumen Penerbit

Terdapat beberapa pengaruh yang disebabkan oleh penemuan-penemuan unsur baru, di antaranya adalah sebagai berikut.

- 1) Penemuan baru menyebabkan perubahan-perubahan dalam bidang tertentu, dan menyebar ke bidang-bidang lainnya. Misalnya penemuan komputer menyebabkan perubahan dalam bidang pendidikan, pemerintahan, pertanian, dan rekreasi.
- 2) Suatu penemuan baru menyebabkan perubahan-perubahan yang menjalar dari satu lembaga kemasyarakatan yang satu ke lembaga kemasyarakatan yang lainnya. Misalnya penemuan pesawat terbang membawa pengaruh terhadap metode berperang antarnegara.
- 3) Beberapa jenis penemuan baru dapat mengakibatkan satu jenis perubahan. Misalnya penemuan mobil, kereta api dan jalan kereta api, serta telepon menyebabkan tumbuh-

### Wawasan Sosial

Akibat yang ditimbulkan oleh perkembangan suatu kota adalah terjadinya perubahan pola migrasi penduduk. Dalam hal ini, ketika suatu kawasan sudah memiliki teknologi yang maju, maka pola perpindahan penduduk tidak lagi dilakukan secara permanen, tetapi akan menjadi pola ulang alik (*communting*) yang diikuti oleh meningkatnya penggunaan lahan sebagai sarana transportasi yang vital dan memanfaatkan lahan di luar kota sebagai lahan pemukiman yang paling rasional.



nya pusat-pusat kehidupan di daerah pinggiran kota yang dinamakan *suburban*. Secara umum, benda-benda (materi) *menyebar* lebih cepat dibandingkan dengan penyebaran ide atau pikiran.



**Gambar 3.8** Penemuan komputer telah menyebabkan perubahan besar di berbagai bidang seperti pranata pendidikan, pranata politik, dan pranata ekonomi.

**Sumber:** [www.google.com:80/image](http://www.google.com:80/image), Dokumen Penerbit

#### d. Konflik dan Perubahan

Terjadinya ketegangan dan konflik dalam kehidupan bermasyarakat juga menghasilkan perubahan. Sosiolog Karl Marx (1818–1883) mengemukakan hasil pengamatannya yang terkenal dengan konflik sosial (*social conflict*). Dalam teorinya tersebut, Marx mengupas tentang bagaimana manusia berjuang di antara berbagai lapisan masyarakat dengan keterbatasan sumber daya.

Ada yang berpendapat bahwa konflik timbul karena adanya ketidaksesuaian dalam hal sasaran atau tujuan (*goal*), nilai (*value*), pikiran (*cognition*), perasaan (*affect*), dan perilaku (*behaviour*).

Sebagai makhluk yang berpikir dan memiliki akal, manusia akan selalu mencari dan membuat berbagai hal. Karenanya semua yang dihasilkan oleh manusia merupakan serangkaian proses yang terdiri atas sasaran, nilai, pikiran, perasaan, dan perilaku.

Timbulnya konflik tidaklah selalu memberikan dampak negatif. Adakalanya konflik justru memberikan dampak positif, kaitannya dengan kemajuan masyarakat. Apabila dikelola dengan baik, konflik justru akan menjadi sebuah kekuatan yang dapat mengembangkan masyarakat.

Berubahnya sebuah tatanan kehidupan masyarakat sebagai akibat timbulnya perubahan akan menghasilkan reaksi yang berbeda. Masyarakat akan menerima perubahan apabila

#### Tugas Bersama

Mengapa konflik dapat menjadi sebuah kekuatan bagi kelompok atau masyarakat?  
Diskusikan dengan teman kelompokmu!



dengan perubahan tersebut kehidupan sosialnya akan bertambah baik dan tidak terlalu banyak melanggar adat dan norma tradisional.

Sementara itu masyarakat akan menolak, manakala perubahan tersebut tidak sesuai dengan nilai dan norma yang berlaku. Tetapi, pada dasarnya setiap masyarakat baik tradisional maupun modern, keseluruhannya merupakan mata rantai kehidupan sosial dan masyarakat.

e. Ide dan Perubahan

Keinginanmu untuk berubah menjadi sesuatu atau menjadi lebih baik, tentunya didorong oleh pikiran berupa ide.

Kemunculan ide dapat menghasilkan sebuah karya, manakala ide tersebut diwujudkan ke dalam sebuah bentuk atau tindakan. Tentunya, setiap ide yang keluar tidak semuanya bersifat positif, tetapi kadangkala ide yang keluar bersifat negatif.

f. Pertentangan dalam Masyarakat

Pertentangan diakibatkan oleh terjadinya benturan kepentingan yang berbeda antara satu individu atau kelompok dengan individu atau kelompok lainnya. Hal ini dikarenakan setiap individu atau kelompok masyarakat memiliki pandangan yang berbeda mengenai suatu nilai dan norma yang berlaku.

Pertentangan akan selalu terjadi, manakala perbedaan tujuan antarindividu atau antarkelompok ditunjukkan secara berlebihan. Apalagi kalau anggota masing-masing kelompok tidak mau mengalah atau memahami perbedaan tersebut. Apabila pertentangan yang terjadi di masyarakat tersebut tidak selesai, maka akan menyulut permusuhan. Lebih buruk lagi, apabila pertentangan satu generasi diwariskan ke generasi berikutnya.



**Gambar 3.9** Rusaknya berbagai fasilitas akibat pertentangan dalam masyarakat.  
**Sumber:** *Geographica The Complete Illustrated World Reference*.

### Tugas Mandiri

Berikan contoh ide yang bersifat positif dan ide yang bersifat negatif, masing-masing lima buah!



g. Terjadinya Revolusi atau Pemberontakan

Setiap manusia sebagai pribadi dan bagian dari masyarakat yang memiliki nilai dan norma sosial budaya adalah perubahan itu sendiri. Manusia merupakan penggerak sekaligus tujuan dari perubahan sosial budaya. Oleh karena itu dapat dikatakan bahwa perubahan sosial budaya disebabkan oleh revolusi. Revolusi yaitu perubahan mendasar dalam suatu bidang seperti sistem sosial, sistem nilai, dan unsur-unsur budaya fisik.

Secara umum, revolusi yang terjadi dalam kehidupan masyarakat dapat berlangsung dalam semua sektor kehidupan. Yang terjadi selama ini, tindakan revolusi selalu diiringi dengan jatuhnya korban, terutama dalam revolusi fisik. Revolusi fisik secara langsung mengubah sebuah tatanan dengan melakukan tindakan kekerasan terhadap pihak yang ingin digulingkan kekuasaannya, sehingga kekuasaan berpindah tangan.

## 2. Faktor Ekstern

Faktor ekstern merupakan konsekuensi logis bahwa kontak sosial budaya tidak dapat terhindarkan dalam kehidupan bermasyarakat, berbangsa, dan bernegara. Faktor ekstern yang dapat menyebabkan perubahan sosial budaya adalah sebagai berikut.

a. Peperangan

Peperangan dapat menyebabkan perubahan yang sangat mendasar, baik seluruh wujud budaya (sistem budaya, sistem sosial, dan unsur-unsur budaya fisik) maupun seluruh unsur budaya (sistem pengetahuan, teknologi, ekonomi, bahasa, kesenian, sistem religi, dan kemasyarakatan).

Ketika perang berakhir, pada umumnya akan memunculkan pemenang. Bagi pemenang perang biasanya secara sengaja atau tidak disengaja akan memasukkan pengaruhnya kepada negara yang kalah.

### Tugas Mandiri

Dalam peperangan yang terjadi antara Indonesia dengan Belanda pada masa revolusi kemerdekaan, pengaruh apa yang diberikan atau ditanamkan oleh Belanda kepada rakyat Indonesia?



**Gambar 3.10** Perang akan berakibat hancurnya sebuah tatanan kehidupan.  
**Sumber:** Microsoft Student 2006



## b. Lingkungan Alam

Lingkungan alam adalah keadaan tanah, iklim, flora, dan fauna di sekitar kita. Keserasian hubungan antara manusia dan alam dapat terjadi karena kedudukan alam sebagai tempat hidup dan yang memberi kehidupan bagi manusia.

Lingkungan alam bagi manusia sangat besar artinya, karena manusia tidak bisa melepaskan dirinya dari lingkungan, walaupun dalam kehidupan modern sekalipun. Begitu pentingnya lingkungan alam bagi manusia dibuktikan dengan timbulnya reaksi apabila lingkungan alam di suatu tempat rusak.

Makna pokok lingkungan bagi manusia meliputi tujuh hal, yaitu manusia memiliki ikatan kuat dengan alam yang bersifat religius; nilai estetika mendasari kecintaan manusia pada alam; alam memberi kehidupan bagi manusia berupa penyediaan sandang, pangan, dan papan; alam dapat dijadikan teman bagi manusia pada waktu mengalami ancaman bencana; alam menjadi sumber penghasil tanaman dan ternak; alam bernilai bagi ilmu pengetahuan dan pendidikan; dan alam bernilai karena menjadi sumber kesehatan, keindahan, dan hiburan.



**Gambar 3.11** Kerusakan alam akan mengundang reaksi dari masyarakat dan menimbulkan perubahan sosial budaya.

**Sumber:** *Kompas*, Senin 28 November 2005.

Pertambahan manusia di muka bumi dengan segala keterbatasannya lambat laun akan menyentuh dan merusak alam. Semakin tinggi jumlah penduduk, semakin tinggi pula tekanan terhadap alam. Oleh karena itu, terjadilah apa yang kita kenal dengan perusakan alam.

Perubahan alam dapat disebabkan oleh campur tangan manusia seperti mengubah daerah pertanian menjadi daerah pemukiman. Perubahan ini mengakibatkan keguncangan budaya di kalangan petani yang kehilangan lahan untuk bertani. Mereka terpaksa berubah menjadi buruh pabrik atau menjalani pekerjaan lainnya.



Permasalahan yang muncul dari perubahan alam ini adalah menyempitnya lahan, terutama lahan pertanian.

c. Pengaruh Budaya Masyarakat Lain

Dalam era globalisasi sekarang ini, pengaruh budaya masyarakat lain tidak dapat dihindarkan lagi. Pengaruh ini dapat terjadi melalui kontak budaya langsung maupun tidak langsung. Kontak budaya langsung dapat terjadi antara satu masyarakat dengan masyarakat lain, antara satu bagian masyarakat dengan bagian masyarakat yang lain, atau antara individu dengan individu lain. Proses perubahan dalam kontak budaya langsung meliputi akulturasi, asimilasi, dan difusi.

Kontak budaya tidak langsung dapat terjadi melalui alat-alat komunikasi massa seperti radio, televisi, internet, film, majalah, dan surat kabar. Pengaruh dari kontak budaya ini pada perubahan sosial budaya terlihat pada perubahan pola hidup.

Perubahan sosial budaya karena pengaruh budaya masyarakat lain atau yang bersumber pada masyarakat lain terjadi karena kebudayaan dari masyarakat lain tersebut melontarkan pengaruhnya.



**Gambar 3.12** Internet memungkinkan kita untuk mengetahui informasi dan perkembangan di daerah lain dengan cepat.

**Sumber:** Dokumen Penerbit

### Tugas Mandiri

Coba identifikasi bentuk perubahan yang berasal dari alat-alat komunikasi yang kamu kenal!

Hubungan yang dilakukan antara dua masyarakat yang berbeda memiliki kecenderungan menimbulkan pengaruh timbal balik. Akan tetapi, jika hubungan tersebut melalui saluran alat-alat komunikasi, ada kemungkinan pengaruh itu hanya datang dari satu pihak saja, yaitu dari masyarakat pengguna alat-alat komunikasi yang bersangkutan. Apabila pengaruh dari masyarakat tersebut diterima karena tidak melalui cara-cara paksaan, hasilnya dinamakan *demonstration effect*.

Pengaruh suatu budaya, adakalanya dapat terlihat dengan jelas dan adapula yang samar. Pada masyarakat transisi dari tradisional ke modern, pengaruh budaya ini sangat jelas terlihat, bahkan lebih terkesan dilebih-lebihkan. Proses



pengadaptasian suatu kebudayaan baru cenderung lebih kuat sehingga budaya tradisional setiap masyarakat mulai ditinggalkan dan mungkin akan dilupakan.

## C. Faktor Pendorong dan Penghambat Perubahan Sosial Budaya

Proses perubahan sosial budaya yang terjadi di masyarakat dipengaruhi oleh beberapa faktor, baik faktor pendorong maupun faktor penghambat.

### 1. Faktor Pendorong Perubahan Sosial Budaya

Beberapa faktor yang mendorong terjadinya perubahan sosial budaya antara lain sebagai berikut.

- Kontak dengan kebudayaan lain.
- Sistem pendidikan yang maju.
- Sikap menghargai hasil karya orang lain dan keinginan kuat untuk maju.
- Toleransi terhadap perbuatan-perbuatan yang menyimpang.
- Sistem pelapisan masyarakat yang terbuka.
- Keadaan masyarakat yang majemuk.
- Ketidakpuasan masyarakat terhadap bidang-bidang kehidupan tertentu.
- Orientasi hidup ke masa depan.
- Senantiasa ada keinginan untuk memperbaiki tingkat kehidupan, artinya tidak mudah menyerah pada keadaan.

### 2. Faktor Penghambat Perubahan Sosial Budaya

Kamu sudah tahu faktor apa saja yang menjadi pendorong perubahan sosial budaya. Nah, tahukah kamu, faktor apa saja yang menjadi penghambat perubahan sosial budaya? Sekarang, kamu akan belajar beberapa faktor yang dapat menjadi penghambat perubahan (*rasistance to change*) sosial budaya dalam masyarakat yaitu sebagai berikut.

- Kurangnya hubungan dengan masyarakat lain.
- Perkembangan ilmu pengetahuan yang terhambat.
- Sikap masyarakat yang sangat tradisional.
- Dalam masyarakat terdapat kepentingan-kepentingan yang telah tertanam dengan kuat (*vested interest*).
- Adanya prasangka buruk terhadap hal-hal baru.
- Rasa takut akan terjadi keguncangan integrasi.
- Adanya hambatan yang bersifat ideologis.
- Hambatan yang bersifat adat dan kebiasaan.
- Adanya anggapan bahwa pada hakikatnya hidup ini buruk dan tidak mungkin diperbaiki.

#### Wawasan Sosial

Masyarakat majemuk adalah suatu masyarakat di mana di dalamnya terdapat beraneka ragam bentuk budaya yang dapat dilihat dari perbedaan suku bangsa, agama, ras, dan yang lainnya.





## D. Proses Perubahan Sosial Budaya

Tahukah kamu, bagaimana suatu perubahan sosial budaya terjadi dalam masyarakat? Proses perubahan sosial budaya yang terjadi di masyarakat umumnya dilakukan melalui akulturasi, asimilasi, dan difusi.

### 1. Akulturasi

Akulturasi adalah proses bertemunya dua budaya atau lebih di mana unsur-unsur budaya lama atau asli masih terlihat dan tidak hilang. Misalnya, proses percampuran budaya Jawa dengan budaya Islam yang saling memengaruhi.

Ada juga pendapat yang mengatakan bahwa akulturasi adalah proses masuknya pengaruh budaya asing ke dalam suatu masyarakat di mana sebagian masyarakat menyerap secara selektif dan sebagian lain berusaha menolaknya.

Pendapat lain mengatakan, akulturasi adalah proses atau hasil pertemuan budaya atau bahasa di antara dua masyarakat yang ditandai dengan saling meminjam.

Sehubungan dengan proses akulturasi, maka ada perbedaan antara unsur kebudayaan asing yang mudah dan sulit diterima.

Unsur budaya asing yang mudah diterima meliputi unsur budaya material, seperti peralatan-peralatan yang sangat mudah dipakai dan dirasakan sangat bermanfaat, unsur budaya yang terbukti membawa manfaat besar, serta unsur budaya yang mudah disesuaikan dengan keadaan masyarakat.

Sementara itu, unsur budaya asing yang sulit diterima meliputi unsur yang menyangkut sistem keyakinan, kepercayaan, ideologi, falsafah hidup, dan unsur-unsur yang dipelajari dalam taraf pertama proses sosialisasi.

Adapun golongan yang paling mudah menerima akulturasi adalah remaja.

Akulturasi dapat terwujud melalui kontak budaya yang bentuknya bermacam-macam.

Kontak budaya dapat terjadi di antara seluruh masyarakat, sebagian masyarakat, atau bahkan antarindividu dari dua masyarakat. Unsur-unsur budaya yang dijadikan bahan akulturasi tergantung pada status sosial dan status individu yang bersangkutan. Kehadiran teknologi misalnya, tentu berbeda dengan kehadiran seorang ulama. Kehadiran seorang psikolog berbeda dengan kehadiran seorang ekonom.

Kontak budaya dapat terjadi dalam suasana bersahabat atau suasana bermusuhan.




Kontak budaya pun dapat terjadi antara kelompok yang menguasai dan dikuasai dalam seluruh unsur budaya, baik dalam ekonomi, bahasa, teknologi, kemasyarakatan, agama, kesenian, maupun ilmu pengetahuan.

Selain itu, kontak budaya dapat terjadi di antara masyarakat yang jumlah warganya banyak atau sedikit, dan dapat pula terjadi dalam ketiga wujud budaya, baik sistem budaya, sistem sosial, maupun unsur-unsur budaya fisik.

Hasil proses akulturasi budaya lebih didasarkan pada kekuatan tiap budaya. Semakin kuat suatu budaya, semakin cepat memengaruhi budaya lainnya. Salah satu contoh menarik dari proses akulturasi di Indonesia adalah yang terjadi di daerah transmigrasi.

Di antara berbagai suku bangsa yang terdapat di daerah transmigrasi, mau tidak mau terjadi pertemuan dua budaya atau lebih. Dalam proses akulturasi itu, perbedaan-perbedaan yang ada berjalan beriring dengan persamaan-persamaan yang mereka miliki, sampai pada akhirnya nanti budaya yang lebih kuat pengaruhnya akan lebih banyak berperan dalam proses akulturasi.



**Gambar 3.13** Kontak budaya dapat terjadi melalui kesenian dan teknologi.

**Sumber:** *Microsoft Student 2006, Dokumen Penerbit*

## 2. Asimilasi

Proses bertemunya dua budaya atau lebih yang bercampur menjadi satu dalam bentuk budaya baru, sementara budaya aslinya tidak tampak disebut asimilasi. Proses asimilasi berlangsung secara intensif dalam kurun waktu yang cukup lama, sehingga unsur-unsur dan wujud tiap budaya lebur menjadi unsur dan wujud budaya yang lebih dinamis.

Asimilasi berbeda dengan akulturasi. Dalam akulturasi, setiap budaya masih memiliki identitas konkret, sedangkan dalam asimilasi, identitas budaya dari setiap budaya asli yang mengalami kontak budaya lebur menjadi unsur dan wujud budaya baru yang jauh berbeda dengan budaya aslinya.



### Wawasan Sosial

Di kota-kota besar seperti Jakarta, Bandung, Semarang, dan Surabaya dapat dengan mudah ditemukan berbagai variasi suku, sehingga proses asimilasi antarsuku akan semakin besar.





**Gambar 3.14** Perkawinan campuran memungkinkan berkembangnya asimilasi dalam seluruh wujud unsur budaya

**Sumber:** Dokumen Penerbit

Proses asimilasi dapat berjalan cepat atau lambat, bergantung pada berbagai faktor, antara lain toleransi, ekonomi, simpati, dan perkawinan campuran.

a. Toleransi

Toleransi adalah suatu sikap menghargai, membiarkan, dan memberikan hak berkembang suatu pendirian (pendapat, pandangan, kepercayaan, kebiasaan, pola tingkah laku) yang berbeda atau bertentangan dengan pendirian diri sendiri.

Sikap toleran yang tinggi akan memungkinkan proses asimilasi budaya berjalan lancar tanpa hambatan. Namun sikap yang tidak mau menerima dan apatis terhadap budaya lain akan menghambat asimilasi.

b. Ekonomi

Kedudukan ekonomi dalam suatu sistem sosial dapat memengaruhi jalannya asimilasi. Apabila dalam suatu masyarakat terdapat kelompok ekonomi yang bermaksud menguasai kehidupan ekonomi kelompok lain, atau kedudukan ekonomi suatu kelompok masyarakat jauh tertinggal dari kelompok yang lain, maka asimilasi menjadi sulit dijalankan. Hal yang sama juga terjadi jika dalam suatu kelompok masyarakat terjadi diskriminasi.

c. Simpati

Simpati adalah keterlibatan perasaan dari satu kelompok sosial budaya kepada kelompok sosial budaya lainnya. Di dalamnya terkandung aspek kepedulian atau keikutsertaan merasakan perasaan kelompok masyarakat lain, yaitu perasaan senang, sedih, bangga, bahagia atau haru.

d. Perkawinan Campuran (*amalgamation*)

Perkawinan campuran memungkinkan berkembangnya asimilasi dalam seluruh wujud dari unsur budaya. Dalam negara yang majemuk seperti Indonesia, peran perkawinan campuran dalam asimilasi budaya sangat besar.

### Tugas Mandiri

Berikan contoh asimilasi yang berjalan cepat dan asimilasi yang berjalan lambat! Sesuaikan dengan lingkunganmu!



Selain faktor-faktor pendukung, ada pula faktor-faktor penghambat terjadinya asimilasi, yaitu kurangnya pengetahuan tentang budaya lain di luar budaya sendiri, sikap inferioritas (ketakutan, minder) terhadap budaya lain, dan sikap superioritas yang dimiliki oleh individu-individu dalam suatu kelompok budaya terhadap kelompok lainnya.



**Gambar 3.15** Percampuran dua budaya dapat terjadi melalui perkawinan.  
**Sumber:** [img.photobucket.com](http://img.photobucket.com)

### 3. Difusi

Difusi adalah proses penyebaran atau perembesan suatu unsur budaya dari seseorang kepada orang lain, atau dari suatu kelompok masyarakat ke kelompok masyarakat lainnya.

Prinsip yang pertama dari difusi adalah unsur-unsur kebudayaan itu pertama-tama akan diambil alih masyarakat yang paling dekat hubungannya atau letaknya paling dekat dari sumbernya. Baru kemudian, kebudayaan baru tersebut diambil oleh masyarakat yang jauh hubungan atau letaknya jauh dari sumber unsur budaya baru.

Prinsip yang kedua mengenai *marginal survivals*, yaitu semakin jauh penyebaran unsur budaya itu dari pusatnya, maka semakin kabur sifatnya.

Difusi mengandung tiga proses, yaitu proses penyajian unsur-unsur baru kepada suatu masyarakat, penemuan unsur baru, dan proses integrasi.

Pada dasarnya difusi dapat dibedakan menjadi dua, yaitu difusi intramasyarakat dan difusi antarmasyarakat.

- a. Difusi intramasyarakat terjadi dalam, oleh, dan untuk masyarakat sendiri. Hal ini dapat terjadi karena adanya pengakuan bahwa unsur baru suatu budaya lebih bermanfaat; kedudukan dan peran sosial setiap pribadi yang menghadirkan pembaruan; serta kesadaran bahwa sistem budaya, sistem sosial, dan semua unsur budaya fisik tidak relevan lagi untuk menjembatani hidup dan kehidupan masyarakat.

#### Wawasan Sosial

Masuknya unsur-unsur baru ke dalam suatu masyarakat dapat terjadi melalui berikut ini.

- Perembesan damai (*penetration passitique*) yaitu masuknya unsur baru tanpa kekerasan dan paksaan, namun justru masyarakat yang menerima semakin maju.
- Perembesan dengan kekerasan (*penetration violente*), yaitu masuknya unsur baru yang diwarnai dengan kekerasan dan paksaan, sehingga merusak kebudayaan masyarakat penerima.
- Simbiotik, yaitu masuknya unsur baru ke atau dari masyarakat yang hidup berdampingan.



### Tugas Mandiri

Siapakah tokoh berkarisma di daerahmu? Apakah tokoh tersebut pernah membuat sebuah pembaruan dalam kehidupan sosial di daerahmu?

- b. Difusi antarmasyarakat terjadi dalam, oleh, dan antarmasyarakat. Hal ini disebabkan oleh adanya kontak sosial budaya antara masyarakat yang satu dengan masyarakat lainnya; pengakuan bahwa unsur baru lebih bagus dan bermanfaat; tokoh berkarisma yang mampu menyebarluaskan suatu pembaruan; dan suatu otoritas yang mampu memaksakan kehendak.

## E. Bentuk-Bentuk Perubahan Sosial Budaya

Bentuk-bentuk perubahan sosial budaya di masyarakat dapat dilihat dari beberapa aspek, yaitu kecepatan perubahan, tingkat pengaruh perubahan, dan perencanaan perubahan.

Dari bagan tersebut, dapat diuraikan tentang bentuk-bentuk perubahan sosial sebagai berikut.

### 1. Kecepatan Perubahan

Tidak ada ukuran tepat untuk mengatakan bahwa perubahan yang terjadi di masyarakat berlangsung cepat atau lambat, tergantung dari proses dan pelaku perubahan tersebut.

Pada umumnya, perubahan dikatakan berlangsung cepat apabila perubahan tersebut membuahkan hasil dengan cepat pula. Begitu pun sebaliknya, apabila hasil perubahan berlangsung lambat, dapat dikatakan proses perubahan tersebut lambat.

Perubahan yang cepat disebut revolusi (*revolution*), sedangkan perubahan yang lambat disebut evolusi (*evolution*). Proses revolusi dan evolusi merupakan usaha manusia untuk menyesuaikan kepentingan, keinginan, dan kondisi pertumbuhan masyarakat.

#### a. Perubahan Cepat (Revolusi/*Revolution*)

Perubahan ini ditandai dengan berubahnya suatu tatanan hidup masyarakat (politik, ekonomi, sosial, budaya) dengan cepat.

Perubahan secara cepat ada yang direncanakan, ada yang tidak direncanakan, serta ada yang dikehendaki dan ada yang tidak dikehendaki. Dalam perubahan sosial budaya secara cepat, kemungkinan timbulnya sifat anarki dan tindakan kekerasan sangat besar terjadi.

Untuk melakukan perubahan sosial budaya yang cepat, harus memenuhi tiga syarat, yaitu adanya pemimpin perubahan (*leader of change*), timbulnya keinginan massa untuk berubah, dan munculnya waktu yang tepat untuk melakukan perubahan.

Beberapa kejadian yang menyangkut revolusi ini mungkin pernah kamu dengar, antara lain revolusi kemerdekaan Republik Indonesia dan revolusi industri di Inggris.

### Wawasan Sosial

Revolusi industri di Inggris terjadi dari tahap produksi tanpa mesin menuju ke tahap produksi dengan menggunakan mesin.

### Tugas Bersama

Revolusi selalu diikuti dengan pertumpahan darah. Setujukah kamu dengan pernyataan tersebut? Kemukakan pendapatmu! Diskusikan dengan teman sebangkumu!



### b. Perubahan Lambat (Evolusi/*Evolution*)

Perubahan secara lambat adalah perubahan yang memerlukan waktu yang cukup lama. Perubahan ini merupakan suatu rangkaian dari perubahan-perubahan kecil yang berlangsung lambat. Perubahan ini juga terjadi dengan sendirinya dan tidak direncanakan.

## 2. Tingkat Pengaruh Perubahan

Besar atau kecilnya pengaruh perubahan sosial budaya terhadap masyarakat dapat dilihat pada sumbangan perubahan itu kepada masyarakat. Apakah perubahan itu menguntungkan, merugikan, atau mengubah struktur masyarakat.

Memang, sangat sulit untuk mengukur besar atau kecilnya pengaruh perubahan terhadap suatu masyarakat. Bagi masyarakat tertentu, suatu perubahan dapat menyebabkan krisis yang besar, sementara bagi masyarakat yang lain tidak menimbulkan krisis sama sekali.

### a. Perubahan dengan Tingkat Pengaruh Besar

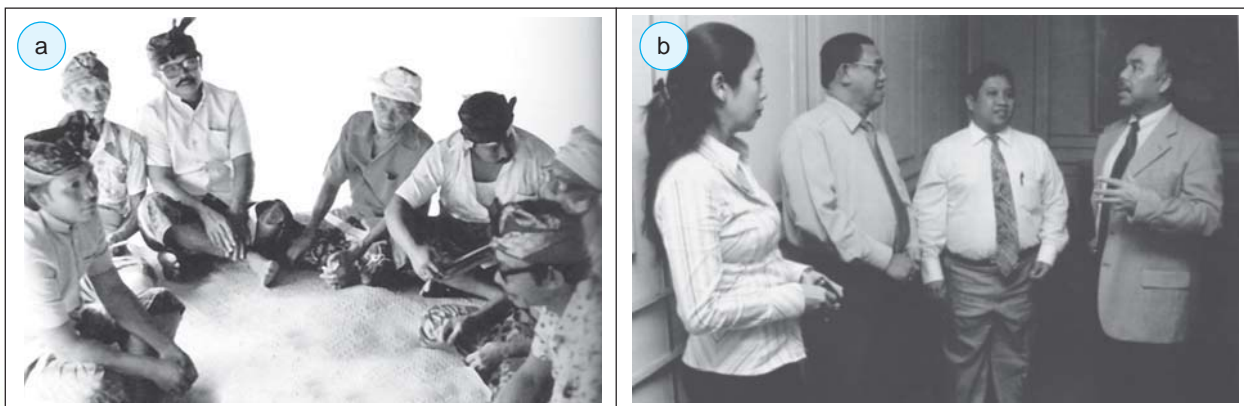
Tingkat perubahan ini berpengaruh langsung terhadap perubahan sendi-sendi kehidupan manusia. Contohnya adalah adanya modernisasi, industrialisasi, liberalisasi, dan globalisasi. Sebagai negara agraris, sebagian besar rakyat Indonesia hidup dari bidang pertanian. Tetapi dengan berkembangnya industri, secara bertahap telah terjadi perubahan arah tumpuan ekonomi ke bidang industri. Perubahan masyarakat agraris ke masyarakat industri memberikan pengaruh besar pada kehidupan bermasyarakat. Perubahan yang terjadi tampak pada pola hubungan antarsesama. Dalam kehidupan masyarakat agraris, pola-pola hubungan kekerabatan seperti silaturahmi dan tatap muka masih sering dilakukan, tetapi pada masyarakat industri telah terjadi perubahan. Setiap proses hubungan antarindividu atau masyarakat lebih banyak didasarkan pada pertimbangan untung rugi bagi individu atau kelompok.

### Tugas Bersama

Amatilah lingkungan di sekitarmu! Tunjukkan beberapa contoh perubahan lambat yang terjadi di masyarakat!

### Tugas Mandiri

Mengapa pola komunikasi pada masyarakat agraris berbeda dengan pola komunikasi masyarakat industri?



**Gambar 3.16** (a) Pertemuan penduduk desa dalam suasana kekeluargaan, (b) pertemuan bisnis dengan orientasi keuntungan finansial.

**Sumber:** *Indonesian Heritage 2002, Warta Ekonomi*



b. Perubahan dengan Tingkat Pengaruh Kecil

Perubahan yang pengaruhnya kecil adalah perubahan pada unsur-unsur struktur sosial budaya yang tidak membawa pengaruh langsung atau pengaruh berarti bagi masyarakat. Misalnya, mode rambut atau mode pakaian. Demikian juga perubahan kegemaran seorang pelajar terhadap lagu-lagu Barat tidak akan menyebabkan institusi-institusi lain ikut berubah.

Bentuk perubahan pada tingkatan ini hanya dilakukan oleh sekelompok orang dengan motif-motif tertentu. Motif tersebut timbul karena adanya keinginan individu untuk meniru dan sama dengan orang lain.



**Gambar 3.17** Perubahan mode pakaian, contoh perubahan dengan pengaruh kecil serta memiliki tingkat imitasi yang cepat.

**Sumber:** [www.prasetya.brawijaya.ac.id](http://www.prasetya.brawijaya.ac.id)

### 3. Perencanaan Perubahan

Apabila kita lihat dari perencanaan perubahan, perubahan sosial budaya terbagi ke dalam dua jenis, yaitu perubahan yang direncanakan (*planned change*) dan perubahan yang tidak direncanakan (*unplanned change*).

a. Perubahan yang Direncanakan (*Planned Change*)

Perubahan yang direncanakan merupakan bentuk perubahan yang telah dirancang oleh pihak-pihak tertentu yang akan mengadakan perubahan (*agent of change*), seperti pejabat pemerintah, tokoh masyarakat, atau mahasiswa. Perubahan yang direncanakan ini sering disebut dengan perencanaan sosial (*social planning*). Contohnya pembangunan sarana dan prasarana kehidupan seperti jalan, perkantoran, bendungan, dan kawasan industri.

b. Perubahan yang Tidak Direncanakan (*Unplanned Change*)

Perubahan ini terjadi dengan sendirinya sebagai akibat dari suatu program atau kebijakan yang dijalankan.





**Gambar 3.18** Tenaga kerja yang mudik dan kembali lagi ke kota dengan membawa teman atau kerabatnya akan semakin menambah permasalahan sosial di kota, yaitu urbanisasi yang tidak terkendali.

**Sumber:** *Kompas*, 9 November 2005

Contohnya pembangunan industri di kota-kota besar telah mengakibatkan lahirnya urbanisasi yang berdampak pada munculnya pengangguran dan kemiskinan di perkotaan.

Bentuk perubahan yang terjadi dapat berakibat positif, dalam arti dapat menunjang pola perubahan tersebut, atau sebaliknya bersifat negatif dan dapat merongrong perubahan yang dilaksanakan.

## **F. Tipe-Tipe Perilaku Masyarakat Menyikapi Perubahan Sosial Budaya**

Perubahan sosial budaya mengubah unsur-unsur yang ada dalam masyarakat, dari unsur-unsur lama dan digantikan dengan unsur-unsur baru yang lebih sesuai dengan tuntutan dan perkembangan zaman saat ini. Perubahan sosial budaya ditandai dengan adanya penemuan-penemuan baru, khususnya di bidang ilmu pengetahuan dan teknologi yang menghasilkan berbagai macam peralatan modern yang berfungsi untuk memenuhi kebutuhan hidup manusia. Selain itu juga ditandai dengan lahirnya berbagai kebudayaan dan gaya hidup baru sebagai hasil dari masuknya unsur-unsur budaya asing, terutama budaya Barat.

Di era global seperti sekarang ini, perubahan yang terjadi pada suatu negara dapat dengan mudah diketahui oleh negara lain dan pengaruhnya dapat dengan cepat menyebar ke seluruh negara di dunia. Perubahan sosial budaya melahirkan berbagai tanggapan dari anggota masyarakat. Tanggapan diwujudkan dalam bentuk perilaku, di antaranya adalah menerima dengan filter, menolak, menerima tanpa filter, bahkan tidak peduli atau cuek.

### **1. Menerima Tanpa Filter**



## Tugas Bersama

Melihat kenyataan di masyarakat mengenai banyaknya budaya Barat yang tidak sesuai dengan budaya kita yang telah dikonsumsi oleh remaja, tindakan apa yang dapat kamu lakukan untuk mencegah atau mengatasinya agar pengaruh tersebut tidak semakin meluas? Diskusi-kon dengan teman sebangkumu!

Maksudnya bahwa semua penemuan baru dan unsur-unsur budaya asing yang masuk diterima secara langsung tanpa adanya seleksi atau penyesuaian terhadap kebudayaan yang dimiliki atau kebudayaan setempat. Golongan masyarakat yang umumnya menerima perubahan tanpa seleksi adalah generasi muda. Hal itu disebabkan generasi muda kejiwaannya masih labil karena belum mempunyai pegangan yang kuat terhadap nilai yang berlaku di dalam masyarakat. Selain itu juga karena generasi muda masih mencari-cari tentang jati dirinya.

Umumnya generasi muda menganggap bahwa segala sesuatu yang berasal dari negara Barat adalah modern dan bagus. Oleh karena itu mereka akan senantiasa untuk meniru dan menerapkan semua unsur-unsur budaya Barat yang masuk agar dikatakan modern dan tidak ketinggalan zaman. Banyak unsur-unsur budaya Barat yang diterima dan ditiru oleh generasi muda, antara lain sebagai berikut.

a. Mode dan Cara Berpakaian

Misalnya penggunaan baju *tingtop*, celana jeans yang robek-robek, rok mini, dan lain-lain.

b. Mode Rambut

Misalnya rambut dicat warna-warni, rambut dipotong ala David Beckham, dan lain-lain.

c. Pergaulan

Misalnya kafe, diskotik, dunia gemerlap (*dugem*), dan lain-lain.

d. Gaya Hidup

Misalnya mal, minum-minuman keras, penyalahgunaan narkoba, dan lain-lain.

Kamu sebagai belajar sekaligus generasi penerus cita-cita perjuangan bangsa, sudah seharusnya tidak meniru berbagai unsur budaya Barat, seperti telah dijelaskan di atas. Unsur-unsur budaya Barat tersebut tidak sesuai dengan budaya bangsa kita. Terutama dalam pergaulan dan gaya hidup, pandai-pandailah untuk memilih teman dan bergaul. Jangan pernah mencoba sesuatu yang merugikan diri kamu sendiri, keluarga, dan masyarakat. Selalu jauhi narkoba, dan jangan takut untuk *say no drugs!*

## 2. Menerima dengan Filter

Maksudnya bahwa penemuan-penemuan baru dan unsur-unsur budaya asing yang masuk diterima secara selektif dalam arti disesuaikan dengan kebudayaan masyarakat setempat. Ini berarti bahwa tidak semua unsur-unsur budaya asing yang masuk diterima, ditiru, dan diterapkan dalam kehidupan. Hanya penemuan-penemuan baru dan unsur-unsur budaya yang sesuai dengan kebudayaan masyarakatnya saja yang diterima dan diterapkan. Selain itu juga penemuan-penemuan baru dan unsur-unsur budaya yang menguntungkan demi kemajuan



masyarakat, bangsa, dan negaranya.

Hal ini dimaksudkan agar masuknya penemuan-penemuan baru dan unsur-unsur budaya asing tidak merusak, memudahkan, dan menghilangkan ciri khas budaya masyarakat setempat yang merupakan tradisi warisan nenek moyang, sekaligus kekayaan negara yang apabila dipelihara dan dikelola dengan baik dapat memajukan perekonomian negara karena dapat mendatangkan devisa. Unsur-unsur budaya Barat yang menguntungkan demi kemajuan masyarakat, bangsa, dan negara antara lain sebagai berikut.

- a. Semangat kerja yang tinggi.
- b. Ulet dan tekun.
- c. Menghargai waktu.
- d. Disiplin.
- e. Berpikir sistematis dan logis.
- f. Dalam melakukan sesuatu menggunakan suatu perencanaan yang matang.
- g. Berorientasi ke masa depan.
- h. Motivasi yang tinggi untuk menguasai ilmu pengetahuan dan teknologi.
- i. Produktif dan efisien.
- j. Mandiri.
- k. Berani bersaing secara sehat.
- l. Bertanggung jawab.
- m. Tidak mudah menyerah.
- n. Tidak pasrah pada nasib.
- o. Terbuka terhadap pembaruan.
- p. Keinginan yang tinggi untuk belajar.

### 3. Menolak

Dalam masyarakat, ada golongan penduduk yang mempunyai kecenderungan untuk menolak perubahan sosial budaya, yaitu penemuan-penemuan baru dan unsur-unsur budaya asing. Golongan itu adalah generasi tua. Generasi tua umumnya telah mempunyai pegangan yang kuat terhadap tradisi-tradisi yang ada di masyarakatnya yang telah dipelajarinya sejak dulu. Oleh karena itu pada saat ada unsur-unsur budaya asing mereka cenderung menolak karena mereka merasa bahwa budaya tersebut tidak sesuai dengan budaya dalam masyarakatnya. Mereka juga merasa bahwa dengan masuknya unsur-unsur baru tersebut dapat memudahkan tradisi yang telah lama ada dalam masyarakat dan budaya luhur bangsa Indonesia.

Budaya Barat yang tidak sesuai dengan kepribadian bangsa Indonesia antara lain sebagai berikut.

- a. Minum-minuman keras.
- b. Penyalahgunaan obat-obat terlarang (narkoba).
- c. Pergaulan bebas yang mengakibatkan terjadinya hubungan

### Tugas Mandiri

Apakah keuntungan menerima unsur-unsur baru yang masuk dengan menggunakan filter (selektif)? Jelaskan!





**Gambar 3.19** Warga miskin umumnya tidak peduli dengan perubahan yang terjadi di masyarakat.

**Sumber:** *Tempo*, 14 Agustus 2006

seksual sebelum dan di luar nikah.

d. Kebiasaan berpesta.

e. Individualisme.

Selain itu generasi tua juga takut apabila negaranya dijajah lagi oleh negara Barat. Hal itu karena kebanyakan teknologi hasil penemuan baru dan berbagai alat pemenuhan kebutuhan hidup manusia serta unsur-unsur budaya asing yang masuk ke Indonesia berasal dari negara-negara Barat yang dulu pernah menjajah negaranya. Oleh karena itu mereka takut apabila unsur-unsur tersebut dijadikan sebagai alat untuk menjajah kembali negaranya.

#### 4. Tidak Peduli atau Cuek

Dalam masyarakat, selain ada golongan yang menerima dan menolak suatu perubahan, ada juga golongan yang cenderung tidak peduli terhadap perubahan yang ada. Mereka tidak menerima maupun tidak menolak. Jadi mereka bersikap apa adanya tanpa terpengaruh oleh perubahan-perubahan yang terjadi dalam masyarakat. Yang terpenting bagi dirinya adalah bahwa perubahan tersebut tidak mengganggu atau memengaruhi kegiatannya dalam bekerja untuk memenuhi kebutuhan hidupnya dan keluarganya.

Sikap tidak peduli ini umumnya dilakukan oleh anggota masyarakat kelas bawah. Mereka tidak peduli dengan perubahan yang terjadi dalam masyarakat, karena mereka hanya memikirkan bagaimana untuk tetap bisa mempertahankan hidup.



### Rangkuman

- ❖ Perubahan sosial budaya adalah perubahan yang terjadi dalam kehidupan masyarakat, mencakup perubahan budaya yang di dalamnya terdapat perubahan nilai-nilai dan tata cara kehidupan dari tradisional menjadi modern.
- ❖ Faktor-faktor penyebab perubahan sosial budaya
  - Faktor intern, meliputi konflik nilai, faktor demografi, penemuan baru, konflik dan perubahan, ide dan perubahan, pertentangan dalam masyarakat, serta terjadinya revolusi.
  - Faktor ekstern, meliputi peperangan, lingkungan alam, dan pengaruh budaya masyarakat lain.
- ❖ Proses perubahan sosial budaya terjadi melalui asimilasi, akulturasi, dan difusi.
  - Asimilasi adalah proses bertemunya dua budaya atau lebih yang bercampur menjadi satu dalam bentuk budaya baru, sementara budaya aslinya tidak tampak.
  - Akulturasi adalah proses bertemunya dua budaya atau lebih di mana unsur-unsur budaya lama atau asli masih terlihat dan tidak hilang.
  - Difusi adalah proses penyebaran atau perembesan suatu unsur budaya dari seseorang kepada orang lain, atau dari suatu kelompok masyarakat kepada kelompok masyarakat yang lain.



- ❖ Bentuk-bentuk perubahan sosial budaya
  - Berdasarkan kecepatan perubahan, meliputi perubahan cepat dan lambat.
  - Berdasarkan tingkat pengaruh perubahan, meliputi perubahan dengan tingkat pengaruh besar dan kecil.
  - Berdasarkan perencanaan perubahan, meliputi perubahan yang direncanakan dan tidak direncanakan.
- ❖ Tipe-tipe perilaku masyarakat dalam menyikapi perubahan sosial budaya adalah menerima dengan filter, menerima tanpa filter, menolak, dan tidak peduli atau cuek.

## Refleksi

Kamu sudah mempelajari perubahan sosial budaya dalam masyarakat. Sekarang coba kamu amati masyarakatmu. Kita akan mengaplikasikan materi yang telah dipelajari dengan keadaan masyarakatmu.

No	Pernyataan	Ya	Tidak
1.	Apakah di masyarakatmu terjadi perubahan sosial?		
2.	Apakah di masyarakatmu terjadi perubahan budaya?		
3.	Semakin tingginya penambahan penduduk di masyarakatmu, apakah kebutuhan penduduk akan lahan semakin meningkat?		
4.	Apakah anggota masyarakatmu ada yang melakukan perkawinan campuran antarsuku atau antarnegara?		
5.	Apakah di masyarakatmu terjadi perubahan yang tidak direncanakan, seperti gempa bumi?		

## Latihan Soal

3

*Kerjakan di buku tugasmu!*

### I. Pilihlah satu jawaban yang paling tepat!

1. Faktor penyebab terjadinya perubahan sosial budaya adalah ....
  - a. sikap masyarakat yang masih tradisional
  - b. prasangka terhadap hal-hal baru
  - c. perubahan komposisi penduduk
  - d. sistem pendidikan yang telah berkembang
2. Inti dari perubahan kebudayaan adalah ....
  - a. perubahan dari aktivitas kebudayaan
  - b. isi dari unsur kebudayaan
  - c. perubahan cara hidup dari masyarakat pendukungnya
  - d. perubahan dari bagian kebudayaan yang diperkecil



3. Contoh perubahan direncanakan adalah ....
  - a. kurikulum pelatihan, pesta perkawinan, sumbangan sukarela
  - b. kurikulum pelatihan, kelahiran anak, anggaran belanja
  - c. anggaran belanja, spontanitas kelas, rencana tata ruang kota
  - d. inovasi, upacara kematian, rencana rekreasi
4. Perhatikan pernyataan-pernyataan berikut ini.
  - (1) Dengan sengaja.
  - (2) Penemuannya sulit dilacak.
  - (3) Berlangsung dalam waktu lama.
  - (4) Jelas kegunaan praktisnya.
 Dari pernyataan di atas yang termasuk pengertian *invention* ditunjukkan oleh nomor ....
  - a. (1) dan (2)
  - b. (1) dan (3)
  - c. (2) dan (3)
  - d. (3) dan (4)
5. Perubahan sosial budaya menurut Kingsley Davis adalah perubahan ....
  - a. dalam hubungan sosial atau perubahan terhadap keseimbangan sosial tersebut
  - b. yang menunjuk pada modifikasi-modifikasi dalam pola perilaku manusia
  - c. yang terjadi dalam struktur masyarakat
  - d. yang mencakup unsur-unsur kebudayaan materi maupun nonmateri
6. Faktor ekstern yang menyebabkan terjadinya perubahan sosial budaya adalah ....
  - a. perilaku menyimpang kelompok
  - b. penemuan baru
  - c. perubahan jumlah penduduk
  - d. lingkungan alam
7. *Discovery* merupakan penemuan baru yang sebelumnya tidak direncanakan, sedangkan *invention* adalah ....
  - a. penemuan yang pengaruhnya menjalar pada berbagai bidang
  - b. penemuan yang menyebabkan perubahan pada bidang tertentu
  - c. penemuan baru yang sebelumnya sudah ada dengan usaha disengaja
  - d. penemuan baru yang menimbulkan kemudahan dalam kehidupan masyarakat
8. Pengaruh suatu perubahan dapat dengan cepat menjalar dari satu negara ke negara lain karena adanya berikut ini, *kecuali* ....
  - a. internet
  - b. radio
  - c. pesawat terbang
  - d. televisi
9. Perubahan kebudayaan mencakup berikut ini, *kecuali* ....
  - a. adat istiadat
  - b. kepercayaan
  - c. interaksi sosial
  - d. pengetahuan
10. Persamaan difusi dan akulturasi adalah ....
  - a. memerlukan kontak
  - b. penyebaran unsur-unsur baru
  - c. pembentukan kebudayaan baru
  - d. memerlukan perantara
11. Contoh pengaruh penemuan baru yang menyebar atau meluas pada bidang-bidang kehidupan masyarakat adalah penemuan ....
  - a. radio
  - b. pesawat terbang
  - c. sepeda motor
  - d. bolpoin
12. Perubahan kebudayaan mencakup segenap cara berpikir dan bertindak laku yang timbul karena ....
  - a. adanya interaksi yang bersifat komunikatif
  - b. tidak adanya hubungan sosial
  - c. kuatnya tradisi yang dipegang oleh warga masyarakat
  - d. Sulitnya beradaptasi dengan lingkungan
13. Pada saat kamu menonton sinetron di televisi, ada adegan-adegan berbelanja di mal, makan *pizza*, *hamburger*, *fried chicken*, dan minum-minuman bersoda. Hal ini menunjukkan adanya ....
  - a. pengaruh lingkungan dan iklan
  - b. kesenangan dan kepuasan pribadi
  - c. dampak perubahan budaya
  - d. saling memengaruhi antara budaya Barat dengan budaya bangsa Indonesia



14. Terhadap unsur-unsur budaya asing yang masuk, kita hendaknya ....
- a. menerima semua unsur yang masuk tanpa mengadakan penyesuaian
  - b. menerima semua unsur yang masuk agar dikatakan sebagai orang yang modern
  - c. menolak karena tidak sesuai dengan tradisi yang diwariskan nenek moyang
  - d. menerima semua unsur yang masuk secara selektif disesuaikan dengan nilai budaya dan kepribadian bangsa
15. Budaya Barat yang tidak sesuai dengan kepribadian bangsa Indonesia adalah ....
- a. ulet dan tekun
  - b. semangat kerja yang tinggi
  - c. bertanggung jawab
  - d. hubungan seksual sebelum menikah

## II. Jawablah pertanyaan berikut dengan benar!

1. Apakah yang dimaksud dengan perubahan sosial?
2. Jelaskan faktor-faktor penghambat perubahan sosial budaya dalam masyarakat!
3. Apakah yang dimaksud dengan akulturasi?
4. Mengapa generasi muda cenderung menerima unsur-unsur Barat tanpa filter?
5. Apakah tujuan manusia mengadakan perubahan?



*Bacalah wacana di bawah ini dengan saksama!*

### Barong Ider Bumi



Suara angklung terdengar nyaring memecah keheningan siang yang terik di Desa Kemiren, Kecamatan Glagah, sekitar 15 kilometer arah barat Kota Banyuwangi, saat masyarakat Using Banyuwangi merayakan Lebaran kedua. Hari itu mereka menggelar ritual arak-arakan Barong Ider Bumi sebagai kepercayaan turun-temurun untuk keselamatan warga desa.

Dahulu, desa terserang *pagebluk*, sehingga banyak warga meninggal tanpa sebab jelas. Akhirnya, seorang warga memperoleh *wangsit* bahwa wabah tersebut akan hilang jika diadakan arak-arakan barong.

Arak-arakan tersebut sangat sederhana, diawali seorang penari barong diiringi pemain kendang dan gamelan, kemudian diikuti sejumlah sesepuh desa sambil melemparkan beras kuning dan uang logam sejumlah Rp99.999 yang menjadi rebutan anak-anak kecil. Sepanjang perjalanan, warga desa menyaksikan arak-arakan dari pinggir jalan sambil ikut meraih beras kuning dan uang logam.

Setelah menyusuri jalan desa sekitar dua kilometer, arak-arakan pun berakhir. Sejumlah ibu dari 28 RT telah menyiapkan tumpeng dan pecel *pitik* (pecel ayam) untuk selamatan yang digelar di tengah-tengah jalan desa. Acara makan bersama yang memungkasi ritual hari itu terasa guyup dan mencerminkan kebersamaan khas masyarakat desa.

*Teks dan foto: Raditya Helabumi Jayakarna  
Kompas, Minggu, 20 November 2005*

**Jawablah pertanyaan-pertanyaan berikut dengan mendiskusikannya dalam kelompokmu!**

1. Di manakah fenomena sosial pada wacana di atas terjadi? Gunakan peta Jawa Timur untuk menentukan letaknya!
2. Apakah tujuan diadakannya ritual tersebut?
3. Menurut kelompokmu, bagaimana sikap masyarakat Using Banyuwangi dalam menjaga budayanya?
4. Menurut kelompokmu, apakah telah terjadi perubahan sosial budaya pada masyarakat Using Banyuwangi? Berikan pendapat kelompokmu!
5. Rangkumlah hasil diskusi kelompokmu, kemudian presentasikan di depan kelas!



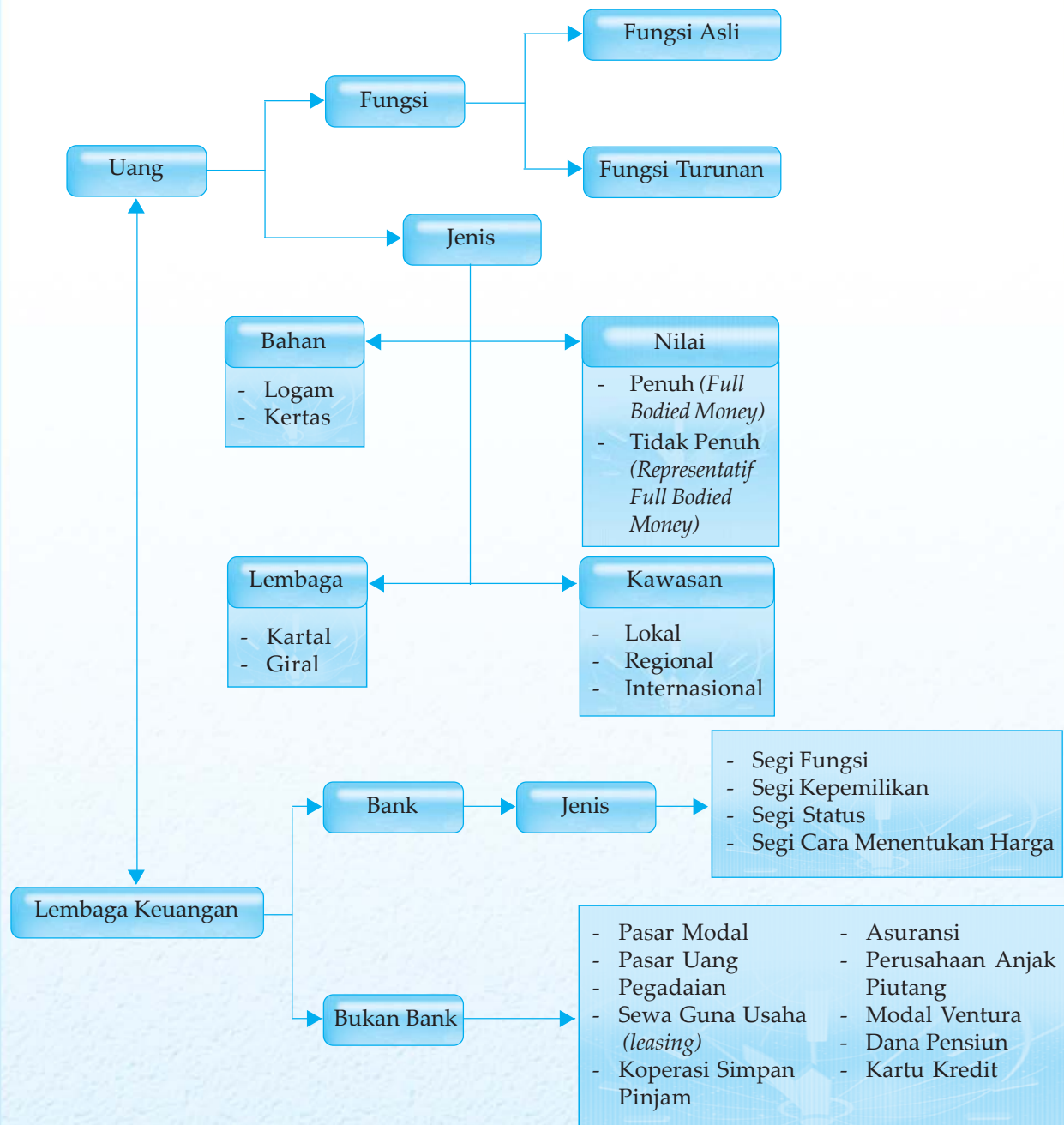
# Uang dan Lembaga Keuangan



Dahulu orang menabung di rumah, bisa di lubang bambu atau di bawah kasur. Kini, masyarakat telah memanfaatkan keberadaan lembaga keuangan, terutama bank, untuk menabungkan uangnya. Sejauh mana kamu mengetahui peran bank dan lembaga keuangan dalam kegiatan ekonomi masyarakat? Untuk itu, pelajailah bab ini secara saksama agar kamu memahami tentang uang serta lembaga keuangan.



# Peta Konsep



## Kata Kunci

- uang
- bank
- Lembaga Keuangan bukan Bank (LKBB)



Dalam kondisi seperti sekarang ini, sulit untuk mencari orang yang tidak mengenal uang. Anak-anak kecil yang belum sekolah pun pada umumnya telah mengenal uang, termasuk kamu sendiri. Setiap kali berangkat ke sekolah bukankah kamu masih mengharapkan uang jajan dari orang tua? Memang, uang sudah menjadi alat untuk memenuhi keperluan sehari-hari, bahkan sudah menjadi suatu kebutuhan sebagai penggerak perekonomian bangsa. Uang yang mula-mula hanya digunakan sebagai alat tukar, kini mempunyai banyak fungsi (multifungsi).

## A. Uang

Siapa di antara kamu yang tidak mengenal uang? Aneh rasanya bila anak seusiamu dan tidak tinggal di suatu pedalaman terpencil tidak mengenal uang. Bagi sebagian orang, uang dianggap segalanya. Pandangan itu tentu saja tidak benar sebab tidak semua hal bisa dibeli dengan uang. Akan tetapi, pernahkah kamu memikirkan, apakah yang dimaksud dengan uang?

### 1. Pengertian Uang

Coba amatilah orang-orang di sekitarmu. Untuk apa ayahmu setiap hari bekerja di kantor? Untuk apa tetanggamu setiap pagi pergi ke sawah? Untuk apa juga gurumu setiap hari pergi ke sekolah mengajarmu?

Salah satu tujuan orang bekerja baik sebagai petani, pengusaha, karyawan, atau guru, adalah untuk memperoleh imbalan. Imbalan tersebut bisa berupa barang atau jasa. Salah satu imbalan berbentuk barang adalah berupa uang. Dengan uang orang dapat menggunakannya untuk berbagai hal sesuai dengan tingkat kebutuhannya, misalnya membangun gedung untuk tempat usaha, membeli BBM untuk transportasi, membeli makanan, papan, dan sandang untuk kebutuhan hidup, dan membayar karyawan.

Oleh karena itu, secara luas uang bisa diartikan sebagai sesuatu yang dapat diterima secara umum sebagai alat pembayaran dalam suatu wilayah tertentu atau alat pembayaran utang dan alat untuk melakukan pertukaran barang dan jasa. Jadi, uang merupakan alat yang dapat digunakan untuk melakukan tukar-menukar baik barang maupun jasa dalam suatu wilayah tertentu, khususnya dalam suatu negara, tanpa membedakan suku bangsa, agama, jenis kelamin, dan status sosial ekonomi seseorang.

Berikut adalah berbagai definisi uang.

- A.C. Pigou dalam bukunya *The Veil of Money* menyatakan bahwa uang adalah segala sesuatu yang umum dipergunakan sebagai alat penukar.
- Albert Gailort Hart mendefinisikan uang sebagai kekayaan yang dapat digunakan oleh pemiliknya untuk melunasi utangnya dalam jumlah tertentu pada waktu itu juga.

### Wawasan Sosial

Ukuran uang terbesar yang pernah dikeluarkan ialah uang Cina pada zaman Dinasti Ming (1368 – 1399).

Uang ini berukuran 22,8 x 33 cm, sedangkan yang terkecil adalah uang dari kementerian keuangan Rumania (1917) bernilai 10 Bani yang berukuran 27,5 x 38 mm.



### Tugas Mandiri

Sejauh yang kamu alami, apa saja manfaat uang bagimu? Coba sebutkan!

- c. Robertson menyatakan uang adalah sesuatu yang umum diterima dalam pembayaran barang-barang.
- d. Rollin G. Thomas menyatakan bahwa uang adalah segala sesuatu yang diterima umum dalam pembayaran (pembelian) barang-barang, jasa-jasa, dan pelunasan utang.
- e. R.S. Sayers dalam bukunya *Modern Banking* mengatakan, uang adalah segala sesuatu yang umum diterima sebagai alat pembayaran utang.

Dalam perkembangannya, fungsi uang tidak hanya sebagai alat tukar-menukar barang dan jasa, tetapi meluas pada fungsi-fungsi lain. Fungsi-fungsi itu di antaranya sebagai alat satuan hitung, alat penimbun kekayaan, dan standar pencicilan utang, bahkan sebagai komoditas yang diperdagangkan. Pada dasarnya, uang hanya berlaku untuk wilayah tertentu karena mata uang tertentu hanya dapat dipergunakan dalam suatu wilayah tertentu. Misalnya, Rupiah untuk Indonesia, Yen untuk Jepang, Baht untuk Thailand, Euro untuk negara-negara Uni Eropa, dan sebagainya. Namun, saat ini Dollar Amerika berlaku di semua negara.

Dalam perekonomian yang semakin modern, uang memainkan peranan yang semakin penting bagi semua kegiatan masyarakat. Uang sudah merupakan suatu kebutuhan, bahkan menjadi salah satu penentu stabilitas dan kemajuan perekonomian suatu negara.

Untuk memenuhi kebutuhan uang, pemerintah negara yang bersangkutan melalui Bank Sentral berhak mencetak uang, terutama uang kartal. Sementara untuk kebutuhan uang giral ditentukan oleh peran bank umum yang mengadakannya. Biasanya jumlah uang giral yang dikeluarkan jauh lebih besar daripada jumlah uang kartal.

Dengan demikian tidak bisa disangkal lagi bahwa uang memang mempunyai banyak manfaat. Manfaat uang di antaranya sebagai berikut.

- a. Mempermudah dan mempercepat dalam memilih maupun memperoleh barang dan jasa yang diinginkan.
- b. Mempermudah dalam menentukan nilai (harga) dari barang dan jasa.
- c. Memperlancar proses perdagangan secara luas.
- d. Digunakan sebagai tempat menimbun kekayaan.

## 2. Sejarah Adanya Uang

Lahirnya uang tidak lepas dari perkembangan kehidupan manusia. Ketika masih hidup secara primitif, manusia tidak merasakan perlunya alat tukar. Bahkan, pada mulanya hampir segala kebutuhan bisa mereka cukupi sendiri, tukar-menukar barang pun belum mereka kenal. Akan tetapi, ketika kehidupan dan kebutuhan mereka juga berkembang, mereka tidak mampu lagi memenuhi kebutuhan-kebutuhan mereka sendiri. Mereka mempunyai barang tertentu, tapi barang itu sebenarnya tidak



mereka butuhkan. Barang yang ia perlukan justru dimiliki orang lain yang belum tentu membutuhkannya. Dalam perkembangan kehidupan yang seperti itulah mereka kemudian mengenal sistem barter. Mereka saling bertukar barang. Sistem barter merupakan titik awal lahirnya sistem perdagangan dan uang.

a. Sistem Barter

Sistem barter merupakan suatu sistem pertukaran antara barang dengan barang, barang dengan jasa, atau jasa dengan barang. Sistem ini merupakan sistem yang pertama kali dikenal dalam perdagangan dunia.

Barter dikenal sebelum orang atau manusia mengenal uang. Untuk memenuhi kebutuhan seperti makanan, pakaian, papan, atau tempat tinggal setiap orang berusaha sendiri untuk memenuhi kebutuhannya. Dalam perkembangan selanjutnya, manusia tidak dapat hidup sendiri. Artinya, untuk memenuhi kebutuhan, mereka saling tergantung. Kondisi saling ketergantungan tersebut mendorong lahirnya sistem *barter*.

Syarat terjadinya barter adalah sebagai berikut.

- 1) Orang yang diajak bertukar barang memiliki barang yang dibutuhkan oleh orang yang mengajak bertukar barang.
- 2) Orang yang diajak bertukar barang membutuhkan barang yang dimiliki oleh orang yang mengajak bertukar barang.
- 3) Barang yang akan dipertukarkan sama nilainya.

Sebagai sistem pertukaran yang sangat tradisional, sistem barter menghadapi banyak kendala yang kemudian mendorong lahirnya sistem yang lebih efisien.

Beberapa kendala yang sering dialami sistem barter dalam melakukan pertukaran antara lain:

- 1) sulit menemukan orang yang mau menukarkan barangnya sesuai dengan kebutuhan yang diinginkan,
- 2) sulit untuk menentukan nilai barang yang akan ditukarkan terhadap barang yang diinginkan,
- 3) sulit menemukan orang yang mau menukarkan barangnya dengan jasa yang dimiliki,
- 4) dari segi waktu menjadi relatif lama sehingga tidak efisien.

b. Sistem Pertukaran dengan Perantaraan Uang Barang

Oleh karena berbagai kendala yang dihadapi sistem barter, orang pun menciptakan sistem pertukaran dengan perantara, yaitu barang. Sistem ini semakin mendekati sistem pertukaran dalam arti modern.

Pada sistem pertukaran ini, mula-mula ada beberapa macam barang yang dipakai sebagai perantara, misalnya ternak, kerang, garam, senjata, teh, beras, dan tembakau. Barang-barang tersebut berfungsi sebagai uang, sehingga dinamakan *uang barang*.

**Tugas Mandiri**

Jelaskan bahwa pertukaran dengan perantaraan uang barang masih banyak mengalami kesulitan!



Adapun syarat uang barang adalah sebagai berikut.

- 1) Diterima oleh masyarakat suatu daerah.
- 2) Digemari oleh masyarakat, mungkin karena bentuk atau manfaatnya.
- 3) Sulit didapat (langka).

Sekalipun sistem uang barang sudah relatif lebih efektif dibandingkan dengan sistem barter, ternyata sistem ini pun masih mengandung berbagai kendala yaitu tidak dapat dibagi menjadi bagian-bagian kecil.

Selain itu, uang barang juga punya kelemahan, seperti sukar disimpan, sukar dibawa ke mana-mana, tidak tahan lama, dan nilainya tidak tetap. Oleh karena itu, manusia pun mulai memikirkan sistem baru yang lebih modern.

c. Tukar-menukar dengan Perantara Uang

Berdasarkan kelemahan-kelemahan yang dimiliki sistem uang barang, orang pun mulai memikirkan alat tukar yang memenuhi sifat-sifat dapat diterima siapa pun, tahan lama, mudah disimpan, dan mudah dibawa ke mana-mana. Selain itu, alat tukar yang baru juga harus bisa dibagi menjadi bagian-bagian yang bernilai kecil dengan tidak mengurangi nilai sebenarnya, jumlahnya terbatas, dan nilainya stabil.

Akhirnya orang pun menemukan barang-barang yang mempunyai sifat-sifat di atas ialah logam mulia, terutama emas dan perak. Mulailah orang membuat uang dari emas atau perak. Namun, uang ini pun masih kurang praktis saat harus membawanya dalam jumlah yang banyak. Oleh sebab itu, diciptakanlah uang yang mudah dibawa, yaitu uang kertas.

Dalam perkembangannya nanti, orang pun tidak puas dengan telah ditemukannya uang logam dan uang kertas seperti yang kamu kenal seperti sekarang ini. Manusia terus memikirkan dan berusaha menemukan alat tukar yang semakin praktis, efektif, efisien, aman, dan sebagainya.

### 3. Syarat-Syarat Uang

Meski pada pembahasan sebelumnya telah disinggung mengenai syarat-syarat uang namun untuk lebih lengkapnya syarat-syarat suatu barang bisa digunakan sebagai uang dapat diuraikan sebagai berikut.

a. Ada Jaminan

Setiap uang yang diterbitkan harus dijamin oleh pemerintah. Dengan adanya jaminan dari pemerintah, penggunaan uang untuk berbagai keperluan mendapat kepercayaan dari masyarakat luas.

Coba amati uang kertas Rp100.000,00. Menurutmu, apakah harga kertas bahan uang tersebut memang Rp100.000,00? Tidak. Tetapi, mengapa orang memercayainya bernilai Rp100.000,00? Uang kertas tersebut diterima berdasarkan

#### Tugas Bersama

Diskusikan dengan temanmu mengenai perkembangan transaksi keuangan mulai dari sistem barter sampai sistem kartu kredit!

Apa yang mendasari perkembangan tersebut?



kepercayaan. Orang percaya saja bahwa nilai uang kertas tersebut adalah Rp100.000,00. Oleh karena itu, uang kertas tersebut dikatakan sebagai uang kepercayaan (*uang fiduciary*).

b. Disukai Umum (*Acceptability*)

Artinya uang harus dapat diterima secara umum penggunaannya, baik sebagai alat tukar, penimbun kekayaan, atau sebagai standar pencicilan utang.

c. Nilainya Stabil (*Stability of Value*)

Nilai uang harus stabil. Apabila nilai uang naik-turun tidak menentu, orang pun tidak mau menggunakannya sebagai alat tukar karena ia tidak memercayainya.

d. Mudah Disimpan (*Storable*)

Dahulu orang tuamu mungkin sering menyimpan uang di bawah tempat tidur atau di bawah bantal. Bila mau bepergian, mereka membawa uang dalam kantong baju. Kamu mungkin juga begitu. Uang yang kamu sisihkan disimpan di dalam laci meja belajarmu. Semua itu menggambarkan salah satu syarat yang harus dipenuhi uang, yakni mudah disimpan. Dengan demikian, uang harus memiliki fleksibilitas, seperti bentuk fisiknya yang tidak terlalu besar, mudah dilipat, dan memiliki nilai nominal mulai dari yang kecil sampai yang besar.

e. Mudah Dibawa (*Portability*)

Coba bayangkan seandainya berat sekeping uang logam mencapai 1 kg dan sebesar piring. Orang pasti tidak bisa leluasa membawa uang tersebut ke mana pun. Padahal, agar mudah bertransaksi di mana saja, orang memerlukan alat tukar yang bisa dan mudah dibawa ke mana pun ia pergi. Oleh karena itu, sebuah uang harus memenuhi syarat mudah dipindahkan dan mudah dibawa ke mana pun. Artinya, uang harus mudah dipindahkan dari satu tangan ke tangan yang lain. Berdasarkan hal tersebut, uang didesain tidak terlalu besar dan diusahakan seringan mungkin.

f. Tidak Mudah Rusak (*Durability*)

Orang tentu tidak mau menggunakan uang jika uang tersebut mudah sekali rusak. Uang harus tahan lama, tidak mudah robek, pecah, atau luntur. Oleh karena itu, kualitas fisik uang harus betul-betul dapat dipastikan bertahan untuk jangka waktu yang relatif lama.

g. Mudah Dibagi (*Divisibility*)

Uang juga harus mudah dibagi ke dalam berbagai nilai nominal, misalnya Rp100.000,00; Rp50.000,00; Rp1.000,00, dan Rp500,00. Seandainya nilai uang hanya Rp50.000,00 sedangkan untuk membeli satu kilogram jeruk hanya dibutuhkan uang Rp5.000,00, bagaimana dengan kembaliannya? Tentu saja hal tersebut akan menghambat transaksi.



#### 4. Fungsi Uang

Pada awalnya uang hanyalah sebagai alat untuk memperlancar transaksi (kegiatan tukar-menukar barang dan jasa). Namun, seiring dengan perkembangan zaman, fungsi uang pun ikut mengalami perkembangan. Saat ini uang bahkan juga menjadi barang dagangan (komoditas).

Uang sebagai alat yang mempermudah pertukaran mempunyai bermacam-macam fungsi. Fungsi uang dibedakan menjadi dua, yaitu fungsi asli dan fungsi turunan.

- a. Fungsi asli uang menunjukkan fungsi yang mula-mula melekat pada uang atau fungsi yang mengacu pada tujuan awal diciptakannya uang, yaitu sebagai berikut.

- 1) Uang sebagai alat tukar-menukar (*medium of exchange*)

Uang digunakan sebagai alat yang mempermudah dan memperlancar kegiatan tukar-menukar barang atau jasa.

Contoh:

Si A ingin memakai baju baru, tetapi yang ia miliki adalah seekor ayam. Si A kemudian menjual ayamnya ke pasar. Dengan uang hasil penjualan ayam tersebut ia membeli baju. Dalam hal ini, uang berfungsi sebagai alat tukar-menukar.

- 2) Uang sebagai alat satuan hitung (*unit of account*)

Untuk menunjukkan berat suatu barang, dibutuhkan satuan gram. Untuk menunjukkan tinggi seseorang dibutuhkan satuan meter. Untuk menunjukkan nilai suatu barang, dipakai apa? Betul, uang. Artinya, uang merupakan alat satuan hitung. Kita bisa mengatakan bahwa nilai sepasang sepatu adalah Rp50.000,00 karena dengan uang Rp50.000,00 kita mendapatkan sepasang sepatu. Jika kita hanya membawa uang Rp25.000,00, apakah uang tersebut sudah cukup untuk membeli sepasang sepatu di atas? Sebaliknya, jika kita membawa uang Rp100.000,00 berarti kita akan mendapat dua pasang sepatu.

Berarti uang sebagai alat satuan hitung dapat digunakan untuk menentukan besarnya biaya yang diperlukan dalam memproduksi suatu barang.



**Gambar 4.1** Kegiatan jual beli menunjukkan fungsi uang sebagai alat pembayaran.

**Sumber:** *Warta Ekonomi*, 10 Januari 2005

- b. Fungsi Turunan

Selain fungsi asli, uang juga memiliki fungsi turunan. Fungsi turunan uang adalah sebagai berikut.

- 1) Sebagai alat pembayaran, artinya uang digunakan untuk membayar barang atau jasa. Contoh: uang untuk membayar pajak dan membeli buku.
- 2) Sebagai alat menyimpan/menabung, artinya seseorang dapat menyimpan uangnya sebagai harta kekayaan dengan cara disimpan atau ditabung di bank.



- 3) Sebagai pendorong kegiatan ekonomi, artinya karena termotivasi mendapatkan uang, orang mau bekerja atau melakukan tindakan ekonomi.
- 4) Sebagai pembentuk dan pemindah kekayaan, artinya uang dapat digunakan untuk membentuk kekayaan baru atau memindahkan kekayaan dari satu tempat ke tempat lain, seperti untuk membeli tanah, rumah, atau perhiasan.
- 5) Sebagai standar pembayaran utang, artinya dengan adanya uang, standar pembayaran utang bisa ditentukan dengan cepat dan mudah, contohnya untuk membayar cicilan kredit rumah.
- 6) Sebagai pencipta kesempatan kerja, artinya uang dapat digunakan sebagai modal sehingga dapat membuka kesempatan kerja bagi diri sendiri maupun orang lain.
- 7) Sebagai komoditas yang diperjualbelikan  
Uang dapat diperjualbelikan sesuai dengan kurs yang berlaku pada saat itu. Sebagai contoh, turis Amerika setiba di Indonesia akan menukarkan uang Dolar Amerika dengan rupiah agar dapat melakukan transaksi keuangannya.



**Gambar 4.2** Uang sebagai pembentuk kekayaan dengan dibelikan perhiasan.

**Sumber:** Dokumen Penerbit.

## 5. Jenis-Jenis Uang

Perkembangan kehidupan ekonomi modern menuntut jenis uang yang semakin praktis, efektif, dan efisien. Kamu bisa bayangkan, seandainya ada orang yang akan membeli mesin seharga Rp400.000.000,00 sedangkan uang kertas paling besar bernilai Rp100.000,00, berarti ia harus membawa uang sejumlah 4.000 lembar, praktis dan tidak aman, bukan? Kondisi yang demikian mendorong munculnya uang dalam jenis lain.

Menurut UU No. 23 Tahun 1999 Pasal 19 dan 20 tentang Bank Indonesia dinyatakan sebagai berikut.

*Pasal 19:*

*Bank Indonesia berwenang menetapkan macam, harga, ciri uang yang akan digunakan, dan tanggal berlakunya sebagai alat pembayaran yang sah.*

*Pasal 20:*

*Bank Indonesia merupakan satu-satunya lembaga yang berwenang untuk mengeluarkan dan mengedarkan uang rupiah serta mencabut, menarik, dan memusnahkan uang yang dimaksud dari peredaran.*

Jenis-jenis uang dapat dibagi menurut berbagai segi, yaitu berdasarkan bahan, nilai, lembaga, dan kawasan.

### a. Bahan

Berdasarkan bahan untuk pembuatannya, jenis uang terdiri atas dua macam, yaitu uang logam dan uang kertas.

- 1) Uang logam, merupakan uang dalam bentuk koin yang terbuat dari logam, baik dari aluminium, campuran tembaga dengan nikel, atau bahan lainnya. Uang yang terbuat dari logam pada umumnya memiliki nilai nominal yang kecil.

### Tugas Mandiri

Coba kamu sebutkan pecahan uang logam yang masih berlaku di Indonesia!





**Gambar 4.3** Contoh macam-macam uang logam dan uang kertas.

**Sumber:** Dokumen Penerbit.

- 2) Uang kertas adalah uang yang terbuat dari kertas berkualitas tinggi yang tahan air, dan tidak mudah robek atau luntur, dapat juga terbuat dari bahan lainnya. Uang dari bahan kertas biasanya memiliki nilai nominal yang besar sehingga mudah dibawa untuk keperluan sehari-hari.

b. Nilai

Coba ambil selembar uang Rp5.000,00-an. Mengapa kita menyebutnya sebagai uang Rp5.000,00? Karena angka yang tertera di situ adalah angka 5.000 dan tulisan “lima ribu rupiah”. Itu yang disebut *nilai nominal* (nilai yang tertera pada mata uang tersebut). Tetapi, apakah benar bahwa untuk mencetak selembar uang Rp5.000,00-an dibutuhkan biaya Rp5.000,00? Jawabannya adalah tidak karena biaya yang dikeluarkan untuk mencetak selembar uang Rp5.000,00-an jauh lebih rendah daripada nilai nominal tersebut. Nilai pembuatan uang ini disebut *nilai intrinsik*. Jadi, pada sebuah uang akan kita kenal nilai nominal dan nilai intrinsik.

Jika dilihat berdasarkan nilai nominal dan nilai intrinsiknya, uang dapat dibedakan sebagai berikut.

- 1) Bernilai penuh (*full bodied money*). Uang dikatakan bernilai penuh karena nilai intrinsiknya sama dengan nilai nominalnya. Sebagai contoh uang logam dari emas, di mana nilai bahan untuk membuat uang tersebut sama dengan nominal yang tertulis pada uang tersebut.
- 2) Tidak bernilai penuh (*representatif full bodied money*). Tidak bernilai penuh karena nilai intrinsiknya lebih kecil daripada nilai nominalnya. Sebagai contoh uang yang terbuat dari kertas. Uang jenis ini sering disebut uang bertanda (*token money*). Nilai intrinsik uang kertas jauh lebih rendah dari nilai nominal yang tertulis di atas uang.

### Tugas Mandiri

Jelaskan yang dimaksud nilai nominal dan nilai intrinsik!



c. Lembaga

Uang juga bisa dibedakan menurut lembaga yang menerbitkan atau mengeluarkannya. Berdasarkan lembaga penerbit atau yang mengeluarkannya, uang dapat dibedakan sebagai berikut.

1) Uang kartal

Uang kartal merupakan uang yang diterbitkan oleh Bank Sentral, bisa berupa uang logam atau uang kertas.

Jadi, uang kartal ialah uang kertas dan uang logam yang dikeluarkan oleh Bank Indonesia sebagai bank sirkulasi dan berlaku sebagai alat pembayaran yang sah.

Uang kartal ada dua macam, yaitu uang negara atau pemerintah dan uang yang dikeluarkan oleh bank sirkulasi (Bank Indonesia).

Uang negara atau pemerintah yaitu uang yang dikeluarkan oleh pemerintah, berupa uang kertas dan uang logam.

Sejak tahun 1968 uang negara tidak beredar lagi dan sejak saat itu kewenangan mengeluarkan uang sepenuhnya dilimpahkan kepada Bank Indonesia. Uang yang dikeluarkan oleh Bank Indonesia berupa uang kertas dan uang logam.

Adapun ciri-ciri uang kertas bank antara lain:

- (a) Tercantum angka dan huruf yang menunjukkan nilai nominal dan tahun dikeluarkan. Uang kertas ditandatangani oleh Gubernur Bank Indonesia dan seorang direktur dan bukan ditandatangani oleh menteri keuangan.
- (b) Contoh uang kertas yang dikeluarkan oleh Bank Indonesia adalah Rp100.000,00; Rp50.000,00; Rp20.000,00; Rp10.000,00; Rp5.000,00; Rp1.000,00; Rp500,00; Rp100,00.

Sementara itu, ciri-ciri uang logam antara lain sebagai berikut.

- (a) Tertulis angka yang menunjukkan nilai dan tahun dikeluarkan.
- (b) Contoh uang logam yang dikeluarkan Bank Indonesia adalah Rp1.000,00; Rp500,00; Rp200,00; Rp100,00; Rp50,00; dan Rp25,00.

2) Uang giral

Uang yang berbentuk simpanan (deposito), yang diterbitkan oleh bank umum seperti cek, bilyet giro, traveller check, dan kartu kredit disebut juga dengan uang giral.

Jadi, uang giral tagihan atau rekening pada suatu bank dapat dipakai sebagai alat pembayaran dengan perantara cek, giro, perintah membayar, atau *telegraphic transfer*.

## Tugas Mandiri

Peredaran uang palsu selalu terjadi di masyarakat. Salah satu cara pemerintah mengatasinya adalah dengan memperkenalkan langkah 3D untuk mengenali uang asli dan uang palsu.

Jelaskan apa yang dimaksud 3 D!



**Gambar 4.4** Peruri memiliki wewenang dan tugas mencetak uang rupiah.

**Sumber:** Ensiklopedi Umum untuk Pelajar



Pahamilah perbedaan antara uang kartal dengan uang giral dalam tabel berikut.

Uang Kartal	Uang Giral
1) Berlaku dan digunakan di seluruh lapisan masyarakat.	1) Hanya berlaku di kalangan masyarakat tertentu.
2) Nominal dalam uang kartal sudah tertera dan terbatas.	2) Nominalnya harus ditulis lebih dahulu sesuai dengan kebutuhan dan tidak terbatas.
3) Uang kartal dijamin oleh pemerintah.	3) Uang giral hanya dijamin oleh bank yang mengeluarkannya.
4) Uang kartal dikeluarkan oleh Bank Sentral.	4) Uang giral dikeluarkan oleh bank umum.
5) Uang kartal mempunyai kepastian pembayaran seperti yang tertera dalam nominal uang.	5) Uang giral belum mempunyai kepastian pembayaran. Hal ini tergantung dari beberapa hal termasuk lembaga yang mengeluarkannya.

### Tugas Mandiri

Jelaskan dalam kondisi bagaimanakah uang merupakan uang lokal dan uang regional!

#### d. Berdasarkan Kawasan

Uang juga bisa dibedakan dari sudut pandang wilayah berlakunya. Apakah dapat berlaku di seluruh wilayah atau hanya berlaku di wilayah tertentu saja. Jenis uang berdasarkan kawasan dapat dibedakan sebagai berikut.

- 1) Uang lokal, merupakan uang yang berlaku di suatu negara tertentu, seperti rupiah (Rp) di Indonesia atau ringgit (Mal \$) di Malaysia.
- 2) Uang regional, berlaku di wilayah atau kawasan tertentu yang lebih luas daripada uang lokal. Contoh uang regional adalah EURO yang berlaku di regional negara-negara Uni Eropa, seperti Austria, Belgia, Perancis, Spanyol, dan Portugal.
- 3) Uang internasional, merupakan uang yang berlaku antarnegara, seperti US\$ dan menjadi standar pembayaran internasional.

## B. Lembaga Keuangan

Di masyarakat, kita mengenal dua macam lembaga keuangan, yaitu bank dan lembaga keuangan bukan bank, mari kita pelajari bersama pembahasan berikut ini dengan saksama.

### 1. Bank

Saat ini, sebagian besar orang telah mengenal bank. Apalagi orang-orang yang memiliki usaha. Pada umumnya mereka akan menggunakan jasa bank untuk usahanya, misalnya untuk transaksi jual beli, kredit, dan sebagainya. Dengan demikian, bank juga merupakan lembaga penggerak sektor usaha. Tanpa lembaga keuangan semacam bank, sektor usaha akan banyak menemui kendala dalam operasinya.



Masyarakat Romawi Kuno telah mengenal sistem perbankan untuk mengatur kegiatan perdagangan mereka.

a. Pengertian Bank

Dalam kehidupan sehari-hari, bank banyak dikenal sebagai lembaga yang menerima simpanan giro, tabungan, dan deposito. Bank juga dikenal sebagai lembaga yang memberikan pinjaman (kredit) kepada masyarakat yang membutuhkan. Selain itu, bank juga dikenal sebagai tempat untuk menukar uang, memindahkan uang (transfer), menerima segala macam bentuk pembayaran seperti listrik, telepon, air, pajak, bahkan uang kuliah. Artinya, banyak sekali transaksi ekonomi yang di dalamnya melibatkan lembaga bank.

Kata bank berasal dari bahasa Italia, yaitu *banca* (meja) yang biasa digunakan oleh para penukar uang di pasar.

Menurut Undang-Undang RI Nomor 10 Tahun 1998 tanggal 10 November 1998 tentang Perbankan, yang dimaksud **bank** adalah badan usaha yang menghimpun dana dari masyarakat dalam bentuk simpanan dan menyalurkannya kepada masyarakat dalam bentuk kredit atau bentuk-bentuk lainnya dalam rangka meningkatkan taraf hidup rakyat banyak.

Dapat dikatakan, bahwa bank adalah sebuah lembaga yang bergerak di bidang keuangan. Hal itu dapat dimengerti karena aktivitas perbankan selalu berkaitan dengan keuangan.

Aktivitas pertama suatu bank adalah menghimpun atau mengumpulkan dana dari masyarakat. Dana dari masyarakat tersebut dikumpulkan oleh bank dalam bentuk tabungan, giro, sertifikat deposito, dan deposito berjangka. Kegiatan penghimpunan dana ini dalam dunia perbankan sering disebut sebagai *funding*.

Sudah banyak cara yang telah diupayakan bank untuk menarik minat masyarakat menyimpan uangnya di bank, di antaranya adalah memberikan balas jasa sebagai perangsang. Balas jasa tersebut dapat berupa bunga, bagi hasil, hadiah, pelayanan, atau balas jasa lainnya. Makin tinggi daya tarik bank bagi masyarakat, diharapkan makin banyak masyarakat yang mau menyimpan uangnya di bank.

Dana yang berhasil dihimpun bank dari masyarakat akan dikembalikan kepada masyarakat dalam bentuk pinjaman (*lending*). Dari aktivitas tersebut bank memperoleh pemasukan uang berupa bunga dan biaya administrasi dari penerima kredit (kreditur). Namun bagi bank yang berdasarkan prinsip syariah, pendapatan berasal dari bagi hasil atau penyertaan modal.

Dapat disimpulkan bahwa kegiatan utama perbankan adalah menghimpun dana (*funding*) dan menyalurkan dana (*lending*).

b. Sejarah Perbankan

Kegiatan perbankan sesungguhnya sudah dimulai sejak sebelum Masehi. Praktik-praktik perbankan pertama-tama dilakukan di Lydia kuno di Asia Kecil (sekarang Turki), Phoenicia kuno, China kuno dan Yunani kuno.



Pada awal tahun 2000 SM, kuil-kuil di Babilonia membuat pinjaman dari surat-surat berharga yang ia miliki. Kekaisaran Romawi telah mengembangkan sistem perbankan dan para bankirnya menerima deposito uang, pinjaman dan membeli hipotik. Bank pertama yang menawarkan fungsi-fungsi dasar perbankan seperti dikenal sekarang ini adalah *Bank of Barcelona* di Spanyol (didirikan tahun 1401). *Bank of Barcelona* sudah melayani deposito, jual beli valuta asing, dan melayani pinjaman. *Bank of Barcelona* juga dipandang telah memperkenalkan cek. Tiga bank lain selain *Bank of Barcelona* adalah *Bank of Amsterdam* (1609), *Bank of Venice* (1587), *Bank of Hamburg* (1619), sedangkan di Inggris, perbankan baru berkembang pada abad ke-16.

Selanjutnya kegiatan perbankan berkembang ke Asia Barat dibawa oleh para pedagang. Perkembangan perbankan di Asia, Afrika, dan Amerika sesungguhnya dibawa oleh bangsa Eropa pada saat melakukan penjajahan di daerah tersebut.



**Gambar 4.5** Perbankan diawali dari jasa penukaran uang yang sekarang banyak ditemukan dalam kegiatan *money changer*.

**Sumber:** *Ensiklopedi Umum untuk Pelajar*

### 1) Asal Mula Kegiatan Perbankan

Kalau kita telusuri, sejarah perbankan diawali dari jasa penukaran uang, sehingga dalam sejarah perbankan, arti bank adalah meja tempat menukarkan uang. Saat ini kegiatan penukaran uang tersebut dikenal dengan sebutan pedagang valuta asing (*money changer*).

Seiring perkembangan zaman, kegiatan bank berkembang menjadi tempat penitipan uang atau sekarang disebut dengan simpanan. Kemudian, kegiatan bank bertambah lagi menjadi kegiatan peminjaman uang. Saat ini perbankan menjadi lembaga keuangan modern yang memainkan peranan penting dalam perekonomian. Bahkan, boleh dikatakan, perbankan telah menjadi jantung perekonomian suatu negara.

### 2) Perbankan pada Masa Penjajahan dan Masa Kemerdekaan

Sebagaimana telah kamu ketahui, fungsi pertama bank adalah sebagai tempat tukar-menukar uang. Kegiatan tersebut sudah ada sejak zaman Babilonia, kemudian dilanjutkan ke zaman Yunani dan Romawi Kuno.

Perkembangan bank tidak dapat dilepaskan dari perkembangan perdagangan. Oleh karenanya, makin berkembang perdagangan, akan makin berkembang pula kegiatan perbankan. Perkembangan perdagangan berawal di daratan Eropa kemudian menyebar ke Asia Barat.

Di Indonesia, perkembangan perbankan tidak dapat dilepaskan dari penjajahan Hindia Belanda. Beberapa bank yang memegang peranan penting pada saat itu adalah *De Javasche Bank*, *De Post Paar Bank*, *De Algemene Volks Bank*, *Nederland Handles Maatscappij (NHM)*, *Nationale Handles Bank (NHB)*, dan *De Escompto Bank*.

Adapun bank-bank yang merupakan milik pribumi, Cina, Jepang, dan Eropa di antaranya Bank Nasional Indonesia, Bank Abuan Saudagar, NV Bank Boemi, *The*



*Chartered Bank of India, The Yokohama Species Bank, The Matsui Bank, The Bank of China, Batavia Bank, Hongkong Shanghai Banking Corporation, The Bank of Taiwan, The Overseas Chinese Banking Corporation, dan NV Bank Vereeniging Oei Tiong Ham.*

Pada zaman kemerdekaan, perbankan di Indonesia bertambah maju dan berkembang lagi. Beberapa bank milik Belanda banyak yang dinasionalisasi (dijadikan milik Indonesia) oleh pemerintah Indonesia. Beberapa bank milik pemerintah yang ada pada masa itu adalah Bank Negara Indonesia (BNI) yang didirikan pada tanggal 5 Juli 1946 dan Bank Rakyat Indonesia (BRI) yang berasal dari *De Algemene Volkscrediet Bank*.

Adapun bank-bank swasta yang ada pada saat itu adalah Bank Surakarta Maskapai Andil Bumi Putera di Solo, Bank Indonesia di Palembang, *Indonesian Banking Corporation* di Yogyakarta, dan Bank Nasional Indonesia di Surabaya. Di daerah federal ada juga bank-bank yang didirikan oleh swasta, yaitu NV Bank Soelawesi di Manado, NV Bank Perniagaan Indonesia, NV Bank Timoer di Semarang, Bank Dagang Indonesia VV di Banjarmasin, dan *Kalimantan Trading Corporation* di Samarinda.

### 3) Sejarah Bank Pemerintah

Perkembangan perbankan di Indonesia tidak dapat dilepaskan dari sejarah penjajahan di Indonesia. Oleh karena itu, baik bank pemerintah maupun bank swasta nasional, perkembangannya selalu dipengaruhi negara yang menjajah Indonesia ketika itu.


#### a) Bank Sentral

Bank sentral di Indonesia adalah Bank Indonesia (BI) berdasarkan UU No. 13 Tahun 1968. Kemudian penegasannya adalah pada UU No. 23 Tahun 1999. Sebenarnya BI berasal dari *De Javasche Bank* yang dinasionalisasi pada tahun 1951.



**Gambar 4.6** Gedung Bank Indonesia Semarang  
**Sumber:** [www.google.com: image](http://www.google.com: image)





**Gambar 4.7** BNI merupakan salah satu bank milik pemerintah.

**Sumber:** *The Indonesian Enterprise*

- b) Bank Negara Indonesia 1946 (BNI 46)  
Bank ini menjalankan fungsi BNI Unit III dengan UU No. 17 Tahun 1968 berubah menjadi Bank Negara Indonesia 1946.
- c) Bank Rakyat Indonesia dan Bank Ekspor Impor  
Bank ini berasal dari *De Algemene Volkscrediet Bank*, kemudian dilebur setelah menjadi Bank Tunggal dengan nama Bank Nasional Indonesia (BNI) Unit II yang dipisahkan sebagai berikut.
  - Bank Rakyat Indonesia (BRI) adalah bank yang membidangi rural dengan UU No. 21 Tahun 1968.
  - Bank Ekspor Impor Indonesia adalah bank yang membidangi ekspor impor dengan UU No. 22 Tahun 1968.
- d) Bank Pembangunan Indonesia (BAPINDO)  
Bank ini didirikan dengan UU No. 21 Tahun 1960 yang merupakan kelanjutan dari Bank Industri Negara (BIN) tahun 1951.
- e) Bank Dagang Negara (BDN)  
BDN sebenarnya berasal dari *Escompto Bank* yang dinasionalisasi dengan PP No. 13 Tahun 1960, namun PP ini dicabut dan diganti dengan UU No. 18 Tahun 1968 menjadi Bank Dagang Negara. BDN adalah satu-satunya bank pemerintah yang berada di luar Bank Negara Indonesia unit.
- f) Bank Bumi Daya (BBD)  
BBD semula berasal dari *Nederland Indische Handels Bank* yang kemudian menjadi *Nationale Handels Bank*. Selanjutnya bank ini menjadi Bank Negara Indonesia Unit IV dan berdasarkan UU No.19 Tahun 1968 menjadi Bank Bumi Daya.
- g) Bank Pembangunan Daerah (BPD)  
Bank ini didirikan di daerah-daerah tingkat I. Dasar hukum pendiriannya adalah UU No.13 Tahun 1962.
- h) Bank Tabungan Negara (BTN)  
BTN berasal dari *De Post Paar Bank* yang kemudian menjadi Bank Tabungan Pos tahun 1950. Selanjutnya menjadi Bank Negara Indonesia Unit V dan terakhir menjadi Bank Tabungan Negara dengan UU No. 20 Tahun 1968.
- i) Bank Mandiri  
Bank ini adalah hasil merger (penggabungan) antara Bank Bumi Daya (BBD), Bank Dagang Negara (BDN), Bank Pembangunan Indonesia (Bapindo), dan Bank Exim. Hasil penggabungan keempat bank ini dilaksanakan pada tahun 1999.

Beberapa bank yang telah disebutkan di atas merupakan contoh bank pemerintah atau BUMN. Adapun beberapa contoh bank swasta antara lain Bank Danamon, Bank Central Asia (BCA), Bank Lippo, Bank Niaga, dan Bank Maspion.



### c. Jenis-Jenis Bank

Pada dasarnya apa pun jenis bank, semuanya memiliki peranan yang sama yaitu sebagai lembaga keuangan yang menghimpun dana dari masyarakat dan menyalurkannya kembali kepada masyarakat dalam bentuk kredit.

Walaupun demikian, kamu dapat membedakan jenis-jenis bank berdasarkan fungsi, kepemilikan, nasabah yang dilayani, dan bagaimana bank dalam menentukan harga jual dan harga beli.

#### 1) Dilihat dari Segi Fungsinya

Dalam Undang-Undang Pokok Perbankan Nomor 7 Tahun 1992 dan Undang-Undang RI Nomor 10 Tahun 1998 kita akan mendapatkan bahwa jenis perbankan menurut fungsinya terdiri atas Bank Umum dan Bank Perkreditan Rakyat (BPR).

- a) Bank umum adalah bank yang melaksanakan kegiatan usaha secara konvensional atau berdasarkan prinsip syariah yang kegiatannya memberikan jasa dalam lalu lintas pembayaran. Adapun jasanya bersifat umum artinya memberikan seluruh jasa perbankan yang ada. Bank umum sering disebut juga sebagai bank komersial (*commercial bank*).

Pemerintah dapat menugaskan bank umum untuk melaksanakan program pemerintah guna mengembangkan sektor-sektor perekonomian tertentu atau memberikan perhatian yang lebih besar kepada koperasi dan pengusaha golongan ekonomi lemah dalam rangka meningkatkan taraf hidup rakyat banyak berdasarkan ketentuan yang diatur lebih lanjut dengan Peraturan Pemerintah.

Bentuk hukum suatu bank umum dapat berupa perusahaan perseroan (Persero), perusahaan daerah, koperasi, dan perseroan terbatas.

Tugas pokok bank umum menurut Pasal 6 UU No. 7 Tahun 1992 dan UU No. 10 Tahun 1998 sebagai berikut.

- Menghimpun dana dari masyarakat dalam bentuk simpanan berupa giro, deposito berjangka, sertifikat deposito, tabungan, dan atau bentuk lainnya yang dipersamakan dengan itu.
- Memberikan kredit.
- Menerbitkan surat pengakuan utang.
- Membeli, menjual, atau menjamin atas risiko sendiri maupun untuk kepentingan dan atas perintah nasabahnya.
- Memindahkan uang baik untuk kepentingan sendiri maupun untuk kepentingan nasabahnya.
- Menempatkan dana pada, meminjam dana dari, atau meminjamkan dana pada bank lain baik dengan menggunakan surat, sarana telekomunikasi maupun dengan wesel unjuk, cek, atau sarana lainnya.

#### Tugas Mandiri

Carilah data dan informasi tentang bank yang ada di daerahmu!

Fungsi manakah yang dijalankan oleh masing-masing bank yang telah kamu catat?



- Menerima pembayaran dari tagihan atas surat berharga dan melakukan perhitungan dengan atau antarpihak ketiga.
- Menyediakan tempat untuk menyimpan barang dan surat berharga (*safe deposit box*).
- Melakukan kegiatan penitipan untuk kepentingan pihak lain berdasarkan suatu kontrak.
- Melakukan penempatan dana dari nasabah kepada nasabah lainnya dalam bentuk surat berharga yang tidak tercatat di bursa efek.
- Membeli agunan (barang jaminan) melalui pelelangan baik semua maupun sebagian jika debitur tidak memenuhi kewajibannya kepada bank, dengan ketentuan agunan yang dibeli tersebut wajib dicairkan secepatnya.
- Melakukan kegiatan anjak piutang, usaha kartu kredit, dan kegiatan wali amanat.
- Menyediakan pembiayaan bagi nasabah berdasarkan prinsip Bank Syariah sesuai dengan ketentuan yang ditetapkan oleh Bank Indonesia.
- Melakukan kegiatan lain yang lazim dilakukan oleh bank sepanjang tidak bertentangan dengan undang-undang tentang perbankan dan semua peraturan perundang-undangan yang berlaku.

Selain tugas pokok di atas, sesuai dengan Pasal 7 UU No. 7 Tahun 1992 dan UU No. 10 Tahun 1998, bank umum dapat pula melakukan kegiatan seperti berikut ini.

- Melakukan kegiatan dalam valuta asing dengan memenuhi ketentuan yang ditetapkan oleh Bank Indonesia.
  - Melakukan kegiatan penyertaan modal pada bank atau perusahaan lain di bidang keuangan, seperti sewa guna usaha, modal ventura perusahaan efek, asuransi, serta lembaga kliring penyelesaian dan penyimpanan dengan memenuhi ketentuan yang ditetapkan oleh Bank Indonesia.
  - Melakukan penyertaan modal sementara untuk mengatasi akibat kegagalan kredit, dengan syarat harus menarik kembali penyertaannya dan memenuhi ketentuan yang ditetapkan oleh Bank Indonesia.
  - Bertindak sebagai pendiri dana pensiun dan pengurus dana pensiun sesuai dengan ketentuan dalam peraturan perundang-undangan dana pensiun yang berlaku.
- b) Bank Perkreditan Rakyat (BPR) adalah bank yang melaksanakan kegiatan usaha secara konvensional atau berdasarkan prinsip syariah yang kegiatannya tidak memberikan jasa dalam lalu lintas pembayaran.



Kegiatan BPR jauh lebih sempit dibandingkan dengan bank umum. Bentuk hukum Bank Perkreditan Rakyat dapat berupa perusahaan daerah, koperasi, perseroan terbatas, dan bentuk lain yang ditetapkan dengan Peraturan Pemerintah, misalnya Bank Desa, Lumbung Desa, dan Badan Kredit Desa.

Tugas pokok Bank Perkreditan Rakyat (BPR) yang diatur dalam Pasal 13 Undang-Undang No. 7 Tahun 1992 tentang Perbankan antara lain sebagai berikut.

- Menghimpun dana dari masyarakat dalam bentuk simpanan berupa deposito berjangka, tabungan, dan atau bentuk lainnya yang dipersamakan dengan itu.
- Memberikan kredit.
- Menyediakan pembiayaan bagi nasabah berdasarkan prinsip bagi hasil sesuai dengan ketentuan yang ditetapkan dalam Peraturan Pemerintah
- Menempatkan dananya dalam bentuk Sertifikat Bank Indonesia (SBI), deposito berjangka, sertifikat deposito, dan atau tabungan pada bank lain.

## 2) Dilihat dari Segi Kepemilikannya

Dari segi kepemilikannya, maksudnya adalah siapa saja yang memiliki bank tersebut. Hal itu dapat dilihat dari akta pendirian dan penguasaan saham yang dimiliki bank yang bersangkutan.

Jenis bank dilihat dari segi kepemilikan adalah sebagai berikut.

- a) Bank milik pemerintah, yaitu bank yang didirikan dan modalnya dimiliki oleh pemerintah. Seluruh keuntungannya pun kembali kepada pemerintah. Contoh bank milik pemerintah antara lain Bank Negara Indonesia 1946 (BNI 1946), Bank Rakyat Indonesia (BRI), Bank Tabungan Negara (BTN), dan Bank Mandiri. Adapun bank milik pemerintah daerah (pemda) terdapat di daerah tingkat I dan tingkat II masing-masing provinsi, seperti Bank Jabar, Bank Jateng, dan Bank Jatim.
- b) Bank milik swasta nasional, yaitu bank yang seluruh atau sebagian besar modalnya dimiliki oleh swasta nasional, pendiriannya dilakukan oleh swasta, begitu pula keuntungannya juga untuk pihak swasta. Contohnya Bank Muamalat, Bank Permata, Bank Niaga, Bank Universal, Bank Internasional Indonesia, Bank Central Asia, Bank Bumi Putra, Bank Danamon, dan Bank Lippo.
- c) Bank milik koperasi, yaitu bank yang saham-sahamnya dimiliki oleh perusahaan yang berbadan hukum koperasi. Contohnya Bank Umum Koperasi Indonesia.
- d) Bank asing, adalah bank milik luar negeri yang sahamnya milik asing, baik swasta maupun pemerintah

## Tugas Bersama

Apakah di daerah tempat tinggalmu ada BPR (Bank Perkreditan Rakyat)?

Jika ada, cobalah amatilah dalam bentuk apa masyarakat memanfaatkan keberadaan BPR tersebut?



**Gambar 4.8** Contoh salah satu bank swasta nasional.

**Sumber:** Dokumen Penerbit

## Tugas Mandiri

Sebutkan bank-bank asing yang ada di sekitar tempat tinggalmu!



asing. Contohnya *Bank of Tokyo, Bangkok Bank, City Bank, European Asian Bank, Hongkong Bank, ABN AMRO Bank, Standard Chartered Bank, Deutsche Bank, dan Chase Manhattan Bank*.

- e) Bank campuran, yaitu bank yang sahamnya dimiliki oleh pihak asing dan pihak swasta nasional. Contoh bank campuran antara lain *Bank Finconesia, Mitsubishi Buana Bank, Inter Pacifik Bank, Sumitomo Niaga Bank, Bank Merincorp, Bank Sakura Swadarma, Paribas BBD Indonesia, Ing Bank, Sanwa Indonesia Bank, dan Bank PDFCI*.

### 3) Dilihat dari Segi Status

Pembagian jenis ini disebut juga pembagian berdasarkan kedudukan atau status bank yang menunjukkan ukuran kemampuan bank dalam melayani masyarakat baik dari segi jumlah produk, modal, maupun kualitas pelayanannya. Menurut statusnya, bank bisa dibedakan sebagai berikut.

- a) Bank devisa, merupakan bank yang dapat melaksanakan transaksi ke luar negeri atau yang berhubungan dengan mata uang asing secara keseluruhan, misalnya transfer ke luar negeri, inkaso ke luar negeri, *travellers check*, pembukaan dan pembayaran *Letter of Credit (LC)*, dan transaksi lainnya. Persyaratan untuk menjadi bank devisa ini ditentukan oleh Bank Indonesia.
- b) Bank nondevisa, merupakan bank yang belum mempunyai izin untuk melaksanakan transaksi sebagai bank devisa, sehingga tidak dapat melaksanakan transaksi seperti halnya bank devisa. Jadi, bank nondevisa merupakan kebalikan dari bank devisa, di mana transaksi yang dilakukan masih dalam batas-batas negara.

### 4) Dilihat dari Segi Cara Menentukan Harga

Dari segi cara dalam menentukan harga, baik harga jual maupun harga beli, bank terbagi dalam dua kelompok sebagai berikut.

- a) Bank yang berdasarkan prinsip konvensional  
Hampir semua bank yang ada di Indonesia adalah bank yang berdasarkan prinsip kerja konvensional. Bank konvensional mendapatkan keuntungan dengan cara menetapkan bunga sebagai harga, baik untuk produk simpanan seperti giro, tabungan, maupun deposito. Demikian pula harga untuk produk pinjamannya (kredit) juga ditentukan berdasarkan tingkat suku bunga tertentu. Penentuan harga ini dikenal dengan istilah *spread based*. Apabila suku bunga simpanan lebih tinggi dari suku bunga pinjaman terjadi apa yang dikenal dengan istilah *negative spread*. Hal ini pernah terjadi di akhir tahun 1998 dan sepanjang tahun 1999.

### Tugas Bersama

Menurut pendapat kelompokmu, mengapa harus ada perbedaan antara bank biasa (konvensional) dengan bank berprinsip syariah? Cobalah amati mana yang paling banyak diminati masyarakat! Mengapa demikian?



Penetapan keuntungan untuk jasa bank lainnya, pihak perbankan menggunakan atau menerapkan berbagai biaya dalam nominal atau persentase tertentu. Sistem pengenaan biaya ini dikenal dengan istilah *fee based*.

b) Bank yang berdasarkan prinsip syariah

Bank berdasarkan prinsip syariah belum lama berkembang di Indonesia. Namun, di luar negeri seperti di negara-negara Timur Tengah, bahkan di negeri Barat sekalipun sudah berkembang pesat sejak lama.

Bank syariah adalah bank yang beroperasi berdasarkan syariah atau prinsip agama Islam. Sesuai dengan prinsip Islam yang melarang sistem bunga atau riba yang memberatkan, bank syariah beroperasi berdasarkan kemitraan pada semua aktivitas bisnis atas dasar kesetaraan dan keadilan.

Perbedaan pokok antara bank konvensional dengan bank syariah terletak pada landasan falsafah yang dianutnya. Bank syariah tidak melaksanakan sistem bunga dalam seluruh aktivitasnya, sedangkan bank konvensional dengan sistem bunga. Untuk menghindari sistem bunga tersebut, bank syariah mengembangkan sistem jual beli serta kemitraan yang dilaksanakan dalam bentuk bagi hasil. Dengan demikian sebenarnya semua jenis transaksi perniagaan melalui bank syariah diperbolehkan asalkan tidak mengandung unsur bunga (riba). Riba secara sederhana berarti sistem bunga berbunga (*compound interest*). Sistem ini bisa mengakibatkan membengkaknya kewajiban salah satu pihak.

Sementara bagi bank syariah, penentuan harga atau pencarian keuntungan didasarkan pada prinsip bagi hasil (*mudharabah*), pembiayaan berdasarkan prinsip penyertaan modal (*musharakah*), prinsip jual beli barang dengan memperoleh keuntungan (*murabahah*), pembiayaan barang modal berdasarkan sewa murni tanpa pilihan (*ijarah*), atau dengan adanya pilihan pemindahan kepemilikan atas barang yang disewa dari pihak bank oleh pihak lain (*ijarah wa iqtina*).

d. Fungsi Utama Bank

Fungsi utama bank dapat dikelompokkan ke dalam tiga jenis, yakni melakukan operasi kredit pasif, operasi kredit aktif, dan jasa/pelayanan dalam bidang keuangan lainnya.

1) Melakukan Operasi Kredit Pasif

Dalam melakukan operasi kredit pasif, bank berfungsi sebagai penghimpun (pembeli) dana dari masyarakat (menerima kredit dari masyarakat).

Dalam membeli (menghimpun) dana dari masyarakat, cara-cara yang dilakukan bank adalah dengan membuka berbagai macam simpanan, yaitu giro, tabungan, deposito berjangka, dan sertifikat deposito.



**Gambar 4.9** Dalam kegiatan operasionalnya, bank syariah menggunakan sistem bagi hasil sebagai ganti sistem bunga.

**Sumber:** Dokumen Penerbit



- a) Giro, adalah simpanan yang dapat digunakan sebagai alat pembayaran yang setiap saat dapat ditarik dengan menggunakan cek atau bilyet giro.
- b) Tabungan, adalah simpanan yang penarikannya tidak terikat pada jangka waktu tertentu.
- c) Deposito berjangka, adalah simpanan yang penarikannya hanya dapat dilakukan dalam jangka waktu tertentu, misalnya 1 bulan, 3 bulan, 6 bulan, atau 12 bulan.
- d) Sertifikat deposito, adalah deposito berjangka yang bukti simpanannya dapat diperdagangkan.

## 2) Melakukan Operasi Kredit Aktif

Bank berfungsi sebagai penyalur (penjual) dana kepada masyarakat (memberi kredit kepada masyarakat) dalam melakukan operasi kredit aktif.

Adapun cara-cara bank menyalurkan (menjual) dana kepada masyarakat dilakukan dengan cara sebagai berikut.

- a) Kredit dengan jaminan surat berharga, yakni pinjaman yang diberikan bank kepada nasabah (langganan) untuk membeli surat-surat berharga di mana surat-surat berharga tersebut sekaligus berlaku sebagai jaminannya.
- b) Kredit aksep, yakni pinjaman yang diberikan kepada nasabah dengan mengeluarkan wesel. Wesel tersebut dapat diperdagangkan.
- c) Kredit rekening koran, yakni pinjaman yang diberikan bank kepada nasabah yang dapat diambil sebagian-sebagian sesuai kebutuhan si nasabah. Jaminan kredit ini adalah surat berharga, barang-barang bergerak atau barang-barang tidak bergerak.
- d) *Letter of Credit (L/C)*, yakni pinjaman yang diberikan kepada nasabah berupa pembayaran terhadap pembelian sejumlah barang yang dilakukan oleh si nasabah tersebut. Misalnya, X di Jakarta membeli barang dari Y di Singapura. Atas permintaan X, bank membayar terlebih dahulu kepada Y harga barang tersebut. X baru akan membayar kepada bank setelah barang tiba.

## 3) Melakukan Jasa-Jasa Perbankan

Di samping melakukan operasi kredit, bank juga menyediakan jasa-jasa lain di bidang keuangan kepada masyarakat antara lain sebagai berikut.

- a) *Transfer*, yakni pengiriman uang antardaerah atau antarnegara oleh bank atas permintaan nasabah atau masyarakat.
- b) Melakukan *inkaso*, yaitu bank atas nama nasabah, menagih surat utang atau wesel kepada pihak lain yang tidak termasuk wilayah kliring bank nasabah.

### Tugas Mandiri

Coba tanyakan kepada orang tuamu, apakah mereka pernah atau sering menggunakan fasilitas yang diberikan oleh bank! Jika ya, fasilitas apa saja yang mereka gunakan dan manfaat apa saja yang diperoleh?



- c) Bank menerbitkan kartu kredit untuk nasabah sehingga nasabah bisa melakukan transaksi pembelian, misalnya di supermarket tanpa perlu membawa uang tunai.
- d) *Mendiskonto*, maksudnya bank menjamin jual-beli surat-surat berharga yang terjadi di masyarakat.
- e) Menyediakan cek perjalanan (*travelers check*) untuk memudahkan nasabahnya melakukan transaksi selama dalam perjalanan.

e. Tujuan dan Tugas Pokok Bank Sentral (Bank Indonesia)

Pernahkah kamu bertanya, apa yang menjadi tujuan Bank Indonesia? Apakah sama perannya dengan bank umum? Tujuan Bank Indonesia seperti tertuang dalam Undang-Undang RI Nomor 23 Tahun 1999 Bab III Pasal 7 adalah untuk mencapai dan memelihara kestabilan rupiah. Jelas sekali bahwa rupiah perlu dijaga stabilitasnya. Ketidakstabilan rupiah akan berefek negatif luar biasa kepada masyarakat dan negara, misalnya terjadinya inflasi, dengan ditandai melonjaknya harga-harga barang kebutuhan yang memberatkan masyarakat. Di sinilah tugas Bank Indonesia untuk mencapai dan memelihara stabilitas sangatlah penting. Adapun maksud dari stabilitas rupiah yang diinginkan oleh Bank Indonesia adalah sebagai berikut.

- 1) Stabilitas nilai rupiah terhadap barang dan jasa yang dapat diukur atau tercermin dari perkembangan laju inflasi.
- 2) Stabilitas nilai rupiah terhadap mata uang negara lain. Hal ini dapat diukur dengan atau tercermin dari perkembangan nilai tukar rupiah terhadap mata uang negara lain.

Dengan stabilnya nilai mata uang rupiah, banyak sekali manfaat yang akan diperoleh terutama untuk mendukung pembangunan ekonomi yang berkelanjutan dan meningkatkan kesejahteraan rakyat.

Untuk mencapai tujuan tersebut, Bank Indonesia didukung oleh tiga pilar yang merupakan tiga bidang tugasnya yaitu menetapkan dan melaksanakan kebijakan moneter, mengatur dan menjaga kelancaran sistem pembayaran, serta mengatur dan mengawasi perbankan di Indonesia. Ketiga pilar tersebut perlu diintegrasikan agar tujuan mencapai dan memelihara stabilitas nilai rupiah dapat dicapai secara efektif dan efisien.

Secara garis besar tugas Bank Indonesia seperti yang tertuang dalam Undang-Undang Nomor 23 Tahun 1999 adalah sebagai berikut.

- 1) Menetapkan dan melaksanakan kebijakan moneter, yaitu meliputi kewenangan untuk:
  - a) menetapkan sasaran-sasaran moneter dengan memerhatikan sasaran laju inflasi yang ditetapkannya,

### Tugas Bersama

Diskusikan bagaimana bank bisa dikatakan sebagai jantung perekonomian suatu negara!



- b) melakukan pengendalian moneter dengan menggunakan cara-cara yang termasuk, tetapi tidak terbatas pada operasi pasar terbuka di pasar uang, baik mata uang rupiah maupun valas, penetapan tingkat diskonto, penetapan cadangan wajib minimum, dan pengaturan kredit atau pembiayaan,
  - c) memberikan kredit atau pembiayaan berdasarkan prinsip syariah, paling lama 90 (sembilan puluh) hari kepada bank untuk mengatasi kesulitan pendanaan jangka pendek bank yang bersangkutan,
  - d) melaksanakan kebijakan nilai tukar berdasarkan sistem tukar yang telah ditetapkan,
  - e) mengelola cadangan devisa, dan
  - f) menyelenggarakan survei secara berkala atau sewaktu-waktu diperlukan yang dapat bersifat makro dan mikro.
- 2) Mengatur dan menjaga kelancaran sistem pembayaran, yaitu meliputi kewenangan Bank Indonesia untuk:
- a) melaksanakan dan memberikan persetujuan dan izin atas penyelenggaraan jasa sistem pembayaran,
  - b) mewajibkan penyelenggara jasa sistem pembayaran untuk menyampaikan laporan kegiatannya,
  - c) menetapkan penggunaan alat pembayaran,
  - d) mengatur sistem kliring antarbank baik dalam mata uang rupiah maupun asing,
  - e) menyelenggarakan penyelesaian akhir transaksi pembayaran antarbank,
  - f) menetapkan macam, harga, ciri uang yang akan dikeluarkan, bahan yang digunakan, dan tanggal mulai berlakunya sebagai alat pembayaran yang sah, dan
  - f) mengeluarkan dan mengedarkan uang rupiah serta mencabut, menarik, dan memusnahkan uang dari peredaran, termasuk memberikan penggantian dengan nilai sama.
- 3) Mengatur dan mengawasi bank, Bank Indonesia mempunyai wewenang untuk:
- a) menetapkan ketentuan-ketentuan perbankan yang memuat prinsip-prinsip kehati-hatian,
  - b) memberikan dan mencabut izin usaha bank,
  - c) memberikan izin pembukaan, penutupan, dan pemin-dahan kantor bank,
  - d) memberikan persetujuan atas kepemilikan dan kepengu-rusan bank,
  - e) memberikan izin kepada bank untuk menjalankan kegiatan usaha tertentu,

### Tugas Bersama

Apa yang terjadi kalau di Indonesia tidak ada lembaga keuangan bank? Apakah roda perekonomian akan tetap bisa berjalan? Coba jelaskan!



- f) mewajibkan bank untuk menyampaikan laporan, keterangan, dan penjelasan sesuai dengan tata cara yang ditetapkan Bank Indonesia,
- g) melakukan pemeriksaan terhadap bank, baik secara berkala maupun setiap waktu apabila diperlukan,
- h) memerintahkan bank untuk menghentikan sementara sebagian atau seluruh kegiatan transaksi tertentu apabila menurut penilaian Bank Indonesia terhadap suatu transaksi patut diduga sebagai tindak pidana di bidang perbankan,
- i) mengatur dan mengembangkan informasi antarbank,
- j) mengambil tindakan terhadap suatu bank sebagaimana diatur dalam undang-undang tentang perbankan yang berlaku apabila menurut penilaian Bank Indonesia dapat membahayakan kelangsungan usaha bank yang bersangkutan dan atau membahayakan perekonomian nasional, dan
- k) tugas mengawasi bank akan dilakukan oleh lembaga pengawasan sektor jasa keuangan yang independen dan dibentuk dengan undang-undang.

f. Manfaat Tabungan untuk Pembangunan

Menabung dapat diartikan sebagai kegiatan menyisihkan sebagian dari penghasilan untuk disimpan. Menabung adalah suatu kebiasaan yang baik dan bermanfaat bagi semua pihak. Berikut ini beberapa manfaat yang dapat diperoleh dari menabung, khususnya bagi penabung dan bagi pembangunan.



**Gambar 4.10** Menabung merupakan salah satu aktivitas perbankan. Selain aman, menabung di bank juga akan memperoleh keuntungan lain seperti bunga tabungan.

**Sumber:** Dokumen Penerbit

1) Manfaat Menabung untuk Diri Sendiri

Siswa yang pandai berhemat, pasti menyisihkan sebagian uang saku untuk ditabung. Dengan menabung, kamu dapat memetik manfaat, antara lain sebagai berikut.



- a) Belajar hidup hemat dengan menyesuaikan pengeluaran dengan pendapatan, dapat dilakukan untuk menghin-dari pembelian/pengeluaran yang tidak bermanfaat.
- b) Menabung di bank akan terhindar dari risiko kehilangan, pencurian/perampokan, atau musibah kebakaran.
- c) Sebagai bekal di kemudian hari, misalnya bila ada kebutuhan yang mendesak untuk dipenuhi, atau bila ada kebutuhan yang memerlukan dana besar.
- d) Menabung di bank akan mendapatkan bunga atau kemungkinan mendapatkan hadiah-hadiah lain.

## 2) Manfaat Menabung untuk Pembangunan

Di atas telah dijelaskan bahwa fungsi bank adalah menghimpun dan menyalurkan dana masyarakat. Dana yang sudah terkumpul kemudian disalurkan untuk membiayai berbagai usaha dalam bentuk investasi. Dengan demikian, tabungan masyarakat akan digunakan menjadi modal oleh para pengusaha untuk meningkatkan produksi. Usaha baru atau perluasan usaha yang sudah ada ini tentu membuka lapangan kerja (menyerap tenaga kerja) dan sekaligus meningkatkan produksi. Makin banyak lapangan kerja yang terbuka dan makin tinggi jumlah produksi akan mening-katkan kemakmuran masyarakat atau negara.

## 2. Lembaga Keuangan Bukan Bank (LKBB)

Selain lembaga keuangan yang berbentuk bank, ada juga lembaga lain yang bergerak di bidang keuangan, tetapi tidak dalam bentuk bank. Lembaga semacam ini dinamakan lembaga keuangan bukan bank. Sebagaimana lembaga keuangan bank, lembaga inipun mempunyai peran penting bagi masyarakat dan juga bagi perekonomian negara.

Beberapa lembaga keuangan ini adalah sebagai berikut.

### a. Pasar Modal

Menurut pengertian luas, pasar merupakan tempat melakukan transaksi antara pembeli dengan penjual. Namun dalam pasar modern, pembeli dan penjual tidak harus bertemu dalam suatu tempat atau bertemu langsung. Transaksi dapat dilakukan melalui alat-alat telekomunikasi yang ada seperti internet, telepon, dan sebagainya.

Secara umum, **pasar modal** bisa diartikan sebagai suatu tempat bertemunya para penjual dan pembeli untuk melakukan transaksi dalam rangka menanam dan memperoleh modal. Penjual dalam pasar modal merupakan perusahaan yang membutuhkan modal (*emiten*). Mereka menjual efek-efek di pasar modal, sedangkan pembeli (*investor*) adalah pihak yang ingin membeli modal di perusahaan yang menurut mereka menguntungkan. Pasar

### Wawasan Sosial

Lembaga pengelola pasar modal, yaitu:

1. Badan Pembina Pasar Modal (BPPM).
2. Badan Pengawas Pasar Modal (Bapepam).
3. PT (Pesero) Danaraksa.



modal dikenal dengan nama bursa efek. Di Indonesia ada dua bursa efek yaitu Bursa Efek Jakarta dan Bursa Efek Surabaya. Dalam melakukan transaksi di pasar modal, investor dapat langsung meneliti dan menganalisis keuntungan masing-masing perusahaan yang menawarkan modal. Investor akan membeli efek saat harga dianggap murah dan menguntungkan. Namun bisa juga menjualnya kembali ketika harga efek yang dibelinya tinggi. Jadi, dalam hal ini *investor* dapat pula menjadi penjual kepada *investor* lainnya.

Adapun jenis-jenis modal yang diperdagangkan di pasar modal merupakan jenis modal jangka panjang. Hal tersebut sangat menguntungkan emiten karena masa pengembaliannya yang relatif panjang, baik modal yang bersifat kepemilikan maupun bersifat utang.

Jenis barang yang diperjualbelikan di pasar modal berbentuk surat-surat berharga (efek) juga dapat diperjualbelikan kembali oleh pemiliknya, baik instrumen bersifat kepemilikan diwujudkan dalam bentuk saham, maupun bersifat utang yang diwujudkan dalam bentuk obligasi.

- 1) Saham (*stocks*) adalah jenis surat berharga yang bersifat kepemilikan. Artinya, si pemilik saham merupakan pemilik perusahaan di mana makin besar saham yang dimilikinya, makin besar pula kekuasaannya di perusahaan tersebut. Keuntungan yang diperoleh dari saham dikenal dengan nama *dividen* yang pembagiannya ditentukan dalam Rapat Umum Pemegang Saham (RUPS).
- 2) Obligasi (*bonds*) merupakan instrumen utang bagi perusahaan yang hendak memperoleh modal. Keuntungan dari membeli obligasi diwujudkan dalam bentuk kupon. Berbeda dengan saham, maka obligasi tidak mempunyai hak terhadap manajemen dan kekayaan perusahaan.

#### b. Pasar Uang

Di Indonesia, pasar uang masih relatif baru jika dibandingkan dengan negara-negara lain yang lebih maju. Namun dalam perkembangannya, pasar uang di Indonesia juga ikut berkembang walaupun tidak sesemarak perkembangan pasar modal (*capital market*). Pasar uang sering disebut juga dengan istilah *money market*.


Antara pasar uang dan pasar modal terdapat perbedaan yang cukup jelas yang dapat diuraikan sebagai berikut.

- 1) Dari segi instrumen yang diperjual belikan

Dari instrumen yang diperjualbelikan, pasar modal merupakan tempat transaksi atas surat-surat berharga jangka panjang seperti saham atau obligasi. Sementara di pasar uang yang diperjualbelikan adalah surat berharga jangka pendek yang jangka waktunya tidak lebih dari satu tahun seperti *comercial paper*, *call money*, sertifikat Bank Indonesia, dan surat berharga pasar uang atau *banker's accepted*.

### Tugas Mandiri

Pada saat krisis ekonomi mencapai puncaknya tahun 1997 dan 1998, banyak bank yang dilikuidasi oleh pemerintah. Menurutmu, apa yang menyebabkan hal tersebut terjadi?



**Gambar 4.11** Bursa efek tempat transaksi jual beli saham.

**Sumber:** *The Indonesian Enterprises*



- 2) Dari segi tempat terjadinya transaksi surat-surat berharga.  
Dari segi tempat terjadinya transaksi surat-surat berharga, di mana investor dan emiten dalam pasar modal dapat bertemu di tempat tertentu seperti di bursa efek. Sementara tempat transaksi di pasar uang sifatnya abstrak, artinya penjualan dan pembelian surat-surat tersebut tidak dilakukan di suatu tempat yang konkret, tetapi melalui sarana elektronik seperti telepon, faksimile, atau teleks.
- 3) Dari segi tujuan  
Tujuan orang menjual surat-surat berharga di pasar uang adalah untuk memenuhi kebutuhan modal jangka pendek seperti keperluan modal kerja. Adapun tujuan orang menjual surat-surat berharga di pasar modal lebih ditekankan untuk tujuan investasi atau untuk ekspansi perusahaan. Orang membeli surat-surat berharga di pasar uang semata-mata untuk mencari keuntungan sedangkan orang membeli surat-surat berharga di pasar modal selain untuk mencari keuntungan juga bisa karena ingin menguasai suatu perusahaan (kepemilikan).
- 4) Dari segi pesertanya  
Peserta dalam pasar uang adalah bank atau lembaga-lembaga keuangan yang memerlukan dana jangka pendek. Biasanya pembelian surat-surat berharga di pasar uang hanya didasarkan kepada kepercayaan semata. Hal ini disebabkan surat-surat berharga pasar uang biasanya tanpa jaminan tertentu.

Dalam pasar uang terdapat dua pihak yang terlibat secara langsung maupun tidak langsung. Masing-masing pihak mempunyai kepentingan dan tujuan masing-masing. Adapun pihak-pihak yang terlibat dalam pasar uang adalah sebagai berikut.

- 1) Pihak yang membutuhkan dana, baik bank maupun perusahaan nonbank yang membutuhkan dana dan harus segera dipenuhi untuk kepentingan tertentu.  
Pihak yang memerlukan dana dan mencari dana di pasar uang mempunyai beberapa tujuan tergantung dari kepentingan dan kebutuhan pencari dana. Tujuan dalam menghimpun dana dari pasar uang di antaranya sebagai berikut.
  - a) Untuk memenuhi kebutuhan dana jangka pendek, seperti membayar utang yang segera akan jatuh tempo.
  - b) Untuk memenuhi kebutuhan likuiditas, misalnya karena kekurangan uang kas.
  - c) Untuk memenuhi kebutuhan modal kerja, yaitu membayar biaya-biaya, upah karyawan, gaji, pembelian bahan, dan kebutuhan modal kerja lainnya.
  - d) Sedang mengalami kalah kliring, hal ini terjadi di lembaga kliring dan harus segera dibayar.



- 2) Pihak yang menanamkan dana, yaitu pihak yang menyediakan dana atau pihak yang menjual dana, baik bank maupun perusahaan nonbank dengan tujuan investasi di pasar uang.

Adapun tujuan dari pihak yang bermaksud menanamkan dananya di pasar uang adalah sebagai berikut.

- Untuk memperoleh penghasilan dengan tingkat suku bunga tertentu.
- Bermaksud membantu pihak yang benar-benar mengalami kesulitan keuangan.
- Spekulasi, dengan harapan akan memperoleh keuntungan besar dalam waktu yang relatif singkat dan dalam kondisi ekonomi tertentu.

c. Pegadaian

Pernahkah kamu mendengar semboyan “*Mengatasi masalah tanpa masalah*”? Ya, itu adalah motto dari perusahaan pegadaian. Usaha gadai ini sangat membantu masyarakat dalam mengatasi masalah keuangan, terutama bila kebutuhan itu mendesak.

Kata *gadai* sebenarnya sudah banyak dikenal oleh masyarakat kita. Orang-orang di desa sering menggadaikan ladang atau sawah mereka. Mereka meminjam uang sejumlah tertentu, ladang dan sawah mereka dijadikan jaminan.

Kegiatan di perum pegadaian juga tak jauh beda dengan itu. Orang-orang yang mengalami kesulitan keuangan bisa meminjam uang ke pegadaian dengan membawa barang sebagai jaminannya. Barang yang digadaikan tersebut akan dikembalikan kepada pemilik ketika peminjam mengembalikan uang yang dipinjamnya. Istilahnya menebus gadaian.

Kegiatan menjaminkan barang-barang berharga untuk memperoleh sejumlah uang dan dapat ditebus kembali setelah jangka waktu tertentu kita sebut dengan nama usaha gadai.

Apabila suatu barang sudah diserahkan sebagai barang jaminan pinjaman, maka barang itu disebut *tergadai* dan barang yang sudah digadaikan dinamakan *gadaian*.

Perusahaan yang menjalankan usaha gadai disebut perusahaan pegadaian dan satu-satunya usaha gadai di Indonesia yang resmi hanya dilakukan oleh Perum Pegadaian.

Dengan demikian, pengertian **usaha gadai** adalah kegiatan menjaminkan barang-barang berharga kepada pihak tertentu guna memperoleh sejumlah uang dan barang yang dijaminkan yang akan ditebus kembali sesuai dengan perjanjian antara nasabah dengan lembaga gadai.

Tujuan utama usaha pegadaian yaitu membantu masyarakat yang sedang membutuhkan uang agar tidak jatuh ke tangan para pelepas uang, tukang ijon atau tukang rentenir yang biasanya menetapkan bunga tinggi. Prosedur peminjaman uang di pegadaian sangat mudah dan cepat. Selain itu, biaya yang dibebankan pun lebih ringan dibandingkan biaya yang ditetapkan para pelepas uang atau tukang ijon.



**Gambar 4.12** Sampai saat ini lembaga yang melakukan usaha berdasarkan hukum gadai hanyalah Perum Pegadaian.

**Sumber:** Dokumen Penerbit.

### Tugas Mandiri

Apakah keluargamu pernah menggadaikan barang ke pegadaian?

Jika pernah, kemudahan apa yang diperoleh saat menggadaikan barang di pegadaian?



Meminjam uang di Perum Pegadaian juga tidak perlu memberikan keterangan rinci mengenai penggunaan uang sebagaimana kita meminjam uang ke bank yang harus menjelaskan tentang penggunaan uang yang kita pinjam (kredit). Sanksi yang diberikan oleh pihak pegadaian seandainya peminjam tidak bisa melunasi utangnya pada waktu yang telah disepakati juga relatif ringan. Dalam kondisi tersebut, pihak pegadaian akan melelang barang yang dijaminkan untuk melunasi pinjaman yang telah diberikan.

d. Sewa Guna Usaha (*Leasing*)

Perusahaan sewa guna usaha pada dasarnya adalah perusahaan yang bergerak di bidang pembiayaan untuk keperluan barang-barang modal yang diinginkan oleh nasabah.

Secara umum sewa guna usaha (*leasing*) diartikan sebagai perjanjian antara *lessor* (perusahaan *leasing*) dengan *lessee* (nasabah) di mana pihak *lessor* menyediakan barang dengan hak penggunaan oleh *lessee* dengan imbalan pembayaran sewa untuk jangka waktu tertentu.

Menurut Keputusan Menteri Keuangan No. 1169/KMK/01/1991 **sewa guna usaha** diartikan sebagai kegiatan pembiayaan dalam bentuk penyediaan barang modal, baik secara sewa guna usaha dengan hak opsi (*finance lease*) maupun sewa guna usaha tanpa hak opsi (*operating lease*) untuk digunakan oleh *lessee* selama jangka waktu tertentu berdasarkan pembayaran secara berkala. Adapun yang dimaksud *finance lease* adalah kegiatan sewa guna usaha di mana *lessee* pada akhir masa kontrak mempunyai hak opsi untuk membeli objek sewa guna usaha berdasarkan nilai sisa yang disepakati. Sementara pada *operating lease*, *lessee* tidak mempunyai hak opsi untuk membeli objek sewa guna usaha.

*Lessor* adalah perusahaan yang melakukan kegiatan usaha *leasing* dengan menyediakan berbagai macam barang modal, sedangkan *lessee* adalah nasabah yang menginginkan barang modal tersebut.



**Gambar 4.13** Kerja sama dealer dengan lembaga *leasing* memudahkan konsumen dalam hal kredit sepeda motor.

**Sumber:** Dokumen Penerbit.



Ada banyak kegiatan dari lembaga *leasing* yang berbeda satu sama lain. Di dalam Surat Keputusan Menteri Keuangan Nomor 1169/KMK.01/1991 Tanggal 21 November 1991, kegiatan *leasing* dapat dilakukan dengan dua cara yaitu melakukan sewa guna usaha dengan hak opsi bagi *lessee* (*finance lease*) dan melakukan sewa guna usaha tanpa hak opsi bagi *lessee* (*operating lease*).

Kriteria untuk *finance lease* adalah suatu perusahaan *leasing* yang memenuhi persyaratan sebagai berikut.

- 1) Jumlah pembayaran sewa guna usaha dan selama masa sewa guna usaha pertama kali, ditambah dengan nilai sisa barang yang disewagunausahakan harus dapat menutupi harga perolehan barang dan keuangan bagi pihak *lessor*.
- 2) Dalam perjanjian sewa guna usaha dimuat ketentuan mengenai hak opsi bagi *lessee*.

Adapun dari pihak *operating lease* harus memenuhi persyaratan sebagai berikut.

- 1) Jumlah pembayaran selama masa sewa guna usaha pertama tidak dapat menutupi harga perolehan harga barang modal dan keuangan bagi pihak *lessor*.
- 2) Di dalam perjanjian *leasing* tidak dimuat mengenai hak opsi bagi *lessee*.

Dalam praktiknya, transaksi sewa guna usaha dengan hak opsi dibagi lagi ke dalam bentuk-bentuk sebagai berikut.

- 1) *Direct finance lease* atau dikenal juga dengan nama *true lease*. Dalam transaksi ini pihak *lessor* membeli barang modal atas permintaan *lessee* dan sekaligus menyewagunausahakan barang tersebut kepada *lessee*. *Lessee* dapat menentukan spesifikasi barang yang diinginkan termasuk penentuan harga dan supliernya.

- 2) *Sales dan lease back*

Dalam hal ini *lessee* sudah mempunyai suatu barang modal, tetapi barang modal itu kemudian dijual kepada *lessor*. Oleh *lessor*, barang modal di atas kemudian disewagunausahakan kepada *lessee*. Metode ini biasanya digunakan untuk menambah modal kerja pihak *lessee*.

Biaya yang dikenakan terhadap *lessee* adalah biaya yang dikeluarkan untuk memperoleh barang yang dibutuhkan oleh *lessee* berikut bunganya.

e. Koperasi Simpan Pinjam/Koperasi Kredit

Koperasi merupakan salah satu bentuk badan hukum yang sudah lama dikenal di Indonesia. Pelopor perkembangan perkoperasian di Indonesia adalah Bung Hatta sehingga beliau dikenal sebagai Bapak Koperasi Indonesia.

Koperasi adalah kumpulan orang yang tergabung dalam sebuah organisasi dengan tujuan yang sama. Pembentukan koperasi berdasarkan atas kekeluargaan dan gotong-royong khususnya untuk membantu para anggotanya yang memerlukan bantuan.

## Tugas Mandiri

Sebutkan lembaga keuangan yang bergerak dalam bidang pembiayaan (*leasing*) yang ada di sekitar tempat tinggalmu!

## Wawasan Sosial

Mohammad Hatta (1902 –1980) disebut Bapak Koperasi Indonesia karena sumbangannya sangat besar dalam memajukan peranan koperasi di Indonesia. Ketertarikannya pada koperasi dimulai sewaktu beliau menjalani pendidikan di Eropa.

Beliau melihat bahwa koperasi di negara-negara Skandinavia sangat berperan dalam memajukan ekonomi rakyat.

Ketertarikannya tersebut diperjuangkan sehingga melahirkan Pasal 33 UUD 1945.

Mohammad Hatta disebut sebagai perumus pasal tersebut.



Dalam menjalankan kegiatannya koperasi simpan pinjam menarik sejumlah uang dari setiap anggota koperasi. Uang yang dikumpulkan para anggota kemudian dijadikan modal untuk dikelola oleh pengurus koperasi untuk dipinjamkan kembali bagi anggota yang membutuhkannya.

Koperasi memperoleh pendapatan dari bunga yang dibebankan kepada peminjam, biaya administrasi, dan keuntungan dari usahanya.

Biasanya, pada akhir tahun koperasi akan membagi sisa hasil usaha (SHU) kepada para anggotanya. SHU tersebut tidak dibagi sama rata. Anggota yang paling aktif akan memperoleh SHU paling besar.

Manfaat koperasi simpan pinjam dirasakan sekali oleh para anggota antara lain sebagai berikut.

- 1) Dapat meminjam uang dengan prosedur yang mudah dan tanpa jaminan.
- 2) Suku bunga relatif rendah.
- 3) Meningkatkan kegiatan menabung.
- 4) Pada setiap akhir tahun mendapatkan sisa hasil usaha (SHU)

f. Asuransi

Dapatkah kamu memastikan apa yang akan terjadi besok, minggu depan, apalagi tahun depan? Tak seorang pun bisa memastikan masa depannya. Hal itu karena masa depan pada dasarnya masih merupakan kemungkinan yang penuh ketidakpastian. Kita hanya bisa merencanakan dan memperkirakan.

Sekalipun tidak bisa memastikan masa depan atau apa yang akan terjadi di masa yang akan datang, kita bisa mempersiapkannya. Salah satu cara orang mempersiapkan diri menghadapi hal-hal tak terduga yang mungkin terjadi di masa yang akan datang adalah dengan mengikuti asuransi.



**Gambar 4.14** Ribuan bangunan di Bantul, DIY, rusak dan roboh akibat gempa 27 Mei 2006, sebenarnya dampaknya dapat diminimalkan dengan asuransi.

**Sumber:** Dokumen Penerbit.



Dari asal-usul katanya, “asuransi” berasal dari bahasa Latin *assecurare* yang berarti meyakinkan orang. Dalam bahasa Inggris kita menemukan kata *assure* yang berarti jamin atau tanggung dan *assurance* yang berarti kepastian atau jaminan. Menurut Undang-Undang Nomor 1 Tahun 1992 Tentang Usaha Asuransi, pengertian **asuransi** atau **pertanggungan** adalah perjanjian di antara dua pihak atau lebih, dengan mana pihak penanggung mengikatkan diri kepada tertanggung, dengan menerima premi asuransi, untuk memberikan penggantian kepada tertanggung karena kerugian, kerusakan, atau kehilangan.

Keuntungan yang diharapkan, atau tanggung jawab hukum kepada pihak ketiga yang mungkin akan diderita tertanggung, timbul dari suatu peristiwa yang tidak pasti, atau untuk memberikan suatu pembayaran yang didasarkan atas meninggal atau hidupnya seseorang yang dipertanggungkan.

Dalam perjanjian asuransi, tertanggung dan penanggung mengikat suatu perjanjian tentang hak dan kewajiban masing-masing. Perusahaan asuransi membebaskan sejumlah premi yang harus dibayar tertanggung. Premi yang harus dibayar sebelumnya sudah ditaksirkan dulu atau diperhitungkan dengan nilai risiko yang akan dihadapi. Makin besar risiko, makin besar premi yang harus dibayar, begitu juga sebaliknya.

Perjanjian asuransi tertuang dalam polis asuransi. Di sana disebutkan syarat-syarat, hak-hak, kewajiban masing-masing pihak, jumlah uang yang dipertanggungkan, dan jangka waktu asuransi. Jika dalam masa pertanggungan terjadi risiko, maka pihak asuransi akan membayar klaim sesuai dengan perjanjian yang telah dibuat dan ditandatangani oleh kedua belah pihak sebelumnya.

Pelaksanaan perjanjian asuransi antara perusahaan asuransi dengan pihak nasabah tidak dapat dilakukan secara sembarangan. Setiap perjanjian yang dilakukan mengandung prinsip-prinsip asuransi. Tujuannya untuk menghindari hal-hal yang tidak diinginkan di kemudian hari antara pihak perusahaan asuransi dengan pihak nasabah.

Prinsip-prinsip asuransi yang dimaksud adalah sebagai berikut.

- 1) *Insurable interest*, merupakan hal berdasarkan hukum untuk mempertanggungkan suatu risiko berkaitan dengan keuangan, yang diakui sah secara hukum antara tertanggung dan suatu yang dipertanggungkan serta dapat menimbulkan hak dan kewajiban keuangan secara hukum. Semua ini tergambar dari kontrak asuransi. Dalam hal ini perlu menyebutkan adanya kepentingan terhadap barang yang dipertanggungkan.
- 2) *Utmost good faith* (itikad baik), artinya dalam penetapan suatu kontrak haruslah didasarkan pada itikad baik antara tertanggung dan penanggung mengenai seluruh informasi baik materiil maupun imateriil.

### Tugas Mandiri

Cobalah sebutkan asuransi apa saja yang kamu dan keluargamu ikuti?

Manfaat apakah yang didapat dengan menjadi nasabah asuransi tersebut?



- 3) *Indemnity* atau ganti rugi, artinya mengendalikan posisi keuangan tertanggung setelah terjadi kerugian seperti pada posisi sebelum terjadinya kerugian tersebut. Dalam hal ini tidak berlaku bagi kontrak asuransi jiwa dan asuransi kecelakaan karena prinsip ini didasarkan kepada kerugian yang bersifat keuangan.
- 4) *Proximate cause*, adalah suatu sebab aktif, efisien yang mengakibatkan terjadinya suatu peristiwa secara berantai atau berurutan dan intervensi kekuatan lain, diawali dan bekerja dengan aktif dari suatu sumber baru dan bersifat independen.
- 5) *Subrogation*, merupakan hak penanggung yang telah memberikan ganti rugi kepada tertanggung untuk menuntut pihak lain yang mengakibatkan kepentingan asuransinya mengalami suatu peristiwa kerugian. Artinya, dengan prinsip ini penggantian kerugian tidak mungkin lebih besar daripada kerugian yang benar-benar dideritanya.
- 6) *Contribution*, adalah suatu prinsip di mana penanggung berhak mengajak penanggung-penanggung lain yang memiliki kepentingan yang sama untuk ikut bersama membayar ganti rugi kepada seseorang tertanggung, meskipun jumlah tanggungan masing-masing penanggung belum tentu sama besarnya.

g. Perusahaan Anjak Piutang

Salah satu risiko yang dihadapi oleh sebuah perusahaan adalah tidak tertagihnya piutang (macet). Jika piutang yang tidak tertagih tersebut cukup besar, hal itu pasti akan mengganggu keuangan perusahaan. Kemungkinan kesulitan yang dihadapi oleh suatu perusahaan tersebut mendorong lahirnya sebuah bentuk usaha yang dikenal perusahaan anjak piutang.

Pengertian perusahaan anjak piutang atau yang lebih dikenal dengan nama *factoring* adalah perusahaan yang kegiatannya melakukan penagihan atau pembelian, atau pengambilalihan atau pengelolaan utang piutang suatu perusahaan dengan imbalan atau pembayaran milik perusahaan.

Pengertian **anjak piutang**, menurut Keputusan Menteri Keuangan Nomor 1251/KMK.013/1988 Tanggal 20 Desember 1988 adalah badan usaha yang melakukan kegiatan pembiayaan dalam bentuk pembelian dan atau pengalihan serta pengurusan piutang atau tagihan jangka pendek suatu perusahaan dari transaksi perdagangan dalam atau luar negeri.

Keuntungan perusahaan diperoleh dari persentase selisih antara uang yang dikeluarkan untuk membayar perusahaan yang mempunyai piutang dengan pembayaran yang akan ia peroleh dari perusahaan yang berutang.

Misalnya, perusahaan A mempunyai piutang di perusahaan B sebesar Rp1.000.000,00 yang akan jatuh tempo tiga bulan lagi. Namun, karena sangat membutuhkan dana, perusahaan A kemudian menggunakan jasa perusahaan anjak piutang C,

### Tugas Mandiri

Cobalah kamu menyebutkan perusahaan-perusahaan anjak piutang yang ada di sekitar tempat tinggalmu!



dengan imbalan 15%. Selanjutnya perusahaan C akan membayarkan utang perusahaan B kepada perusahaan A sebesar Rp850.000,00. Jumlah ini diperoleh dari Rp1.000.000,00 dikurangi ( $Rp1.000.000,00 \times 15\%$ ). Dengan demikian, perusahaan A sudah tidak mempunyai piutang lagi di perusahaan B. Tiga bulan kemudian, perusahaan C akan memperoleh pembayaran dari pihak B sebesar Rp1.000.000,00.

#### h. Modal Ventura

Pengertian **perusahaan modal ventura** sesuai dengan Keputusan Presiden Nomor 61 Tahun 1988 adalah badan usaha yang melakukan suatu pembiayaan dalam bentuk penyertaan modal ke dalam suatu perusahaan yang menerima bantuan pembiayaan.

Perbedaan antara bank dengan modal ventura terletak pada jenis kegiatannya. Bank membiayai suatu kegiatan tetapi tidak masuk ke perusahaan yang dibiayainya, sedangkan modal ventura memberikan pembiayaan dengan cara melakukan penyertaan modal ke dalam perusahaan yang dibiayainya.

Berikut ini ciri-ciri atau karakteristik perusahaan modal ventura.

- 1) Kegiatan yang dilakukan bersifat penyertaan langsung ke suatu perusahaan.
- 2) Penyertaan dalam suatu perusahaan bersifat jangka panjang dan biasanya di atas 3 tahun.
- 3) Bisnis yang dimasuki merupakan bisnis yang memiliki risiko tinggi.
- 4) Keuntungan yang diperoleh berasal dari *capital gain*, *dividen* atau bagi hasil tergantung dari penyertaan modalnya di bidang yang diinginkan.
- 5) Kegiatannya lebih banyak dilakukan dalam usaha pembentukan usaha baru atau pengembangan suatu usaha.

#### i. Dana Pensiun

Dana pensiun secara umum dapat dikatakan sebagai perusahaan yang memungut dana dari karyawan suatu perusahaan atau masyarakat umum dan memberikan pendapatan kepada peserta pensiun sesuai perjanjian. Artinya, dana pensiun dikelola oleh suatu lembaga dan memungut dana dari pendapatan para karyawan suatu perusahaan atau masyarakat umum sebagai peserta pensiun, kemudian membayarkan kembali dana tersebut dalam bentuk pensiun setelah jangka waktu tertentu sesuai dengan perjanjian antara kedua belah pihak. Menurut perjanjian, biasanya pensiun dapat diberikan pada saat karyawan tersebut sudah memasuki usia pensiun.

Menurut UU Nomor 11 Tahun 1992, **dana pensiun** adalah badan hukum yang mengelola dan menjalankan program yang menjanjikan manfaat pensiun. Pengertian pensiun adalah hak seseorang untuk memperoleh penghasilan setelah bekerja sekian tahun dan sudah memasuki usia pensiun atau

#### Tugas Mandiri

Tanyakan kepada kakek, nenek, atau kerabatmu yang sudah memasuki masa pensiun, apakah mereka sebelumnya sudah menjadi anggota dana pensiun? Manfaat apa yang mereka peroleh dengan adanya dana pensiun?



ada sebab-sebab lain sesuai dengan perjanjian yang telah ditetapkan. Penghasilan dalam hal ini biasanya diberikan dalam bentuk uang dan besarnya tergantung dari peraturan yang ditetapkan.

Jadi, kegiatan perusahaan dana pensiun adalah memungut dana berupa iuran yang dipotong dari pendapatan para peserta pensiun. Iuran ini kemudian diinvestasikan lagi ke dalam berbagai kegiatan usaha yang dianggap paling menguntungkan. Dalam Perusahaan dana pensiun, tidak memungut iuran yang dipungut dari para peserta pensiun tidak dikenakan pajak.

j. Kartu Kredit (*Credit Card*)

Pada era modern seperti sekarang, kamu dapat mengamati berbagai macam transaksi, mulai dari dengan cara yang paling sederhana sampai transaksi dengan metode modern.

Sebagaimana kamu ketahui bahwa pada awalnya transaksi menggunakan cara barter, kemudian menggunakan uang.

Namun dalam perjalanannya, penggunaan uang mengalami berbagai hambatan tertentu salah satunya adalah risiko bila harus membawa uang dalam jumlah yang sangat besar misalnya risiko kehilangan atau perampokan. Akibatnya, mulailah dipikirkan untuk menemukan alat lain yang bisa dipakai untuk pembayaran seperti uang, tetapi dengan risiko yang lebih rendah dibandingkan dengan uang tunai.

Untuk selanjutnya ditemukanlah kartu kredit, yang berupa kartu plastik atau uang plastik, yang mampu menggantikan fungsi uang sebagai alat pembayaran. Kartu kredit dapat pula digunakan untuk berbagai keperluan sehingga bersifat multifungsi. Berbagai risiko yang dihadapi uang tunai bisa diminimalisasi. Menggunakan kartu kredit dirasakan lebih aman dan lebih praktis untuk segala keperluan dibandingkan dengan menggunakan uang tunai. Apalagi kartu kredit sudah dapat digunakan untuk segala kegiatan secara internasional, seperti *visa card* dan *master card*.

Kartu plastik merupakan kartu yang dikeluarkan oleh bank atau lembaga nonbank dan diberikan kepada nasabah untuk dipergunakan sebagai alat pembayaran di supermarket, pasar swalayan, hotel, restoran, tempat hiburan, dan tempat-tempat lainnya. Di samping itu, dengan kartu kredit juga dapat mengambil uang di berbagai tempat seperti di ATM (*Automated Teller Machine*). ATM biasanya tersebar di berbagai tempat yang strategis seperti di pusat perbelanjaan, hiburan, dan perkantoran.

Penggunaan kartu kredit di Indonesia memang terhitung baru, yaitu sekitar tahun 80-an. Keluarnya Keputusan Menteri Keuangan Nomor 1251/KMK.013/1988 Tanggal 20 Desember 1988 telah mengubah peta penyebaran kartu plastik yang makin luas. Berdasarkan surat keputusan tersebut bisnis kartu plastik digolongkan sebagai kelompok usaha jasa pembiayaan.



**Gambar 4.15** Kartu kredit mampu menggantikan fungsi uang sebagai alat pembayaran.

**Sumber:** *Warta Ekonomi*, 5 September 2005





## Rangkuman

- ❖ Uang merupakan alat yang dapat digunakan untuk melakukan tukar-menukar baik barang maupun jasa dalam suatu wilayah tertentu.
- ❖ Syarat-syarat barang dapat digunakan sebagai uang yaitu harus ada jaminan dari pemerintah, disukai umum, nilainya stabil, mudah disimpan, mudah dibawa, tidak mudah rusak, dan mudah dibagi.
- ❖ Fungsi asli uang yaitu fungsi yang mengacu pada tujuan awal diciptakannya uang di antaranya sebagai alat tukar-menukar dan sebagai alat satuan hitung.
- ❖ Uang mempunyai fungsi turunan yaitu sebagai alat pembayaran, alat menabung, pendorong kegiatan ekonomi, pembentuk dan pemindah kekayaan, standar pembayaran utang, pencipta kesempatan kerja, dan komoditas yang diperjualbelikan.
- ❖ Dalam perekonomian yang semakin modern, uang merupakan suatu kebutuhan bahkan menjadi salah satu penentu stabilitas dan kemajuan perekonomian suatu negara.
- ❖ Menurut Undang-Undang RI Nomor 10 Tahun 1998, bank adalah badan usaha yang menghimpun dana dari masyarakat dalam bentuk simpanan dan menyalurkannya kembali kepada masyarakat dalam bentuk kredit atau bentuk-bentuk lainnya dalam rangka meningkatkan taraf hidup masyarakat.
- ❖ Bank sentral di Indonesia adalah Bank Indonesia. Tujuan Bank Indonesia seperti dalam UU RI No. 23 Tahun 1999 Bab III Pasal 7 adalah untuk mencapai dan memelihara kestabilan rupiah dengan didukung oleh tiga pilar, yaitu:
  1. Menetapkan dan melaksanakan kebijakan moneter.
  2. Mengatur dan menjaga kelancaran sistem pembayaran.
  3. Mengatur dan mengawasi perbankan di Indonesia.
- ❖ Lembaga Keuangan Bukan Bank (LKBB) adalah lembaga yang bergerak di bidang keuangan selain bank yang berperan dalam perekonomian negara.
- ❖ LKBB di antaranya adalah pasar modal, pasar uang, pegadaian, sewa guna usaha (*leasing*), koperasi simpan pinjam, asuransi, perusahaan anjak piutang, modal ventura, dana pensiun, dan kartu kredit.



## Refleksi

Pada bab ini, kamu sudah belajar tentang uang dan lembaga keuangan. Sekarang berilah tanda cek (✓) pada kolom Ya atau Tidak.

No	Pernyataan	Ya	Tidak
1.	Sudahkah kamu paham jenis-jenis uang yang beredar di masyarakat?		
2.	Apakah di daerah tempat tinggalmu terdapat bank?		
3.	Apakah kamu menabung di bank?		
4.	Sudahkah kamu mampu membedakan bank milik pemerintah dengan bank milik swasta nasional?		
5.	Apakah kamu ikut asuransi pendidikan? Tanyakan kepada orang tuamu.		

## Latihan Soal

4

*Kerjakan di buku tugasmu!*

### I. Pilihlah satu jawaban yang paling tepat!

- Kemampuan suatu barang untuk ditukarkan dengan barang lain disebut ....
  - nilai tambah
  - nilai tukar
  - nilai nominal
  - nilai uang
- Berikut ini adalah syarat uang, *kecuali* ....
  - nilai tetap
  - mudah rusak
  - mudah dibawa ke mana-mana
  - mudah dibagi-bagi tanpa mengurangi nilai yang sebenarnya
- Seseorang yang melakukan usaha atau pekerjaan bertujuan untuk ....
  - menghabiskan waktu hidupnya
  - memperoleh keuntungan
  - berhubungan dengan orang lain
  - memenuhi kebutuhan hidupnya
- Berikut ini yang dimaksud dengan barter adalah ....
  - mencukupi kebutuhan sendiri
  - peristiwa tukar-menukar barang
  - pertukaran barang pada zaman purba
  - pemenuhan kebutuhan hidupnya
- Salah satu kebijakan moneter yang dilakukan pemerintah adalah devaluasi. Tujuan pokok diadakannya devaluasi adalah ....
  - untuk mendapatkan devisa yang lebih banyak
  - untuk memperbanyak impor barang jasa
  - untuk mengurangi jumlah uang yang beredar di tengah masyarakat
  - untuk mengurangi pengeluaran devisa
- Uang sebagai modal untuk investasi mendirikan pabrik atau badan usaha lainnya menunjukkan fungsi uang sebagai ....
  - alat pembayaran
  - alat pembentuk modal
  - penunjuk harga
  - satuan hitung
- Bank yang memegang peranan penting dalam mengatur peredaran uang dalam suatu negara adalah ....
  - bank sentral
  - bank deposito
  - bank sekunder
  - bank umum



8. Simpanan di bank dalam bentuk deposito yang buktinya dapat dipindahtangankan disebut ....
  - a. deposito berjangka
  - b. sertifikat deposito
  - c. simpanan giro
  - d. tabungan
9. Dalam bidang perbankan dan perkreditan, kewajiban Bank Indonesia adalah ....
  - a. memberi likuiditas kepada setiap bank dan lembaga keuangan lain
  - b. memberi kredit likuiditas kepada bank yang sekarat
  - c. mengawasi setiap penyaluran kredit kepada setiap bank komersial
  - d. memberi kredit khusus kepada setiap perusahaan
10. Kegiatan perbankan di Indonesia diatur dalam Undang-Undang Perbankan yang perencanaan dan pokok-pokok kebijakannya diatur oleh ....
  - a. Menteri keuangan
  - b. Gubernur Bank Indonesia
  - c. dewan moneter
  - d. DPR
11. Simpanan yang penarikannya hanya dapat dilakukan pada waktu tertentu berdasarkan perjanjian nasabah penyimpan dengan bank disebut ....
  - a. tabungan
  - b. deposito
  - c. giro
  - d. sertifikat deposito
12. Iuran yang harus dibayar oleh orang yang mempertanggungungkan dirinya kepada perusahaan asuransi disebut ....
  - a. premi
  - b. bunga
  - c. balas jasa
  - d. tuntutan
13. Untuk menjalankan perekonomiannya setiap negara mempunyai bank sentral. Bank sentral adalah ....
  - a. bank yang bertugas membimbing pelaksanaan kebijakan keuangan pemerintah dan membina serta mengawasi seluruh bank di Indonesia
  - b. badan usaha yang menghimpun dana dari masyarakat dan menyalurkannya kembali ke masyarakat
  - c. bank yang dapat memberi jasa dalam lalu lintas pembayaran
  - d. bank yang hanya menerima simpanan dalam bentuk deposito
14. Perum pegadaian adalah salah satu lembaga keuangan bukan bank yang merupakan badan usaha milik ....
  - a. masyarakat
  - b. pemerintah pusat
  - c. swasta nasional
  - d. pemerintah daerah
15. Proses kliring antarbank dapat dilakukan di suatu daerah yang di dalamnya terdapat ....
  - a. bank umum
  - b. bank swasta nasional
  - c. BPR
  - d. Bank Indonesia

## II. Jawablah pertanyaan berikut dengan benar!

1. Jelaskan fungsi uang sebagai alat pembayaran!
2. Tuliskan tugas pokok Bank Indonesia!
3. Sebutkan tugas pokok bank sentral!
4. Jelaskan yang dimaksud dengan tabungan dan peranan tabungan masyarakat bagi pembangunan!
5. Jelaskan perbedaan antara bank dengan perusahaan modal ventura!



*Bacalah wacana di bawah ini dengan saksama!*

### Pengaruh Kartu Kredit terhadap Pemiliknya

Seiring dengan kian beragamnya kebutuhan konsumen, kartu kredit makin memanjakan nasabahnya dengan sejumlah fasilitas. Kini kartu kredit tidak lagi sekadar penopang gaya hidup, tetapi lebih dari itu juga menunjang semua aktivitas dalam kehidupan sehari-hari masyarakat modern.

Kalau digunakan secara bijaksana, kartu kredit dapat menjadi alat pembayaran yang praktis karena tak perlu membawa uang dalam jumlah banyak. Kartu kredit bisa digunakan dalam keadaan darurat, seperti ke rumah sakit, dapat membeli keperluan yang mendesak untuk dibayar kemudian hari atau dengan cara mencicil secara ringan lewat fasilitas *eazy pay*.

Kartu kredit tidak hanya memberikan kemudahan bertransaksi sebagai pengganti uang tunai, melainkan juga mempunyai fungsi kredit. Di tengah kondisi perekonomian yang sulit, masyarakat dapat memanfaatkan fungsi ini.

Apabila dilihat dari fungsinya, kartu kredit jelas merupakan alat pembayaran yang praktis. Misalnya, dapat memenuhi keperluan bisnis maupun pribadi, mulai dari membiayai perjalanan dinas, menjamu klien, membiayai kelahiran si kecil, hingga belanja kebutuhan harian atau liburan bersama keluarga.

Untuk kartu kredit yang terkait dengan perguruan tinggi, seperti ITB, IPB, UGM, dan lain-lain, atau anggota dari institusi nonprofit seperti Kadin Jakarta, kartu kredit juga menjadi alat untuk jati diri, sekaligus memberi kontribusi bagi institusi yang bersangkutan dengan memiliki kartu kredit tersebut.

Memiliki kartu kredit sesungguhnya membuktikan bahwa seseorang dipercaya oleh lembaga keuangan. Selama seseorang dapat memastikan bahwa utang dapat dibayar, kartu kredit menjadi sarana penting bagi kehidupan keuangan seseorang. Bahkan, jika dapat dimanfaatkan secara produktif, kartu kredit dapat meningkatkan kualitas kehidupannya. Jadi, bukan makin sengsara karena dikejar-kejar tukang tagih. Banyak pemegang kartu kredit yang terjebak dalam “lingkaran setan” utang karena memandang kartu kredit sebagai kemudahan untuk berutang. Pada dasarnya, kartu kredit adalah sarana pengganti transaksi uang tunai yang aman dan mudah.

**Sumber:** *Warta Ekonomi*, No. 18/XVII/5 September 2005 (dengan pengubahan seperlunya),

### Kerjakan kegiatan berikut secara berkelompok!

**Ikuti langkah-langkah pengerjaan berikut ini.**

1. Buatlah kelompok dengan anggota lima siswa.
2. Lakukan diskusi dengan menjawab pertanyaan berikut.
  - a. Manfaat apa saja yang dapat diperoleh dengan menggunakan kartu kredit menurut wacana di atas?
  - b. Segi negatif apa yang dapat ditimbulkan dengan kepemilikan kartu kredit?
  - c. Pertimbangan apa saja yang harus dipikirkan sebelum menggunakan kartu kredit?
  - d. Bagaimana prosedur untuk dapat memiliki kartu kredit?
  - e. Menurut analisis kelompokmu, apakah pelajar seperti kalian sudah pantas memakai kartu kredit?
3. Buat laporan hasil diskusi kelompokmu untuk kemudian presentasikan di depan kelas.



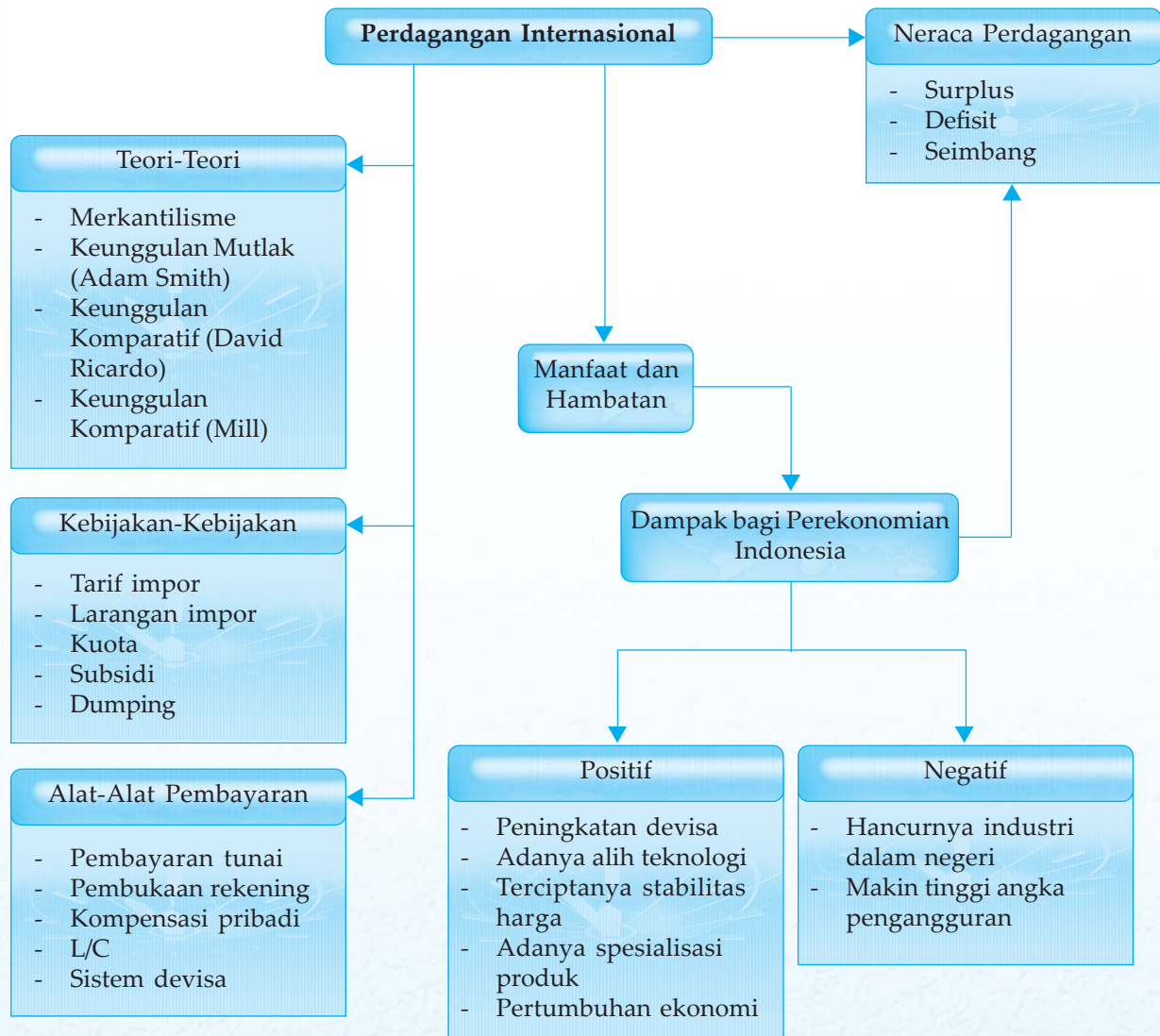
# Perdagangan Internasional



Hubungan perdagangan internasional dimaksudkan untuk membeli barang dan jasa dari suatu negara atau proses pertukaran barang dan jasa yang dilakukan antarnegara untuk memenuhi kebutuhan negara yang bersangkutan. Kegiatan ini menyebabkan adanya arus masuk (impor) dan arus keluar (ekspor) barang dan jasa. Untuk itu, marilah kita pelajari bab ini secara seksama agar lebih memahami perdagangan internasional dan dampaknya bagi perekonomian Indonesia.



# Peta Konsep



## Kata Kunci

- perdagangan
- neraca perdagangan
- neraca pembayaran
- kurs valuta asing
- devisa



Setiap negara termasuk Indonesia akan menghadapi perkembangan ekonomi, keuangan, dan perdagangan internasional yang pesat dan kompleks, baik pada tingkat regional (AFTA atau kawasan perdagangan bebas ASEAN) maupun pada tingkat internasional (APEC).

Untuk memahami perekonomian internasional atau perekonomian antarnegara, sebelumnya kamu harus mempelajari bagaimana hubungan ekonomi antara satu negara dengan negara lain yang antara lain berupa perdagangan, investasi, pinjaman, bantuan, serta kerja sama internasional.

## A. Timbulnya Perdagangan Internasional

Hampir tidak ada satu negara pun di dunia yang tidak melakukan hubungan perdagangan internasional. Hal ini dikarenakan suatu negara tidak dapat memenuhi sendiri semua kebutuhannya tanpa memperoleh atau membeli dari negara lain melalui proses perdagangan antarnegara.

Perdagangan dalam ilmu ekonomi diartikan sebagai proses tukar-menukar yang didasarkan atas kehendak sukarela dari masing-masing pihak. Hal ini berarti perdagangan hanya akan timbul apabila paling tidak ada satu pihak yang memperoleh keuntungan atau manfaat dan juga tidak ada pihak lain yang merasa dirugikan.

Adapun motif orang melakukan perdagangan karena adanya kemungkinan diperoleh manfaat tambahan atau biasa disebut dengan manfaat perdagangan (*gains from trade*).

Tanpa adanya perdagangan internasional, setiap negara harus memproduksi sendiri segala sesuatu yang dibutuhkan di dalam negeri.

Perdagangan internasional memungkinkan terjadinya tukar-menukar barang dan jasa, pergerakan sumber daya melalui batas-batas negara, serta pertukaran dan perluasan penggunaan teknologi sehingga dapat mempercepat pertumbuhan ekonomi negara-negara yang terlibat di dalamnya. Berikut beberapa teori tentang perdagangan internasional.

### 1. Merkantilisme

Dalam perdagangan luar negeri, Teori Merkantilis memusatkan diri pada dua ide pokok yaitu penumpukan logam mulia dan usaha untuk mencapai dan mempertahankan kelebihan nilai ekspor atas nilai impor.

Tujuan utama merkantilisme adalah pembentukan negara yang kuat dan usaha pemupukan kemakmuran nasional untuk mempertahankan dan mengembangkan kekuatan negara itu dengan jalan penumpukan logam mulia. Logam mulia disamaartikan dengan kemakmuran, memiliki logam mulia berarti memiliki kemakmuran dan juga kekuasaan.

### Wawasan Sosial

Perdagangan internasional sudah berlangsung sejak berabad-abad lalu.

Pedagang dari Hadramaut (Yaman) yang tiba di Jawa pada abad ke-19 sangat berperan dalam kegiatan perdagangan di Nusantara pada masa itu.

### Tugas Mandiri

Cobalah kamu sebutkan faktor-faktor yang mendorong suatu negara melakukan perdagangan internasional!





## Wawasan Sosial

Pada pertengahan abad ke-17, Inggris telah menghapus seluruh kebijakan zaman Merkantilisme. Teori Laissez-Faire (bebas dari campur tangan pemerintah) yang dikemukakan Adam Smith pada abad ke-18 secara bertahap mengakhiri zaman Merkantilisme.



**Gambar 5.1** Kebijakan kaum Merkantilis di antaranya mendorong kegiatan ekspor dan membatasi kegiatan impor.

**Sumber:** Dokumen Penerbit

Bagi suatu negara yang tidak memiliki tambang logam mulia, sumber utama logam mulia adalah kelebihan nilai ekspor atas nilai impor. Kelebihan ekspor ini akan menambah logam mulia (karena kelebihan ini harus dibayar dengan logam mulia). Dengan masuknya tambahan logam mulia ke dalam negeri, jumlah uang yang beredar akan bertambah. Dengan demikian dana-dana modal yang dapat ditawarkan akan meningkat, sehingga tidak saja volume perdagangan yang akan naik tetapi juga aktivitas-aktivitas ekonomi lainnya, khususnya industri barang-barang ekspor.

Untuk mencapai tujuannya, kaum Merkantilis telah mengambil beberapa langkah. *Pertama*, mendorong kegiatan ekspor dengan memberikan subsidi kepada barang-barang ekspor. Namun demikian, bahan mentah dan barang-barang modal dilarang untuk diekspor, serta tenaga-tenaga ahlinya dilarang pindah ke luar negeri. *Kedua*, pembatasan kegiatan impor dengan menggunakan tarif maupun larangan langsung untuk mengimpor barang-barang yang diproduksi di dalam negeri. Selain kebijakan tersebut, kebijakan penting lain dari merkantilisme adalah berusaha memonopoli perdagangan dan memperoleh daerah-daerah jajahan.



## Tugas Mandiri

Luaskan wawasanmu dengan banyak membaca surat kabar dan melihat tayangan berita di televisi, atau mendengarkan radio.

Buatlah catatan tentang barang-barang yang diekspor maupun yang diimpor oleh Indonesia!

## 2. Teori Keunggulan Mutlak dari Adam Smith (Kaum Klasik)

Pertama-tama Adam Smith mengkritik kaum Merkantilis dengan mengatakan bahwa ukuran kemakmuran suatu negara tidaklah terletak pada banyaknya logam mulia, tetapi pada banyaknya barang yang dimiliki. Jadi, suatu negara yang makmur adalah negara yang mampu mengembangkan produksi barang-barang dan jasa-jasanya (GNP) melalui perdagangan.



Dalam teorinya, Adam Smith mengemukakan ide tentang pembagian kerja internasional (*spesialisasi*). Spesialisasi internasional ini dapat memberikan hasil berupa manfaat (*gains from trade*), yaitu kenaikan produksi dan konsumsi barang/jasa. Dengan spesialisasi internasional, setiap negara akan menekankan pada produksi barang yang memiliki keunggulan, baik keunggulan alamiah (keunggulan yang dimiliki suatu negara karena memiliki sumber daya yang tidak dimiliki negara lain) maupun keunggulan yang dikembangkan (keunggulan suatu negara karena telah mampu mengembangkan kemampuan dan keterampilan dalam produksi barang yang tidak/belum diproduksi negara lain).

Dengan demikian, setiap negara akan melakukan spesialisasinya dalam produksi yang memiliki **keunggulan mutlak**, yaitu keunggulan yang dinyatakan dengan banyaknya jam/hari kerja yang dibutuhkan untuk membuat barang-barang tersebut. Keunggulan ini baru akan diperoleh apabila suatu negara mampu memproduksi suatu barang dengan jam/hari kerja yang lebih sedikit dibandingkan dengan negara lain.

Untuk lebih jelasnya mengenai teori Adam Smith ini, coba perhatikan *Tabel 5.1* dan *Tabel 5.2* di bawah ini!

**Tabel 5.1** Keunggulan Mutlak (Jam kerja per satuan output)


	Kain	Radio	Dasar Tukar Dalam Negeri
Indonesia	jam/meter	2 jam/buah	1 radio = 30 meter kain
Jepang	jam/meter	1 jam/buah	1 radio = 10 meter kain

Dari *Tabel 5.1*, untuk memproduksi 1 meter kain Indonesia membutuhkan waktu 4 menit ( $\frac{1}{15} \times 60$  menit), dan untuk memproduksi 1 buah radio membutuhkan waktu 2 jam. Sementara bagi Jepang untuk memproduksi 1 meter kain membutuhkan waktu 6 menit ( $\frac{1}{10} \times 60$  menit) dan untuk memproduksi 1 buah radio hanya membutuhkan waktu 1 jam. Hal ini menunjukkan Indonesia memiliki keunggulan mutlak dalam produksi kain dan Jepang memiliki keunggulan mutlaknya dalam produksi radio. Dalam kondisi yang demikian akan sangat menguntungkan bagi kedua negara apabila Indonesia mengekspor kain dan mengimpor radio, sebaliknya Jepang mengekspor radio dan mengimpor kain.

**Tabel 5.2** Keunggulan Mutlak [Produksi satu orang dalam 1 hari (8 jam)]

	Kain	Radio	Dasar Tukar Dalam Negeri
Indonesia	120 meter (15 meter/jam $\times$ 8 jam)	4 buah ( $\frac{1}{2}$ buah/jam $\times$ 8 jam)	1 radio = 30 meter kain
Jepang	80 meter (10 meter/jam $\times$ 8 jam)	8 buah (1 buah/jam $\times$ 8 jam)	1 radio = 10 meter kain

## Wawasan Sosial



The Wealth of Nations karya Adam Smith, yang terbit 9 Maret 1776.



Sebelum ada hubungan dagang antara Indonesia dengan Jepang, orang-orang di Indonesia untuk mendapatkan 1 buah radio harus mengorbankan 30 meter kain (berarti dasar tukar dalam negeri = 30), sedangkan orang Jepang untuk memperoleh 1 buah radio harus mengorbankan 10 meter kain (dasar tukar dalam negeri = 10). Jadi, bagi orang Jepang apabila memberikan 1 buah radio hanya akan mendapatkan 10 meter kain saja. Sementara bagi orang Indonesia, dengan mengorbankan 1 buah radio akan mendapatkan 30 meter kain. Apabila harga di pasaran internasional 1 buah radio = 20 meter kain, maka hubungan dagang antara Indonesia dengan Jepang akan menguntungkan sekali. Indonesia akan memperoleh keuntungan dengan melakukan spesialisasi pada kain, karena sebelum perdagangan, Indonesia harus menukar 1 buah radio dengan 30 meter kain, sedangkan sesudah perdagangan untuk memperoleh 1 buah radio cukup mengorbankan 20 meter kain. Demikian pula dengan Jepang yang mengkhususkan diri pada produksi radio. Sebelum perdagangan dengan menyerahkan 1 buah radio hanya mendapatkan 10 meter kain, tetapi setelah perdagangan dengan menyerahkan 1 buah radio akan mendapatkan 20 meter kain.

## Wawasan Sosial



**David Ricardo (1772–1823)**

Ia memperkenalkan teori keunggulan komparatif.

### 3. Teori Keunggulan Komparatif dari Ricardo

Nama lengkapnya David Ricardo. Ricardo merasa kurang puas dengan teori Adam Smith. Ia kemudian mengajukan dua perbedaan dalam perdagangan, yaitu perdagangan dalam negeri dan perdagangan luar negeri.

Untuk perdagangan dalam negeri, menurut Ricardo, bisa berlaku teori keunggulan mutlak Adam Smith. Sementara itu, untuk perdagangan luar negeri teori itu kurang bisa dipakai. Untuk perdagangan luar negeri ia mengajukan teori keunggulan/ongkos komparatif. Menurut teori ini, setiap negara cenderung melakukan spesialisasi dan mengeksport barang-barang yang memiliki keunggulan komparatif.

Keunggulan komparatif akan diukur dalam ongkos riil yang mencerminkan ongkos tenaga kerja. Bisa saja terjadi 2 buah produk suatu negara sama-sama memiliki keunggulan mutlak, akan tetapi belum tentu keduanya memiliki keunggulan komparatif. Untuk membuktikannya, perhatikan [Tabel 5.3](#) di bawah ini!

**Tabel 5.3** Keunggulan Komparatif Ricardo (Jam kerja per satuan output)

	Kain	Anggur
Indonesia	90	80
Inggris	100	120



Berdasarkan teori Adam Smith, Indonesia memiliki keunggulan mutlak dalam produksi kain dan anggur sehingga perdagangan jelas tidak menguntungkan bagi Indonesia. Akan tetapi, tidak demikian berdasarkan Teori Keunggulan Komparatif Ricardo.

Ongkos untuk memproduksi kain di Indonesia adalah 90% (90/100) dari ongkos produksi di Inggris, sedangkan untuk anggur hanya 66,7% (80/120). Jadi, sekalipun kain maupun anggur Indonesia memiliki keunggulan mutlak, ternyata anggurlah yang memiliki keunggulan kompetitif. Dengan demikian, akan menguntungkan jika Indonesia melakukan spesialisasi dalam produksi anggur, sedangkan Inggris melakukan spesialisasi dalam produk kain.

Bagi Indonesia, perdagangan tersebut akan menghemat jam kerja sebanyak 10 jam (90 jam – 80 jam) per satuan angguranya. Maksudnya, sebelum adanya perdagangan Indonesia butuh 170 jam kerja (90 jam + 80 jam) untuk memproduksi satu satuan kain dan satu satuan anggur. Akan tetapi dengan adanya perdagangan dengan Inggris, waktu yang seharusnya dipakai Indonesia untuk memproduksi satu satuan kain (90 jam) bisa digunakan untuk memproduksi satu satuan anggur dengan sisa waktu 10 jam. Sementara untuk Inggris, perdagangan tersebut akan menghemat 20 jam (120 jam – 100 jam) per satuan kainnya.

#### 4. Teori Keunggulan Komparatif dari Mill

Teori ini pada intinya sama dengan Ricardo, hanya saja bersifat lebih umum. Perdagangan akan menguntungkan bagi dua negara apabila terdapat Dasar Tukar Internasional (DTI), yaitu perbandingan antara Dasar Tukar Dalam Negeri (DTD) masing-masing negara.

**Tabel 5.4** Teori Keunggulan Komparatif Mill (Output per satuan jam kerja)

	Kain	Linen	Dasar Tukar Dalam Negeri
Inggris	10	15	1 satuan kain = 1,5 satuan linen
Jepang	10	20	1 satuan kain = 2 satuan linen

Berdasarkan contoh pada tabel di atas, maka DTI harus terletak dalam batas-batas yang ditentukan oleh DTD antara Inggris dengan Jepang, sehingga DTI dapat dinyatakan sebagai berikut.

- Apabila dinyatakan dalam kain:  
 $1,5 \text{ satuan linen} < \text{DTI} < 2 \text{ satuan linen}$
- Apabila dinyatakan dalam linen:  
 $10/20 \text{ satuan kain} < \text{DTI} < 10/15 \text{ satuan kain}$

Dengan adanya DTI perdagangan akan menguntungkan kedua belah pihak.

#### Tugas Mandiri

Di daerah tempat tinggalmu, adakah produk yang diperkirakan dapat bersaing di dunia internasional? Coba carilah dan beri penjelasan secukupnya!



Setelah mempelajari Teori Klasik, sebenarnya akan lebih jelas lagi apabila terlebih dahulu mengetahui asumsi yang diajukan oleh Kaum Klasik berikut ini.

- Meliputi perdagangan dua barang dan yang berdagang dua negara.
- Teori nilai berdasarkan tenaga kerja.
- Ongkos produksi tetap.
- Ongkos transportasinya diabaikan (dianggap tidak ada).
- Faktor produksi bebas bergerak di dalam negeri tapi tidak dapat melampaui batas negara.
- Adanya persaingan di pasar barang dan pasar faktor produksi.
- Distribusi pendapatan tetap.
- Perdagangan dengan cara barter.
- Tidak ada perubahan teknologi.

## B. Neraca Perdagangan

Suatu negara yang terlibat dalam perdagangan internasional akan mencatat besarnya ekspor dan impor yang dilakukannya. Catatan-catatan tentang besarnya ekspor dan impor dalam suatu periode (bulanan, triwulan, semester, atau setahun) apabila dijumlahkan akan terbentuk suatu neraca perdagangan. Neraca perdagangan biasanya termuat dalam neraca pembayaran.

Apabila total nilai ekspor dalam neraca perdagangan lebih besar daripada nilai impor, maka neraca perdagangan tersebut dapat dikatakan aktif (*surplus*). Sebaliknya, apabila total nilai impor lebih besar daripada total nilai ekspor, maka neraca perdagangan disebut pasif (*defisit*). Namun, ada kalanya nilai ekspor sama dengan nilai impor, maka neraca perdagangan yang demikian dikatakan seimbang.

Neraca perdagangan yang aktif menggambarkan negara tersebut mempunyai cadangan devisa yang setiap saat dapat digunakan untuk melakukan impor dari negara lain. Oleh karena itu, semua negara selalu berusaha agar neraca perdagangannya aktif.

Sebagai contoh, neraca pembayaran negara X tahun 3000 (dalam unit bahan makanan) diketahui sebagai berikut.

Ekspor	+ 75
Impor	– 90
	<hr/>
Neraca Perdagangan	– 15
Pinjaman	+ 15
	<hr/>
<b>Saldo</b>	<b>0</b>

### Tugas Mandiri

Bilamana suatu neraca perdagangan dapat dikatakan surplus dan defisit? Coba kamu beri penjelasan secukupnya!



**Keterangan:**

Tanda positif (+) : menunjukkan negara mengirim barang ke luar negeri.

Tanda negatif (-) : menunjukkan negara menerima/ memasukkan barang dari luar negeri.

Untuk menutupi kelebihan impornya, berbagai cara bisa dilakukan oleh suatu negara. Seperti dalam contoh di atas, negara X mengekspor sebanyak 75, sedangkan impornya 90, berarti mengalami kelebihan impor sebesar 15. Cara menutupinya dapat dilakukan, dengan cara mengirim barang lain ke luar negeri, meminta pinjaman dari luar negeri sebesar kelebihan, atau menanggukuhkan pembayaran.

Untuk pos pinjaman diberi tanda positif (+), karena negara X telah mengirimkan surat tanda berutang ke negara pemberi pinjaman.

### C. Neraca Pembayaran

Neraca pembayaran adalah suatu dokumen yang sistematis tentang semua transaksi ekonomi antara orang-orang dan/ pemerintah suatu negara dengan negara lain selama periode tertentu, biasanya satu tahun. Atau dengan kalimat lain, neraca pembayaran adalah daftar yang memberikan gambaran secara ringkas dari semua transaksi ekonomi internasional yang dilakukan oleh masyarakat atau pemerintah suatu negara dalam waktu tertentu, biasanya satu tahun.

Neraca pembayaran sangat penting dan perlu dibuat oleh suatu negara. Alasannya adalah sebagai berikut.

1. Neraca pembayaran adalah alat pembukuan untuk mendapatkan keterangan mengenai anggaran alat-alat pembayaran luar negerinya. Selain itu, sebagai bahan pertimbangan untuk mengimpor lagi atau berhenti mengimpor.
2. Neraca pembayaran dapat menjelaskan pengaruh transaksi luar negeri terhadap peningkatan pendapatan nasional.
3. Neraca pembayaran dapat digunakan untuk mendapatkan informasi secara rinci tentang segala jenis transaksi yang telah dilakukan.
4. Neraca pembayaran dapat digunakan untuk mengetahui pos-pos anggaran yang dilakukan dengan negara tertentu.

Transaksi ekonomi yang termasuk dalam neraca pembayaran hanya transaksi ekonomi internasional, yaitu transaksi yang mengakibatkan adanya hak dan kewajiban. Transaksi yang menimbulkan hak untuk menerima pembayaran dari negara lain disebut *transaksi kredit*, sedangkan transaksi yang menimbulkan kewajiban untuk membayar kepada negara lain disebut *transaksi debit*.



#### Wawasan Sosial

Catatan untuk perdagangan barang adalah neraca barang, tetapi sering kali hanya disebut neraca perdagangan. Adapun catatan untuk perdagangan jasa adalah neraca jasa. Jadi, keduanya adalah bagian dari neraca pembayaran.



Transaksi ekonomi internasional dapat dibedakan menjadi dua kelompok, yaitu transaksi rekening berjalan dan transaksi rekening modal.

1. Transaksi Rekening Berjalan (*Current Account*)

Transaksi ini meliputi transaksi barang dan jasa, terdiri atas transaksi barang, transaksi jasa, transaksi bunga modal, dan dividen.

2. Transaksi Rekening Modal (*Capital Account*)

Transaksi rekening modal adalah transaksi yang menyangkut transaksi investasi modal dan transaksi moneter, yang terdiri atas lalu lintas devisa.

Secara garis besar, pos-pos dasar yang dimuat dalam sebuah neraca pembayaran adalah sebagai berikut.

1. Neraca Perdagangan/Jasa

Dalam neraca perdagangan/jasa meliputi semua transaksi, baik transaksi ekspor maupun transaksi impor barang-barang/jasa-jasa.

2. Neraca Bunga Modal dan Dividen

Transaksi yang termasuk dalam neraca bunga modal dan dividen adalah semua transaksi penerimaan pendapatan yang berasal dari penanaman modal kita di luar negeri dan penerimaan pendapatan oleh penduduk negara lain yang merupakan akibat adanya modal asing yang ditanam di luar negeri.

3. Neraca Hadiah

Transaksi yang termasuk dalam neraca hadiah meliputi transaksi-transaksi hadiah, bantuan, dan transfer unilateral.

4. Neraca Modal

Neraca ini meliputi jual beli saham dan perusahaan yang diadakan oleh penduduk suatu negara dengan penduduk negara lain, serta penanaman modal langsung yang dilakukan oleh penduduk suatu negara di negara lain.

5. Utang-Utang Jangka Panjang

Transaksi yang termasuk dalam pos utang jangka panjang meliputi semua transaksi kredit jangka panjang, di mana pembayarannya dilakukan dalam jangka lebih dari satu tahun.

6. Utang-Utang Jangka Pendek

Transaksi yang termasuk utang-utang jangka pendek hampir sama dengan pos utang jangka panjang, yang membedakan adalah jangka waktunya. Dalam transaksi utang jangka pendek, jatuh temponya tidak melebihi satu tahun.

Neraca pembayaran harus dalam posisi seimbang, artinya jumlah rekening berjalan dengan rekening modal harus selalu seimbang (0).

### Tugas Mandiri

Bilamana suatu neraca pembayaran dapat dikatakan seimbang? Berilah penjelasan secukupnya!



### Contoh 1

#### Neraca Pembayaran Negara A Tahun 2006

##### I. Neraca Rekening Berjalan

a. Neraca Perdagangan	= + 1.000	
b. Neraca Jasa	= - 200	
	<hr/>	+
Jumlah		= + 800

##### II. Neraca Rekening Modal

a. Neraca Modal	= - 600	
b. Neraca Moneter	= - 200	
	<hr/>	+
Jumlah		= - 800
		<hr/>
Jumlah I dan II		= 0

### Keterangan:

#### I. Neraca Rekening Berjalan

Pada tahun 2006, transaksi perdagangan negara A mengalami surplus 1.000, akan tetapi transaksi jasa defisit 200. Berarti rekening berjalannya tinggal surplus  $1.000 - 200 = 800$ .

#### II. Neraca Rekening Modal

Surplus 800 digunakan untuk mencicil pinjaman modal sebesar 600 dan 200 untuk menambah cadangan devisa. Berarti rekening modalnya 800. Antara rekening berjalan dengan rekening modal jumlahnya sama, sehingga rekening berjalan ditambahkan rekening modal jumlah saldonya nol.

### Contoh 2

##### I. Neraca Rekening Berjalan

a. Neraca Perdagangan	= - 1.000	
b. Neraca Jasa	= + 200	
	<hr/>	+
Jumlah		= - 800

##### II. Neraca Rekening Modal

a. Neraca Modal	= + 600	
b. Neraca Moneter	= + 200	
	<hr/>	+
Jumlah		= + 800
		<hr/>
Jumlah I dan II		= 0



### Keterangan:

#### I. Neraca Rekening Berjalan

Pada tahun 2006, transaksi perdagangan negara A mengalami defisit 1.000, akan tetapi transaksi jasa surplus 200. Berarti rekening berjalannya tinggal minus  $1.000 - 200 =$  minus 800.

#### II. Neraca Rekening Modal

Untuk menutup defisit 800 dengan cara menambah pinjaman modal sebesar 600 dan kekurangan 200 diambilkan dari cadangan devisa, sehingga rekening modalnya 800. Antara rekening berjalan dengan rekening modal jumlahnya sama, sehingga rekening berjalan dikurangi rekening modal jumlah saldonya (0).

### Wawasan Sosial

Ditinjau dari sudut perdagangan internasional, sistem perekonomian Indonesia menganut sistem ekonomi terbuka. Hal ini tampak pada besarnya nilai perdagangan internasional Indonesia dalam kegiatan ekonomi.

## D. Kebijakan Perdagangan Internasional

Setiap negara yang melakukan kegiatan perdagangan internasional selalu berusaha tetap melindungi perekonomian dalam negerinya. Setiap negara mempunyai kebijakan yang berbeda-beda untuk mengatasi permasalahan tersebut. Setiap kebijakan yang diambil, mempunyai akibat dan pengaruh yang berbeda-beda bagi masing-masing negara.

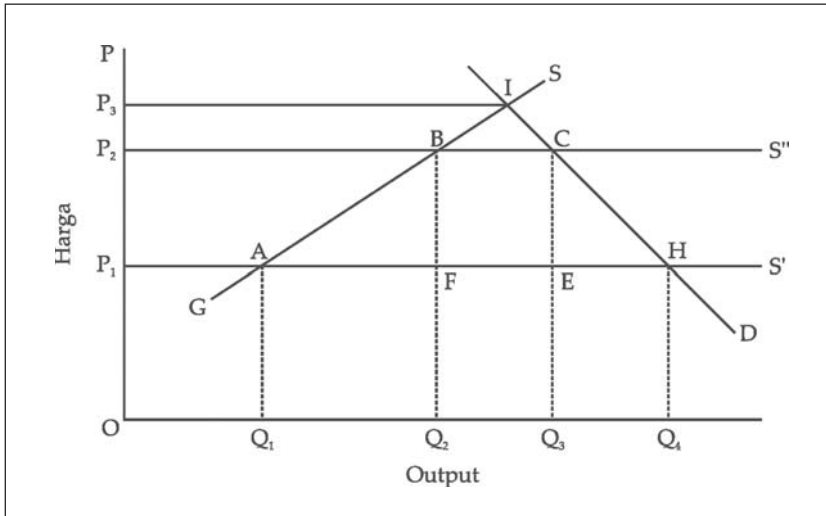
Adapun kebijakan yang selama ini dilakukan antara lain sebagai berikut.

### 1. Tarif Impor

Kebijakan tarif merupakan salah satu cara melindungi perekonomian dalam negeri terutama produsen dalam negeri. Pernahkah kalian membandingkan produk tas luar negeri dengan tas buatan dalam negeri? Sebelum dikenakan tarif, produk tas dalam negeri mempunyai harga yang relatif mahal dibanding tas dengan kualitas yang sama buatan luar negeri. Hal ini dikarenakan biaya produksi tas dalam negeri lebih tinggi daripada biaya produksi tas buatan luar negeri. Akibatnya para produsen tas di Indonesia tidak mampu bersaing dengan produk tas impor yang harganya lebih murah. Lalu, bagaimana pemerintah melindungi produsen dalam negeri? Dengan kebijakan tarif maka setiap barang yang berasal dari luar negeri yang masuk ke pasar dalam negeri dikenakan tarif. Jadi, harga barang impor yang kamu temukan sekarang merupakan harga setelah dikenakan tarif, sehingga harga tas buatan luar negeri menjadi lebih mahal di pasar dalam negeri dibanding tas buatan dalam negeri. Dengan demikian diharapkan tas buatan dalam negeri dapat bersaing dengan tas impor, bila mungkin dengan kualitas yang lebih bagus. Hal ini diharapkan juga berlaku bagi barang-barang lain dari luar negeri yang masuk ke pasar dalam negeri.



Pengaruh tarif dapat digambarkan sebagai berikut.



**Gambar 5.2** Pengaruh tarif impor terhadap permintaan dan penawaran

Permintaan dalam negeri terhadap tas digambarkan oleh kurva permintaan D dan penawaran dalam negeri oleh kurva penawaran GS. Apabila tidak ada hubungan dengan luar negeri, keseimbangan akan terletak di titik I. Ketika negara tersebut membuka perdagangan dengan luar negeri, penawaran barang impor ke negara tersebut digambarkan dengan kurva  $P_1S'$  (bagi negara berkembang kurva penawaran barang akan horizontal). Akibatnya, konsumen dalam negeri menghadapi kurva penawarannya tidak lagi GS, tetapi GAS', maka produksi dalam negeri sebesar  $OQ_1$ , impor sebesar  $Q_1Q_4$  dan konsumsi total sebesar  $OQ_4$ . Harga yang terjadi adalah harga barang impor sebesar  $OP_1$  dan harga barang dalam negeri lebih tinggi dari itu.

Seandainya pemerintah mengenakan tarif (bea masuk) sebesar  $P_1P_2$ , harga barang luar negeri menjadi  $OP_2$ , dan kurva penawarannya bukan lagi GAS', tapi GBS". Dari sini terlihat bahwa produksi dalam negeri naik menjadi  $OQ_2$ , impor turun menjadi  $Q_2Q_3$ , dan harga pun naik menjadi  $OP_2$ .

Proteksi yang diberikan pemerintah membuat harga barang impor menjadi lebih mahal di dalam negeri. Dengan demikian, barang-barang dalam negeri bisa bersaing dengan barang impor. Para produsen diuntungkan dua kali yaitu bisa menjual barang lebih banyak (tadinya  $OQ_1$  menjadi  $OQ_2$ ) dan harga barangnya bisa lebih mahal. Sebaliknya, konsumen dirugikan dua kali yaitu mengurangi konsumsi (dari  $OQ_4$  jadi  $OQ_3$ ) dan mereka harus membayar dengan harga lebih mahal.

## 2. Larangan Impor

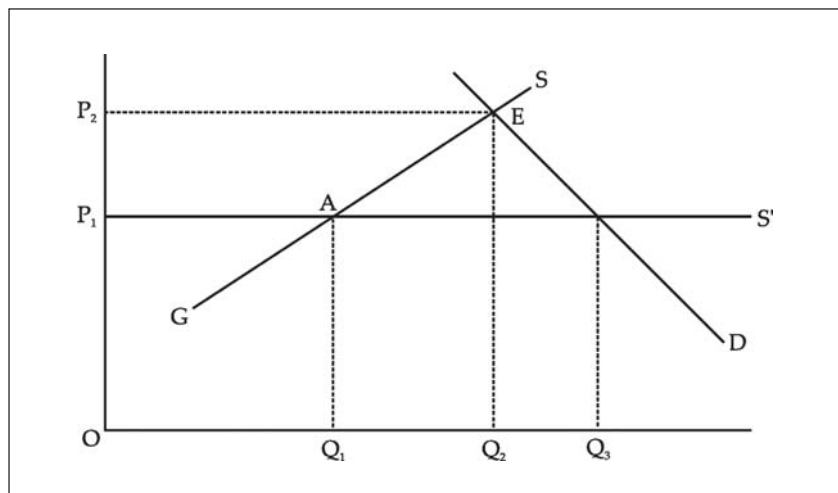
Dalam kebijakan larangan impor, produksi luar negeri sama sekali tidak boleh masuk ke pasaran dalam negeri. Untuk jelasnya dapat kamu lihat melalui kurva berikut ini.

## Tugas Bersama

Dewasa ini kebijakan pemerintah mengenai beras impor mendapat sorotan banyak pihak.

1. Carilah informasi sebanyak-banyaknya tentang kebijakan pemerintah tersebut dari surat kabar!
2. Buatlah dalam bentuk klipng, kemudian kumpulkan kepada gurumu untuk didiskusikan bersama!



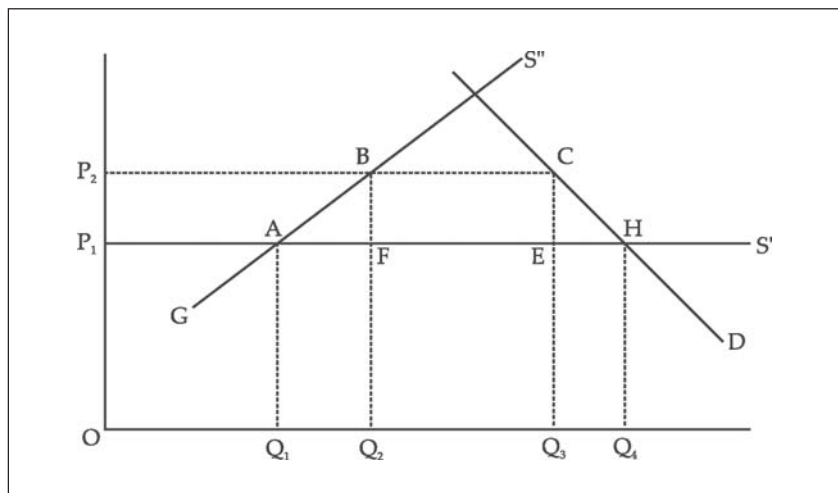


**Gambar 5.3** Pengaruh larangan impor terhadap permintaan dan penawaran.

Sebelum pelarangan impor, kurva penawaran barang adalah  $GAS'$ , produksi dalam negeri  $OQ_1$ , impor sebesar  $Q_1Q_3$ , dan tingkat harga  $OP_1$ . Setelah impor dilarang, kurva penawarannya menjadi  $GES$  yang berakibat produksi dalam negeri naik menjadi  $OQ_2$ , jumlah barang di pasaran berkurang (dari  $OQ_3$  menjadi  $OQ_2$ ), dan harga barang naik dari  $OP_1$  ke  $OP_2$ . Pengaruhnya hampir sama dengan pengaruh tarif, hanya kenaikan harganya cukup tinggi.

### 3. Kuota

Kuota adalah kebijakan pemerintah untuk membatasi jumlah fisik barang yang diperdagangkan secara internasional. Kuota impor artinya pembatasan jumlah barang yang diimpor. Sebagai suatu alat proteksi, kuota jauh lebih efektif dibandingkan dengan tarif. Untuk lebih jelasnya perhatikan kurva berikut.



**Gambar 5.4** Pengaruh kuota terhadap penawaran dan permintaan.

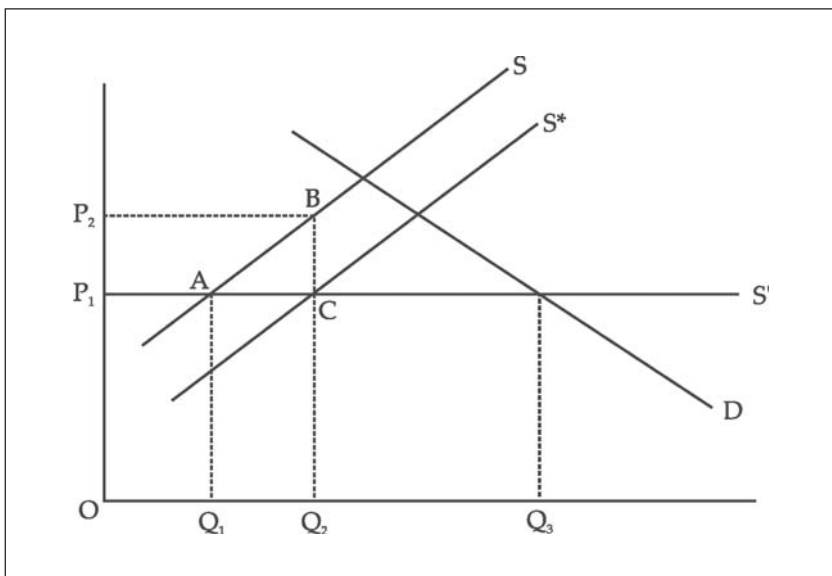
Sebagai contoh, pemerintah membatasi impor barang elektronik berupa televisi ke Indonesia. Sebelum diberlakukannya kuota, produksi dalam negeri sebesar  $OQ_1$ , impor  $Q_1Q_4$ , dan harga  $P_1$ . Setelah pembatasan (misalnya boleh masuk maksimum  $Q_2Q_3$ ),



harga televisi naik menjadi  $OP_2$ , produksi dalam negeri naik menjadi  $OQ_2$ , dan impor sesuai dengan kuota sebesar  $Q_2Q_3$ .

#### 4. Subsidi

Subsidi diberikan pemerintah agar produsen dalam negeri bisa menjual barangnya dengan harga lebih murah dibanding harga barang dari luar negeri, sehingga bisa bersaing dengan produk impor. Bentuk subsidi berupa uang yang diberikan secara langsung dan subsidi per unit produksi. Pengaruh subsidi dapat dilihat melalui kurva berikut.



**Gambar 5.5** Pengaruh subsidi terhadap permintaan dan penawaran

Sebelum pemerintah memberi subsidi, produksi dalam negeri  $OQ_1$ , impor  $Q_1Q_3$ , dan harga  $OP_1$ . Seandainya pemerintah menghendaki produksi dalam negeri naik sehingga impor tidak lebih dari  $Q_1Q_3$ , artinya pemerintah berupaya agar kurva  $S$  bergeser ke  $S^*$ . Supaya kebijakan ini berjalan, pemerintah harus memberi subsidi kepada produsen sebesar  $BC$  dan akibatnya produksi dalam negeri naik menjadi  $OQ_2$ , impor berkurang menjadi  $Q_2Q_3$  (sesuai target) dan konsumsi masyarakat tetap  $OQ_3$  dengan harga  $OP_1$ . Dari kurva di atas dapat disimpulkan beberapa hal penting mengenai subsidi sebagai berikut.

- Besarnya subsidi total yang diberikan kepada produsen adalah sebesar bidang  $P_1P_2BC$
- Tingkat harga tetap yaitu  $OP_1$ .
- Jumlah konsumsi masyarakat juga tetap yaitu  $OQ_3$ .

#### 5. Politik Dumping

Salah satu kebijakan dalam perdagangan internasional yang banyak mendapat sorotan adalah *dumping*. Kebijakan ini merupakan salah satu bentuk diskriminasi harga, di mana suatu negara mengekspor hasil produksinya ke pasar negara lain dengan harga yang lebih rendah daripada harga di dalam negerinya sendiri.

#### Tugas Mandiri

Coba analisislah, mengapa perdagangan dan perekonomian Indonesia kalah dibanding dengan negara-negara lain!



## Tugas Mandiri

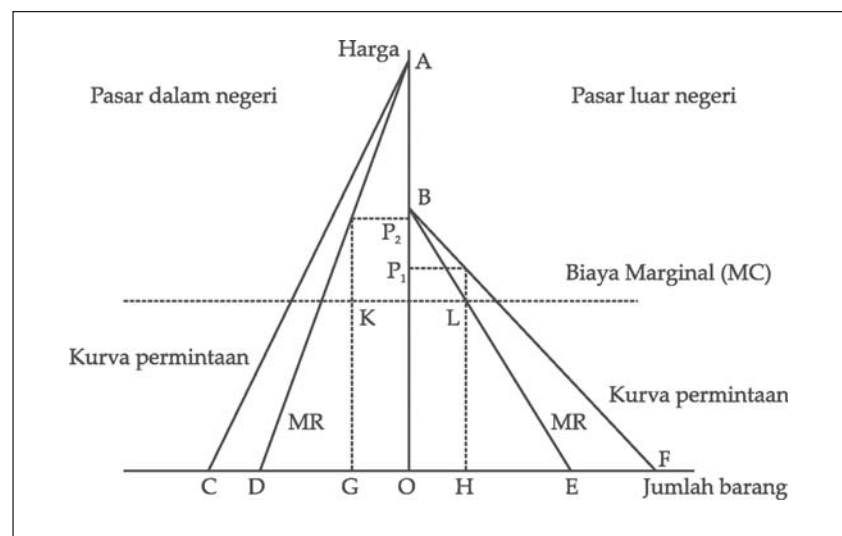
Jelaskan praktik berlakunya politik dumping! Bagaimana dampaknya bagi negara tujuan pemasaran?

Misalnya Jepang menjual mobil-mobilnya ke Indonesia dengan harga yang lebih murah daripada harga mobil dengan merek dan tipe yang sama di Jepang sendiri. Kebijakan menaikkan harga di dalam negeri ini biasanya dimaksudkan untuk menutupi kerugian yang mungkin terjadi di luar negeri.

Untuk menjalankan kebijakan ini, suatu negara harus memenuhi persyaratan tersendiri, di antaranya sebagai berikut.

- Kekuatan monopoli di dalam negeri lebih besar daripada di luar negeri, atau dengan kata lain bahwa kurva permintaan di dalam negeri relatif kurang elastis dibandingkan dengan luar negeri yang keadaan pasarnya persaingan sempurna.
- Konsumen di dalam negeri tidak dapat membeli barangnya dari luar negeri.

Perhatikan kurva di bawah ini.



**Gambar 5.6** Pengaruh politik dumping terhadap permintaan dan penawaran.

Untuk memperoleh keuntungan maksimum pengusaha harus menyamakan biaya marginal (MC) dengan hasil marginal (MR) atau  $MC = MR$ . Apabila diketahui biaya marginal dan hasil marginal (keseimbangannya di titik K dan L), maka pengusaha untuk memperoleh keuntungan maksimal harus menjual outputnya sebesar GH dengan perincian GO dijual di dalam negeri dan OH dijual di luar negeri. Harga yang terjadi adalah  $OP_1$  untuk harga di luar negeri dan  $OP_2$  harga di dalam negeri. Di sini terlihat dengan jelas harga di dalam negeri ( $OP_2$ ) lebih tinggi dibandingkan dengan harga di luar negeri ( $OP_1$ ).

Perhatikan, kurva permintaan dalam negeri AC kurang elastis dibandingkan kurva permintaan luar negeri (BF), tampak dari kecuraman kurvanya (dalam negeri lebih curam dibandingkan dengan luar negeri). Begitu pula halnya dengan kurva hasil marginal (MR) di dalam negeri (AD) dan kurva hasil marginal (MR) luar negeri (BE), hal ini merupakan pencerminan dari persyaratan di atas.





## E. Manfaat dan Hambatan Perdagangan Internasional

Telah kita ketahui bersama, bahwa perdagangan internasional sangat menguntungkan bagi negara-negara pelakunya. Hampir tidak ada satu negara pun yang dapat mandiri tanpa bekerja sama dengan negara lain. Jika suatu negara menjual barang dan jasa kepada negara lain, maka manfaat hampir pasti diperoleh kedua belah pihak (*gains from trade*).

Lebih lengkapnya, manfaat yang diperoleh dengan adanya perdagangan internasional dapat diuraikan sebagai berikut.

1. Memberikan peluang kepada setiap negara untuk mengeksport barang-barang yang produksinya menggunakan sebagian besar sumber daya yang melimpah di negara tersebut serta mengimpor barang-barang yang produksinya menggunakan sumber daya yang langka di negara tersebut.
2. Memungkinkan setiap negara melakukan spesialisasi produksi, terbatas pada barang-barang tertentu sehingga memungkinkan mereka mencapai tingkat efisiensi yang lebih tinggi dengan skala produksi yang besar.
3. Menciptakan dan memperluas kesempatan kerja, meningkatkan penghasilan devisa negara, mempercepat penguasaan teknologi, dan mengatur stabilitas harga di dalam negeri.
4. Mendorong produksi secara besar-besaran untuk memenuhi permintaan di luar negeri, yang secara otomatis mendorong produsen dalam negeri untuk meningkatkan produksinya.
5. Memacu produsen meningkatkan kemajuan ilmu pengetahuan dan teknologi, guna meningkatkan kualitas dan kuantitas barang produksinya agar dapat bersaing di pasaran internasional.
6. Meningkatkan persahabatan antarbangsa. Dua negara yang mengadakan kerja sama perdagangan akan meningkatkan pula hubungan persahabatan antara dua negara tersebut.

Manfaat perdagangan tak hanya terbatas pada perdagangan barang-barang yang nyata (*tangible goods*), migrasi internasional dan utang piutang internasional pun merupakan bentuk-bentuk perdagangan/pertukaran yang saling menguntungkan. Pertukaran internasional juga dilakukan dalam aset-aset yang berisiko seperti saham dan obligasi dapat menguntungkan seluruh negara, sehingga memungkinkan setiap negara mengane-karagamkan (*portofolio*) bentuk kekayaannya dan mengurangi risiko dari variasi pendapatan negara tersebut.

Untuk memperoleh manfaat dari perdagangan internasional seperti yang telah dikemukakan para ahli, tentunya semua kebijakan yang diambil oleh para penentu kebijakan, baik melalui pelarangan impor, dumping, atau kebijakan lainnya harus dikesampingkan atau dihapuskan sama sekali.

### Tugas Mandiri

Jelaskan bagaimana perdagangan internasional dapat memacu kemajuan ilmu pengetahuan dan teknologi suatu negara!



## Wawasan Sosial

Proteksionisme adalah paham bahwa ekonomi dalam negeri harus dilindungi oleh pemerintah dari persaingan luar negeri.

Akan tetapi masalah tersebut sangat sulit dihindari, karena kebijakan-kebijakan yang diambil sebenarnya untuk mengatasi hambatan dalam perdagangan internasional. Di antara hambatan-hambatan yang terdapat dalam perdagangan internasional dapat dikemukakan sebagai berikut.

1. Ancaman peperangan, karena apabila terjadi peperangan baik antara kedua negara tersebut maupun antara rekannya (tempat bergantung) dengan negara lain, perekonomiannya akan mengalami gangguan.
2. Perbedaan tingkat upah, di mana suatu negara yang memiliki biaya pekerja relatif murah dengan sendirinya akan menjual barangnya di pasaran internasional dengan harga yang relatif murah pula. Hal ini tentunya akan mematikan negara yang harga tenaga kerjanya (upah) mahal.
3. Kesempatan kerja  
Hambatan ini bermula dari timbulnya depresi dan pengangguran. Bilamana suatu negara mengalami depresi, biasanya tergoda untuk menaikkan tarif. Selain itu, juga berusaha untuk menghalangi masuknya barang-barang luar negeri dengan alasan produk tersebut bersaing dengan produk dalam negeri. Dari kebijakan pembatasan impor ini ternyata mendapat respon negatif dari negara yang merasa dirugikan dengan membalas melalui kebijakan serupa. Oleh karena produk dalam negeri tidak mendapat pasar di luar negeri, maka hal ini berdampak terganggunya kesempatan kerja di dalam negeri.
4. Rendahnya kualitas produk ekspor yang disebabkan oleh rendahnya teknologi dan rendahnya kualitas SDM, sehingga tidak dapat bersaing di pasar internasional yang kualitas produknya relatif tinggi.

## F. Alat-Alat Pembayaran Internasional

Setiap transaksi perdagangan internasional akan menimbulkan transaksi lain yaitu pembayaran internasional. Pembeli/importir berhak menerima barang yang dibeli dan berkewajiban membayar sejumlah uang senilai barang yang diterima. Sementara di pihak penjual/eksportir menerima pembayaran dari pembeli di luar negeri dan berkewajiban menyerahkan barang kepada pembeli.

Tidak seperti dalam perdagangan dalam negeri yang menggunakan satu jenis mata uang, dalam perdagangan internasional diperlukan alat pembayaran yang berlaku dan diterima secara internasional. Perbandingan antara nilai mata uang satu negara dengan negara yang lain disebut dengan kurs valuta asing (*valas*). Tinggi rendahnya harga uang atau kurs valuta asing ini ditentukan oleh permintaan dan penawaran serta kebijakan pemerintah.

## Wawasan Sosial

Dolar Amerika Serikat, Poundsterling Inggris, Dolar Australia, dan Yen Jepang merupakan mata uang yang lazim digunakan dalam transaksi internasional. Mata uang ini juga dikenal sebagai "uang keras" (*hard currencies*)



## Tugas Mandiri

Carilah data terbaru mengenai kurs jual beli mata uang asing dari surat kabar atau majalah! Kemudian berilah tanggapan atau pendapat!

Apabila suatu negara menetapkan nilai mata uangnya dengan berbagai kurs, negara demikian menganut sistem kurs *multiple exchange rate*. Namun, adakalanya pemerintah menetapkan satu macam kurs untuk berbagai keperluan, atau dinamakan *fixed exchange rate*. Sementara sistem lainnya yaitu *floating exchange rate* atau kurs mengambang yang dikendalikan, di mana mata uang dibiarkan untuk bergerak sesuai dengan keadaan perekonomian pada waktu itu.

Perubahan kurs atau harga valuta asing dipengaruhi oleh permintaan dan penawaran valuta asing, apabila semakin tinggi nilai tukarnya, maka nilai uang yang bersangkutan semakin kuat. Sebaliknya, makin turun kurs valas, makin turun nilai uang yang bersangkutan, dan makin lemah kedudukan nilai uang tersebut dibandingkan dengan uang (valuta) negara lain.

Dengan demikian, alat pembayaran dan sistem pembayaran internasional timbul karena adanya perbedaan jenis mata uang, perbedaan nilai mata uang, dan usaha menentukan nilai mata uang yang akan digunakan dalam pembayaran internasional.

Sistem pembayaran yang digunakan dalam melakukan transaksi perdagangan internasional, antara lain sebagai berikut.

### 1. Pembayaran Tunai (*Cash in Advance/Prepayment*)

*Cash in advance/prepayment* adalah suatu pembayaran yang dilakukan pembeli (importir) kepada penjual (eksportir) sebelum barang dikapalkan. Pembayaran ini dilakukan dengan menggunakan uang tunai, baik secara keseluruhan, atau sebagian dengan alasan sebagai berikut.

- Penjual dan pembeli belum saling mengenal dan kurang saling percaya.
- Permintaan produk lebih besar daripada produk yang ditawarkan.
- Situasi perekonomian dalam keadaan darurat, misalnya dalam keadaan perang.
- Lemahnya nilai mata uang importir (*soft currency*).

### 2. Pembukaan Rekening (*Open Account*)

Sistem ini merupakan kebalikan dari sistem *cash in advance*. Dengan cara *open account*, barang telah dikirimkan kepada importir tanpa disertai surat perintah membayar serta dokumen-dokumen. Pembayaran dilakukan setelah beberapa waktu atau terserah kebijaksanaan importir, dalam hal ini risiko sebagian besar ditanggung eksportir. Apabila pembayaran akan dilakukan dengan mata uang asing, risiko perubahan kurs menjadi tanggungannya. Sistem ini akan baik digunakan apabila pembeli sudah dikenal dengan baik, keadaan politik dan ekonomi yang stabil, dan dekat dengan pasar.



### 3. Kompensasi Pribadi (*Private Compensation*)

*Private compensation* adalah suatu metode pembayaran internasional yang dilakukan antara pembeli dengan penjual untuk melakukan kompensasi penuh atau sebagian utang-piutang, baik secara langsung maupun tidak langsung (melalui pihak ketiga), sehingga mengurangi transfer valas ke luar negeri. Contoh mekanisme *private compensation* dapat digambarkan sebagai berikut.

Penyelesaian pembayaran dapat dilakukan dengan cara:

- 1) Importir B di Amerika tidak perlu melakukan transfer internasional untuk melakukan pembayaran kepada eksportir A di Jakarta dan cukup dengan melakukan transfer domestik kepada eksportir D di Amerika.
- 2) Sementara itu, importir C di Jakarta tidak perlu melakukan transfer internasional untuk melakukan pembayaran kepada eksportir D di Amerika dan cukup dengan melakukan transfer domestik kepada eksportir A di Jakarta.

Dengan demikian utang-piutang tersebut dapat diselesaikan pembayarannya tanpa perpindahan mata uang ke negara lain. Tetapi sistem ini mempunyai kelemahan yaitu sulit mendapatkan seorang eksportir atau importir yang mempunyai utang-piutang dalam jumlah yang persis sama.

### 4. *Letters of Credit (L/C)*

*Letters of Credit (L/C)* adalah suatu surat pernyataan yang dikeluarkan oleh *issuing bank* atas permintaan pembeli/eksportir dengan menyatakan bahwa *issuing bank* akan membayar sejumlah uang tertentu apabila syarat-syarat yang ditentukan dalam L/C tersebut dipenuhi.

*Letters of Credit* merupakan suatu surat yang dikeluarkan oleh bank atas permintaan pembeli barang (importir) di mana bank tersebut menyetujui dan membayar wesel yang ditarik oleh penjual barang (eksportir). Dengan demikian *Letters of Credit* merupakan suatu alat pengganti kredit bank dan dapat menjamin pembayarannya bagi eksportir.

Beberapa pihak yang terlibat dalam prosedur pembayaran dengan L/C adalah sebagai berikut.

- a. Importir atau pembeli
- b. Eksportir atau penjual
- c. Bank penerbit (*issuing bank*) yaitu bank yang mengeluarkan L/C tersebut dan bank penjamin (*confirming bank*) yaitu bank di negara eksportir, yang atas permintaan eksportir, menjamin pembayaran L/C yang dikeluarkan oleh bank penerbit.
- d. Perusahaan pelayaran
- e. Perusahaan surveyor
- f. Bea dan cukai
- g. Perusahaan asuransi



Langkah-langkah pembayaran dengan L/C secara garis besar dapat dikelompokkan menjadi dua yaitu *basic L/C* dan *special L/C*.

## 5. Sistem Devisa

Sistem pembayaran internasional jenis ini dilakukan oleh importir kepada eksportir setelah barangnya laku terjual kepada pihak ketiga. Dengan sistem ini eksportir memiliki risiko yang tinggi sehingga lebih banyak digunakan perusahaan afiliasi atau subsidiary dari perusahaan induk.

Sistem devisa yang dipergunakan oleh suatu negara dengan yang digunakan oleh negara lain dapat saja berbeda, meskipun keduanya mengadakan hubungan dagang. Sistem devisa yang pada umumnya dipakai oleh mayoritas negara yang besar perannya dalam lalu lintas finansial internasional dengan membentuk sistem moneter dunia.

Adapun sistem devisa yang selama ini kita kenal terdiri atas berikut ini.

### a. Sistem Standar Emas (*Full Bodied Money*)

Dalam sistem ini untuk memperlancar pertukaran dipergunakan emas, sehingga pemerintah mempunyai kewajiban untuk memperjualbelikan emas kepada siapa saja yang menginginkannya dengan harga yang telah ditetapkan terlebih dahulu. Dalam sistem ini emas bebas bergerak ke luar negeri.

Dalam sistem standar emas, dikenal empat macam kurs valuta asing, yaitu kurs paritas arta yasa, kurs titik ekspor emas, kurs titik impor emas, dan kurs valuta asing yang terjadi.

- 1) Kurs paritas arta yasa (*mint parity*), kurs ini menunjukkan perbandingan berat emas yang diperoleh dengan menukarkan satu satuan uang negara yang satu dengan berat emas yang diperoleh dengan menukarkan satu satuan uang negara lain.

Perubahan kurs dalam sistem ini hanya akan terjadi apabila masing-masing negara mengubah isi emas dari mata uangnya. Perubahan kadar emas ini bisa dengan mengurangi isi emasnya (depresiasi) atau menambah kadar emasnya (apresiasi), akan tetapi hal ini jarang sekali dilakukan.

- 2) Kurs titik ekspor emas (*gold export point*), merupakan kurs valuta asing tertinggi yang dapat terjadi dalam sistem standar emas.
- 3) Kurs titik impor emas (*gold import point*), merupakan kurs valuta asing terendah yang dapat terjadi dalam sistem standar emas.
- 4) Kurs valuta asing yang terjadi, yaitu kurs valuta asing yang bergerak naik/turun di sekitar kurs paritas arta yasa.

Sifat khas dari sistem standar emas adalah meskipun tingkat kurs tidak ditetapkan, kurs valuta asing tidak akan meningkat lebih tinggi daripada titik ekspor emas dan tidak menurun di bawah titik impor emas.

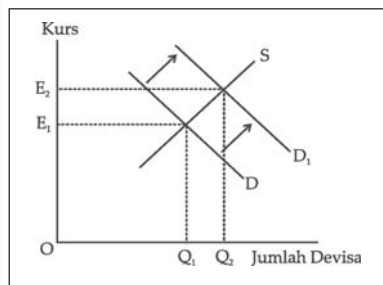
### Tugas Mandiri

Sistem kurs devisa apa yang dianut Indonesia saat ini?  
Adakah untung dan ruginya?



## Tugas Mandiri

Jelaskan apa yang dimaksud *clean float* dan *dirty float*, serta peran pemerintah di dalamnya!



**Gambar 5.7** Kurva yang menunjukkan kurs devisa mengambang.

### b. Sistem Kurs Mengambang

Sistem kurs mengambang artinya pemerintah membiarkan kurs mata uang dengan mata uang lain ditentukan secara bebas oleh tarik-menarik kekuatan pasar. Keuntungannya adalah tingkat kurs yang berlaku selalu sama dengan kurs keseimbangan.

Sistem ini baru bisa dilaksanakan apabila terpenuhi syarat-syarat sebagai berikut.

- 1) Mata uang tidak dikaitkan secara langsung dengan emas.
- 2) Kurs ditentukan sepenuhnya oleh kekuatan pasar.
- 3) Tidak ada pembatasan penggunaan valuta asing.

Dalam kurs mengambang ini kita kenal dua istilah yaitu *clean float*, di mana pemerintah sama sekali tidak ikut campur dalam menentukan tingkat kurs dan *dirty float* yang menuntut peran aktif pemerintah untuk ikut berusaha menstabilkan kurs valuta asing.

Untuk lebih jelas tentang kurs devisa mengambang, perhatikan kurva dalam [Gambar 5.7](#).

Kurva S pada gambar di samping menggambarkan aliran masuk devisa, baik melalui ekspor atau aliran modal luar negeri (merupakan aliran penawaran devisa). Kurva D merupakan seluruh kebutuhan masyarakat dalam negeri dan valuta asing, baik untuk pembayaran impor atau pembayaran utang-utang.

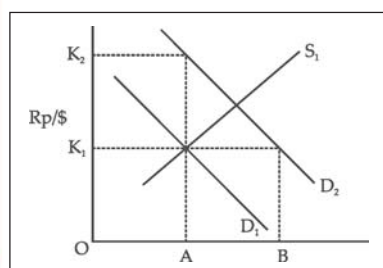
Tingkat kurs yang berlaku ada di titik keseimbangan  $E_1$ , misalnya tiba-tiba impor dalam negeri meningkat, secara otomatis kurva D akan bergeser ke  $D_1$ . Akibatnya kurs keseimbangan otomatis ikut bergeser naik ke  $E_2$ , tetapi yang perlu diingat baik pada  $E_1$  ataupun  $E_2$  jumlah devisa yang diperjualbelikan adalah jumlah keseimbangan.

### c. Sistem Pengawasan Devisa

Dalam sistem ini terdapat beberapa ciri penting sebagai berikut.

- 1) Mata uang dalam negeri tidak sebanding dengan emas.
- 2) Para penghasil valuta asing harus menyerahkan seluruh valuta asing yang diperolehnya kepada pemerintah.
- 3) Sistem penjabatan valuta asing dilaksanakan secara menyeluruh.
- 4) Kurs valuta asing ditetapkan oleh pemerintah.

Bekerjanya sistem ini dapat dijelaskan melalui kurva pada [Gambar 5.8](#).



**Gambar 5.8** Kurva yang menunjukkan sistem pengawasan devisa.



Akibatnya akan terjadi ketidakseimbangan di mana permintaan valuta asing (OB) melebihi penawarannya (OA). Untuk mengatasinya pemerintah menggunakan kuota valuta asing atau membatasi besarnya penggunaan valuta asing bagi para importir (hampir sama bekerjanya dengan kuota impor sebelumnya).

d. Sistem Devisa dengan Kurs Tambatan

Dalam sistem ini mata uang yang digunakan di dalam negeri tidak dikaitkan secara langsung dengan emas, kurs valuta asing juga ditetapkan oleh pemerintah, tetapi kuota valuta asing tidak diberlakukan.

Apabila sistem ini diberlakukan, kejadian-kejadian yang sering timbul adalah sebagai berikut.

- 1) Kurs valuta asing relatif lebih stabil bila dibandingkan dengan sistem kurs bebas.
- 2) Diperlukan cadangan internasional yang besar.
- 3) Kurs valuta asing relatif kurang stabil bila dibandingkan dengan sistem standar emas ataupun sistem pengawasan devisa.

Oleh karena tidak digunakan kuota valuta asing, apabila tingkat kurs lebih rendah (yang seharusnya  $OK_2$  pada [Gambar 5.8](#)), akan mengakibatkan berkurangnya cadangan internasional terus-menerus dan untuk mengatasinya bisa melakukan *devaluasi*, yaitu menurunkan nilai mata uang dalam negeri terhadap mata uang asing. Selain itu dapat juga dengan cara meminjam valuta asing dari negeri lain, pinjam pada lembaga keuangan internasional (IMF) atau mengadakan transaksi *swap*, yaitu meminjam dari bank sentral negara lain.

Sistem kurs tambatan mengenal dua cara dalam penyesuaian kursnya.

- 1) Sistem kurs tambatan tanpa penyesuaian, kurs valuta asing di sini sama sekali tidak diubah.
- 2) Sistem kurs tambatan dengan penyesuaian, di mana kurs valuta asing tingginya dapat diubah disesuaikan dengan kebutuhan.

Pada dasarnya setiap negara pasti memerlukan devisa yang sewaktu-waktu dapat digunakan untuk melakukan pembayaran transaksi dengan luar negeri, misalnya untuk mengimpor barang. Adapun yang dimaksud dengan **devisa** adalah alat-alat pembayaran luar negeri (internasional) yang dapat berwujud wesel asing, mata uang asing, emas, maupun tagihan luar negeri, yang dapat diuangkan di luar negeri. Tingkat kepemilikan jumlah devisa suatu negara dapat dijadikan ukuran tingkat kekayaan negara tersebut. Artinya, jika suatu negara memiliki jumlah devisa yang sangat besar berarti negara itu memiliki kekayaan dalam jumlah yang besar pula.

Devisa mempunyai banyak fungsi dalam kegiatan perdagangan internasional, di antaranya sebagai berikut.

### Tugas Bersama

Diskusikan dengan kelompokmu! Bagaimana kondisi sosial dan politik suatu negara dapat memengaruhi turun naiknya devisa negara tersebut? Berilah pendapat tanggapan dan penjualan secukupnya!



### Tugas Mandiri

Sebutkan kegiatan-kegiatan bagi daerahmu yang merupakan sumber devisa!

- Sebagai alat pembayaran antarnegara, misalnya untuk membiayai impor barang maupun jasa.
- Sebagai alat penukar dalam perdagangan, misalnya US \$ untuk membayar barang atau jasa yang berasal dari Amerika Serikat.
- Digunakan sebagai cadangan, misalnya cadangan devisa negara kita sekarang ini tinggal sekitar \$ 15 milyar.
- Digunakan untuk membayar cicilan utang luar negeri, yang dewasa ini utang negara kita sangat besar jumlahnya, sehingga cicilan utang pokoknya juga besar.
- Untuk membiayai perjalanan dinas para pejabat negara yang melawat ke luar negeri.

Sumber devisa yang dapat digunakan sebagai sarana transaksi luar negeri bagi suatu negara antara lain berasal dari kegiatan berikut ini.

- Devisa Barang**  
Semakin banyak barang yang diekspor, maka makin banyak pula devisa yang diterima oleh negara. Barang-barang ekspor yang menjadi sumber devisa bagi negara misalnya: minyak bumi, bauksit, timah, karet, kopi, kopra, kerajinan tangan, dan lain-lain.
- Penyelenggaraan jasa-jasa**, misalnya berupa jasa pengangkutan, perbankan, maupun jasa telekomunikasi.
- Pariwisata**, antara lain berasal dari para wisatawan asing yang datang ke Indonesia dan menukarkan uang negaranya (valuta) dengan uang rupiah. Valuta yang ditukarkan rupiah merupakan devisa bagi Indonesia.
- Bantuan luar negeri**, berupa barang-barang dan valuta asing. Bantuan berupa valuta asing akan menambah devisa negara.
- Kredit luar negeri** yang berupa valuta asing akan menambah devisa bagi negara. Pinjaman yang berupa valuta asing tersebut dapat digunakan untuk membayar impor barang dan jasa juga untuk membiayai kebutuhan-kebutuhan yang berkaitan dengan negara lain.
- Kiriman uang asing/valuta asing** antara lain berasal dari warga negara Indonesia yang berada di luar negeri.

## **G. Dampak Perdagangan Internasional bagi Perekonomian Indonesia**

Indonesia merupakan salah satu negara yang turut serta dalam kegiatan perdagangan internasional. Bagi perekonomian Indonesia, kegiatan ekspor impor dalam perdagangan internasional memiliki dampak-dampak positif maupun negatif.





**Gambar 5.9** Perdagangan internasional yang berupa ekspor impor mempunyai dampak positif dan negatif bagi perekonomian Indonesia.

**Sumber:** *The Indonesian Interprise.*

## 1. Dampak Positif

Perdagangan internasional membawa dampak positif bagi perekonomian Indonesia di antaranya sebagai berikut.

### a. Peningkatan Devisa

Adanya peningkatan permintaan terhadap produksi akan meningkatkan ekspor, sehingga neraca perdagangan Indonesia surplus dan akhirnya meningkatkan devisa.

### b. Adanya Alih Teknologi

Dengan adanya perdagangan internasional, keterbatasan teknologi yang dimiliki Indonesia dapat diatasi dengan cara mendatangkan teknologi dari negara lain, misalnya dengan mendatangkan mesin-mesin dari Jepang. Sehingga terjadi alih teknologi dan keterampilan serta etos kerja dari teknisi Jepang kepada tenaga kerja Indonesia.

### c. Terciptanya Stabilitas Harga

Melalui perdagangan internasional, stabilitas harga dalam negeri dapat dikendalikan. Misalnya saat terjadi banjir yang melanda kantong-kantong beras nasional, maka harga beras akan naik. Untuk mengatasi hal tersebut, pemerintah melalui Bulog dapat mengimpor beras dari negara lain dan melakukan operasi pasar. Sementara pada saat panen besar, produksi beras melimpah dan harga turun, pemerintah dapat melakukan kebijakan melarang impor beras selama masa panen berlangsung.

### d. Adanya Spesialisasi Produk

Perdagangan internasional menuntut kualitas produk yang bermutu dengan harga relatif murah agar dapat bersaing di pasar global. Hal ini secara tidak langsung mendorong Indonesia untuk melakukan spesialisasi produk. Contoh: suburnya tanaman kelapa sawit mendorong pengembangan produk yang berbahan baku kelapa sawit.



## Wawasan Sosial

Kegiatan ekspor impor dipengaruhi oleh mekanisme penawaran dan permintaan serta peraturan dan kebijakan yang berlaku di antara kedua negara yang melakukan perdagangan. Kebijakan tersebut antara lain proteksi terhadap industri dalam negeri, seperti diberlakukannya tarif dan kuota, kebijakan nilai tukar uang yang berlaku, serta kebijakan industri suatu negara.

## Tugas Bersama

Bagaimana proses pengalihan teknologi dapat terjadi dari suatu negara ke negara lain? Kebijakan apakah yang bisa memperlancar proses pengalihan teknologi tersebut? Lakukan diskusi dengan kelompokmu.



## Tugas Bersama

Menurut kelompokmu, agar Indonesia bisa mengejar ketinggalan, produk manakah yang harus diunggulkan untuk diperjualbelikan dalam perdagangan internasional?

Lakukan diskusi dengan kelompokmu, kemudian berilah pendapat tanggapan, saran, dan penjelasan secukupnya!

### e. Adanya Pertumbuhan Ekonomi

Peningkatan devisa yang diperoleh dari perdagangan internasional dapat digunakan untuk pembangunan sektor riil yang dapat mendorong pertumbuhan ekonomi, sekaligus memperluas lapangan pekerjaan.

## 2. Dampak Negatif

Selain berdampak positif, perdagangan internasional juga membawa dampak negatif bagi negara Indonesia, di antaranya sebagai berikut.

### a. Hancurnya Industri Dalam Negeri

Sangat kita sadari bahwa produk dalam negeri Indonesia terkenal dengan produk biaya tinggi yang berakibat pada harga produk yang tinggi pula. Jika dibandingkan dengan produk yang sama dari luar negeri, produk dalam negeri menjadi tidak kompetitif lagi. Akibatnya banyak perusahaan yang bangkrut karena kalah bersaing dengan perusahaan luar negeri.

### b. Makin Tinggi Angka Pengangguran

Banyaknya perusahaan yang bangkrut berdampak pula pada pengurangan tenaga kerja karena perusahaan mengurangi produksi atau bahkan tidak memproduksi sama sekali. Hal ini akan menyebabkan terjadinya Pemutusan Hubungan Kerja (PHK) yang pada akhirnya akan mengakibatkan angka pengangguran menjadi semakin tinggi.

## Rangkuman

- ❖ Motif orang melakukan perdagangan karena adanya kemungkinan diperoleh manfaat tambahan atau biasa disebut dengan manfaat perdagangan (*gains from trade*).
- ❖ Beberapa teori tentang perdagangan internasional.
  1. Teori Merkantilis, menilai kemakmuran negara dari jumlah kepemilikan logam mulia.
  2. Teori Keunggulan Mutlak dari Adam Smith, mengemukakan pembagian kerja internasional (*spesialisasi*).
  3. Teori Keunggulan Komparatif dari David Ricardo, membagi perdagangan dalam dua macam, yaitu perdagangan dalam negeri dan perdagangan luar negeri.
  4. Teori Keunggulan Komparatif dari Mill, perdagangan akan menguntungkan bagi dua negara apabila terdapat Dasar Tukar Internasional (DTI).
- ❖ Neraca perdagangan adalah catatan-catatan tentang besarnya ekspor dan impor yang kemudian dijumlahkan.
  1. Neraca perdagangan dikatakan aktif (*surplus*) apabila total nilai ekspornya lebih besar daripada nilai impor.
  2. Neraca perdagangan disebut pasif (*defisit*) apabila total nilai impor lebih besar daripada total nilai ekspor.



3. Neraca perdagangan dikatakan seimbang apabila nilai ekspor sama dengan nilai impor.
- ❖ Neraca pembayaran adalah daftar yang memberikan gambaran secara ringkas dari semua transaksi ekonomi internasional yang dilakukan oleh masyarakat atau pemerintah suatu negara dalam waktu tertentu, biasanya satu tahun.
- ❖ Kebijakan perdagangan internasional antara lain:
  1. Tarif impor
  2. Subsidi
  3. Larangan impor
  4. Kuota
  5. Politik dumping
- ❖ Manfaat adanya perdagangan internasional adalah sebagai berikut.
  1. Memberikan peluang untuk ekspor.
  2. Memungkinkan melakukan spesialisasi produksi.
  3. Menciptakan dan memperluas kesempatan kerja.
  4. Mendorong produksi secara besar-besaran.
  5. Memacu produsen meningkatkan kemajuan ilmu pengetahuan dan teknologi.
  6. Meningkatkan persahabatan antarbangsa.
- ❖ Hambatan dalam perdagangan internasional antara lain sebagai berikut.
  1. Ancaman peperangan
  2. Perbedaan tingkat upah
  3. Kesempatan kerja
  4. Rendahnya kualitas produk ekspor
- ❖ Sistem pembayaran yang digunakan dalam melakukan transaksi perdagangan internasional, antara lain:
  1. Pembayaran Tunai (*Cash in Advance/Prepayment*)
  2. Pembukaan Rekening (*Open Account*)
  3. Kompensasi Pribadi (*Private Compensation*)
  4. *Letters of Credit (L/C)*
  5. Sistem Devisa
- ❖ Bagi perekonomian Indonesia, kegiatan perdagangan internasional memiliki dampak positif maupun negatif.
  1. Dampak positif, antara lain peningkatan devisa, adanya alih teknologi, terciptanya stabilitas harga, adanya spesialisasi produk, dan pertumbuhan ekonomi.
  2. Dampak negatif, di antaranya hancurnya industri dalam negeri dan tingginya angka pengangguran.



## Refleksi

Kamu sudah belajar mengenai perdagangan internasional. Sekarang berilah tanda cek (✓) pada kolom Ya atau Tidak.

No	Pernyataan	Ya	Tidak
1.	Sudahkah kamu paham alasan orang atau negara melakukan perdagangan?		
2.	Apakah kamu sudah memahami tentang neraca perdagangan?		
3.	Apakah kamu sudah paham mengenai neraca pembayaran?		
4.	Sudahkah kamu paham tentang kebijakan perdagangan internasional?		
5.	Apakah kamu sudah paham pengaruh kebijakan perdagangan internasional terhadap permintaan dan penawaran?		

## Latihan Soal

5

*Kerjakan di buku tugasmu!*

### I. Pilihlah satu jawaban yang paling tepat!

- Untuk mendorong barang-barang dan jasa ke luar negeri, pemerintah Indonesia banyak melakukan berbagai macam cara, di antaranya adalah diversifikasi. Diversifikasi dalam perdagangan diwujudkan dengan ....
  - menambah armada angkutan guna mempercepat arus transportasi barang-barang dagangan
  - memperluas areal pasar untuk menjual barang dagangan
  - menambah modal untuk membeli barang
  - menambah jenis barang
- Manfaat bagi bangsa Indonesia dengan mengadakan hubungan kerja sama antarbangsa adalah ....
  - membantu mengatasi masalah internasional secara tuntas
  - berhasil memberi sumbangsih kepada bangsa yang membutuhkan
  - nama Indonesia lebih populer di dunia internasional
  - menunjang kepentingan pembangunan nasional
- Pembatasan yang dilakukan oleh pemerintah terhadap barang-barang tertentu agar tidak mengalahkan produksi dalam negeri disebut ....
  - proteksi
  - kuota impor
  - tarif
  - subsidi
- Salah satu hambatan perdagangan internasional berupa perbedaan alat pembayaran dapat diatasi dengan menggunakan alat pembayaran yang disebut ....
  - dolar
  - rupiah
  - devisa
  - cek
- Alasan Indonesia mengadakan kerja sama ekonomi antarnegara adalah ....
  - berusaha mengikuti perkembangan ekonomi dunia
  - menguasai ekonomi dunia
  - Indonesia negara yang makmur
  - memperluas pasar internasional



6. Selain hambatan alami, dalam perdagangan internasional juga terdapat hambatan-hambatan yang sengaja dibuat oleh negara-negara tertentu. Yang termasuk hambatan buatan dalam perdagangan internasional adalah ....
  - a. letak geografis yang berjauhan
  - b. terjadi bencana alam
  - c. adanya proteksi dari negara tujuan
  - d. adanya perbedaan alat pembayaran
7. Daftar yang berisi perbandingan antara jumlah barang dan jasa yang diekspor dan diimpor oleh suatu negara selama kurun waktu satu tahun disebut ....
  - a. neraca perdagangan
  - b. neraca pembayaran
  - c. neraca jasa
  - d. neraca modal
8. Devisa yang berasal dari hasil ekspor barang dan jasa ke luar negeri disebut ....
  - a. devisa umum
  - b. devisa kredit
  - c. devisa bebas
  - d. devisa tertentu
9. Devisa berikut ini yang bersumber dari luar negeri adalah ....
  - a. ekspor barang dan jasa
  - b. impor barang dan jasa
  - c. kunjungan wisatawan asing
  - d. terpakainya bandara oleh pihak asing
10. Devisa menurut jenisnya dibagi menjadi dua, yaitu ....
  - a. kredit dan umum
  - b. dalam negeri dan luar negeri
  - c. bebas dan tertentu
  - d. pemerintah dan swasta
11. Yang dimaksud devisa adalah ....
  - a. uang kartal dan uang giral
  - b. pendapatan negara
  - c. keuntungan negara
  - d. penghasilan negara
12. Investasi jangka pendek, investasi jangka panjang, dan rekening modal dalam neraca pembayaran termasuk unsur yang berasal dari ....
  - a. neraca perdagangan
  - b. neraca lalu lintas modal
  - c. neraca jasa
  - d. neraca modal
13. Untuk mengawasi kegiatan penggunaan devisa di Indonesia, pemerintah membentuk sebuah lembaga yang disebut ....
  - a. BPK
  - b. BLLD
  - c. BKPN
  - d. BPPN
14. Jika suatu negara tidak banyak mempunyai devisa, maka mata uang negara tersebut akan ....
  - a. bertambah banyak jumlahnya
  - b. berkurang jumlahnya
  - c. menguat dibanding mata uang asing
  - d. melemah dibanding mata uang asing
15. Surat yang dikeluarkan oleh pihak bank atas permintaan importir yang ditujukan kepada eksportir luar negeri disebut ....
  - a. saham
  - b. cek
  - c. *letter of credit*
  - d. giro bilyet

## II. Jawablah pertanyaan berikut dengan benar!

1. Apa sajakah keuntungan dengan diadakannya perdagangan internasional?
2. Tuliskan definisi neraca perdagangan!
3. Berikan uraian secara singkat yang dimaksud dengan *dumping*!
4. Kegiatan apa sajakah yang termasuk sumber devisa?
5. Apakah yang dimaksud dengan valuta asing?



*Bacalah wacana dari media massa berikut ini dengan saksama!*

### **Dampak Negatif Impor Baja dan Solusinya**

Penurunan kebutuhan baja di dalam negeri Cina memberi ancaman bagi industri baja nasional. Pasalnya, negeri tirai bambu tersebut dikabarkan mengalami kelebihan pasokan sebanyak 116 juta ton pada tahun 2006. Baja Cina tersebut diprediksi akan mengalir ke Indonesia dengan harga yang lebih murah.

Alasan mencemaskan kelebihan pasokan dari Cina karena produksi dari negara tersebut bisa dijual ke Indonesia dengan harga lebih murah dari biaya produksi.

Masuknya baja impor dari Cina dipastikan bakal menjatuhkan harga baja nasional. Sebab kalau tidak ikut menurunkan harga, serbuan produk Cina semakin besar jumlahnya. Sementara itu, perlu adanya penyelidikan kemungkinan masuknya baja Cina dengan harga dumping. Penyelidikan harus dimulai secepatnya karena data asosiasi produsen baja sudah ada.

Untuk mengatasi ancaman dari serbuan produk baja murah dari Cina, pemerintah perlu mengeluarkan kebijakan pelarangan impor sementara terhadap importir umum. Jadi, yang bisa mengimpor baja hanya importir produsen.

Masuknya produk baja impor, terutama produk yang harganya jauh lebih murah dibandingkan biaya produksi di dalam negeri, dipastikan akan melemahkan industri baja nasional. Artinya, kinerja industri baja masih lemah akibat kondisi ekonomi di dalam negeri, akan semakin terpuruk. Akibatnya, perdagangan baja di dalam negeri pun menjadi tidak sehat.

**Sumber:** Kompas, 12 Desember 2005 (dengan pengubahan seperlunya).

**Kerjakan kegiatan berikut secara berkelompok!**

**Ikuti langkah-langkah pengerjaan berikut ini!**

1. Buatlah kelompok dengan anggota lima siswa.
2. Lakukan diskusi dengan menjawab pertanyaan berikut.
  - a. Apa alasan industri baja nasional mengkhawatirkan adanya impor baja dari Cina?
  - b. Solusi apa yang harus ditempuh untuk meredam kekhawatiran tersebut?
3. Buat laporan secara rinci dari hasil kerja kelompokmu.



## Latihan Soal Semester I

*Kerjakan di buku tugasmu!*

### I. Pilihlah satu jawaban yang paling tepat!

- Berikut ini negara-negara maju yang terletak di Benua Eropa adalah ....
  - Belanda dan Suriname
  - Jerman dan Italia
  - Inggris dan Singapura
  - Jepang dan Korea
- Salah satu keputusan Konferensi Meja Bundar adalah ....
  - pengakuan Belanda terhadap pembentukan BFO
  - pengakuan kemerdekaan dan kedaulatan RIS oleh Belanda
  - penyelesaian status Irian Barat dalam tempo satu tahun
  - RI membayar kerugian perang yang dialami Belanda
- Setelah Perjanjian Renville, Belanda memecah belah bangsa Indonesia dengan cara ....
  - menjalankan agresi militer
  - mendirikan negara Papua di Indonesia
  - mengadakan perjanjian antarnegara
  - mendirikan negara-negara boneka
- Pemilu tahap II dilaksanakan untuk memilih ....
  - Badan Konstituante
  - MPRS
  - DPA
  - DPRGR
- Saat terbentuknya RIS, Ir. Soekarno dan Moh. Hatta diangkat sebagai ....
  - presiden dan perdana menteri RIS
  - wali dan wakil wali RIS
  - presiden dan wakil presiden
  - perdana menteri dan wakil perdana menteri RIS
- Saat terjadinya G 30S/PKI, Mayjen. Soeharto menjabat sebagai ....
  - Panglima Kostrad
  - Panglima Batalyon I Cakrabirawa
  - Panglima Kopassus
  - Panglima TNI AD
- Perubahan sosial terjadi sebagai akibat ....
  - adanya keseimbangan dalam hubungan sosial di masyarakat
  - keserasian dalam hubungan sosial
  - adanya adat atau tradisi yang dipegang teguh
  - ketidaksesuaian unsur-unsur sosial yang berada dalam kehidupan sosial
- Perubahan cepat adalah perubahan sosial budaya yang mengenai ....
  - mata pencaharian hidup manusia
  - masalah kepemimpinan
  - dasar-dasar atau sendi-sendi pokok kehidupan masyarakat
  - masalah pertambahan penduduk
- Berikut ini yang merupakan teknologi komunikasi modern hasil perubahan adalah ....
  - mobil
  - komputer
  - handphone
  - televisi
- Penemuan baru sebagai penyebab terjadinya perubahan sosial budaya dapat dibedakan atas ....
  - inovasi dan difusi
  - akulturasi dan asimilasi
  - discovery dan invention
  - discovery dan aculturation
- Yang dimaksud dengan barter adalah ....
  - pertukaran barang pada zaman purba
  - mencukupi kebutuhan sendiri
  - peristiwa tukar-menukar
  - pemenuhan kebutuhan hidup
- Uang dapat dijadikan modal sebagai investasi usaha menunjukkan fungsi uang sebagai ....
  - satuan hitung
  - alat pembentukan modal
  - alat pembayaran
  - penunjuk harga



13. Segala sesuatu yang umum diterima dalam pembayaran barang disebut ....  
a. giral                                      c. kartu kredit  
b. cek                                         d. uang
14. Berikut ini dampak positif dari kegiatan perdagangan internasional bagi perekonomian Indonesia, *kecuali* ....  
a. terjadinya alih teknologi  
b. meningkatkan ekspor  
c. semakin banyak pengangguran  
d. adanya spesialisasi produk
15. Lembaga keuangan yang merupakan tempat untuk penitipan atau penyimpanan uang, pemberian atau penyalur kredit, dan juga perantara di dalam lalu lintas pembayaran disebut ....  
a. pegadaian  
b. badan perkreditan  
c. bank  
d. koperasi
16. Kegiatan untuk menjual barang atau jasa ke pasar luar negeri disebut ....  
a. eksportir                                      c. ekspor  
b. importir                                        d. impor
17. Pendapatan yang diperoleh oleh negara sebagai akibat adanya kegiatan ekspor berupa ....  
a. bunga                                         c. valuta  
b. devisa                                         d. kurs
18. Suatu daftar mengenai perbandingan jumlah nilai ekspor dengan nilai impor suatu negara dalam satu tahun disebut ....  
a. neraca pembayaran  
b. neraca perdagangan  
c. neraca laba rugi  
d. neraca valuta asing
19. Kebijakan pemerintah untuk membatasi jumlah fisik barang yang diperdagangkan secara internasional disebut ....  
a. tarif    c. subsidi  
b. kuota     d. bea impor
20. Di Indonesia, bank yang memerankan fungsi bank Sentral adalah ....  
a. Bank Central Asia  
b. Bank Indonesia  
c. Bank Negara Indonesia  
d. Bank Rakyat Indonesia

## II. Jawablah pertanyaan berikut dengan benar!

1. Mengapa sumber daya alam di banyak negara berkembang belum memanfaatkan secara maksimal?
2. Apa alasan AFNEI datang ke Indonesia?
3. Kapan dan di mana GANEFO (*Games of the New Emerging Forces*) dilaksanakan?
4. Jelaskan penyebab MPRS pada masa demokrasi terpimpin tidak dapat melaksanakan kedaulatan rakyat?
5. Jelaskan pentingnya perubahan sosial budaya!
6. Menurut pendapatmu, apakah masuknya unsur budaya asing dapat menghilangkan ciri khas budaya atau kepribadian bangsa Indonesia? Jelaskan alasanmu!
7. Tuliskan kegiatan apa saja yang termasuk sumber devisa!
8. a. Tuliskan definisi neraca perdagangan!  
b. Bagaimana neraca perdagangan dikatakan surplus?
9. Jelaskan fungsi uang sebagai alat pembayaran!
10. Sebutkan tugas pokok bank sentral!





# Semester II









## Permukaan Bumi



Bentuk-bentuk muka bumi atau yang biasa kita sebut relief muka bumi awalnya terbentuk secara alami. Seiring perkembangan ilmu pengetahuan dan teknologi, manusia telah mampu mengubah relief muka Bumi sesuai dengan peruntukannya. Bukit yang dahulu berupa semak belukar dan lahan pertanian atau hutan telah diubah menjadi permukiman. Relief permukaan bumi bukan hanya yang tampak di daratan, tetapi juga di dasar laut. Pada bab ini kita akan mempelajari interpretasi peta tentang bentuk dan pola muka bumi, serta pembagian permukaan bumi atas benua dan samudra.



# Peta Konsep



## Kata Kunci

- relief
- benua
- samudra



Seperti telah kamu ketahui, suatu peta dapat memuat beragam informasi. Aneka informasi tersebut ditampilkan dengan simbol-simbol tertentu. Keragaman simbol dalam suatu peta menunjukkan betapa kenampakan bumi beserta segala isinya juga memiliki keragaman.

Pada bab ini, kamu akan mempelajari dan menambah pengetahuanmu dalam menginterpretasi peta yang memuat informasi pola dan bentuk-bentuk muka bumi.



## A. Bentuk-Bentuk Muka Bumi pada Peta

Perlu kamu ketahui bahwa bentuk-bentuk bumi yang diinformasikan pada peta dapat dibedakan atas dua macam, yakni bentuk alamiah dan bentuk buatan. Bentuk alamiah atau bentang alam merupakan kenampakan bumi yang terjadi secara alami. Misalnya gunung, laut, dan danau. Adapun bentuk buatan atau bentang budaya merupakan kenampakan bumi yang merupakan buatan manusia. Misalnya jalan, rel kereta api, gedung, tembok, dan bendungan.

### 1. Bentuk-Bentuk Alami pada Peta

Secara garis besar, bentuk alami yang ditampilkan pada peta terdiri atas daratan dan perairan. Secara lebih khusus, ada beberapa jenis bentuk-bentuk alami pada peta yang dapat ditampilkan sebagai informasi di dalam peta. Beberapa jenis kenampakan tersebut antara lain ialah dataran tinggi, dataran rendah, laut, danau, sungai, rawa, dan hutan.

#### a. Dataran Tinggi dan Dataran Rendah

Dataran tinggi merupakan kawasan di daratan yang relatif lebih tinggi bila dibandingkan dengan kawasan lain di suatu wilayah yang sama. Sebaliknya, dataran rendah merupakan kawasan di daratan yang memiliki ketinggian relatif lebih rendah. Dalam peta, informasi yang menunjukkan kenampakan dataran tinggi dan rendah digambarkan dengan garis-garis *kontur*. Cara lain untuk menginformasikan kenampakan dataran tinggi ialah dengan menampilkan simbol warna di daratan. Warna yang digunakan mulai dari jenis warna hijau yang paling muda hingga hijau yang paling tua, kuning yang paling muda hingga coklat tua untuk menggambarkan bentuk-bentuk muka bumi dari yang paling rendah hingga paling tinggi. Dataran tinggi yang berupa gunung atau gunung api biasanya diimbui pula dengan simbol segitiga samakaki.

Bentuk-bentuk muka bumi di daratan antara lain sebagai berikut.

- 1) Gunung, yaitu bentuk permukaan bumi yang menonjol lebih tinggi dibandingkan sekelilingnya akibat tenaga endogen dari gerakan magma. Gunung terdiri atas puncak



### Wawasan Sosial

Peta pertama yang menunjukkan kenampakan alam diperkenalkan oleh Erasthosthenes seorang ahli geografi Yunani pada sekitar abad ke-3 Sebelum Masehi. Dalam peta yang dibuatnya, Erasthosthenes menggambarkan alur Sungai Gangga di India.

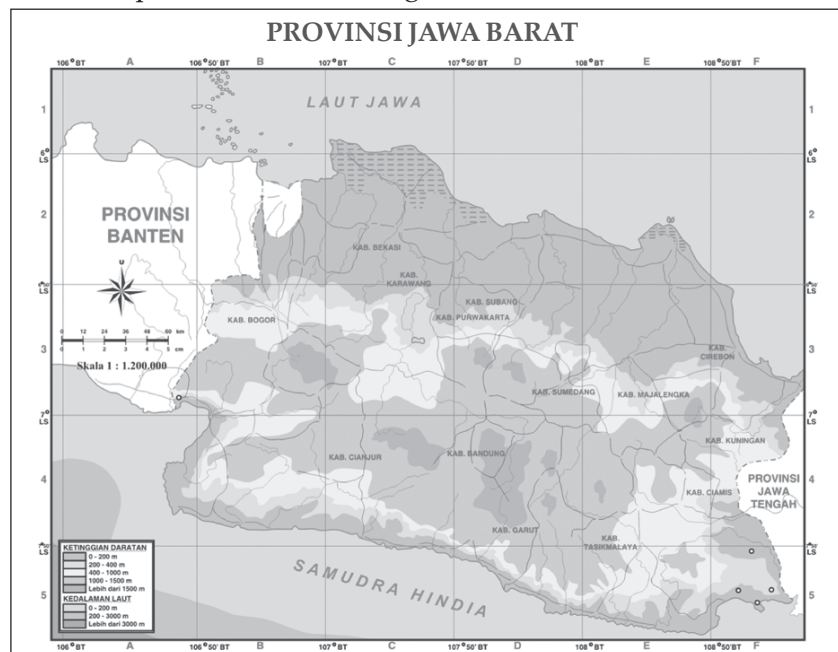


## Tugas Mandiri

Ambillah atlasmu, pilih salah satu peta yang ada di dalamnya. Kemudian identifikasikan kenampakan-kenampakan alam yang tergambar pada peta tersebut yang meliputi gunung, sungai, laut, dan danau. Sebutkan nama-nama kenampakan alam yang kamu temukan, beserta judul petanya.

di bagian atas, lereng di bagian tengah dan kaki gunung di bagian bawah. Kemiringan lereng tiap-tiap gunung berbeda-beda, misalnya landai apabila kemiringan  $< 45^\circ$ , curam apabila kemiringannya lebih dari  $45^\circ$ , dan tegak apabila kemiringan mencapai  $90^\circ$ . Pada peta, gunung disimbolkan dengan segitiga merah untuk yang masih aktif dan hitam untuk yang sudah tidak aktif.

- 2) Pegunungan, adalah kumpulan gunung atau rangkaian gunung dengan ketinggian yang berbeda-beda dan mengelompok atau memanjang. Misalnya Pegunungan Bukit Barisan di Sumatra dan Pegunungan Meratus di Kalimantan. Simbol untuk pegunungan adalah warna kuning sampai coklat.
- 3) Lembah, yaitu daerah yang lebih rendah dari sekitarnya dengan posisi memanjang dan dialiri oleh sebuah sungai. Dalam perkembangannya lembah sungai bisa menjadi sebuah ngarai dengan tebing yang relatif curam. Contohnya Ngarai Sianok di Sumatra.
- 4) Peneplain, adalah dataran yang luas dan hampir rata terbentuk dari proses tenaga eksogen yang berlangsung terus-menerus dan sudah mencapai tahapan akhir. Contohnya daerah Banten bagian utara.
- 5) Plato, adalah dataran tinggi yang luas terjadi karena proses pengangkatan tanah, dan terdapat di antara gunung-gunung atau pegunungan. Contohnya Plato Dieng di Wonosobo dan Plato Wonosari di Yogyakarta. Simbol plato di peta adalah warna kuning.
- 6) Delta, adalah dataran yang terdapat di muara sungai besar, terbentuk dari proses pengendapan tanah hasil erosi yang terbawa sungai terus-menerus. Contohnya Delta Sungai Kapuas, dan Delta Sungai Musi.



**Gambar 6.1** Dataran rendah dan tinggi yang digambarkan dengan simbol warna.  
Sumber: Atlas Dunia Buana Raya



b. Hutan

Hutan merupakan kenampakan di daratan yang terbentuk oleh kumpulan pepohonan yang banyak. Hutan menjadi tempat tinggal bagi banyak binatang dan tumbuhan. Dalam peta, hutan dapat ditunjukkan dengan simbol berupa titik-titik hitam. Ketebalan dan jumlah titik-titik pada peta menunjukkan kelembatan hutan yang diinformasikan dalam peta.

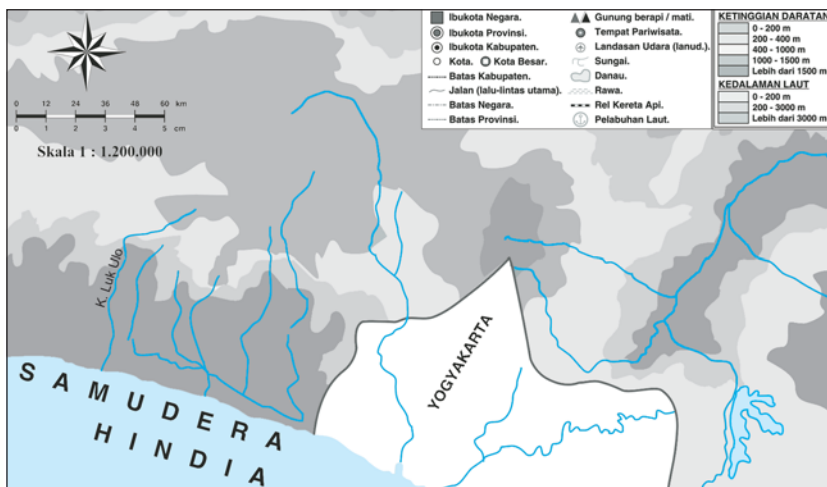
c. Perairan Darat

Perairan darat yang ditampilkan pada peta umumnya terdiri atas sungai, danau, dan rawa.

- 1) *Sungai*, merupakan cekungan alami pada permukaan Bumi yang memiliki alur tertentu dengan bentuk yang memanjang dan berliku-liku. Melalui sungai inilah air mengalir dari suatu tempat yang tinggi hingga berujung ke laut. Tempat pertemuan antara air sungai dan air laut di kawasan pantai disebut muara. Pada muara dapat dijumpai *delta*, yaitu daratan rata yang berada di bantaran muara. Simbol yang digunakan untuk menggambarkan kenampakan perairan seperti sungai dan danau adalah simbol garis dan luasan yang berwarna biru.
- 2) *Danau*, merupakan bentuk daratan yang berupa cekungan besar yang dapat menampung air dalam jumlah banyak. Danau ditunjukkan dengan simbol warna biru muda. Di sekeliling danau, batasnya dengan daratan kering ditunjukan oleh garis yang jelas dan tidak terputus. Simbol tersebut berlaku sama, baik untuk danau alami maupun danau buatan atau waduk.
- 3) *Rawa*, merupakan perairan dangkal di daratan yang banyak tumbuhannya. Karena itu, rawa juga banyak dihuni oleh beragam spesies binatang. Pada peta, rawa ditunjukkan dengan simbol warna biru muda. Namun, berbeda dengan danau, garis yang menunjukkan batas rawa dengan batas daratan ditunjukkan oleh garis putus-putus.

## Wawasan Sosial

Peta pertama yang secara khusus menggambarkan perairan laut secara akurat dibuat oleh seorang ahli geografi Arab yang bernama Al-Idrissi pada tahun 1154.



**Gambar 6.2** Pada peta tersebut di atas kenampakan sungai dan danau digambarkan dengan warna biru. Sungai digambarkan dengan garis, sedangkan danau dengan bidang.

**Sumber:** Atlas Dunia Buana Raya



## Tugas Mandiri

Ambillah peta Indonesia dari atlasmu, perhatikan dengan saksama. Sebutkan wilayah-wilayah perairan laut menurut kedalamannya berdasarkan warna kenampakan laut yang tergambar pada peta tersebut.



**Gambar 6.3** Bentuk muka Bumi berupa lautan digambarkan dengan warna biru.

**Sumber:** *Atlas Dunia Buana Raya*

### d. Perairan Laut

Lebih dari 70% luas permukaan bumi merupakan lautan. Karena itu, kenampakan laut pada peta dapat terlihat dengan jelas. Kenampakan laut pada peta digambarkan melalui simbol warna biru yang paling muda hingga yang paling tua. Warna biru muda (30%) digunakan untuk menunjukkan laut dangkal atau dikenal pula dengan sebutan zona neritik. Warna biru sedang (50%) untuk laut yang memiliki kedalaman antara 200–1.500 meter. Adapun laut yang memiliki kedalaman lebih dari 1.500 meter, digunakan warna biru penuh (100%).

Selain dengan simbol warna, kedalaman laut juga dapat ditunjukkan oleh simbol garis yang dibentangkan dari titik-titik lautan yang memiliki kedalaman yang sama. Garis pada peta yang menghubungkan laut dengan kedalaman yang sama disebut *isobath*. Adapun batas antara lautan dengan daratan ditunjukkan melalui garis berwarna biru.

Dasar laut memiliki relief yang hampir sama dengan daratan. Relief dasar meliputi kenampakan-kenampakan sebagai berikut.

- 1) Paparan benua, yaitu daerah dangkalan yang merupakan kelanjutan benua menuju ke laut secara landai dengan rata-rata kedalaman 200 m, disebut juga daerah dangkalan. Contohnya Dangkalan Sunda, tempat beradanya Laut Jawa dan Selat Karimata.
- 2) Punggung laut, yaitu bagian dasar laut yang menjulang membentuk pegunungan laut yang memanjang sehingga terkadang sampai permukaan laut dan membentuk kepulauan.
- 3) Palung laut atau trog, adalah celah laut atau lembah laut yang dalam dan memanjang dengan tebing yang relatif curam. Contohnya palung laut di selatan Pulau Jawa dan Palung Mindanau di Filipina dengan kedalaman  $\pm 10.830$  meter dan Palung Jepang dengan kedalaman  $\pm 9.700$  meter.
- 4) Ambang laut, adalah relief dasar laut yang mencuat memanjang dan memisahkan dua perairan laut. Contohnya Ambang Laut Babel Mandip yang memisahkan Laut Merah dengan Samudra Pasifik.

## 2. Bentuk-Bentuk Buatan pada Peta

Bentuk buatan yang ditampilkan pada peta memiliki banyak macam dan bentuk. Umumnya, bentuk-bentuk buatan yang dapat ditampilkan sebagai informasi pada peta antara lain jalan, rel kereta api, kota, pelabuhan, perkebunan, permukiman, dan bandara.

### a. Jalan

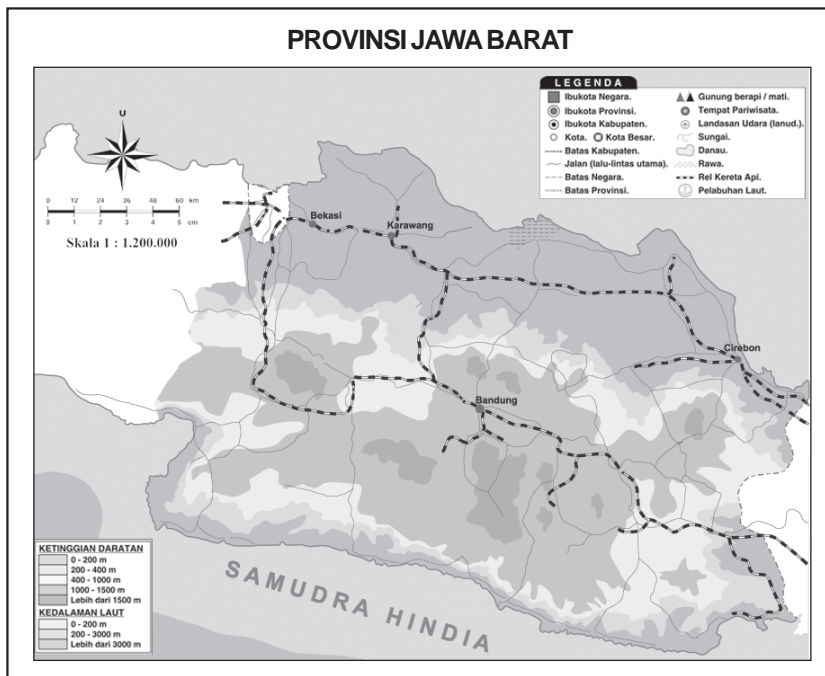
Jalan merupakan penghubung antartempat yang dibuat untuk dilalui oleh kendaraan. Jalan dapat dibedakan berdasarkan ukurannya. Jalan raya yang besar ditampilkan



pada peta dengan simbol garis berwarna merah. Jalan setapak atau jalan yang belum diaspal ditampilkan pada peta dengan simbol garis berwarna hitam putus-putus atau warna yang diberi keterangan pada legenda.

#### b. Rel Kereta Api

Rel kereta api merupakan jalur dari baja yang dibuat khusus sebagai jalan yang dilalui oleh kereta api. Dalam peta, rel kereta api ditampilkan dengan simbol garis warna hitam yang memiliki ruas. Ruas pada garis-garis simbol rel kereta api sama panjangnya.



**Gambar 6.4** Rel kereta api digambarkan dengan garis hitam beruas-ruas.

**Sumber:** *Atlas Dunia Buana Raya*

#### c. Kota

Kota merupakan konsentrasi permukiman penduduk yang memiliki sistem dan cara administrasi tersendiri. Berdasarkan perannya dalam kehidupan pemerintahan, kota dapat dibedakan menjadi beberapa macam. Pada peta ibukota negara digambarkan dengan simbol bujursangkar berwarna merah. Ibukota provinsi diinformasikan dalam peta dengan bujursangkar yang memiliki lingkaran hitam di dalamnya. Adapun ibukota kabupaten dan kota kecil ditampilkan dalam peta dengan simbol lingkaran biasa.

#### d. Pelabuhan

Pelabuhan adalah kenampakan buatan yang dibuat sebagai tempat bersandarnya kapal laut. Di pelabuhan biasanya terjadi kegiatan bongkar muat barang-barang yang menjadi komoditas perdagangan. Dalam peta, pelabuhan ditampilkan dengan simbol titik berbentuk jangkar kapal.

### Tugas Mandiri

Perhatikan peta umum Pulau Bali yang kamu miliki. Sebutkan bentuk-bentuk buatan yang tergambar pada peta tersebut!



## Tugas Mandiri

Setelah mempelajari penggunaan simbol-simbol untuk menunjukkan bentuk-bentuk muka bumi pada peta, kini buatlah tabel jenis-jenis kenampakan di muka bumi, simbol-simbol, dan jenis kenampakan-nya. Kemudian isikan data simbol yang kamu ketahui pada tabel tersebut.

### e. Bandar Udara

Bandar udara atau bandara merupakan tempat pesawat lepas landas dan mendarat. Bandara biasanya dilengkapi dengan tempat tunggu penumpang yang akan berangkat atau baru datang menggunakan pesawat. Dalam peta, simbol yang digunakan untuk menunjukkan keberadaan bandara adalah dengan simbol titik berbentuk dasar pesawat terbang.

### f. Perkebunan

Ada beragam jenis perkebunan berdasarkan jenis tanaman yang dibudidayakan. Karena itu, simbol yang digunakan untuk menunjukkan perkebunan di dalam peta pun beragam, tergantung kepada jenis tanamannya. Contohnya, perkebunan kelapa ditunjukkan dalam peta dengan bentuk dasar pohon kelapa. Ini berlaku pula untuk jenis perkebunan lainnya seperti perkebunan teh, kopi, karet, dan kina.



**Gambar 6.5** Kota, pelabuhan, dan bandar udara digambarkan pada peta dengan simbol titik.

**Sumber:** Atlas Dunia Buana Raya

## B. Diagram Bentuk Muka Bumi Daratan dan Dasar Laut


Kamu tentu telah mengetahui bahwa bumi tempat kita tinggal memiliki permukaan yang tidak rata. Beberapa bagian pada bumi memiliki ketinggian yang lebih dibandingkan bagian lainnya. Perbedaan bentuk permukaan bumi disebut *relief muka bumi*.

Perbedaan relief muka bumi dapat terjadi karena pergerakan tenaga endogen dan eksogen. Perbedaan relief ini dapat terjadi baik di daratan maupun di lautan. Diagram relief permukaan bumi dibuat dalam bentuk irisan melintang atau pola melintang pada permukaan bumi. Dengan mengamati irisan melintang tersebut, kamu dapat mengamati pola-pola bentuk relief permukaan bumi.

## Wawasan Sosial

Diagram atau penampang muka bumi pertama kali diperkenalkan pada masa pembuatan peta saat Perang Dunia I. Kemudian pada tahun 1966, Satelit Pageos, secara khusus diluncurkan untuk mengamati dan memotret relief muka bumi sebagai bahan pembuatan diagram atau penampang relief muka bumi.





**Gambar 6.6** Relief muka Bumi di daratan.

**Sumber:** *Geographica The Complete Illustrated World Reference*

Kita dapat menggambarkan ketinggian atau kedalaman suatu kawasan pada peta yang menghubungkan tempat-tempat dengan simbol garis yang menunjukkan ketinggian yang sama pada suatu wilayah atau yang disebut *isoline*. Simbol garis tersebut dinamakan garis *kontur*.



**Gambar 6.7** Contoh peta kontur.

**Sumber:** *Dokumen Penerbit*

Garis kontur merupakan kurva tertutup yang menunjukkan nilai ketinggian yang sama. Setiap garis memiliki interval tertentu. Pada beberapa jenis peta topografi, kamu dapat menemukan garis kontur. Peta topografi yang menggunakan garis kontur dinamakan *peta kontur*.

Pada peta yang menampilkan gambar lautan, garis kontur menghubungkan berbagai titik dengan kedalaman yang sama. Garis tersebut dinamakan *isobath*. Ada jenis peta kontur yang menggambarkan kedalaman laut, yang dinamakan *peta bathymetri*.

Berdasarkan garis kontur yang ditampilkan pada peta, kamu dapat membuat penampang atau diagram yang menggambarkan ketinggian dan kedalaman suatu kawasan. Untuk itu, nilai dari unsur yang akan digambarkan pada penampang tersebut harus diketahui.

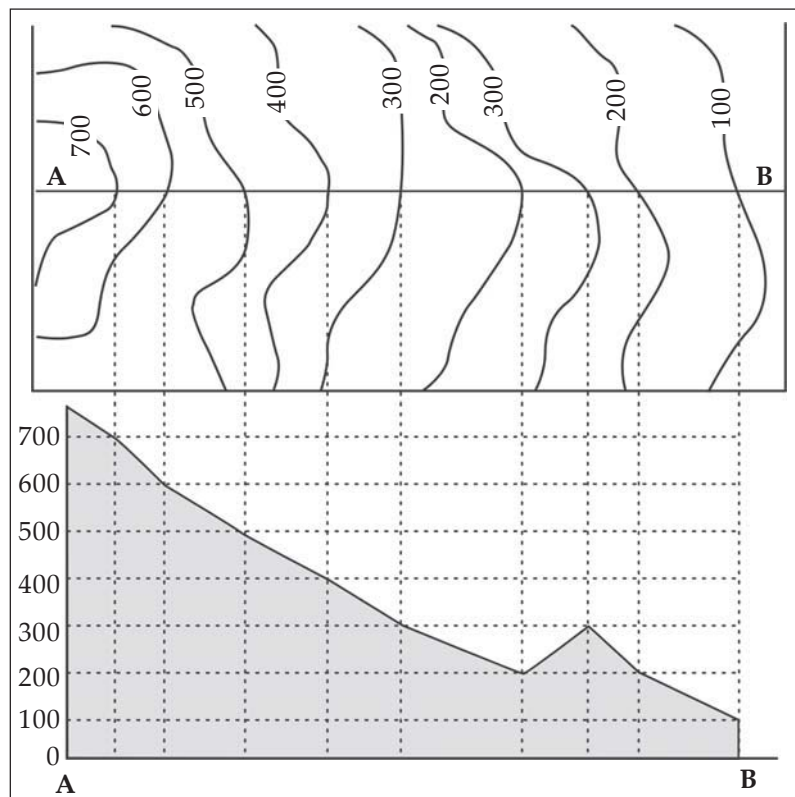


## Tugas Bersama

Kini, bekerjalah secara berkelompok dan carilah sebuah peta kontur. Setelah itu, cobalah untuk membuat diagram atau penampang melintang bentuk muka Bumi berdasarkan peta tersebut. Setelah selesai, bandingkanlah pekerjaanmu dengan kelompok lainnya dan cobalah untuk saling mengoreksi jika terdapat kesalahan pada diagram yang dibuat oleh kelompok lainnya.

Berikut ini langkah-langkah untuk membuat penampang melintang suatu objek geografis berdasarkan suatu peta kontur.

1. Siapkan suatu peta kontur. Contohnya seperti pada gambar di bawah ini.
2. Tandai wilayah yang akan dibuat penampangnya, misalnya kawasan antara A dan B.
3. Buatlah sebuah sumbu grafik.
4. Tarik garis pada sumbu grafik berdasarkan titik-titik ketinggian dan kedalaman yang ditemukan pada peta kontur.
5. Lengkapi grafik atau penampang dengan judul, keterangan, dan tanda yang menunjukkan setiap kenampakan alam.



**Gambar 6.8** Cara menggambarkan bentuk melintang muka bumi dengan peta kontur.

**Sumber:** Dokumen Penerbit

## C. Pola dan Bentuk Objek Geografis Sesuai dengan Bentang Alamnya

Pola merupakan sistem susunan suatu objek dalam suatu ruang tertentu. Pola dapat diketahui dengan melakukan perbandingan pada beberapa objek yang sama dalam ruang yang berbeda. Selain itu, persebaran suatu objek atau tempat juga memiliki pola tertentu.

Pola persebaran suatu objek geografi sangat dipengaruhi oleh bentuk bentang alam. Salah satu contohnya ialah pola persebaran permukiman penduduk. Selain itu, persebaran suatu



objek geografi juga dapat dipengaruhi oleh iklim tertentu. Misalnya, persebaran jenis tanaman teh yang hanya dapat ditanam pada kawasan beriklim dingin.

### 1. Pengaruh Cuaca dan Iklim pada Persebaran Objek Geografis

Cuaca dan iklim sangat dipengaruhi oleh bentang alam di sekitarnya. Daerah pegunungan atau dataran tinggi umumnya memiliki suhu rendah dengan curah hujan tinggi. Hal ini terjadi karena banyak pengembunan terjadi di kawasan yang memiliki ketinggian lebih dibanding kawasan lainnya. Karena itu, kawasan pegunungan atau dataran tinggi memiliki iklim yang sejuk. Adapun daerah dataran rendah umumnya memiliki temperatur yang lebih tinggi dengan curah hujan yang relatif lebih rendah. Manusia memiliki kecenderungan untuk menempati kawasan yang memiliki iklim nyaman. Kawasan yang terlalu panas atau terlalu dingin kurang menarik untuk dihuni. Hal ini terbukti dari tidak ada permukiman penduduk di kawasan gurun pasir yang sangat panas atau di daratan Kutub Selatan yang sangat dingin. Iklim yang nyaman tidak hanya dibutuhkan oleh manusia. Hewan pun memiliki kecenderungan yang sama dengan manusia. Hanya jenis-jenis hewan tertentu saja yang dapat tinggal di kawasan yang sangat panas atau sangat dingin.

Cuaca dari iklim memengaruhi persebaran objek geografi. Hal ini tampak pada daerah yang beriklim tropis, cenderung memiliki kenampakan objek geografis berupa hutan tropis, tumbuhan tropis, dan hewan tropis, serta kenampakan objek buatan yang sesuai dengan iklimnya.

Beberapa tanaman yang memerlukan kondisi khusus seperti cuaca dan jenis tanah tertentu sangat tergantung pada kondisi geografis wilayah. Misalnya teh di dataran tinggi dan sejuk, padi di dataran yang cukup air dan cukup sinar matahari.



**Gambar 6.9** Perkebunan teh terdapat di kawasan beriklim sejuk.  
**Sumber:** Dokumen Penerbit

## Wawasan Sosial

Penemuan-penemuan berbagai fosil manusia purba dan kota-kota purba selalu terjadi di kawasan yang dekat dengan sungai. Contohnya fosil manusia tertua di Indonesia, *Pithecanthropus Erectus* ditemukan oleh Eugene Dubois di kawasan Lembah Sungai Bengawan Solo. Salah satu situs kota tertua di dunia, yakni Mohenjo-Daro dan Harappa ditemukan di lembah Sungai Indus. Ini membuktikan bahwa sejak dahulu, manusia cenderung memilih kawasan permukiman yang dekat dengan sumber air.



### Tugas Bersama

Persebaran objek geografis sangat dipengaruhi oleh bentang alamnya. Bekerjalah secara berkelompok untuk mencari pengaruh bentang alam tertentu terhadap kehidupan manusia. Isikanlah pada tabel seperti di bawah ini, kemudian bandingkanlah hasil kerja kalian dengan kelompok lainnya dan diskusikan di kelas. Kerjakan pada buku tugasmu!

No.	Bentang Alam	Pengaruhnya Pada Pola Kehidupan Manusia
1.	.....	.....
2.	.....	.....
3.	.....	.....
4.	.....	.....
5.	.....	.....

## 2. Pengaruh Bentang Alam pada Persebaran Objek Geografis

Kawasan yang menjadi tempat permukiman penduduk sangat memengaruhi kegiatan penduduk di kawasan tersebut. Misalnya, penduduk yang tinggal di kawasan pantai umumnya memiliki profesi sebagai nelayan atau petani tambak. Secara umum, manusia cenderung memilih untuk bermukim di kawasan yang akan memberikan keuntungan bagi mereka.

Tempat yang dipilih sebagai permukiman manusia umumnya merupakan lahan yang datar. Kawasan datar tersebut umumnya merupakan kawasan di mana air dapat diperoleh secara mudah. Oleh karena itu, penduduk umumnya terkonsentrasi pada kawasan-kawasan yang dekat dengan aliran sungai dan pantai. Pada kenyataannya kota-kota besar umumnya terletak di kawasan yang dilalui oleh sungai-sungai atau di kawasan pantai.

### D. Pembagian Bumi Atas Benua dan Samudra

Kamu akan mempelajari posisi dan karakteristik benua dan samudra di planet bumi. Pengetahuan ini sangat penting bagimu. Dengan memahami segala informasi tentang benua dan samudra di planet ini, kamu akan menjadi manusia yang lebih memahami lingkungan tempat tinggal dan lingkungan-lingkungan lain yang ditinggali oleh orang lain. Dengan begitu, kamu dapat membandingkan kekurangan dan kelebihan setiap lingkungan yang dihuni dan dapat dimanfaatkan oleh manusia demi kemaslahatan dan bermanfaat bagi kehidupan manusia.

Secara umum, planet bumi ini terbagi menjadi dua bagian, yakni bagian perairan dan bagian daratan. Wilayah perairan jauh lebih luas dari daratan. Ingat, dua pertiga permukaan planet ini adalah laut. Perairan yang tidak berada di tengah daratan dinamakan laut. Laut yang sangat luas dinamakan samudra. Di dunia ini terdapat empat samudra, yakni Samudra Pasifik, Atlantik, Hindia, dan Arktik.

Daratan merupakan bagian permukaan bumi yang padat. Di permukaan daratanlah manusia dan makhluk hidup lainnya hidup dan berkembang biak. Daratan yang sangat luas disebut benua. Daratan yang lebih kecil dinamakan pulau. Pulau terbesar di dunia ialah Pulau Greenland.

Di bumi ini terdapat enam benua, yakni Benua Asia, Afrika, Eropa, Amerika, Australia, dan Antartika. Dari enam benua tersebut, hanya lima benua yang dihuni oleh manusia. Benua Antartika tidak dihuni oleh manusia karena keadaan alam yang sangat dingin dan keras. Di Benua Antartika pula Kutub Selatan bumi berada.



Berikut ini karakteristik benua-benua di dunia.

**Tabel 6.1** Karakteristik benua-benua di dunia.

Benua	Luas (Km <sup>2</sup> )	Titik Tertinggi	Titik Terendah
Asia	44.391.000	Gunung Everest, Nepal, Cina 8.848 m	Laut Mati, Yordania -400 m
Amerika	42.057.100	Gunung Aconcagua, Argentina 6.959 m	Lembah Maut, California -85,9 m
Afrika	30.290.000	Gunung Kilimanjoro, Tanzania 6.010 m	Danau Assal, Jibouti -156 m
Antartika	14.254.000	Gunung Vinson, Antartika 5.139 m	Tidak diketahui
Eropa	10.355.000	Gunung Elbrus, Rusia 5.833 m	Laut Kaspia, Uni Soviet -28 m
Australia	7.682.300	Gunung Kosciusko, Australia 2.228 m	Danau Eyre, Australia Selatan -13 m

**Sumber:** Ensiklopedi Umum untuk Pelajar

## 1. Benua Asia

Asia merupakan benua terbesar di dunia. Luas Benua Asia mencapai 44.391.000 km<sup>2</sup>. Secara astronomis, Asia terletak pada 26°4'–160°BT dan 77°41'LU–11°LS. Secara geografis, Asia terbagi atas lima kawasan yakni kawasan Asia Barat, Asia Timur, Asia Tengah, Asia Selatan, dan Asia Tenggara.

Para ahli menetapkan bahwa batas Benua Asia ialah dengan Samudra Arktik di utara, dengan Samudra Hindia di selatan, dengan Benua Eropa, Pegunungan Ural, Laut Kaspia, Laut Hitam, Selat Bosporus, Selat Dardanella, Laut Tengah, Terusan Suez, dan Laut Merah di barat, serta dengan Selat Bering dan Samudra Pasifik di timur.

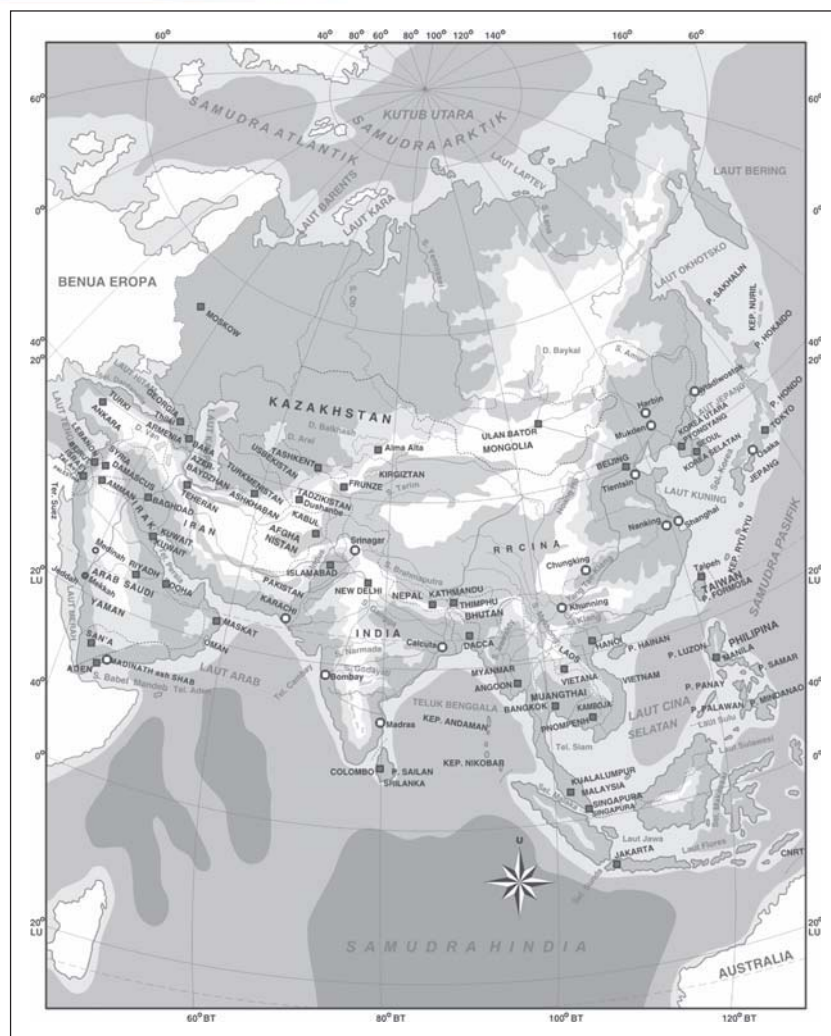
### a. Keadaan Alam

Keadaan alam Benua Asia terdiri atas empat bagian. Bagian yang *pertama* ialah pegunungan lipatan muda yang membujur dari Laut Tengah hingga ke Turki. Pegunungan ini bersambung ke Pegunungan Kaukasus yang membujur hingga ke Iran dan India, kemudian bercabang menjadi tiga, yakni Pegunungan Tian, Pegunungan Kunlun (keduanya di Cina), dan Pegunungan Karakoram di Semenanjung Malaya. Ujung dari pegunungan lipatan muda ini ialah di Laut Banda. Bagian yang *kedua* adalah plato (dataran tinggi) yang terdiri atas Plato Arab di bagian timur Asia Barat serta Plato Dekkan di India. Bagian yang *ketiga* merupakan dataran rendah di bagian utara yang meliputi kawasan Siberia dan Turan di Rusia. Bagian *keempat* merupakan dataran rendah dan daerah aliran Sungai Tigris, Eufkrat, Indus, Gangga, Irawadi, Brahmaputra, Mekong, Yang Tse, dan Huang Ho. Asia merupakan tempat pertemuan dua sirkum pegunungan dunia, yakni Sirkum Pasifik dan Sirkum Mediterania. Karena itu, di Asia banyak terdapat gunung berapi.

### Wawasan Sosial

Indonesia merupakan satu satunya negara Asia yang wilayahnya dilalui oleh garis khatulistiwa. Di Asia hanya ada dua negara yang sebagian wilayahnya berada di lintang selatan dan sebagian lainnya di lintang utara, yakni Indonesia dan Maladewa. Timor Leste merupakan satu-satunya negara Asia yang seluruh wilayahnya berada di posisi lintang selatan.





**Gambar 6.10** Peta Benua Asia  
**Sumber:** Atlas Dunia Buana Raya

#### b. Keadaan Iklim

Karena wilayahnya yang sangat luas, ada berbagai jenis iklim yang berlaku di Benua Asia, yaitu sebagai berikut.

- 1) Iklim tropis, yakni iklim yang berciri curah hujan tinggi, kelembapan tinggi, dan suhu yang panas sepanjang tahun, sebagian besar terdapat di wilayah Asia Tenggara. Terletak di antara  $23^{\circ}30'LU$ – $23^{\circ}30'LS$ .
- 2) Iklim subtropis, yakni iklim yang berciri adanya empat musim. Empat musim tersebut ialah musim dingin, semi, panas, dan gugur. Sebagian besar terdapat di wilayah Asia Timur. Terletak di antara  $23^{\circ}30'LU$ – $40^{\circ}LU$  dan  $23^{\circ}30'LS$ – $40^{\circ}LS$ .
- 3) Iklim sedang, yaitu iklim yang merupakan perpaduan antara iklim subtropis dengan iklim kutub, terdapat di kawasan sekitar Mongolia. Terletak di antara  $40^{\circ}LU$ – $66^{\circ}30'LU$  dan  $40^{\circ}LS$ – $66^{\circ}30'LS$ .
- 4) Iklim kutub, yakni iklim yang berciri musim dingin yang panjang dan musim panas yang sangat pendek,



#### Wawasan Sosial

Sungai Yang Tze di Cina merupakan sungai terpanjang di Asia. Panjangnya mencapai 6.300 km. Sementara, gunung tertinggi di Asia ialah gunung Everest di Tibet. Dengan ketinggian 8.850 m, Gunung Everest juga merupakan gunung tertinggi di dunia.



terdapat di daratan Asia bagian utara sekitar Siberia. Terletak di antara 66°30'LU–90°LU dan 66°30'LS–90°LS.

- 5) Iklim kontinental, yakni iklim yang berciri adanya pengaruh daratan yang kuat, terdapat di daerah sekitar Gurun Gobi atau di pedalaman benua.
- 6) Iklim gurun, yakni iklim yang berciri perubahan suhu selalu berubah-ubah dengan cepat serta curah hujan yang rendah, terdapat di sebagian besar wilayah Asia Barat atau Timur Tengah.

Kondisi setiap kawasan di Asia sangat dipengaruhi oleh berbagai iklim tersebut. Karena itu, tumbuhan dan satwa yang hidup di Asia sangat beragam. Di kawasan *utara*, tumbuhan yang hidup umumnya merupakan jenis tundra semacam rumput, lumut, dan jenis tumbuhan rendah lainnya. Di kawasan ini, tanaman tinggi hanya terdiri atas jenis-jenis cemara. Sementara di kawasan antara utara dan tengah, banyak terdapat tanaman jenis arid yang tidak memerlukan banyak air. Di sekitar gurun yang terdapat di wilayah tersebut, banyak terdapat padang rumput. Di kawasan Asia bagian *selatan*, khususnya Plato Dekkan, banyak terdapat hutan tropis kering yang ditumbuhi tumbuhan tropis kering. Sementara hutan hujan tropis banyak terdapat di Asia Tenggara. Hewan-hewan yang hidup di Asia pun sangat beragam, tergantung kepada iklim dan kondisi alamnya. Hewan-hewan khas Asia meliputi jenis hewan tropis yang terdapat di Asia Tenggara dan hewan-hewan lainnya.

#### c. Kependudukan

Pada tahun 2005, diperkirakan jumlah penduduk Asia mencapai 4.000.000.000 jiwa. Kepadatan penduduk di Asia mencapai 119 orang per km<sup>2</sup>. Laju pertumbuhan penduduk Asia mencapai 1.5% per tahun. Walau begitu, persebaran dan pertumbuhan-penduduknya tidak merata di setiap kawasan. Sebagai contoh, Yaman, Suriah, Arab Saudi, Laos, dan Yordania merupakan negara-negara dengan pertumbuhan tinggi, yaitu di atas 2,5%.

Penduduk di Benua Asia terdiri atas tiga ras utama yaitu Ras Mongoloid, Ras Kaukasoid, dan Ras Negroid. Tipe ras tersebut telah bercampur baur sehingga mengalami proses asimilasi antara satu dengan lainnya.

Kendati demikian dalam wilayah tertentu masih terdapat ras-ras yang dominan sebagai berikut.

- 1) Asia Utara dan Asia Tengah mayoritas adalah Ras Kaukasoid atau Ras Europeid.
- 2) Asia Timur dan Asia Tenggara sebagian besar adalah Ras Mongoloid.
- 3) Asia Selatan bagian tengah didominasi Ras Kaukasoid.
- 4) Asia Selatan bagian selatan didominasi Ras Negroid, misalnya suku bangsa Dravida di India Selatan dan Srilanka.
- 5) Asia Barat (Timur Tengah) bagian selatan khususnya negara-negara di Semenanjung Arab (Yaman, Oman) didominasi Ras Negroid.



**Gambar 6.11** Pegunungan Siberia yang beriklim kutub.

**Sumber:** *Ensiklopedi Umum untuk Pelajar, Ichtiar Baru van Hoeve*

#### Tugas Bersama

Buatlah daftar negara-negara di Benua Asia dan berilah urutan nomornya. Gambarlah peta Benua Asia pada selembar kertas ukuran folio, lengkap dengan batas negaranya. Masukkan nomor negara dari daftar yang kamu buat ke dalam Peta Asia tersebut. Kerjakan secara berkelompok yang terdiri atas empat siswa





## Wawasan Sosial

Agama Islam, Kristen, Katolik, Yahudi, Buddha, Hindu, dan Kong Hucu merupakan agama-agama besar dunia yang lahir di kawasan Asia.



**Gambar 6.12** Kemajuan teknologi Jepang berjalan seiring nilai-nilai tradisional Jepang

**Sumber:** Microsoft Student 2008

- 6) Asia Kecil, Asia Barat (Timur Tengah) bagian utara didominasi Ras Kaukasoid/Europeid dan Ras Negroid.

Penduduk Asia menganut beragam agama. Di kawasan Asia Barat, Islam merupakan agama yang dominan melebihi jumlah penganut Yahudi dan Kristen yang juga banyak terdapat di kawasan tersebut. Sementara, di kawasan Asia Selatan, Hindu menempati posisi pertama jumlah pemeluk agama di atas Islam dan Buddha. Di kawasan Asia Tengah, jumlah penganut Islam adalah yang terbanyak di atas pemeluk Buddha, kecuali di Cina yang penduduknya banyak menganut Kong Hucu. Di Jepang agama dominan adalah Shinto yang merupakan kepercayaan lokal Jepang. Untuk kawasan Asia tenggara, penganut Islam dan Buddha hampir sama banyaknya selain itu ada penganut Hindu dan Kristen.

### d. Perekonomian

Aktivitas perekonomian di sebagian besar wilayah Asia didominasi oleh pertanian, kecuali di Asia Barat yang sangat mengandalkan pertambangan minyak dan gas. Pertanian di Asia umumnya digiatkan di sekitar daerah aliran sungai seperti Sungai Gangga di India, Sungai Mekong di Vietnam, Sungai Huang Ho di Cina, dan Sungai Chao Phraya di Thailand. Di Asia, industri mulai berkembang pesat terutama di negara Singapura, Taiwan, Jepang, dan Korea yang telah menjelma menjadi negara industri. Pertambangan Asia sangat bertumpu pada minyak bumi, terutama di kawasan Asia Barat. Untuk komoditas pertanian, Asia Tenggara merupakan kawasan penghasil padi utama, sementara Asia Tengah menghasilkan gandum.

### e. Karakteristik Benua Asia

Benua Asia memiliki karakteristik atau ciri khas yang dapat membedakan dengan benua-benua lainnya sebagai berikut.

- 1) Merupakan benua terluas di dunia.
- 2) Tempat lahirnya agama-agama besar seperti Islam, Kristen, Hindu, Buddha, dan Konghucu.
- 3) Empat dari tujuh keajaiban dunia terdapat di Benua Asia, yaitu Tembok Raksasa (Cina), Taj Mahal (India), Borobudur (Indonesia), dan Kabah (Arab Saudi).
- 4) Terdapat gunung tertinggi di dunia yaitu Gunung Everest (8.848 m).
- 5) Penghasil minyak bumi terbesar di dunia (Arab Saudi).
- 6) Enam dari sepuluh negara dengan penduduk terbanyak di dunia, yaitu Cina, India, Indonesia, Bangladesh, Pakistan, dan Jepang.
- 7) Terdapat laut dengan kadar garam tertinggi di dunia, yaitu Laut Mati ( $\pm 26\%$ ) dekat Yordania.
- 8) Mempunyai danau terluas di dunia yaitu Danau Laut Kaspia ( $\pm 394.300 \text{ km}^2$ ).
- 9) Mempunyai laut yang terluas di dunia, yaitu Laut Cina Selatan.



f. Negara-Negara di Benua Asia

Berikut ini data negara-negara di Benua Asia.

**Tabel 6.2** Negara-negara di Benua Asia.

Kawasan	Negara	Ibu Kota	Luas (km <sup>2</sup> )	Bentuk Pemerintahan
Asia Barat	Armenia	Yerevan	29.800	Republik
	Arab Saudi	Riyadh	2.149.690	Kerajaan Islam
	Azerbaijan	Baku	86.600	Republik federal
	Bahrain	Al Manama	694	Kerajaan
	Siprus	Nicosia	9.251	Republik
	Georgia	Tbilisi	69.700	Republik
	Irak	Baghdad	438.317	Republik
	Yordania	Amman	91.880	Kerajaan Berkonstitusi
	Kuwait	Al Kuwait	17.818	Kesultanan/emir
	Libanon	Beirut	10.400	Republik
	Oman	Muscat	212.457	Kesultanan
	Palestina	Yerussalem	6.217	Republik
	Qatar	Doha	11.000	Kesultanan/emir
	Suriah	Damaskus	185.180	Republik
	Turki	Ankara	774.815	Republik
	Uni Emirat Arab	Abu Dhabi	83.600	Kesultanan/emir
	Yaman	Sana'a	527.968	Republik
	Afghanistan	Kabul	652.090	Pemerintahahn transisi Islam
	Iran	Teheran	1.648.195	Republik Islam
Asia Tengah	Kazakhstan	Astana	2.724.900	Republik
	Kirgistan	Biskek	198.500	Perlementer
	Tajikistan	Durshambe	143.100	Republik
	Turkmenistan	Ashkhahabat	488.100	Republik
	Uzbekistan	Tashkent	447.400	Republik
Asia Selatan	Bangladesh	Dhaka	143.998	Parlementer
	Bhutan	Thimpu	46.500	Kerajaan
	India	New Delhi	3.287.590	Republik
	Maladewa	Mali	298	Republik
	Nepal	Kathmandu	14.181	Kerajaan berkonstitusi
	Pakistan	Islamabad	796.095	RepublikIslam
	Srilangka	Colombo	65.600	Republik
Asia Tenggara	Brunei Darussalam	Bandar Seri Begawan	5.765	Kesultanan
	Filipina	Manila	300.000	Republik
	Indonesia	Jakarta	1.922.570	Republik
	Kamboja	Phnom Penh	181.035	Kerajaan berkonstitusi
	Laos	Vientiane	236.800	Republik
	Malaysia	Kuala Lumpur	329.758	Republik Federasi
	Myanmar	Yangoon	676.578	Militer
	Singapura	Singapura	618	Republik
	Thailand	Bangkok	513.115	Kerajaan berkonstusi
	Timor Leste	Dili	14.8745	Demokrasi parlementer
	Vietnam	Hanoi	3.331.689	Republik
Asia Timur	Republik Rakyat Cina	Beijing	9.598.036	Republik
	Jepang	Tokyo	377.801	Kerajaan berkonstitusi
	Korea Utara	Pyongyang	120.538	Republik
	Korea Selatan	Seoul	99.274	Republik
	Mongolia	Ulan Bator	1.566.500	Republik

**Sumber:** *Geographica The Complete Illustrated World Reference*



## 2. Benua Afrika

Afrika merupakan benua terbesar ke tiga setelah Asia dan Amerika. Luas wilayah Afrika mencapai 30.290.000 km<sup>2</sup>. Secara astronomis, Afrika terletak pada 17°BB–53°BT dan 40°LU–38° LS. Secara geografis, Afrika terbagi atas lima kawasan yakni Afrika Utara, Afrika Timur, Afrika Barat, Afrika Tengah, dan Afrika Selatan. Benua Afrika berbatasan dengan Laut Tengah di utara, dengan Samudra Hindia di selatan dan timur, serta dengan Samudra Atlantik di barat.



**Gambar 6.13** Peta Benua Afrika.

**Sumber:** Atlas Dunia Buana Raya



**Gambar 6.14** Dataran Tinggi Atlas  
**Sumber:** Microsoft Student 2008

### a. Keadaan Alam

Keadaan alam benua Afrika terdiri atas lima bagian. Bagian yang pertama ialah kawasan pegunungan, antara lain Pegunungan Atlas di utara dan Pegunungan Drakens di selatan. Bagian yang kedua ialah plato (dataran tinggi) yang terdiri atas Plato Fauta Jallon di bagian barat serta Plato Jos, Adamaous, Banga, Kata, Tibesi, dan Kamerun. Bagian yang ketiga merupakan wilayah *Great Rift Valley* (Lembah Retak Besar) yang memanjang dari Anatolia hingga ke Danau



Malawi melewati Lembah Yordan, Laut Mati, Danau Turkana, dan Danau Victoria. Bagian keempat ialah kawasan ledok atau basin yang membentuk daerah aliran sungai, rawa, serta gurun seperti basin Niger, Kongo, Kalahari, dan *Chad*. Adapun bagian kelima adalah dataran pantai di luar lingkup plato.

Gunung tertingginya adalah Gunung Kilimanjaro ( $\pm 6.010$  m) terdapat di Tanzania, selain itu terdapat Gunung Kenya, Gunung Marrah, Gunung Ruwensori, dan Gunung Elgon. Gurun pasir di Afrika terdapat di bagian utara dan bagian selatan. Di Afrika bagian utara terdapat Gurun Sahara dan Gurun Libia, sedangkan di bagian selatan terdapat Gurun Kalahari dan Gurun Namib.

Sungai-sungai besar yang mengalir di wilayah Afrika antara lain Sungai Nil, yang merupakan sungai terpanjang di dunia (6.690 km), Sungai Kongo, Sungai Niger, Sungai Limpopo, Sungai Zambezi, dan Sungai Orange.

Danau-danaunya antara lain Danau Victoria, Danau Tanganyika, Danau Nyasa, Danau Chad, dan Danau Nasser.

b. Iklim

Sebagian besar wilayah Afrika beriklim tropis, kecuali bagian paling utara dan paling selatan. Di kedua wilayah tersebut, iklim mulai memasuki zona subtropis. Keadaan iklim tersebut disebabkan oleh wilayah yang sangat luas dan dipagari plato.

Kondisi iklim dan keadaan alam sangat memengaruhi persebaran tumbuhan dan hewan yang hidup di Afrika. Karena itu, tumbuhan yang hidup di Afrika merupakan gabungan antara tumbuhan hujan tropis seperti beberapa jenis lumut, tumbuhan paku, semak, dan tumbuhan berdaun lebat di kawasan Afrika Tengah dan Afrika Barat. Di kawasan utara, tumbuhan yang hidup umumnya merupakan jenis rumput, belukar dan tumbuhan berbatang lunak. Begitu pula di selatan, tumbuhan yang hidup umumnya jenis rumput, belukar, dan tumbuhan berbatang lunak. Jenis satwa yang hidup di kawasan Afrika Utara merupakan perpaduan aneka jenis hewan khas Eurasia, sedang di wilayah tengah dan selatan, umumnya jenis hewan bertubuh besar dan kuat semacam singa, gajah, hyena, burung unta, dan sebagainya.

c. Kependudukan

Pada tahun 2007, diperkirakan jumlah penduduk Afrika mencapai 936.000.000 jiwa. Kepadatan penduduk Afrika kurang lebih 31 orang per  $\text{km}^2$ . Laju pertumbuhan penduduk Afrika sangat tinggi, yaitu 2,5% per tahun. Angka kematian penduduk di Afrika merupakan yang tertinggi di antara benua-benua lain karena banyak terjadinya wabah penyakit dan peperangan.

Sebagian besar penduduk Benua Afrika adalah keturunan negro yang berkulit hitam. Hal inilah yang menyebabkan

## Wawasan Sosial

Di Ethiopia, pernah ditemukan sebuah fosil telapak kaki manusia berusia 3,9 juta tahun. Fosil tersebut merupakan fosil tertua yang menunjukkan keberadaan manusia di Bumi. Karena itu, banyak ahli yang meyakini bahwa nenek moyang manusia berasal dari Afrika.



## Tugas Bersama

Buatlah daftar negara-negara di Benua Afrika dan berilah urutan nomornya. Gambarlah peta Benua Afrika pada selembar kertas ukuran folio, lengkap dengan batas negaranya. Masukkan nomor negara dari daftar yang kamu buat ke dalam Peta Afrika tersebut. Kerjakan secara berkelompok dengan anggota empat siswa

Benua Afrika mendapat julukan *Benua Hitam*. Bangsa Negro di Afrika dikelompokkan menjadi dua golongan yaitu Negro Sudan dengan ciri kulit hitam, bibir tebal, dan rambut keriting, golongan kedua adalah Negro Bantu dengan ciri seperti Negro Sudan tetapi kulitnya lebih terang. Secara garis besar penduduk Afrika digolongkan menjadi empat kelompok besar sebagai berikut.

- 1) *Ras Negro* yang mendiami sebelah selatan Gurun Sahara merupakan penduduk mayoritas. Ras negro ini terdiri atas beberapa suku bangsa seperti Suku Masai, Suku Kikuyu, Suku Zulu, Suku Sudan, dan Suku Bantu.
- 2) *Ras Kaukasoid* dari keturunan Arab yang mendiami Afrika Utara. Ras ini terdapat di sepanjang pantai Laut Tengah dan terdiri atas dua suku bangsa yaitu suku bangsa Semit dan suku bangsa Hamid.
- 3) *Ras Kaukasoid* dari keturunan Eropa dengan kulit putih, keturunan Eropa ini jumlahnya sedikit dan banyak tinggal di Afrika Selatan.
- 4) *Suku pribumi* merupakan penduduk asli yang banyak tinggal di daerah-daerah pedalaman. Suku pribumi terdiri atas *Suku Pygmy* di hutan Kongo, *Suku Bushman* di Gurun Kalahari, dan *Suku Hottentot* di Afrika Selatan.

Bahasa yang paling banyak digunakan di Afrika ialah bahasa *Swahili* sekaligus sebagai bahasa pemersatu penduduk Afrika. Kemudian disusul oleh bahasa Arab yang dipakai oleh hampir seluruh penduduk Afrika Utara.

Penduduk Afrika menganut beragam agama. Di kawasan Afrika Barat dan Utara, Islam menjadi agama yang dominan. Di kawasan Afrika Selatan, Kristen menempati posisi pertama jumlah pemeluk agama di atas Islam dan sedikit Hindu. Di kawasan Afrika Tengah, jumlah penganut terbanyak ialah kaum yang memiliki kepercayaan animisme di atas jumlah pemeluk Islam. Adapun di kawasan Afrika Timur, penganut Islam dan kepercayaan animisme hampir sama banyaknya. Agama lain yang dianut oleh penduduk Afrika ialah sedikit Yahudi, dan Katolik Roma.

### d. Perekonomian

Aktivitas pertanian di sebagian besar wilayah Afrika didominasi oleh pertanian. Pertanian di Afrika umumnya digiatkan di sekitar daerah aliran sungai seperti Sungai Nil. Benua Afrika memiliki barang tambang yang berlimpah dengan hasil utamanya antara lain intan, yang memasok 98% dari hasil dunia, emas (35%) mangan (25%), tembaga (20%), dan minyak bumi yang banyak terdapat di Afrika Utara dan Afrika Barat. Selain itu, aktivitas perekonomian juga mengandalkan hasil kehutanan seperti kayu dan kulit binatang.



e. Negara-Negara di Benua Afrika

Berikut ini data negara-negara di Benua Afrika.

**Tabel 6.3** Negara-negara di Benua Afrika

Kawasan	Negara	Ibu Kota	Luas (km <sup>2</sup> )	Bentuk Pemerintahan
Afrika Utara	Aljazair	Algier	2.381.741	Republik
	Mesir	Kairo	1.001.449	Republik
	Libya	Tripoli	1.759.540	Kerajaan militer
	Maroko	Rabbat	446.550	Kerajaan berkonstitusi
	Sudan Timur	El Khartoum	2.505.810	Republik
	Tunisia	El Tunis	163.610	Demokrasi berkonstitusi
	Sahara Barat	El Ai'um	252.126	(di bawah Maroko)
Afrika Barat	Benin	Porto Novo	112.662	Militer
	Burkina Faso	Ouagadougou	274.000	Republik
	Gambia	Banjul	11.295	Republik
	Ghana	Accra	238.533	Republik
	Guinea	Konakri	2455.857	Republik
	Guinea-Bissau	Bissau	36.125	Republik
	Mali	Bamako	1.240.192	Republik
	Mauritania	Novakchott	1.025.520	Republik Islam
	Niger	Niamey	1.267.000	Republik
	Nigeria	Abuja	923.768	Republik
	Senegal	Dakkar	196.722	Republik
	Sierra Leon	Free Town	71.740	Militer
	Togo	Lome	56.785	Republik
Afrika Timur	Burundi	Bujumbora	27.834	Militer
	Djibouti	Djibouti	23.200	Republik demokrasi
	Ethiopia	Adis Ababa	1.104.302	Republik Federasi
	Kenya	Nairobi	280.367	Republik
	Madagaskar	Antananarivo	587.041	Republik
	Malawi	Lilongwe	118.484	Republik
	Mauritus	Port Louis	2.040	Republik
	Mozambik	Mapoto	801.590	Republik
	Rwanda	Kigali	26.338	Republik
	Seychelles	Victoria	455	Republik
	Somalia	Mogadishu	637.657	Republik
	Tanzania	Dodoma	883.749	Republik
	Uganda	Kampala	241.038	Republik
	Zambia	Lusaka	752.618	Republik
	Zimbabwe	Harare	390.757	Republik
Afrika Tengah	Angola	Luanda	1.246.700	Republik
	Kamerun	Yaounde	475.442	Republik
	Republik Afrika Tengah	Bangui	622.984	Republik
	Chad	Njamena	1.284.000	Republik
	Kongo	Brazzaville	342.000	Republik
	Republik Demokratik Kongo	Kinshasha	2.344.855	Republik
	Guinea Khatulistiwa	Malabo	28.051	Republik
	Gabon	Libreville	267.668	Republik
	Sao Tome & Principe	Sao Tome	964	Republik
Afrika Selatan	Botswana	Gaborone	581.730	Republik
	Lesotho	Maseru	30.355	Kerajaan berkonstitusi
	Namibia	Windhoek	824.292	Republik
	Afrika Selatan	Pretoria	1.221.038	Republik berpalemen
	Swaziland	Mbabane	17.363	Kerajaan berpalemen

**Sumber:** Geographica The Complete Illustrated World Reference.





**Gambar 6.15** Gurun Sahara di Afrika.  
**Sumber:** Microsoft Student 2008

Benua Afrika mempunyai beberapa karakteristik yang membedakan dengan benua lain, yaitu sebagai berikut.

- 1) Dikenal sebagai *Benua Hitam*.
- 2) Terdapat gunung api tertinggi di dunia, yaitu Gunung Kalimanjaro ( $\pm 6.010$  m dpal).
- 3) Terdapat sungai terpanjang di dunia yaitu Sungai Nil ( $\pm 6.690$  km).
- 4) Mempunyai gurun pasir terluas di dunia yaitu Gurun Sahara ( $\pm 8,4$  juta  $\text{km}^2$ ).
- 5) Adanya bangunan piramida yang merupakan makam raja-raja dan menjadi salah satu dari keajaiban dunia.
- 6) Adanya lalat tsetse yang menyebabkan penyakit tidur.

### 3. Benua Eropa

Eropa merupakan satu-satunya benua yang berbatasan darat dengan Asia. Luas wilayah Eropa mencapai  $10.355.000 \text{ km}^2$ . Secara astronomis, Eropa terletak pada  $9^\circ\text{BB}$ – $60^\circ\text{BT}$  dan  $80^\circ$ – $35^\circ\text{LU}$ . Secara geografis, Eropa terbagi atas empat kawasan yakni kawasan Eropa Barat, Eropa Timur, Eropa Selatan, dan Eropa Utara.

Para ahli menetapkan bahwa batas Benua Eropa ialah dengan Samudra Arktik di utara, dengan Laut Tengah di selatan, dengan Samudra Atlantik di barat, serta dengan Asia, Pegunungan Ural, Selat Dardanella, dan Laut Kaspia di bagian timur.

#### a. Keadaan Alam

Keadaan alam Eropa sangat beragam karena termasuk dalam rangkaian Pegunungan Sirkum Mediterania. Puncak tertinggi di Benua Eropa adalah Gunung Elbrus ( $5.633$  m) dan titik terendahnya Laut Kaspia yang berada pada kedalaman  $28$  meter di bawah permukaan laut. Secara garis besar keadaan alam Benua Eropa dikelompokkan menjadi empat sebagai berikut.

##### 1) Pegunungan Tinggi Selatan

Bagian selatan Benua Eropa didominasi oleh Pegunungan Alpen dengan puncaknya Gunung Mount Blanc ( $4.813$  m). Pegunungan ini membentang dari Spanyol sampai Pegunungan Kaukasus. Rangkaian pegunungan Alpen meliputi Pegunungan Pyrena antara Spanyol dengan Prancis, Pegunungan Ural antara Eropa dengan Asia, dan Pegunungan Kaukasus antara Laut Hitam dan Laut Kaspia.

##### 2) Dataran Rendah Tengah

Sebagian besar bentang alam Eropa merupakan dataran rendah yang terletak meluas dari Lembah Garone di Prancis sampai Pegunungan Ural di Asia Timur. Negara-negara Eropa yang terletak di daerah dataran rendah ini antara lain Prancis, Belanda, Luksemburg, Belgia, Jerman, Polandia, dan Rusia.

##### 3) Dataran Tinggi Tengah

Dataran ini terletak di antara dataran rendah tengah dengan Pegunungan Alpen di bagian selatan. beberapa dataran tinggi yang terletak di wilayah ini antara lain



#### Wawasan Sosial

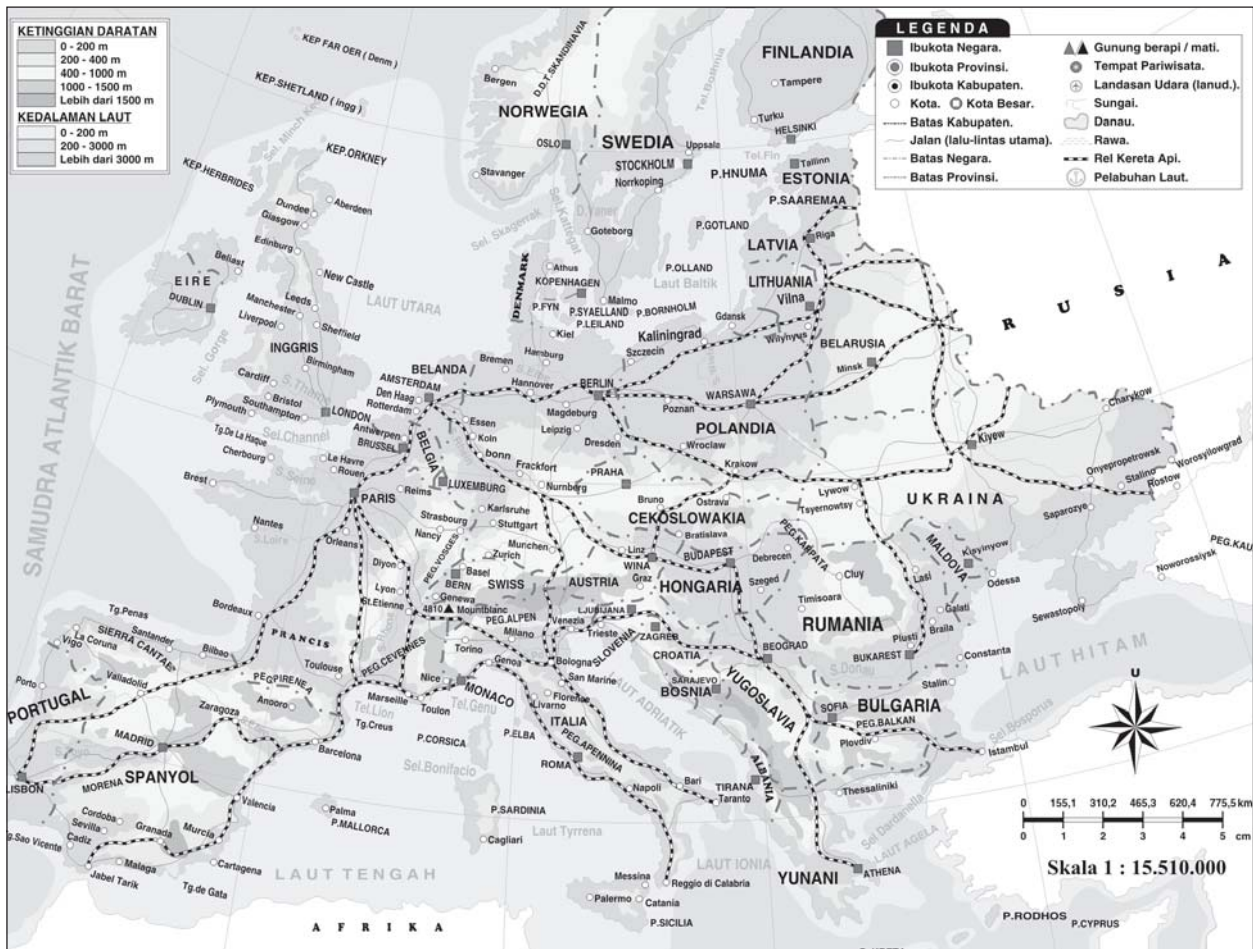
Seluruh negara Eropa terletak di posisi Lintang Utara. Rusia merupakan negara Eropa yang sebagian kecil wilayahnya berada di Asia. Sementara, Turki merupakan satu-satunya negara Asia yang sebagian kecil wilayahnya berada di Eropa.



Dataran Tinggi Meseto (Spanyol), Dataran Tinggi Masif Tengah (Prancis), Dataran Tinggi Ardenes (Belgia), Dataran Tinggi Vosges (Prancis).

#### 4) Dataran Tinggi Barat Laut

Dataran tinggi ini membentang dari Prancis bagian barat melalui Kepulauan Inggris, Skandinavia (Norwegia dan Skotlandia).



**Gambar 6.16** Peta Benua Eropa  
**Sumber:** Atlas Dunia Buana Raya

Rangkaian pegunungan yang terdapat di Eropa merupakan sumber mata air bagi sungai-sungai besar yang mengalir di daratan Eropa.

Berdasarkan arah aliran dan tempat bermuaranya, sungai-sungai besar di Eropa dikelompokkan menjadi lima yaitu sebagai berikut.

- 1) Sungai-sungai yang bermuara ke Laut Tengah yaitu Sungai Ebre (Spanyol), Sungai Rhone (Prancis), dan Sungai Po (Italia).
- 2) Sungai-sungai yang bermuara ke arah barat (Samudra Atlantik) yaitu Sungai Seine, Sungai Rhein, Loire (Prancis), dan Sungai Guadiana (Portugal).





**Gambar 6.17** Tanaman khas Eropa adalah berdaun jarum atau konifer.

**Sumber:** Microsoft Student 2008

- 3) Sungai-sungai yang bermuara ke laut utara yaitu Sungai Wesser dan Sungai Elbe (Jerman), Sungai Oder, Sungai Vistula (Polandia).
- 4) Sungai yang bermuara ke Laut Kaspia yaitu Sungai Volga (sungai terpanjang di Eropa).
- 5) Sungai yang bermuara ke Laut Hitam yaitu Sungai Donau (Rumania).

#### b. Iklim

Sebagian besar wilayah Eropa beriklim subtropis, kecuali bagian paling selatan. Hal ini disebabkan oleh posisinya yang berada di atas garis balik utara. Iklim tersebut turut dipengaruhi oleh keberadaan pegunungan dan lautan yang melingkari setengah bagian Eropa.

Kondisi iklim dan keadaan alam Eropa sangat berpengaruh terhadap persebaran tumbuhan dan hewan yang hidup di wilayah ini. Jenis tumbuhan yang hidup di Eropa merupakan jenis tumbuhan tundra, berbagai jenis rumput pendek, dan lumut di kawasan utara. Hewan yang hidup di daerah itu ialah hewan-hewan khas subtropis seperti serigala dan rusa kutub. Di kawasan bagian selatan, banyak tumbuh jenis-jenis cemara dan tumbuhan berdaun jarum lainnya. Di kawasan tersebut hidup satwa-satwa bertubuh kecil seperti rubah dan landak. Adapun di lereng-lereng pegunungan Eropa Tengah banyak ditumbuhi oleh hutan gugur daun.

#### c. Kependudukan

Pada tahun 2007, diperkirakan jumlah penduduk Eropa mencapai 727.000.000 jiwa. Kepadatan penduduk Eropa rata-rata 71 orang per km<sup>2</sup>. Laju pertumbuhan penduduk Eropa sangat rendah bahkan kurang dari 1%, yaitu hanya 0,2% per tahun. Usia harapan hidup penduduk Eropa adalah 75 tahun dan merupakan yang tertinggi di antara benua-benua lainnya karena tingginya tingkat kesejahteraan.

Penduduk Eropa sangat beragam, namun sebagian besar penduduknya termasuk keturunan induk bangsa Kaukasoid yang terbagi menjadi beberapa suku bangsa.

Berdasarkan ras dan ciri fisiknya, penduduk Eropa dikelompokkan menjadi lima suku bangsa, yaitu sebagai berikut.

- 1) Bangsa Nordik. Ciri fisik suku bangsa ini rambut pirang, mata biru, tengkorak panjang, dan muka sempit. Mereka banyak tinggal di Eropa Barat dan Eropa Utara, yaitu Norwegia, Inggris, Denmark, Belanda, Swedia, Belgia, dan Jerman bagian utara.
- 2) Bangsa Alpen, dengan ciri fisik rambut hitam, mata hitam, tengkorak lebar, dan tidak terlalu tinggi. Suku bangsa ini banyak terdapat di Eropa Tengah dan Eropa Selatan, yaitu Prancis, Swiss, Polandia, Austria, dan Jerman bagian selatan.
- 3) Bangsa Mediteran, dengan ciri fisik rambut hitam, mata hitam, badan dan tengkorak menyerupai bangsa Nordik, terdapat di kawasan Eropa Selatan, yaitu Yunani, Italia, Portugis, dan Spanyol.

### Tugas Bersama

Buatlah daftar negara-negara di Benua Eropa dan berilah urutan nomornya. Gambarlah peta Benua Eropa pada selembar kertas ukuran folio, lengkap dengan batas negaranya. Masukkan nomor negara dari daftar yang kamu buat ke dalam Peta Eropa tersebut. Kerjakan secara berkelompok yang terdiri atas empat siswa.



- 4) Bangsa Slavia, dengan ciri fisik menyerupai bangsa Alpen. Mereka banyak tinggal di Eropa Timur yaitu Kroasia, Bulgaria, Serbia, Montenegro, Ceko, Rusia, Ukraina, dan Slovakia.
- 5) Bangsa Dinarik, dengan ciri rambut gelap banyak terdapat di Rumania.

Penduduk Eropa menganut beragam agama. Agama dengan jumlah pemeluk terbanyak ialah Katolik Roma yang pemeluknya tersebar di Prancis, Spanyol, Portugal, Italia, Irlandia, Belgia, Jerman bagian selatan, dan Polandia. Kelompok terbesar kedua ialah Kristen Protestan yang sebagian besarnya berada di negara-negara Eropa Utara dan Eropa Tengah seperti Inggris, Skotlandia, Jerman bagian utara, Belanda, dan negara-negara Skandinavia. Kelompok terbesar ketiga adalah pemeluk Kristen Ortodoks yang umumnya tinggal di Rusia, Ukraina, Belarusia, Yunani, Bulgaria, Rumania, serta Serbia dan Montenegro. Kemudian di hampir setiap negara Eropa terdapat banyak komunitas pemeluk Yahudi dengan jumlah terbanyak di Rusia. Agama Islam banyak dianut oleh penduduk Eropa Timur. Di Bosnia dan Albania, Islam merupakan agama dengan jumlah pemeluk terbanyak, sedangkan di negara Jerman, Prancis, dan Belanda, Islam menjadi agama dengan jumlah pemeluk terbanyak kedua.

#### d. Perekonomian

Aktivitas ekonomi di sebagian besar wilayah Eropa bertumpu pada industri. Beberapa negara Eropa telah menjadi negara industri maju. Jenis industri yang berada di Eropa sangat beragam. Industri utamanya meliputi pembuatan dan perakitan kendaraan, alat elektronika, pengolahan minyak, makanan, dan pakaian.

Selain industri, pertanian Eropa pun berkembang tak kalah pesatnya. Jenis tanaman yang ditanam di Eropa meliputi gandum, jagung, kentang, dan buah-buahan. Pertanian biasanya dilakukan secara terpadu bersama peternakan yang memberikan hasil melimpah dalam bentuk daging, kulit, susu, keju, mentega, dan benang wol.

Di samping itu, Eropa merupakan kawasan yang memiliki cadangan bahan tambang dalam jumlah banyak. Karena itu, pertambangan juga berkembang pesat. Beberapa hasil tambang Eropa meliputi batubara, bijih besi, perunggu, mangan, nikel, dan potasium.

#### e. Karakteristik Benua Eropa

Berikut beberapa karakteristik Benua Eropa.

- 1) Sebagian besar penduduknya keturunan kulit putih.
- 2) Terdapat keajaiban dunia yang berupa menara yaitu Menara Eiffel (Prancis) dan Menara Pisa (Italia).
- 3) Asal dari bahasa yang digunakan secara internasional yaitu bahasa Inggris.
- 4) Pusat olahraga sepak bola dunia.
- 5) Pusat mode dunia yaitu di Paris dan Milan.



**Gambar 6.18** Penduduk Eropa rata-rata tingkat kesejah-teraanannya tinggi.

**Sumber:** *Geographica the complete illustrated world reference.*



- 6) Tempat tokoh-tokoh penjelajah dunia.
- 7) Pelopor dalam penemuan dan ilmu pengetahuan, serta teknologi.
- 8) Tempat lahirnya ideologi-ideologi kapitalisme, kolonialisme, imperialisme, sosialisme, liberalisme, dan komunisme.

f. Negara-Negara di Benua Eropa

Berikut ini data negara-negara di Benua Eropa.

**Tabel 6.4** Negara-negara di Benua Eropa

Kawasan	Negara	Ibu Kota	Luas (km <sup>2</sup> )	Bentuk Pemerintahan
Eropa Utara	Denmark	Kopenhagen	43.094	Kerajaan
	Finlandia	Helsinki	338.145	Republik
	Islandia	Reykjavik	70.273	Republik
	Norwegia	Oslo	386.964	Kerajaan
	Swedia	Stockholm	449.964	Kerajaan
Eropa Barat	Belgia	Brussel	30.519	Kerajaan
	Inggris	London	242.900	Kerajaan berkonstitusi
	Prancis	Paris	551.500	Parlementer
	Irlandia	Dublin	70.284	Republik
	Perancis	Paris	551.500	Parlementer
	Jerman	Berlin	356.980	Republik Federasi
	Liechtenstein	Vaduz	160	Kerajaan berkonstitusi
	Luxemburg	Luxemburg	2.586	Kerajaan berkonstitusi
Eropa Timur	Belanda	Amsterdam	41.447	Kerajaan berkonstitusi
	Belarusia	Minsk	207.600	Republik
	Bulgaria	Sofia	110.912	Republik
	Moldova	Chisinau	33.700	Republik
	Estonia	Tallin	45.100	Republik
	Latvia	Riga	64.600	Republik
	Lithuania	Vilnius	65.200	Republik
	Rumania	Bukares	239.391	Republik
	Rusia	Moskow	17.075.400	Federasi
	Ukraina	Kiev	603.700	Parlementer
Eropa Selatan	Georgia	Tbilisi	69.700	Republik
	Andorra	Andorra	468	Kepangeranan
	Albania	Tirana	28.748	Parlementer
	Bosnia-Herzegovina	Sarajevo	51.129	Federasi
	Kroasia	Zagreb	56.538	Republik
	Yunani	Athina	131.957	Republik
	Italia	Roma	301.268	Republik
	Macedonia	Skopje	25.713	Republik
	Malta	La Valletta	316	Republik
	Monako	Monako	1,9	Kerajaan
	Portugal	Lisabon	88.941	Republik
	San Marino	San Marino	61	Republik
	Slovenia	Ljubljana	20.296	Republik
	Spanyol	Madrid	505.992	Kerajaan Berparlementer
	Serbia & Montenegro	Beograd	102.173	Republik
Eropa Tengah	Austria	Vienna	83.859	Republik
	Swiss	Bern	41.284	Republik federasi
	Hungaria	Budapest	93.032	Republik Eropa Selatan
	Polandia	Warsawa	323.250	Republik
	Slovakia	Bratislava	603.700	Parlementer

**Sumber:** *Geographica The Complete Illustrated World Reference*



#### 4. Benua Amerika

Amerika merupakan benua terbesar kedua setelah Asia. Luas wilayah Amerika mencapai 42.057.100 km<sup>2</sup>. Secara astronomis, Amerika terletak pada 170°–35°BB dan 83°LU–55°LS. Secara geografis, Amerika terbagi atas empat kawasan yakni kawasan Amerika Selatan, Amerika Utara, Amerika Tengah dan Kepulauan Karibia yang terletak di sekitar Amerika bagian tengah.

Benua Amerika pertama kali ditemukan oleh penjelajah dari Eropa bernama Christopher Columbus pada tahun 1492 yang mendarat di Pulau San Salvador bagian dari Kepulauan Bahama. Penjelajah lain yang berjasa mempopulerkan benua baru ke Benua Eropa adalah Amerigo Vespucci yang merupakan bangsawan dari Italia. Untuk mengenang jasa-jasa Amerigo Vespucci maka namanya diabadikan sebagai nama benua baru tersebut Benua Amerika.

Selain tokoh-tokoh tersebut, penjelajah lain yang ikut menemukan benua baru ini adalah De Maire dari Belanda yang menemukan Tanjung Horn di selatan pada tahun 1615, dan Fernando de Magellaens yang menemukan selat di ujung selatan Amerika yang diberi nama Selat Magellaens.

Para ahli menetapkan bahwa batas Benua Amerika ialah dengan Samudra Arktik di utara, dengan Laut Weddel, Samudra Atlantik, dan Samudra Pasifik di selatan, dengan Samudra Atlantik di timur, serta dengan Samudra Pasifik di barat.

##### a Keadaan Alam

Keadaan alam Benua Amerika dibagi menjadi tiga wilayah yaitu Amerika Utara, Amerika tengah, dan Amerika Selatan.

##### 1) Keadaan alam Amerika Utara

Wilayahnya membentang dari Alaska di bagian utara sampai perbatasan dengan Meksiko di bagian selatan. Secara garis besar keadaan alamnya dibagi tiga, sebagai berikut.

##### a) Bagian barat

Sebagian besar berupa pegunungan kompleks yaitu rangkaian Pegunungan Rocky yang terdiri atas Pegunungan Cascade, Pegunungan Sierra Madre Barat, dan Sierra Madre Nevada. Puncak tertingginya adalah Gunung Mc. Kinley (5.195 m) terdapat di Alaska. Di komplek Pegunungan Rocky terdapat daerah yang kering yaitu Great Basin. Selain itu juga terdapat ngarai yang sangat luas dan terbesar di dunia yaitu *Grand Canyon* yang terbentuk oleh aliran Sungai Colorado.

##### b) Bagian tengah

Keadaan alam Amerika utara bagian tengah yang terletak di sebelah timur kompleks Pegunungan Rocky merupakan dataran rendah yang sangat luas

#### Wawasan Sosial

Amerika baru dimasukkan dalam peta dunia pada abad ke-15 setelah ekspedisi yang dilakukan oleh para pelaut Eropa berhasil tiba di benua tersebut. Nama Amerika diambil dari nama Amerigo Vespucci, seorang pelaut Italia yang menemukan bahwa Amerika merupakan sebuah benua. Sebelumnya, seorang pelaut Spanyol yang bernama Cristopher Colombus mendarat di Amerika pada 1492 dan menyatakan bahwa Amerika merupakan daratan yang merupakan bagian dari Benua Asia.

#### Tugas Bersama

Buatlah daftar negara-negara di Benua Amerika dan berilah urutan nomornya. Gambarlah peta Benua Amerika pada selembar kertas ukuran folio, lengkap dengan batas negaranya. Masukkan nomor negara dari daftar yang kamu buat ke dalam peta tersebut. Kerjakan secara berkelompok yang terdiri atas empat siswa





### Wawasan Sosial

Ada tiga negara di benua Amerika yang dilewati oleh garis khatulistiwa, yakni Brasil, Kolombia, dan Ekuador. Brasil merupakan negara terluas di Amerika Selatan dan merupakan negara yang memiliki keanekaragaman hayati terbesar di dunia, di atas Indonesia. Adapun Chile merupakan negara Amerika yang wilayahnya berada di bagian paling selatan.

dan subur. Di bagian ini banyak dijumpai sungai-sungai besar antara lain Sungai Missisipi, Sungai Missouri, Sungai Arkansas, Sungai Colorado, dan Sungai Rio Grande yang menjadi batas utara Meksiko dengan Amerika Serikat.

Selain itu juga terdapat danau-danau besar antara lain Danau Superior, Danau Michigan, Danau Huron, Danau Eyre, dan Danau Ontario. Antara Danau Eyre dengan Danau Ontario terdapat air terjun terbesar di dunia yaitu Air Terjun Niagara.

c) Bagian timur

Keadaan alam di bagian ini, didominasi oleh dua kenampakan alam yang utama yaitu Pegunungan Allaghy dan Pegunungan Appalachia serta Dataran Rendah Great Lakes St. Lawrence.

2) Keadaan Alam Amerika Tengah

Keadaan alam Amerika Tengah secara geologi sangat rumit dan tidak teratur. Di bagian ini didominasi oleh plato dan pegunungan. Plato yang terkenal adalah Plato Meksiko dengan rata-rata ketinggian 2.500 m. Di bagian selatan wilayah ini terdapat Tanah Genting Panama dan Tanah Genting Tehuantepec. Pada Tanah Genting Panama dibuat terusan yang menghubungkan Samudra Pasifik dengan Samudra Atlantik.

3) Keadaan Alam Amerika Selatan

Keadaan alam di wilayah ini dapat dibagi menjadi tiga yaitu pegunungan, dataran tinggi, dan dataran rendah.

a) Pegunungan

Rangkaian pegungannya adalah Pegunungan Andes yang membentang dari utara ke selatan dengan puncak tertingginya Gunung Aconcagua (6.959 m), dan merupakan puncak tertinggi di Benua Amerika.

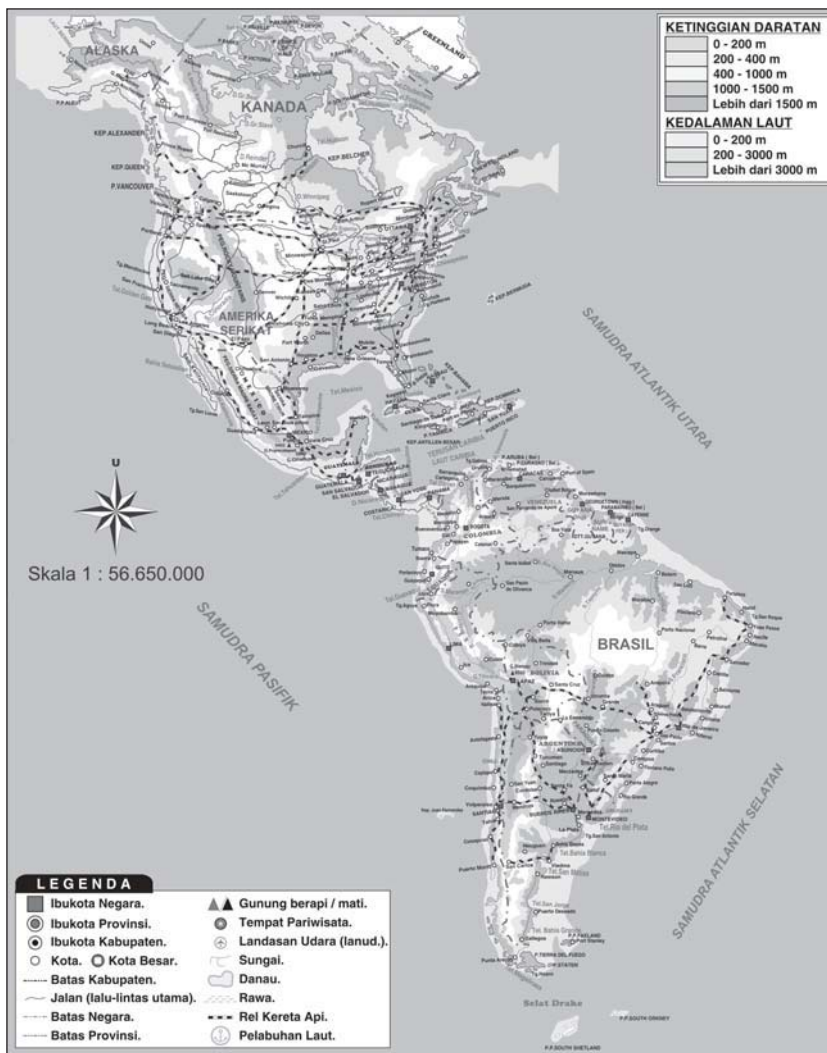
b) Dataran tinggi

Dataran tinggi utama di kawasan Amerika Selatan adalah Dataran Tinggi Guyana, Dataran Tinggi Patagonia, dan Dataran Tinggi Brasil. Dataran Tinggi ini merupakan mata air dari beberapa sungai besar yaitu Sungai Amazon, Sungai Orinoco, Sungai Mazaruni, dan Sungai Essequibe.

c) Dataran rendah

Dataran rendahnya berada di sekitar lembah-lembah sungai besar, yaitu Sungai Amazon, dan Sungai Orinoco dengan anak-anak sungainya. Daerah ini merupakan dataran rendah yang luas dan subur, sebagian besar tertutup oleh Hutan Amazon yang sangat luas. Di lembah Sungai Amazon terdapat daerah yang mempunyai curah hujan tertinggi di dunia yang disebut *selvas*.





**Gambar 6.19** Peta Benua Amerika  
**Sumber:** Atlas Dunia Buana Raya

#### b. Keadaan Iklim

Benua Amerika memiliki iklim yang beragam, berdasarkan letak setiap kawasan. Keempat iklim di Benua Amerika tersebut adalah sebagai berikut.

- 1) Iklim kutub, yakni iklim yang berciri musim dingin yang panjang dan musim panas yang sangat pendek. Iklim ini memengaruhi daerah paling utara.
- 2) Iklim subtropis, yakni iklim yang berciri adanya empat musim. Empat musim tersebut ialah musim dingin, semi, panas, dan gugur. Iklim ini meliputi kawasan sebelah selatan kawasan paling utara.
- 3) Iklim tropis, yakni iklim yang berciri curah hujan tinggi, kelembapan tinggi, dan suhu yang panas sepanjang tahun. Iklim tropis meliputi sebagian besar kawasan Amerika Tengah dan Amerika Selatan.
- 4) Iklim gurun, yakni iklim yang berciri perubahan suhu yang selalu berubah-ubah dengan cepat serta curah hujan



yang rendah. Iklim ini meliputi kawasan-kawasan yang berada di balik pegunungan.

Kondisi iklim dan keadaan alam Amerika sangat dipengaruhi oleh posisinya yang memanjang dan luas. Persebaran tumbuhan dan hewan yang hidup di benua ini pun dipengaruhi oleh keanekaragaman iklim tersebut, sehingga tumbuhan dan satwa memiliki jenis yang beragam. Benua Amerika merupakan benua yang menyimpan keanekaragaman hayati terbanyak di antara benua-benua lainnya.

c. Kependudukan

Suku Indian merupakan penduduk asli Amerika. Namun jumlah mereka terus menyusut karena terus terdesak oleh perkembangan orang-orang kulit putih yang berdatangan ke Amerika sejak abad ke-15. Pada tahun 2007, diperkirakan jumlah penduduk Amerika mencapai 904.000.000 jiwa. Kepadatan penduduk Amerika mencapai 20,5 orang per km<sup>2</sup>. Laju pertumbuhan penduduk Benua Amerika tergolong sedang, yakni 0,9% per tahun.

Penduduk Amerika terdiri atas penduduk asli, penduduk pendatang, dan penduduk campuran. Penduduk aslinya adalah suku Eskimo dan Indian. Suku bangsa Eskimo banyak tinggal di Amerika bagian utara dengan mata pencaharian utamanya berburu dan menangkap ikan. Rumah tempat tinggalnya disebut *iglo*.

Penduduk pendatangnya berasal dari berbagai benua yang terdiri atas tiga ras utama, yaitu Ras Negroid dari Afrika, Ras Mongolia dari Asia, dan Ras Kaukasoid yang berkulit putih dari Eropa. Dalam perkembangannya penduduk pendatang dan penduduk asli saling berbaur hidup bersama sehingga dapat dijumpai adanya penduduk campuran. Penduduk campuran yang tinggal di Benua Amerika antara lain bangsa Mulat percampuran Negro dengan Eropa (kulit putih), Bangsa Mestis percampuran antara kulit putih dengan Indian, Zambo yaitu percampuran antara kulit berwarna (Asia) dengan kulit putih.

Penduduk Amerika menganut beragam agama. Agama dengan jumlah pemeluk terbanyak ialah Katolik Roma yang pemeluknya tersebar di seluruh kawasan Amerika Selatan. Di Amerika Utara, banyak pemeluk agama Kristen Protestan. Agama lainnya yang dipeluk oleh penduduk Amerika meliputi Yahudi, Islam, Hindu, Buddha, Kong Hucu, serta kepercayaan animisme yang masih banyak dianut oleh suku Indian.

d. Perekonomian

Di kawasan Amerika Utara, aktivitas ekonomi bertumpu pada industri. Amerika Serikat dan Kanada di utara merupakan negara-negara industri maju. Jenis industri di Amerika Utara sangat beragam, yang paling utama ialah pengolahan makanan, pakaian, pembuatan kendaraan, alat elektronik, dan pengolahan minyak.



**Gambar 6.20** Suku bangsa Mestis di Ekuador.

**Sumber:** Microsoft Student 2008



Berbeda dengan kawasan utara, di kawasan selatan, pertanian lebih berkembang secara dominan. Jenis tanaman yang ditanam meliputi kopi, teh, lada, kapas, gandum, jagung, kentang, sayuran, dan buah-buahan. Selain pertanian, peternakan juga digiatkan untuk memperoleh hasil dalam bentuk daging, kulit, susu, keju, mentega, dan benang wol.

Amerika juga merupakan kawasan yang kaya akan cadangan bahan tambang. Pertambangan berkembang pesat terutama di kawasan Amerika utara. Beberapa hasil tambang Amerika meliputi minyak, timah, batubara, bijih besi, perunggu, mangan, nikel, dan uranium.

e. Karakteristik Benua Amerika

Benua Amerika mempunyai beberapa karakteristik atau ciri khas yang membedakan dengan benua lain, yaitu sebagai berikut.

- 1) Grand Canyon, merupakan ngarai terluas di dunia.
- 2) Air terjun Niagara yang berada di antara Danau Eyre dengan Danau Ontario serta air terjun Guatia antara Brasil dengan Paraguay merupakan air terjun terbesar di dunia dilihat dari volume airnya.
- 3) Tempat markas besar PBB di New York.
- 4) Mata uang dollar Amerika dijadikan mata uang standar dunia.
- 5) Industri perfilman terbesar di dunia yaitu di Hollywood.
- 6) Terusan Panama yang menghubungkan dua samudra besar yaitu Samudra Pasifik dan Samudra Atlantik.
- 7) Sungai Amazon merupakan sungai yang terluas di dunia.
- 8) Penghasil kopi terbesar dunia terutama Brasil (raja kopi dunia).
- 9) Air terjun Angel di Venezuela merupakan tertinggi di dunia ( $\pm 1.000$  m).

f. Negara-negara di Benua Amerika

Berikut ini negara-negara di Benua Amerika.



**Gambar 6.21** Grand Canyon terbentuk oleh aliran Sungai Colorado.

**Sumber:** Microsoft Student 2008

**Tabel 6.5** Negara-negara di Benua Amerika

Kawasan	Negara	Ibu Kota	Luas (km <sup>2</sup> )	Bentuk Pemerintahan
Amerika Utara	Amerika Serikat	Washington D.C.	9.363.563	Federasi Kerajaan Berkonstitusi Republik
	Kanada	Ottawa	9.970.610	
	Meksiko	Mexico City	1.958.201	
Amerika Tengah	Belize	Belmopan	22.696	Parlementer Republik Republik Republik Republik Republik
	Kosta Rika	San Jose	51.100	
	El Salvador	San Salvador	21.041	
	Guatemala	Guatemala City	108.889	
	Honduras	Tegucigalpa	112.088	
	Nikaragua	Managua	130.000	
Kepulauan Karibia	Panama	Panama City	78.200	Republik Republik Kerajaan Berkonstitusi
	Bahama	Nassau	13.878	
	Bermuda	Hamilton	54	
	Barbados	Bridgetown	430	



Kawasan	Negara	Ibu Kota	Luas (km <sup>2</sup> )	Bentuk Pemerintahan
	Dominika	Roseau	751	Republik
	Grenada	Saint George	344	Kerajaan Berkonstitusi
	Antigua dan Barbuda	Saint Johns	442	Kerajaan Berkonstitusi
	Guadaloupe	Basse-Terre	1.780	Negara bagian Prancis
	Haiti	Port-au-Prince	27.750	Republik
	Jamaika	Kingston	10.990	Kerajaan Berkonstitusi
	Kuba	Havana	110.861	Republik
	Republik Dominika	Santo Domingo	48.734	Republik
	Puerto Rico	San Juan	9.104	Persemakmuran
	Saint Vincent dan Grenadines	Kingstown	388	Kerajaan Berkonstitusi
	Trinidad dan Tobago	St. Georges	340	Kerajaan berkonstitusi
	Kepulauan Virgin	Port-of-Spain	5.130	Republik
	Inggris	Charlotte Amalie	352	Teritorial Amerika Serikat
Amerika Selatan	Argentina	Buenos Aires	2.780.400	Republik
	Bolivia	La Paz	1.098.580	Republik
	Brazil	Brazillia	8.511.965	Republik Federasi
	Chili	Santiago	756.626	Republik
	Kolombia	Bogota	1.138.914	Republik
	Ekuador	Quito	283.561	Republik
	Guyana Inggris	Georgetown	214.969	Republik
	Guyana Perancis	Cayenne	91.000	Parlementer
	Paraguay	Asuncion	406.752	Republik

Sumber: Geographica The Complete Illustrated World Reference

## 5. Benua Australia

Karakteristik Benua Australia yang membedakan dengan benua-benua lainnya adalah sebagai berikut.

- Merupakan benua terkecil di dunia.
- Benua yang hanya ditempati oleh satu negara.
- Seluruh wilayahnya terdapat di belahan Bumi selatan.
- Terdapat deretan pulau karang yang terbesar di dunia yaitu *The Great Barrier Reef* di perairan sebelah timur Australia.
- Terdapat batu granit yang terbesar di dunia yaitu *Ayers Rock*.
- Terdapat penduduk asli Aborigin yang mempunyai senjata khas *bumerang*. Senjata ini akan kembali apabila setelah dilempar tidak mengenai sasaran.
- Banyak mempunyai jenis hewan yang berkantung seperti kanguru.



Gambar 6.22 Ayer's Rock di Australia  
Sumber: Photo Image

## 6. Benua Antartika

Benua Antartika merupakan benua yang seluruh permukaan daratnya tertutup oleh lapisan es, karena benua ini terdapat di Kutub Selatan. Nama Antartika diambil dari kebalikannya nama samudra di Kutub Utara yaitu Samudra Arktik. Luas benua ini diperkirakan mencapai  $\pm 14.254.000 \text{ km}^2$  dan dikelilingi oleh tiga samudra yang luas yaitu Samudra Pasifik, Samudra Hindia, dan Samudra Atlantik. Lapisan es yang menutupi daratan di beberapa tempat mencapai ketebalan 3 km dan merupakan cadangan air tawar terbesar di dunia. Diperkirakan apabila



lapisan es ini mencair maka akan menaikkan permukaan air laut setinggi 60 meter sehingga akan menggenangi sebagian besar permukaan Bumi.

Ekspedisi ke Antartika telah dimulai sejak tahun 1773 ketika Kapten James Cook dari Inggris berlayar mengelilingi daerah Antartika. Pada tahun 1899 seorang warga dari Norwegia bernama Carsten Borchgrevink berhasil mendarat di padang es Antartika.

Pada tanggal 14 Desember 1911 seorang penjelajah Norwegia bernama Ronald Amundsen berhasil menancapkan bendera negaranya di Kutub Selatan. Sampai saat ini belum ada satu negara pun yang mempunyai Benua Antartika.

Benua Antartika bahkan dijadikan kawasan damai dan hanya untuk kepentingan penelitian. Pada tahun 1982 telah ditandatangani kesepakatan bersama 12 negara besar di dunia yang menjadikan Benua Antartika sebagai kawasan damai. Ke-12 negara tersebut adalah Australia, Argentina, Jepang, Prancis, Chile, Belgia, Amerika Serikat, Selandia Baru, Norwegia, Afrika Selatan, Rusia, dan Inggris.

Beberapa gunung yang terdapat di Benua Antartika adalah Gunung Vinson Massif yang merupakan gunung tertinggi (5.139 m), Gunung Markham, Gunung Lister, dan Gunung Erebus. Jenis binatang yang banyak dijumpai di wilayah ini adalah pinguin dan anjing laut.

Karakteristik Benua Antartika adalah sebagai berikut.

- Merupakan benua yang seluruh daratannya tertutup es.
- Benua yang tidak ditempati manusia secara permanen.
- Benua yang seluruh wilayahnya berada di lintang lebih dari  $66^{\circ}30'LS$ .
- Terdapat cadangan air tawar terbesar di dunia yang berupa lapisan es.

## 7. Samudra

Pada bagian ini, kamu akan mempelajari karakteristik beberapa samudra yang ada di dunia. Seperti telah kamu pelajari sebelumnya, samudra merupakan lautan yang berukuran sangat luas dan tidak terbelah oleh daratan. Seluruh samudra yang ada di dunia ini membentuk dua pertiga wilayah di planet bumi. Dengan mempelajari karakteristik samudra-samudra yang ada di planet ini, kamu akan dapat memahami berbagai kondisi geologis yang sangat memengaruhi kehidupan manusia di daratan. Selain itu, kamu pun akan mampu memahami potensi samudra yang dapat dikembangkan.

Berikut karakteristik empat samudra di dunia, yaitu Samudra Pasifik, Atlantik, Hindia, dan Arktik.

### a. Samudra Pasifik

Samudra Pasifik merupakan samudra terluas dan terdalam yang memiliki luas sekitar 179.7000.000 km<sup>2</sup>. Samudra Pasifik berbatasan dengan Benua Amerika di sebelah timur,

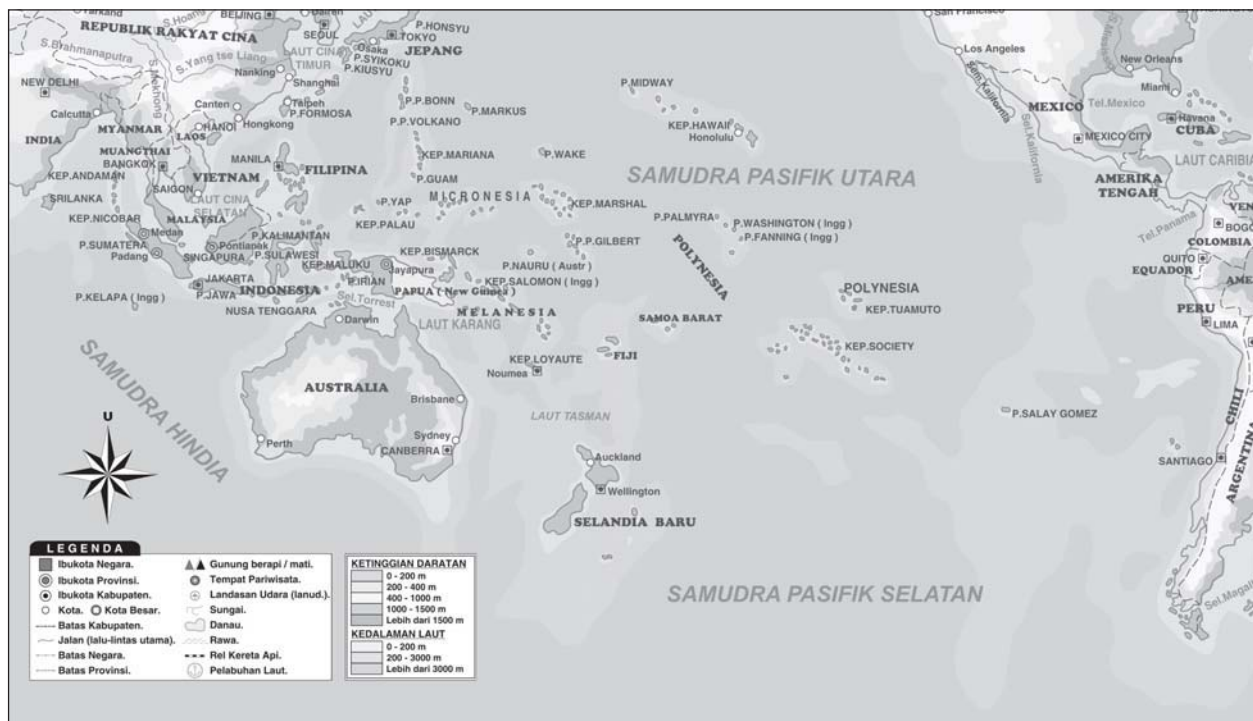


**Gambar 6.23** Taylor Valley di Antartika.  
**Sumber:** *Geographica The Complete Illustrated World Reference*



dengan Benua Asia dan Australia di sebelah barat, dengan Samudra Arktik di utara, dan dengan Benua Antartika di selatan. Hampir sepertiga wilayah bumi tertutupi oleh Samudra Pasifik. Setengah dari seluruh air yang ada di bumi saat ini berada di Samudra Pasifik. Dengan luas yang sangat besar tersebut, seluruh daratan di bumi yang luasnya 149.500.000 km<sup>2</sup> tidak lebih besar dari Samudra Pasifik.

Garis bujur 180<sup>0</sup> yang menjadi *batas tanggal internasional* dan batas belahan bumi barat dengan belahan bumi timur pun berada di Samudra Pasifik. Di wilayah Samudra Pasifik yang luas banyak negara kepulauan yang terbentang dari Semenanjung Kamchatka hingga ke Australia, antara lain Marianas, Micronesia, Kepulauan Solomon, Kaledonia Baru, Hawaii, dan Polinesia. Nama Pasifik yang artinya 'damai' diberikan oleh seorang pelaut Portugis, Ferdinand de Magellan pada tahun 1520.



**Gambar 6.24** Peta Samudra Pasifik  
**Sumber:** Atlas Dunia Buana Raya

#### b. Samudra Atlantik

Samudra Atlantik berada di belahan bumi bagian barat dan merupakan Samudra terluas kedua. Samudra ini memiliki luas 93.400.000 km<sup>2</sup>. Samudra Atlantik berbatasan dengan Benua Amerika di sebelah barat, dengan Benua Eropa dan Afrika di sebelah timur, dengan Samudra Arktik di utara, dan dengan Benua Antartika di selatan.

Di ujung barat Samudra Atlantik terdapat banyak negara kepulauan yang kita kenal sebagai Kepulauan Karibia. Nama



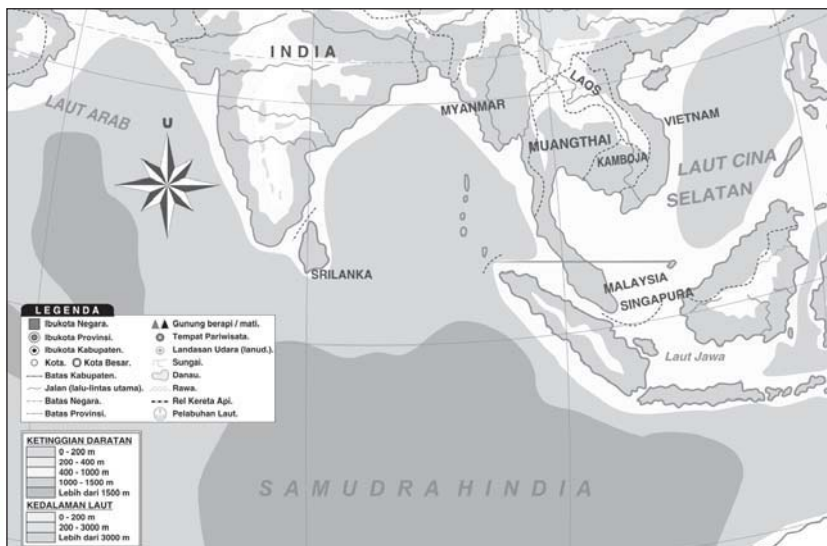
Atlantik diberikan oleh bangsa Yunani, diambil dari 'Atlas', nama salah seorang dewa raksasa bangsa Yunani.



**Gambar 6.25** Peta Samudra Atlantik  
**Sumber:** Atlas Dunia Buana Raya

### c. Samudra Hindia

Samudra Hindia merupakan tempat bermuaranya beberapa sungai penting dari daratan Asia. Tiga sungai besar di Asia yaitu Sungai Gangga, Sungai Brahmaputra, dan Sungai Indus bermuara di Samudra Hindia. Samudra Hindia memiliki luas sekitar 74.900.000 km<sup>2</sup>. Samudra Hindia berbatasan dengan Samudra Pasifik di sebelah timur, dengan Benua Afrika di barat, dengan Benua Asia di utara, dan dengan Benua Antartika di selatan.



**Gambar 6.26** Peta letak Samudra Hindia.  
**Sumber:** Atlas Dunia Buana Raya



Ada beberapa daratan yang bertebaran di Samudra Hindia, di antaranya Kepulauan Indonesia, Maladewa, Madagaskar, dan Srilangka. Selain itu, di Samudra Hindia banyak terdapat pulau vulkanik dan pulau-pulau karang termasuk atol. Nama 'Samudra Hindia' telah dipakai oleh bangsa India sejak zaman Sebelum Masehi, diambil dari kata 'Indus' untuk menunjuk Sungai Indus yang bermuara di samudra ini.

#### d. Samudra Arktik

Samudra Arktik merupakan samudra terkecil. Luasnya ialah sekitar 14.100.000 km<sup>2</sup>. Samudra Arktik merupakan tempat di mana Kutub Utara bumi berada. Hampir seluruh permukaan samudra ini membeku. Beberapa bagian hanya mencair pada bulan-bulan tertentu saja dan waktunya pun tidak lama. Samudra Arktik dibatasi oleh Benua Asia, Eropa, dan Amerika. Di beberapa bagian pinggirnya, ada beberapa laut sempit seperti Laut Siberia, Laut Beaufort, dan Laut Barents.



**Gambar 6.27** Peta letak Samudra Arktik

**Sumber:** Atlas Dunia Buana Raya



### Rangkuman

- ❖ Bentuk-bentuk muka bumi pada peta dibedakan atas dua macam, yaitu bentuk alamiah atau bentang alam dan bentuk buatan atau bentang budaya.
- ❖ Bentang alam meliputi dataran tinggi dan dataran rendah, hutan, perairan darat, perairan laut.
- ❖ Bentang buatan meliputi jalan, rel kereta api, kota, pelabuhan, bandar udara, perkebunan, permukiman.
- ❖ Bentang alam yang berupa keadaan relief bumi dapat digambarkan dengan peta kontur.
- ❖ Pola persebaran objek geografi dipengaruhi oleh bentuk bentang alam dan keadaan iklimnya.
- ❖ Permukaan bumi dibagi atas enam benua dan empat samudra.
- ❖ Keenam benua di permukaan bumi yaitu Benua Asia, Amerika, Afrika, Eropa, Australia, dan Antartika.



- ❖ Adapun keempat samudra yang ada di bumi yaitu Samudra Pasifik, Atlantik, Hindia, dan Samudra Arktik.
- ❖ Benua Asia dibagi atas lima kawasan, yaitu Asia Barat, Asia Tengah, Asia Selatan, Asia Tenggara, dan Asia Timur.
- ❖ Benua Afrika dibagi atas lima kawasan yaitu Afrika Utara, Afrika barat, Afrika Timur, Afrika Tengah, dan Afrika Selatan.
- ❖ Benua Eropa dibagi empat kawasan, yaitu Eropa Barat, Eropa Timur, Eropa Selatan, dan Eropa Utara. Seluruh wilayah Eropa terletak di lintang utara.
- ❖ Benua Amerika dibagi atas empat kawasan, yaitu Amerika Selatan, Amerika Utara, Amerika Tengah, dan Kepulauan Karibia.
- ❖ Benua Australia seluruh wilayahnya terdapat di lintang selatan.

## Refleksi

Kamu sudah belajar mengenai permukaan bumi. Sekarang berilah tanda cek (✓) pada kolom Ya atau Tidak.

No	Pernyataan	Ya	Tidak
1.	Sudahkah kamu paham warna-warna yang digunakan menggambarkan permukaan bumi pada peta?		
2.	Apakah kamu sudah memahami pembagian negara-negara di dunia berdasarkan letak benuanya?		
3.	Tahukah kamu iklim yang dimiliki Indonesia?		

## Latihan Soal

6

*Kerjakan di buku tugasmu!*

### I. Pilihlah satu jawaban yang paling tepat!

1. Bentuk-bentuk muka bumi yang diinformasikan pada peta dapat dibedakan atas dua macam, yaitu ....
  - a. bentuk pola dan bentuk alur
  - b. bentuk tinggi dan bentuk rendah
  - c. bentuk alamiah dan bentuk buatan
  - d. bentuk bangun dan bentuk ruang
2. Kenampakan di muka bumi buatan manusia dinamakan ....
  - a. bentuk buatan atau bentang budaya
  - b. bentuk alam atau bentang alam
  - c. bentuk pola atau bentuk ruang
  - d. bentuk bangun atau bentuk alur
3. Berikut ini contoh bentuk muka bumi buatan atau bentang alam buatan adalah ....
  - a. gunung
  - b. laut
  - c. danau
  - d. waduk
4. Kawasan di daratan yang relatif lebih tinggi bila dibandingkan dengan kawasan lain di suatu wilayah yang sama dinamakan ....
  - a. dataran tinggi
  - b. dataran rendah
  - c. lembah
  - d. daratan



5. Perairan darat yang ditampilkan pada peta umumnya terdiri atas beberapa kenampakan di bawah ini, *kecuali* ....
  - a. sungai
  - b. danau
  - c. selat
  - d. rawa
6. Garis pada peta yang menghubungkan kedalaman laut yang sama disebut ....
  - a. isobath
  - b. isoline
  - c. isola
  - d. isothermal
7. Batas benua Asia di bagian utara adalah ....
  - a. Selat Dardanela dan Terusan Suez
  - b. Samudra Arktik
  - c. Selat Bering dan Samudra Pasifik
  - d. Samudra Hindia
8. Iklim yang mempunyai ciri perubahan suhu yang selalu berubah-ubah dengan cepat serta curah hujan yang rendah merupakan iklim ....
  - a. tropis
  - b. subtropis
  - c. kontinental
  - d. gurun
9. Ras utama di Benua Afrika adalah ....
  - a. ras Arya
  - b. ras Kaukasoid
  - c. ras Negroid
  - d. ras Mongoloid
10. Pertanian di Asia umumnya digiatkan di sekitar ....
  - a. daerah aliran sungai
  - b. daerah rawa
  - c. daerah pegunungan
  - d. daerah pantai
11. Di Asia, pertanian berkembang pesat di negara ....
  - a. Singapura
  - b. Taiwan
  - c. Kamboja
  - d. Jepang
12. Di bawah ini negara yang berada di kawasan Asia Selatan adalah ....
  - a. Yaman
  - b. Pakistan
  - c. Qatar
  - d. Tajikistan
13. Selain bagian paling utara dan paling selatan, sebagian besar wilayah Afrika beriklim ....
  - a. subtropis
  - b. tropis
  - c. gurun
  - d. kutub
14. Pegunungan Atlas terdapat di kawasan ....
  - a. Afrika Utara
  - b. Afrika Tengah
  - c. Afrika Selatan
  - d. Afrika Barat
15. Di bawah ini merupakan kelompok-kelompok besar penduduk Afrika, *kecuali* ....
  - a. orang Arab
  - b. orang Negro
  - c. orang kulit putih
  - d. orang Cina

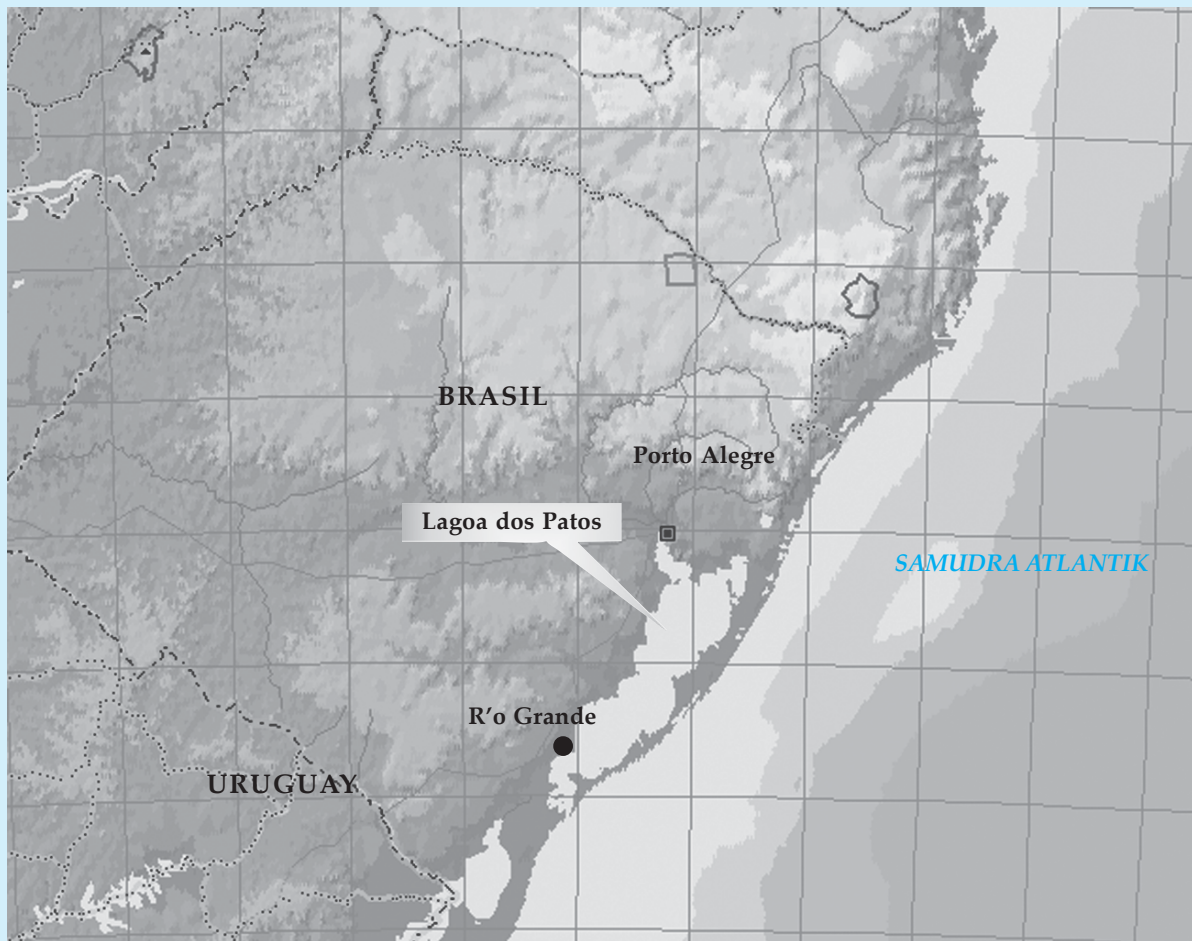
## II. Jawablah pertanyaan berikut dengan benar!

1. Sebutkan simbol-simbol yang digunakan untuk menunjukkan kenampakan alami pada peta!
2. Jelaskan yang dimaksud dengan relief muka Bumi!
3. Tuliskan faktor-faktor yang memengaruhi pola persebaran objek geografi!
4. Jelaskan pembagian benua-benua di dunia!
5. Sebutkan samudra-samudra di dunia, kemudian jelaskan tentang Samudra Hindia!



*Di bawah ini artikel tentang salah satu kenampakan alam sebagai bagian dari fenomena relief muka Bumi. Baca dan cermatilah artikel di bawah ini!*

### Di Mana Lagun-Lagun Terbesar di Dunia?



Menyebut lagun, pikiran akan langsung melayang membayangkan sebuah pemandangan yang masih asli, teluk-teluk yang tersembunyi, yang terlindung dari amarah ombak dan menawarkan pelabuhan yang aman bagi para pelaut. Namun jika dalam gambar lagun-lagun itu sangat indah, tidak demikian keadaan sesungguhnya. Kenyataannya, beberapa dari lagun-lagun itu justru menakutkan.

Lagun adalah hamparan air tenang yang terhubung dengan laut, tetapi terlindung dari badai karena adanya tumpukan pasir, batu karang memanjang, atau pulau-pulau. Lagun cenderung mengelilingi batu karang membentuk pulau karang atau memanjang sepanjang garis pantai.

Di antara lagun karang terbesar adalah satu lagun di Kaledonia Baru di selatan Samudra Pasifik yang luasnya 9.266 mil persegi. Lagun ini terlindung dari laut oleh batu karang yang memanjang 994 mil sepanjang pantai itu.



Adapun lagun bukan batu karang yang terbesar adalah Lagoa dos Patos, sebuah lagun dangkal raksasa yang terbentang di sebelah tenggara pantai Brasil. Dengan bentangan sepanjang 150 mil dan luas 4.500 mil persegi, lagun ini dipisahkan dari Samudra Atlantik oleh tumpukan pasir sepanjang 20 mil. (NYTS)

**Sumber:** Kompas, 28 Desember 2005

**Langkah-langkah mengerjakan:**

1. Bentuklah kelompok yang terdiri atas lima siswa.
2. Bacalah kutipan berita di atas dengan saksama!
3. Carilah berita atau artikel lain yang mendukung atau berkaitan dengan berita di atas!
4. Jawablah pertanyaan-pertanyaan berikut ini dengan mendiskusikannya dalam kelompokmu!
  - a. Lihatlah pada atlasmu dan carilah posisi astronomis dan geografis Lagoa dos Patos.
  - b. Ceritakan dengan bahasamu sendiri proses terbentuknya lagun!
  - c. Sesuai dengan karakteristiknya, kegiatan ekonomis apakah yang sesuai di daerah lagun?
  - d. Sebutkan minimal sepuluh nama lagun lain beserta letak negaranya. Apabila memungkinkan berilah penjelasan tentang karakteristiknya. Gunakan atlas dan sumber lain untuk mengerjakan.
5. Buatlah laporan tertulisnya untuk didiskusikan dengan kelompok lain di kelas!



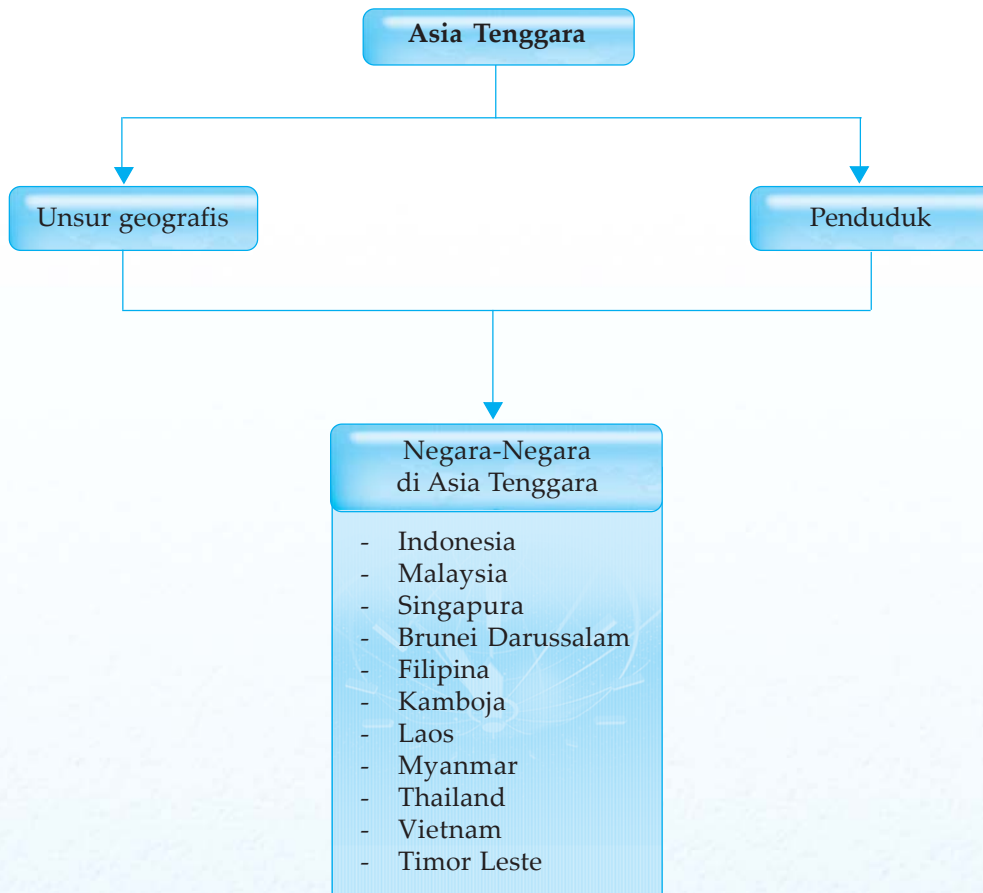
# Unsur Geografis dan Penduduk Asia Tenggara



Setiap wilayah memiliki ciri-ciri yang berbeda, baik ciri fisik maupun sosial. Begitu juga tiap negara, meskipun dalam satu kawasan. Kita akan mempelajari keterkaitan unsur-unsur geografis dan penduduk di kawasan Asia Tenggara. Negara-megara di Asia Tenggara yang akan kita pelajari meliputi Brunei Darussalam, Filipina, Kamboja, Laos, Malaysia, Myanmar, Singapura, Thailand, Vietnam, dan Timor Leste.



# Peta Konsep



## Kata Kunci

- unsur geografis
- penduduk
- Asia Tenggara



Pada bab ini, kamu akan mempelajari unsur-unsur fisik dan sosial wilayah Asia Tenggara. Pengetahuan ini sangat penting agar kamu mampu memahami segala kelebihan dan kekurangan dari potensi fisik dan sosial di kawasan ini. Negara kita, Republik Indonesia, terletak di kawasan ini. Dengan pengetahuan tersebut, kamu akan mampu memahami segala kelebihan dan kekurangan negara Indonesia bila dibandingkan negara-negara tetangga terdekatnya. Dengan pengetahuan yang kamu peroleh, diharapkan kamu mampu mengelola segala potensi yang ada dengan sebaik-baiknya demi kemajuan bangsa kita.

Unsur-unsur fisik dan sosial wilayah negara-negara di Asia Tenggara dipengaruhi oleh beberapa hal. Beberapa faktor yang memengaruhi unsur fisik dan sosial antara lain ialah letak dan luas, kondisi alam dan iklim, kependudukan, dan perekonomian.

## A. Tinjauan Umum Asia Tenggara

Asia Tenggara merupakan istilah yang digunakan untuk menyebut kawasan yang terletak di sebelah selatan kawasan Asia Timur yang terdiri atas daerah Indocina, Semenanjung Melayu, dan beberapa pulau dan kepulauan di sekitarnya. Istilah Asia Tenggara pertama kali digunakan oleh bangsa Jepang pada Perang Asia Timur Raya yang berlangsung antara tahun 1941–1945.

Wilayah Asia Tenggara berbatasan dengan Republik Rakyat Cina di sebelah utara, dengan Samudra Pasifik di sebelah timur, dengan Samudra Hindia di sebelah selatan, dan di sebelah barat dengan Teluk Bengala. Beberapa negara yang termasuk ke dalam kawasan Asia Tenggara ialah Brunei Darussalam, Myanmar (dulu bernama Burma), Kamboja, Indonesia, Laos, Malaysia, Filipina, Singapura, Thailand, Vietnam, dan Timor Leste.

Total luas kawasan Asia Tenggara sekitar 4.511.167 km<sup>2</sup>. Letak astronomisnya pada 11°LS–28,29°LU dan 92°BT–141°BT. Dengan letak astronomis tersebut, maka seluruh negara Asia Tenggara memiliki iklim tropis, kecuali Myanmar yang terletak di bagian paling utara dari kawasan ini.

Secara umum, wilayah Asia Tenggara terbagi menjadi subwilayah daratan dan kepulauan. Negara-negara yang berada di subwilayah daratan ialah Myanmar, Kamboja, Laos, Thailand, Vietnam dan sebagian wilayah Malaysia. Sementara negara-negara yang berada di subwilayah kepulauan antara lain ialah Brunei Darussalam, Indonesia, Filipina, Singapura, Timor Leste, dan sebagian wilayah Malaysia. Pada subwilayah daratan, banyak dijumpai kawasan lembah yang terbentuk dari endapan aluvial yang satu sama lainnya dipisahkan oleh rangkaian pegunungan. Di wilayah kepulauan, banyak dijumpai pantai cadas yang terjal di sisi bagian selatan dan barat.



### Wawasan Sosial

Seluruh negara di Asia Tenggara menjadi anggota ASEAN, kecuali Timor Leste. Walau begitu, Timor Leste pun sedang dalam proses untuk diterima sebagai anggota ASEAN. ASEAN dikenal sebagai organisasi regional yang kuat dan kompak.





**Gambar 7.1** Peta wilayah Asia Tenggara.

**Sumber:** Atlas Dunia Buana Raya

Kebudayaan dan kehidupan ekonomi penduduk di kawasan Asia Tenggara sangat dipengaruhi oleh alur sungai dan hutan tropis yang banyak ditemukan di kawasan ini. Hal ini terbukti dari konsentrasi kepadatan penduduk yang lebih banyak ditemukan di daerah lembah sungai seperti Sungai Mekhong di Vietnam, Sungai Chaophraya di Thailand, Sungai Irawadi di Myanmar, Sungai Musi, dan Sungai Kapuas di Indonesia.

## **B. Negara-Negara di Kawasan Asia Tenggara**

Negara-negara di Asia Tenggara berjumlah sebelas negara. Letaknya yang berada pada satu kawasan menyebabkan negara-negara di kawasan ini memiliki kemiripan ciri-ciri fisik maupun sosial.

Kesebelas negara-negara di Asia Tenggara adalah sebagai berikut.

1. Indonesia
2. Brunei Darussalam
3. Kamboja
4. Laos
5. Malaysia
6. Myanmar
7. Singapura



8. Thailand
9. Timor Leste
10. Vietnam
11. Filipina

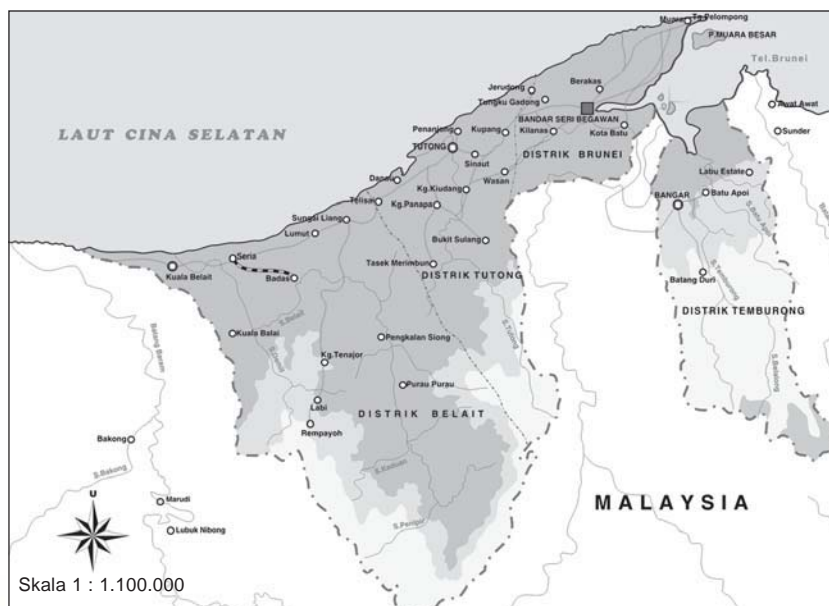
Pada pembahasan bab ini kita akan mendeskripsikan negara-negara tersebut selain Indonesia.

## C. Deskripsi Keadaan Geografis dan Penduduk Negara-Negara di Asia Tenggara

Kamu tentu bisa menyebutkan negara-negara yang terdapat di Asia Tenggara. Pengetahuan tentang keadaan fisik dan sosial negara-negara di kawasan ini penting agar kamu mengetahui keadaan negara kita dibandingkan negara-negara tetangga. Kita akan membahasnya satu persatu.

### 1. Brunei Darussalam

Negara Brunei Darussalam yang memiliki nama internasional *the Kingdom of Brunei Darussalam* beribukota di Bandar Seri Begawan. Sistem pemerintahannya ialah Kesultanan Islam. Negara ini dipimpin oleh seorang sultan yang dijabat secara turun temurun. Selain sebagai kepala negara, sultan Brunei juga merangkap sebagai perdana menteri atau kepala pemerintahan dan menteri pertahanan. Mata uang negara ini ialah *Dollar Brunei*. Brunei Darussalam mendapatkan kemerdekaannya dari penjajah Inggris pada 1 Januari 1984.



**Gambar 7.2** Peta Wilayah Brunei Darussalam.  
**Sumber:** *Atlas Dunia Buana Raya*

#### a. Letak dan Luas

Brunei Darussalam merupakan sebuah negara kecil di ujung utara Pulau Kalimantan. Secara astronomis, letaknya ialah pada  $4^{\circ}30' - 5^{\circ}LU$  dan  $114^{\circ}40' - 115^{\circ}5'BT$ . Wilayah timur,

### Wawasan Sosial

Sejak 1967 hingga sekarang, Brunei Darussalam dipimpin oleh Sultan Hassanal Bolkiah yang merupakan Sultan Brunei ke-29. Sultan Hassanal Bolkiah merupakan kepala negara yang dikagumi banyak orang karena berwajah tampan dan merupakan salah seorang terkaya di dunia.





**Gambar 7.3** Sultan Hassanal Bolkiah, Sultan Brunei ke-29

**Sumber:** Microsoft Student 2006

### Tugas Mandiri

Buatlah tabel untuk mengisikan informasi tentang Brunei Darussalam selengkapnya. Setelah selesai, diskusikan di kelas unsur-unsur geografis dan penduduk negara Brunei Darussalam dan bandingkan dengan negara kita dengan panduan guru. Perbaiki daftarmu apabila ada tambahan.



**Gambar 7.4** Mesjid Sultan Omar Ali Saifuddin, mesjid terbesar di Brunei Darussalam

**Sumber:** Microsoft Student 2006

selatan, dan barat negara ini berbatasan darat dengan Malaysia, sementara di utara, Brunei Darussalam berbatasan dengan Laut Cina Selatan. Brunei Darussalam hanya memiliki luas sekitar 5.765 km<sup>2</sup>, hampir sama dengan luas Provinsi D.I. Jogjakarta di Indonesia.

#### b. Kondisi Alam dan Iklim

Bagian barat wilayah Brunei Darussalam merupakan dataran rendah yang memiliki banyak rawa. Sementara wilayah bagian timur negara ini merupakan kawasan perbukitan dengan puncak tertinggi di Bukit Pagon. Bukit Pagon memiliki ketinggian sekitar 1.850 m.

Wilayah Brunei Darussalam dialiri oleh beberapa sungai dan anak sungai yang umumnya mengalir ke arah utara hingga bermuara ke Laut Cina Selatan, yaitu Sungai Tutong, Sungai Brunei, dan Sungai Belait. Sungai Belait merupakan sungai terpanjang di Brunei Darussalam. Dengan iklim tropis, Brunei Darussalam memiliki kelembapan dan curah hujan tinggi sepanjang tahun. Sepanjang sejarahnya, Brunei Darussalam tidak pernah mengalami kekeringan.

Karena iklim tropis tersebut, sebagian wilayah Brunei Darussalam ditutupi oleh hutan hujan tropis. Hutan-hutan di Brunei Darussalam banyak ditinggali oleh hewan-hewan khas Pulau Kalimantan seperti orangutan, beruang madu, landak, gajah, musang, rusa, lembu, siamang, dan aneka jenis burung. Kekayaan hutan hujan tropis Brunei Darussalam ditunjukkan pula dengan aneka jenis kayu hutan yang memiliki nilai jual tinggi semacam jati, ulin, dan eboni.

#### c. Kependudukan

Pada tahun 2007, diperkirakan jumlah penduduk Brunei Darussalam mencapai 386.511 orang, dengan rata-rata kepadatan penduduk 73 orang per km<sup>2</sup>. Pertumbuhan penduduk di Brunei mencapai 1,82% per tahunnya. Kurang lebih 64% penduduk Brunei adalah suku Melayu, 20% keturunan Cina dan sisanya merupakan suku Dayak, Iban, dan Belait.

Islam adalah agama resmi di negara ini dan dipeluk oleh hampir 64% penduduknya. Agama lain yang dianut oleh Penduduk Brunei Darussalam ialah Buddha (14%), Kristen (8%), dan kepercayaan animisme (15%). Bahasa yang digunakan dalam percakapan sehari-hari oleh penduduknya ialah bahasa Melayu dan bahasa Inggris. Bahasa Inggris terutama digunakan dalam pemerintahan dan perdagangan.

#### d. Perekonomian dan Komoditas Perdagangan

Pendapatan per kapita penduduk Brunei Darussalam pada tahun 2005 mencapai 17.120 Dollar AS. Pendapatan per kapita Brunei Darussalam merupakan yang kedua tertinggi di kawasan Asia Tenggara setelah Singapura. Sebagian besar pendapatan negara Brunei Darussalam diperoleh dari hasil minyak dan gas alam (hingga 40%). Selain itu, pendapatan diperoleh dari ekspor kayu hutan, industri kain tenun, dan industri logam.



Usaha pertanian yang digarap meliputi padi, kelapa, dan lada. Namun, sebagian besar kebutuhan pangan untuk penduduknya masih diperoleh melalui impor dari luar negeri.

## 2. Filipina

Negara Filipina memiliki nama nasional *Republika ng Pilipinas* dan nama internasional *Republic of the Philippines*. Filipina beribu kota di Manila. Sistem pemerintahannya ialah republik. Negara ini dipimpin oleh seorang presiden yang menjabat selama 6 tahun. Presiden merupakan kepala negara sekaligus kepala pemerintahan. Seorang Presiden Filipina hanya diperkenankan menjabat selama satu periode. Mata uang negara ini ialah *Peso*. Filipina mendapatkan kemerdekaannya dari Amerika Serikat pada 4 Juli 1946.

### a. Letak dan Luas

Filipina merupakan sebuah negara kepulauan di kawasan barat Samudera Pasifik. Secara astronomis, letaknya ialah pada  $4^{\circ}$ – $21^{\circ}$ LU dan  $116^{\circ}$ – $126^{\circ}$ BT. Filipina berbatasan dengan Selat Taiwan di Utara, dengan Laut Sulu dan Laut Sulawesi di selatan, dengan Laut Cina Selatan di barat, dan dengan Samudra Pasifik di timur. Filipina memiliki luas sekitar 300.000 km<sup>2</sup> (116.000 mil<sup>2</sup>). Jumlah pulau yang dimiliki oleh Filipina mencapai sekitar 7.100 buah pulau yang memanjang dari utara ke selatan wilayahnya. Pulau terbesar di Filipina ialah Pulau Luzon di utara dan Pulau Mindanao di selatan.

### b. Kondisi Alam dan Iklim

Sebagian besar wilayah Filipina adalah dataran tinggi. Di Filipina banyak ditemukan gunung berapi yang merupakan bagian dari sirkum Pegunungan Pasifik. Gunung tertinggi di Filipina adalah Gunung Apo dengan ketinggian mencapai 2.950 m yang terletak di Pulau Mindanao.

Karenaawasannya sebagian besar merupakan dataran tinggi dan pegunungan, maka sebagian besar pantai di Filipina merupakan dataran pantai yang terjal dan sempit. Selain itu, kawasan yang bergunung-gunung menjadikan sungai-sungai di Filipina pendek-pendek, berair deras, dan dangkal sehingga tidak dapat dijadikan sarana transportasi.

Iklim di Filipina dipengaruhi oleh angin musim dengan suhu dan curah hujan yang tinggi. Wilayah bagian timur Filipina memiliki tingkat kelembapan lebih tinggi dari wilayah baratnya. Angin musim yang melewati Filipina menjadikan negara ini mengalami dua musim, yakni musim hujan antara bulan Mei hingga November dan musim kemarau antara bulan Desember hingga April. Letak Filipina yang berada di ujung Samudra Pasifik menjadikan negara ini sering dilanda angin topan yang bertiup dari arah timur Pasifik.

Di sebagian besar kawasan Filipina yang berupa dataran tinggi dan pegunungan, banyak ditemukan hutan hujan tropis. Tercatat ada lebih dari 3.000 jenis pohon yang tumbuh di hutan hujan tropis Filipina, di antaranya pohon jati, rotan,




**Gambar 7.5** Manila ibu kota Filipina.  
**Sumber:** Microsoft Student 2006



### Wawasan Sosial

Filipina pernah dipimpin oleh seorang diktator bertangan besi, yakni Presiden Ferdinand Marcos yang memerintah antara tahun 1965–1986. Pada Februari 1986, Presiden Ferdinand Marcos digulingkan oleh jutaan rakyat Filipina yang turun langsung ke jalan-jalan.





**Gambar 7.6** Filipina kaya gunung api aktif, salah satunya Gunung Mayon di Pulau Luzon.

**Sumber:** Microsoft Student 2006



## Wawasan Sosial

Pulau-pulau di Filipina biasanya dikelompokkan menjadi empat kelompok, yaitu Pulau Luzon, Kepulauan Visayan, Kepulauan Mindanao, serta Kepulauan Palawan dan Sulu.

palem, dan albasia. Fauna yang hidup di kawasan hutan Filipina sebagian besar merupakan mamalia berukuran kecil semacam kelelawar, kelinci, tikus, berang-berang. Selain itu, dapat ditemukan pula aneka jenis rusa, kijang, burung, dan reptil.



**Gambar 7.7** Peta Wilayah Filipina.

**Sumber:** Atlas Dunia Buana Raya

## Tugas Mandiri

Buatlah tabel untuk mengisi informasi tentang Filipina selengkapnya. Bandingkan dengan negara kita dengan panduan guru. Perbaiki daftarmu apabila ada tambahan.

### c. Kependudukan

Pada tahun 2007, diperkirakan penduduk Filipina mencapai 91.077.287 orang, dengan rata-rata kepadatan penduduk 306 orang per km<sup>2</sup>. Pertumbuhan penduduk di Filipina adalah 1.76% per tahun. Sebagian besar penduduk Filipina tinggal di Pulau Luzon, Cebu, dan Mindanao. Tercatat ada delapan suku bangsa di Filipina, yakni Ilocano, Tagalog, Bicolano, Hiligaynon, Ilongo, Samaritano, Cebuano, dan Marano. Suku Tagalog adalah suku yang paling dominan di Filipina, sedangkan penduduk aslinya adalah bangsa Negrito.

Penduduk Filipina 84% menganut agama Katolik Roma. Agama Islam dianut oleh sebagian besar penduduk Pulau Mindanao dan Palawan hingga mencapai total 5% dari



jumlah penduduk Filipina. Agama lain yang dianut oleh penduduk Filipina ialah Hindu, Buddha, Kong Hucu, kepercayaan animisme, dan atheisme. Bahasa yang digunakan dalam percakapan sehari-hari penduduknya ialah beragam bahasa daerah. Bahasa persatuan nasional Filipina ialah bahasa *Tagalog*. Namun, bahasa Inggris banyak digunakan dalam pergaulan di perkotaan.

d. **Perekonomian dan Komoditas Perdagangan**

Pendapatan per kapita penduduk Filipina mencapai 1.192,30 Dollar AS. Lebih dari 40% penduduk Filipina adalah petani. Tanaman yang banyak dibudidayakan dalam pertanian ialah padi, jagung, buah-buahan, ketela, dan sayur-sayuran. Dalam perkebunan, tanaman yang ditanam ialah tebu, tembakau, dan abaka. Sebagian besar areal perkebunan Filipina berada di Pulau Luzon dan Negros.

Selain pertanian, penduduk Filipina juga mengandalkan sektor perikanan sebagai mata pencaharian. Hal ini dimungkinkan oleh letak Filipina sebagai kepulauan yang dikelilingi lautan. Filipina banyak mengeksport berbagai jenis ikan seperti tuna dan sarden. Hasil tambangnya emas, perak, bijih besi, batu bara, mangan, dan timah putih.

Industri yang terdapat di Filipina terbatas pada tekstil, elektronika, farmasi, dan pengolahan aluminium. Sebagian besar kebutuhan penduduk Filipina masih diperoleh dengan cara impor. Mitra dagang utama Filipina ialah Amerika Serikat. Adapun komoditas yang menjadi andalan ekspor Filipina ialah abaka, kelapa, gula, karet, dan kayu.

### 3. Kamboja

Kamboja memiliki nama nasional *Kâmpuchéa* dan nama internasionalnya *Cambodia*. Negara ini beribu kota di Phnom Penh. Sistem pemerintahannya ialah kerajaan konstitusional, dipimpin oleh seorang raja yang dijabat secara turun temurun. Raja merupakan kepala negara, sementara kepala pemerintahan dijabat oleh seorang perdana menteri yang diangkat oleh raja. Mata uang negara ini ialah *Riel*. Kamboja merebut kemerdekaannya dari penjajah Prancis pada tahun 1953.

a. **Letak dan Luas**

Kamboja merupakan sebuah negara yang terletak di kawasan selatan wilayah Indocina. Secara astronomis, letaknya pada 10°–13°LU dan 102°–105°BT. Kamboja berbatasan dengan Laos di utara, dengan Vietnam di timur dan selatan, dengan Thailand di barat, dan dengan Teluk Siam di barat daya. Kamboja memiliki luas sekitar 181.035 km<sup>2</sup> (69.898 mil<sup>2</sup>).

b. **Kondisi Alam dan Iklim**

Sebagian besar wilayah Kamboja adalah dataran rendah yang merupakan dataran aluvial. Di kawasan timur wilayah negara ini terdapat dataran yang agak tinggi. Sementara di barat daya dan utara terdapat pegunungan, yakni Pegunungan Kardamom dan Pegunungan Dangrek.

#### Wawasan Sosial

*Tinikling* adalah tarian rakyat yang populer di Filipina. Para penari dengan sigap menggerakkan kaki mereka di antara bambu panjang yang dibuka dan ditutup sambil dihentakkan ke lantai secara ritmis.



**Gambar 7.8** Nelayan Filipina dengan hasil tangkapan ikan tuna.

**Sumber:** Microsoft Student 2006

#### Wawasan Sosial

Karena dilanda perang saudara berkepanjangan akibat saling berebut kekuasaan, Kamboja pernah mengangkat dua perdana menteri sekaligus pada 1993. Perdana Menteri I dijabat oleh Pangeran Norodom Ranaridh yang merupakan putra Raja Norodom Sihanouk. Perdana Menteri II dijabat oleh Hun Sen yang kemudian menggulingkan Pangeran Norodom Ranaridh dalam sebuah pemberontakan di tahun 1997.



## Wawasan Sosial

Nama Kamboja berasal dari Kambu Svayambhuva. Ia adalah raja yang berkuasa pada abad ke-6 SM. Kerajaan ini pernah menjadi pusat agama Hindu dan Buddha.

Sungai Mekong dan Danau Tonle Sap memegang peran penting dalam kehidupan masyarakat Kamboja. Daerah di sekitar sungai dan danau tersebut merupakan kawasan subur yang sebagian besarnya digunakan untuk pertanian. Wilayah Kamboja 21% digunakan untuk pertanian dengan mengandalkan pengairan dari Danau Tonle Sap dan Sungai Mekong. Kamboja memiliki iklim tropis dengan dua musim, yakni musim hujan antara bulan April hingga Oktober dan musim kemarau antara bulan November hingga Mei.

Wilayah Kamboja 53%-nya adalah hutan. Di kawasan-kawasan yang memiliki curah hujan tinggi banyak ditemukan hutan hujan tropis. Sementara di kawasan yang memiliki curah hujan rendah banyak ditemukan sabana atau padang rumput dan ilalang atau hutan jenis tertentu, misalnya hutan jati atau kapuk. Tanaman yang banyak ditemukan di Kamboja ialah karet, kapuk, jati, palem, pisang, dan kelapa. Sementara hewan yang hidup di Kamboja antara lain gajah, rusa, lembu, macan tutul, beruang, dan harimau. Selain itu, banyak pula ditemukan aneka jenis burung seperti burung belibis, merak, kuntul, bangau, kakatua, ayam pegar, dan bebek liar.



**Gambar 7.9** Peta wilayah Kamboja.

**Sumber:** Atlas Dunia Buana Raya



c. Kependudukan

Pada tahun 2007, diperkirakan penduduk Kamboja mencapai jumlah 14.131.858 orang, dengan rata-rata kepadatan penduduk 80 orang per km<sup>2</sup>. Pertumbuhan penduduk di Kamboja mencapai 1,79% per tahunnya. Kurang lebih 90 persen penduduk Kamboja adalah bangsa Khmer, 5 persen merupakan bangsa Vietnam, 4 persen bangsa Cina, dan sisanya beragam bangsa lainnya. Sebagian besar penduduk Kamboja tinggal di kawasan pedesaan.

Kira-kira 85% penduduk Kamboja menganut agama Buddha Theravada. Selebihnya, menganut agama Islam, Buddha Mahayana, dan Katolik Roma. Bahasa persatuan Kamboja ialah bahasa Khmer. Selain itu, sebagian kecil penduduk juga menggunakan bahasa Prancis.

d. Perekonomian dan Komoditas Perdagangan

Kamboja adalah salah satu negara termiskin di dunia. Pendapatan per kapita penduduknya hanya mencapai rata-rata 440 Dollar Amerika. Hal ini disebabkan sejak tahun 1970-an hingga 1990-an, negara ini selalu dilanda perang saudara. Penduduk Kamboja 75% bekerja sebagai petani, 21% bekerja di bidang jasa, dan 5% di bidang industri. Tingkat pengangguran di negara ini sangat tinggi. Perekonomian bertumpu pada pertanian yang memberikan hasil 37% pada pendapatan negara. Sebagian besar lahan pertanian di Kamboja ditanami padi. Karena itu, padi menjadi komoditas ekspor utama. Selain itu, pertanian Kamboja juga mengandalkan komoditas jagung, ketela, kedelai, gula palem, dan cabai merah untuk ekspor. Tanaman yang ditanam untuk memenuhi kebutuhan dalam negeri antara lain timun dan buah-buahan seperti mangga, nenas, semangka, dan pisang. Selain pertanian, penduduk juga banyak yang mengusahakan peternakan, terutama babi, ayam, kerbau, dan lembu. Perikanan darat juga diusahakan untuk memenuhi kebutuhan lokal saja.


Industri yang terdapat di Kamboja sangat terbatas. Perkembangan industri tidak dapat berjalan karena selalu terhambat oleh perang saudara yang berkepanjangan. Industri yang ada mencakup pengolahan karet, pembuatan batu bata, tekstil, semen, dan perabot rumah tangga. Sumbangan besar lainnya bagi pendapatan nasional diperoleh dari sektor pertambangan hingga 22% dari total pendapatan nasional. Pertambangan yang terdapat di Kamboja antara lain mangan, fosfat, batu safir, dan rubi.

#### 4. Laos

Laos memiliki nama resmi internasional *Lao People's Democratic Republic*. Negara ini beribu kota di Vientiane. Sistem pemerintahannya republik komunis, dipimpin oleh seorang presiden yang dipilih oleh Majelis Nasional Laos untuk masa jabatan selama lima tahun. Presiden bertindak sebagai kepala

### Wawasan Sosial

Kota tersibuk di Kamboja adalah Phnom Penh yang terletak di antara pertemuan tiga sungai, yaitu Sungai Mekong, Sungai Tonle Sap, dan Sungai Bassac. Di kota ini terdapat Pagoda Perak yang lantainya terbuat dari 5.000 ubin perak.



**Gambar 7.10** (a) Tanaman padi sebagai komoditas utama di Kamboja. (b) Perkebunan karet banyak dijumpai di Kamboja.

**Sumber:** Microsoft Student 2006

### Tugas Mandiri

Buatlah tabel untuk mengisikan informasi tentang Kamboja selengkapnya. Setelah selesai. Bandingkan dengan negara kita dengan panduan guru. Perbaiki daftarmu apabila ada tambahan.





## Wawasan Sosial

Pada tahun 1965 Laos pernah dilanda perang saudara yang baru berakhir pada tahun 1975. akhir perang saudara ditandai dengan perubahan bentuk negara dari kerajaan menjadi republik komunis setelah Partai Komunis Laos (Pathet Lao) memaksa raja Laos untuk turun tahta dan mengakui pemerintahan komunis.

negara. Kepala pemerintahan dijabat oleh seorang perdana menteri yang diangkat oleh presiden. Mata uang negara ini ialah *Kip*. Laos mendapat kemerdekaannya dari penjajah Prancis pada tahun 1953 sebagai negara kerajaan dan menjadi negara republik komunis sejak 1975.

### a. Letak dan Luas

Laos merupakan sebuah negara yang terletak di kawasan barat wilayah Indocina. Secara astronomis, letaknya ialah pada  $14^{\circ}$ – $22,5^{\circ}$ LU dan  $100^{\circ}$ – $107,8^{\circ}$ BT. Laos merupakan satu-satunya negara Asia Tenggara yang tidak berbatasan dengan laut. Negara ini berbatasan dengan Cina dan Vietnam di utara, dengan Vietnam bagian selatan di timur, dengan Kamboja di selatan, dengan Thailand di barat, dan dengan Myanmar di barat laut. Laos memiliki luas wilayah sekitar  $236.800 \text{ km}^2$  ( $91.400 \text{ mil}^2$ ).

### b. Kondisi Alam dan Iklim

Sebagian besar wilayah Laos adalah kawasan dataran tinggi. Dataran rendah hanya terdapat di bagian selatan dan barat daya. Di kawasan utara negara ini terdapat Dataran Tinggi Thran Hin dan Pegunungan Annam. Gunung tertinggi di Laos juga terdapat di pegunungan tersebut, yakni Gunung Phou Bia dengan ketinggian 2.820 meter.

Seperti halnya di Kamboja, Sungai Mekong yang juga mengalir di kawasan Laos dan memegang peran penting dalam kehidupan masyarakat Laos. Sungai Mekong menjadi jantung transportasi dan perekonomian yang sebagian besarnya bertumpu pada pertanian. Selain Sungai Mekong, Laos juga dialiri oleh beberapa sungai lainnya yang berukuran lebih kecil.

Laos memiliki iklim tropis yang dipengaruhi angin musim. Musim panas yang disertai curah hujan tinggi berlangsung antara bulan Mei hingga Oktober, kemudian diikuti oleh musim dingin yang kering dari November hingga Februari, serta musim panas yang kering antara bulan Maret dan April.

Selama berabad-abad, penduduk Laos sangat mengandalkan hasil hutannya yang menutupi 55% dari total wilayah Laos. Selain aneka kayu semacam jati, ulin, dan mahoni, hutan Laos juga banyak menghasilkan kapur barus dan rengas. Hutan Laos menjadi tempat tinggal bagi aneka satwa. Beberapa jenis satwa yang terdapat di Laos antara lain gajah, harimau, rusa, kijang, menjangan, kancil, trenggiling, berbagai jenis binatang pengerat bertubuh besar, ular-ular, dan reptil. Laos juga kaya akan sumber daya mineral semacam batubara, batu kapur, gips, dan timah.

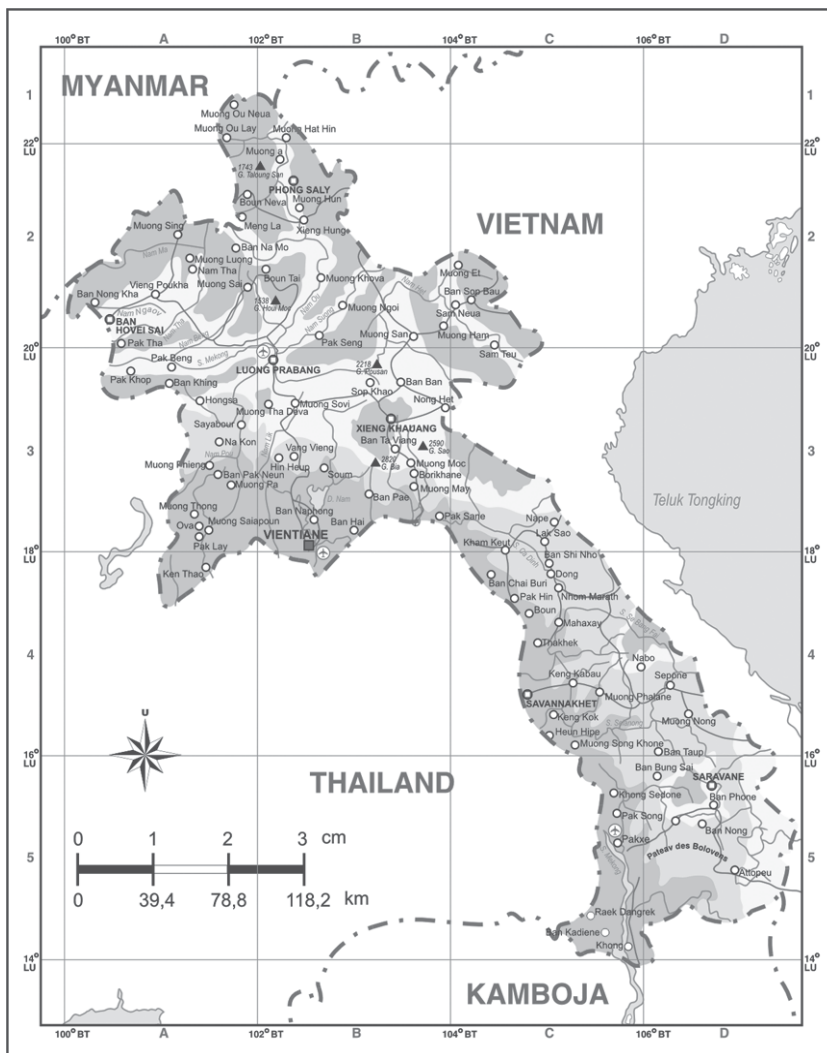
### c. Kependudukan

Pada tahun 2007, diperkirakan jumlah penduduk Laos mencapai 6.521.998 orang, dengan rata-rata kepadatan penduduk 28 orang per  $\text{km}^2$  (65 per  $\text{mil}^2$ ). Pertumbuhan penduduk di Laos mencapai 2,37% per tahunnya. Penduduk



Laos terdiri atas berbagai kelompok etnis yang secara garis besar mencakup tiga kelompok utama, yakni Lao Lum, Lao Thoeng, dan Lao Sung. Selain itu, ada pula minoritas penduduk keturunan India, Cina, dan Vietnam.

Sebagai negara komunis, Laos tidak memiliki agama resmi dan juga tidak mengakui agama mana pun yang dianut penduduknya. Walau begitu, hampir sebagian besar atau sekitar 49% penduduknya menganut agama Buddha Theravadha. Selain itu, penduduk juga menganut agama Islam, Kristen Protestan, Katolik Roma, dan kepercayaan animisme (45%). Bahasa resmi Laos ialah bahasa Lao. Selain itu, bahasa Inggris, Prancis, dan Thai juga digunakan dalam bidang pemerintahan, perdagangan, dan pendidikan.



**Gambar 7.11** Peta wilayah Laos.  
**Sumber:** Atlas Dunia Buana Raya

#### d. Perekonomian dan Komoditas Perdagangan

Pendapatan per kapita penduduk Laos adalah 485 Dollar AS dan merupakan pendapatan per kapita terkecil kedua di Asia Tenggara setelah Kamboja. Pertanian merupakan aktivitas ekonomi utama di Laos, yang memberikan sumbangan

### Wawasan Sosial

Lam Wong adalah salah satu tarian tradisional rakyat Laos. Dalam tarian ini, para pasangan menari membentuk lingkaran dengan diiringi musik.

### Wawasan Sosial



Pha That Luang adalah simbol nasional Laos yang terletak di utara Semenanjung Indocina





**Gambar 7.12** Lahan pertanian di Laos.

**Sumber:** [www.google.com/image](http://www.google.com/image).

### Tugas Mandiri

Buatlah tabel untuk mengisikan informasi tentang Laos selengkap-lengkapnya. Setelah selesai. Bandingkan dengan negara kita dengan panduan guru. Perbaiki daftarmu apabila ada tambahan.

hingga 51% dari total pendapatan negara. Hampir 80% lahan pertanian di Laos ditanami padi. Karena itu, beras dan beras ketan menjadi salah satu komoditas ekspor andalan Laos. Lahan lainnya ditanami jagung, kopi, kedelai, kayu manis, dan ubi. Untuk tanaman nonpangan, penduduk juga banyak mengusahakan perkebunan kapas, tembakau dan kapulaga. Sejak tahun 1970an, pemerintah juga mencoba meningkatkan usaha peternakan. Peternakan yang banyak digiatkan oleh penduduk Laos antara lain kerbau, lembu, babi, kuda, kambing, dan unggas.

Usaha lain yang menjadi andalan ekonomi Laos ialah kehutanan dan perikanan. Kayu merupakan komoditas ekspor utama Laos dengan volume produksi tertinggi mencapai 6,8 juta meter kubik pada tahun 2005. Beberapa jenis kayu juga diolah menjadi kayu lapis dan triplek, namun sebagian besar diekspor dalam bentuk mentah. Sektor perikanan mampu memenuhi kebutuhan lokal Laos dengan produksi rata-rata 60.403 metrik ton per tahun.

Laos hanya menghasilkan sedikit mineral dalam bentuk timah, bijih besi, seng, perak, dan batu kapur. Wilayahnya hanya sedikit menyimpan cadangan mineral. Sementara, industri terbatas pada pengolahan kayu, penggilingan gabah, pembuatan batu bata, dan produksi untuk konsumsi lokal seperti rokok, deterjen, korek api, plastik, bir, dan minuman ringan. Pemerintah juga mencoba untuk memacu investasi asing di bidang industri garmen. Pada awal tahun 1990an, lebih dari 40 pabrik garmen dibuka di Vientiane.

Selain itu, produksi energi Laos memiliki masa depan yang menjanjikan. Lebih dari 1 juta kilowatt per jam listrik Laos diekspor ke Thailand. Produksi energi tersebut 99% dihasilkan melalui pembangkit listrik tenaga air.

## 5. Malaysia

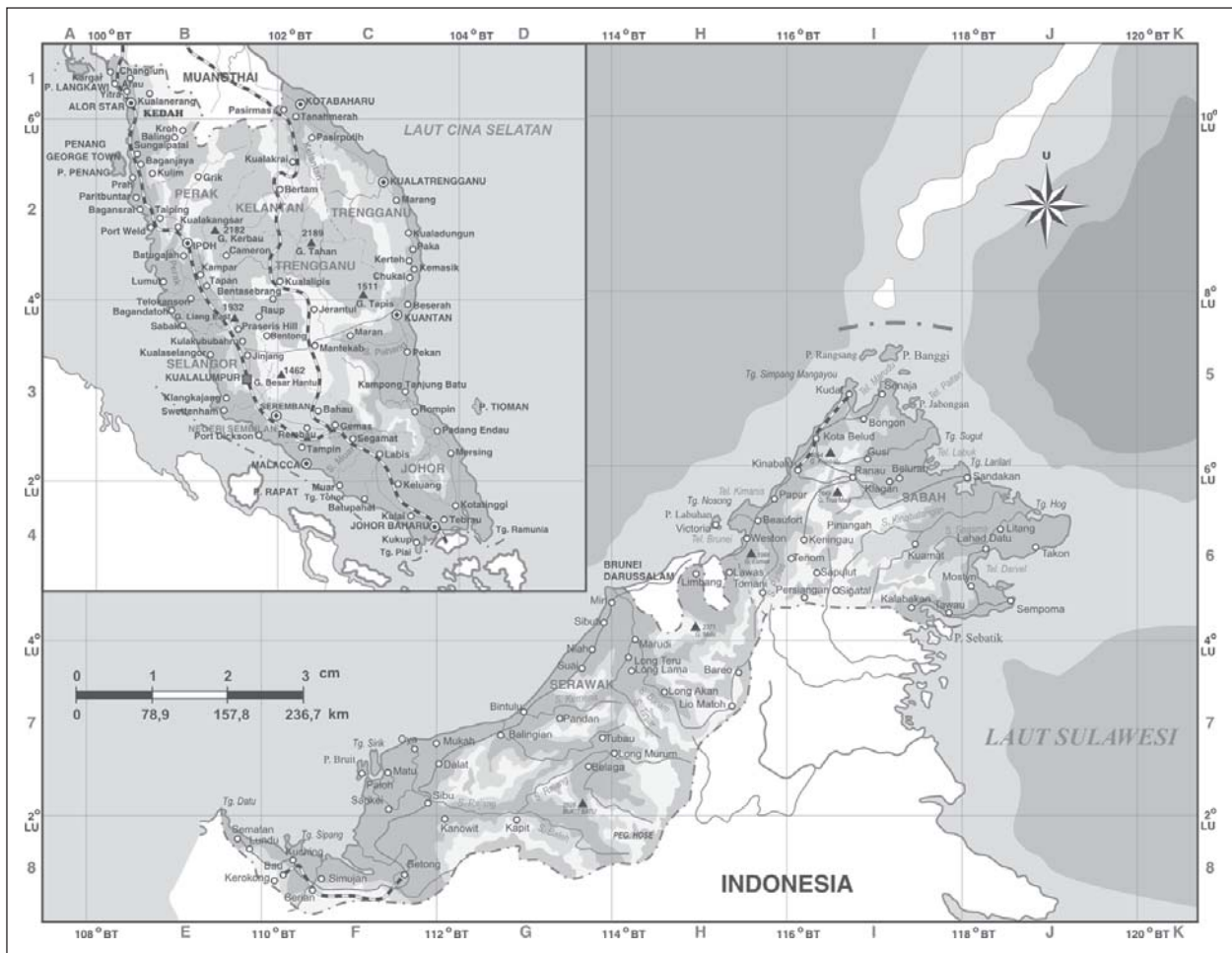
Malaysia memiliki nama resmi Kerajaan Malaysia. Ibu kota negara ini adalah Kuala Lumpur dengan sistem pemerintahan kerajaan federal. Malaysia dipimpin oleh seorang kepala negara yang disebut *Yang Dipertuan Agong*, dijabat secara bergilir oleh para sultan negara bagian untuk masa lima tahun. Kepala pemerintahan dijabat oleh seorang perdana menteri yang merupakan ketua dari partai politik yang memenangkan pemilihan umum. Mata uang negara ini ialah *Ringgit*. Malaysia mendapatkan kemerdekaan dari penjajah Inggris pada tahun 1957.

### a. Letak dan Luas

Malaysia merupakan negara yang terdiri atas wilayah Semenanjung Malaya di Asia Tenggara Daratan dan di bagian utara Pulau Kalimantan. Secara astronomis, letaknya ialah pada 0,5°–7°LU dan 100°–119,5°BT. Malaysia bagian barat di Asia Tenggara Daratan merupakan sebuah semenanjung yang berbatasan dengan Laut Cina Selatan di sebelah timur,



Selat Malaka di sebelah barat, Singapura di sebelah selatan, dan Thailand di sebelah utara. Sementara, Malaysia bagian timur yang terletak di bagian utara Pulau Kalimantan berbatasan dengan Laut Cina Selatan di sebelah utara dan barat, Laut Sulawesi di sebelah timur, dan Indonesia di sebelah selatan. Malaysia memiliki luas wilayah sekitar 329.758 km<sup>2</sup> (127.320 mil<sup>2</sup>).



**Gambar 7.13** Peta wilayah Malaysia.  
**Sumber:** Atlas Dunia Buana Raya

#### b. Kondisi Alam dan Iklim

Malaysia bagian barat atau Semenanjung Malaya dibelah oleh rangkaian pegunungan yang memisahkan kawasan pantai barat dan timur pada bagian utaranya. Puncak tertinggi dari pegunungan tersebut ialah Gunung Tahan yang memiliki ketinggian 2.187 m. Adapun bagian selatan semenanjung tersebut relatif datar. Sejumlah pulau terdapat di dekat kawasan pantai semenanjung tersebut, antara lain Pulau Langkawi, Pulau Pinang, dan Pulau Tioman yang merupakan tempat wisata yang banyak dikunjungi orang sepanjang tahun.

Adapun kawasan Malaysia bagian timur di Pulau Kalimantan banyak tertutup oleh rawa yang memanjang di sepanjang Pantai Serawak di bagian barat hingga ke Pegunungan



**Gambar 7.14** Kota Kuala Lumpur sebagai ibu kota Malaysia.

**Sumber:** Dokumen Penerbit



## Wawasan Sosial

Pada tahun 1961, untuk pertama kalinya Malaysia memiliki seorang perdana menteri setelah Tuanku Abdul Rahman diangkat sebagai perdana menteri Malaysia pertama.

Malaysia terdiri atas 13 negara bagian, yakni Johor, Kedah, Kelantan, Melaka, Negeri Sembilan, Pahang, Perak, Pinang, Perlis, Sabah, Sarawak, Selangor, Terengganu dan dua wilayah khusus federal, yakni Kuala Lumpur dan Labuan.

## Tugas Mandiri

Buatlah tabel untuk mengisikan informasi tentang Malaysia selengkapnya. Setelah selesai. Bandingkan dengan negara kita dengan panduan guru. Perbaiki daftarmu apabila ada tambahan.

Crocker yang membentang dari Sabah hingga Serawak. Puncak tertinggi dari Pegunungan Crocker ialah Gunung Kinabalu yang memiliki ketinggian 4.101 meter. Wilayah Serawak dilintasi oleh Sungai Rajang yang panjang. Beberapa pulau terdapat di dekat Pantai Sabah, antara lain Pulau Labuan dan Baggi.

Iklim di Malaysia adalah tropis murni dengan curah hujan tinggi sepanjang tahun, kecuali di dataran tinggi kawasan utara. Lima puluh persen wilayah Malaysia merupakan kawasan hutan yang terutama mencakup sebagian besar wilayah Sabah dan Serawak. Adapun kawasan Malaysia bagian barat sangat kaya dengan kandungan alam timah, tembaga, dan uranium. Sebagian besar wilayah Malaysia bagian barat digunakan untuk perkebunan karet dan kelapa sawit.

Pepohonan yang banyak dijumpai di kawasan hutan Malaysia antara lain hutan mangrove di kawasan pantai, hutan pohon ek, mahoni, dan jati. Bunga Raflesia Arnoldi yang merupakan jenis bunga terbesar di dunia juga dapat dijumpai di Malaysia bagian timur. Seperti negara lainnya yang memiliki hutan hujan tropis, hutan Malaysia juga banyak didiami oleh aneka jenis satwa, antara lain gajah, harimau, beruang madu, tapir, rusa, menjangan, kancil, dan badak. Selain itu, dapat pula dijumpai jenis primata seperti orangutan dan siamang. Satwa jenis lainnya mencakup sekitar 650 spesies jenis burung, 100 spesies jenis ular, 80 jenis reptil, dan berbagai jenis hewan amfibi. Malaysia dikenal pula sebagai negara yang memiliki keanekaragaman serangga.



**Gambar 7.15** Salah satu kawasan hutan di Gunung Kinabalu, Malaysia.

**Sumber:** Microsoft Student 2006

### c. Kependudukan

Perkiraan jumlah penduduk Malaysia pada tahun 2007 adalah 24.821.286 jiwa. Rata-rata kepadatan penduduknya diperkirakan 76 orang per km<sup>2</sup> (196 per mil<sup>2</sup>). Walau begitu, persebaran penduduk di Malaysia tidak merata. Penduduk yang tinggal di Malaysia bagian barat tujuh kali lipat lebih



banyak dari penduduk yang tinggal di bagian timur. Penduduk Malaysia terdiri atas berbagai kelompok etnis yang sangat beragam. Penduduknya 65% merupakan suku Melayu yang merupakan penduduk asli Malaysia. Kemudian diikuti oleh etnis Cina sebanyak 26% dan India sebanyak 7%. Adapun sisanya merupakan etnis-etnis Indonesia, Thai, Arab, dan Eropa.

Islam merupakan agama resmi negara. Lebih dari setengah jumlah penduduk Malaysia menganut agama Islam. Selain itu, penduduk Malaysia juga ada yang beragama Buddha, Kong Hucu, Hindu, dan Kristen. Di Malaysia bagian timur, masih banyak orang dari etnis Dayak yang menganut kepercayaan animisme.

Bahasa persatuan nasional di negara ini adalah bahasa Melayu yang memiliki banyak kesamaan dengan bahasa Indonesia. Selain itu, bahasa Inggris menjadi bahasa kedua yang digunakan secara luas. Sebagian penduduk ada pula yang berbicara dengan bahasa Cina dan Tamil.

d. **Perekonomian dan Komoditas Perdagangan**

Pendapatan per kapita penduduk Malaysia mencapai 5.141 Dollar AS. Perekonomian Malaysia sangat bergantung pada ekspor bahan mentah, khususnya berupa minyak, karet, timah, kelapa sawit, dan kayu alam. Namun dewasa ini, sektor industri di Malaysia berkembang dengan pesat, sehingga pada kurun 1990–2001 mampu meningkatkan pertumbuhan ekonomi hingga 6,5%. Sektor pariwisata juga memegang peranan penting dalam perekonomian negara ini. Bidang jasa menyumbangkan 42% dari total pendapatan negara. Kemudian bidang industri, pertambangan, dan konstruksi menyumbang 49%. Sebanyak 9% sisanya disumbangkan oleh sektor pertanian, kehutanan, dan perikanan.

Sebanyak 2,9 juta hektar lahan di Malaysia digunakan untuk pertanian. Dengan penggunaan lahan seluas itu, Malaysia telah menjelma menjadi negara penghasil kelapa sawit dan karet terbesar di dunia. Satu-satunya negara yang pernah melampaui produksi karet Malaysia adalah Indonesia pada pertengahan 1990an. Selain itu, Malaysia juga merupakan negara penghasil kayu hutan olahan nomor satu di dunia.

Bidang pertambangan di Malaysia sangat mengandalkan produksi minyak dan gas alam. Selain itu, bahan tambang lain yang juga dihasilkan oleh Malaysia ialah bauksit, tembaga, bijih besi, emas, dan perak. Adapun bidang industri di Malaysia menghasilkan pengolahan minyak kelapa sawit, pengolahan karet, pengolahan minyak alam, pembuatan barang elektronik, bahan kimia, dan kerajinan tangan. Perkembangan industri Malaysia mencapai puncaknya pada 2005. Saat itu, untuk pertama kalinya Malaysia mampu memproduksi mobil sendiri, yakni sedan Proton.



**Gambar 7.16** Menara Petronas salah satu ikon Malaysia.

**Sumber:** *Ensiklopedi Umum untuk pelajar, Ichtiar Baru van Hoeve.*

### **Tugas Mandiri**

Sebutkan komoditas-komoditas Malaysia, baik hasil industri, pertambangan, maupun agraris!





## Wawasan Sosial

Myanmar menjadi republik militer setelah pada Juli 1989, Angkatan Bersenjata Myanmar membatalkan hasil pemilihan umum yang diselenggarakan di negara itu.

## 6. Myanmar

Myanmar memiliki nama resmi internasional *Union of Myanmar*. Sebelum tahun 1989, negara ini dikenal dengan nama Birma. Ibukota negara ini ialah Yangon (dulu disebut Rangoon). Sistem pemerintahannya adalah republik militer. Kepala negara dan kepala pemerintahan Myanmar dijabat oleh Ketua Dewan Perdamaian dan Pembangunan Negara (*SPDC = State Peace and Development Council*). Mata uang negara ini ialah *Kyat*. Myanmar mendapatkan kemerdekaan dari penjajah Inggris pada tahun 1948.

### a. Letak dan Luas

Myanmar merupakan negara yang terletak di kawasan barat Indocina. Secara astronomis, letaknya pada  $10,5^{\circ}$ – $26^{\circ}$ LU dan  $93^{\circ}$ – $111,5^{\circ}$ BT. Myanmar berbatasan dengan India dan Cina di sebelah utara, dengan Teluk Benggala dan Bangladesh di sebelah barat, dengan Laos di sebelah timur, dengan Laut Andaman di sebelah selatan, dan dengan Thailand di sebelah tenggara. Myanmar memiliki luas wilayah sekitar  $676.552 \text{ km}^2$  ( $261,218 \text{ mil}^2$ ).

### b. Kondisi Alam dan Iklim

Kawasan pantai Myanmar disebut Myanmar Bawah, dan kawasan Myanmar bagian dalam disebut Myanmar Atas. Topografi Myanmar didominasi oleh rangkaian pegunungan yang berbentuk seperti tapal kuda dan Lembah Sungai Irawadi. Sungai Irawadi memegang peran penting dalam kehidupan transportasi dan pertanian penduduk. Rangkaian Pegunungan Arakan di kawasan utara hingga selatan mencapai puncak tertinggi di Gunung Hkakabo Razi, setinggi 5.881 meter. Puncak gunung tersebut merupakan puncak tertinggi di Asia Tenggara.

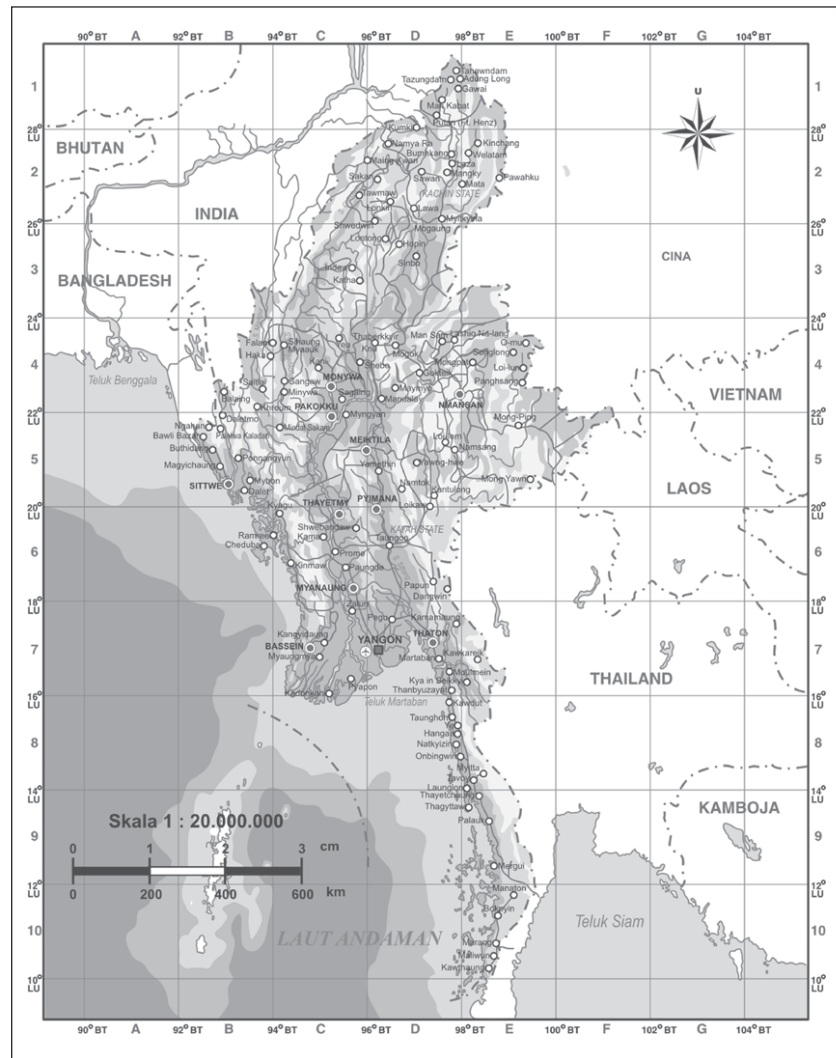
Secara umum, dataran rendah di bagian tengah Myanmar seluas 320 km, sebagian besar merupakan daerah aliran Sungai Irawadi yang telah terbentuk menjadi delta. Di kawasan pantai, Myanmar memiliki banyak karang dan cadas. Seperti umumnya negara Asia Tenggara lainnya, Myanmar memiliki iklim tropis yang dipengaruhi angin musim. Musim hujan yang panas berlangsung pada bulan Mei–Oktober, dan musim kemarau yang dingin dan kering berlangsung antara bulan November hingga awal Februari. Antara pertengahan Februari hingga awal Mei, Myanmar mengalami musim kemarau yang panas.

Hutan menutupi 52% lahan Myanmar. Di Myanmar bawah, banyak terdapat hutan hujan tropis yang di dalamnya terdapat pohon kayu-kayuan dan pohon-pohon seperti jati dan mahoni. Jenis pohon lainnya ialah karet, kina, akasia, bambu, ulin, mangrove, kelapa, dan pinang. Di pegunungan utara terdapat pohon ek, cemara dan pohon-pohon jenis *rhododendron*. Pohon buah-buahan yang terdapat di Myanmar umumnya merupakan buah tropis seperti jeruk, pisang, mangga, dan jambu batu yang banyak tumbuh di kawasan dekat pantai.



## Wawasan Sosial

Orang Myanmar menyebut negaranya dengan nama 'Tanah Emas'. Nama ini bisa berasal dari dua hal, yaitu: bangunan pagoda yang berlapiskan emas dan tanah Myanmar yang subur dengan tumbuhan padi menguning.



**Gambar 7.17** Peta wilayah Myanmar.

**Sumber:** Atlas Dunia Buana Raya

### c. Kependudukan

Pada tahun 2007, diperkirakan jumlah penduduk Myanmar mencapai 47.373.958 jiwa. Rata-rata kepadatan penduduk diperkirakan 72 orang per km<sup>2</sup> (168 per mil<sup>2</sup>). Kelompok terbesar, yaitu 69% penduduk Myanmar tinggal di pedesaan dan sisanya diperkotaan yaitu menempati tiga kota, yakni Yangon, Mandalay, dan Moulmein. Dua pertiga penduduk Myanmar merupakan etnis Burma. Sekitar 8,5% merupakan etnis Shan, 6,2% etnis Karen, dan sisanya merupakan campuran etnis Rakhin, Mon, Kachin, dan Cina. Di beberapa kawasan perbatasan, ada pula sebagian kecil penduduk dari etnis India dan Bangladesh.

Sebagian besar penduduk Myanmar menganut agama Buddha Theravada. Penduduk dari suku Karen umumnya menganut agama Islam. Penduduk lainnya ada yang beragama Kristen, Hindu, dan Atheis.

Bahasa persatuan nasional di negara ini adalah bahasa Burma yang memiliki kemiripan dengan bahasa Sansekerta. Selain



**Gambar 7.18** Shwedagon Pagoda, Yangon merupakan salah satu ikon Myanmar.

**Sumber:** Microsoft Student 2006



## Wawasan Sosial

Singapura, Malaysia, dan Brunei Darussalam pernah tergabung dalam satu negara yang dinamakan Persekutuan Tanah Melayu antara 1963–1965. Pada 1965, Singapura keluar dari Persekutuan Tanah Melayu karena perbedaan paham dengan Malaysia. Kemudian, Inche Yusof bin Ishak diangkat sebagai Presiden Singapura yang pertama.

itu, bahasa Karen dan Shan juga banyak digunakan dalam percakapan sehari-hari. Bahasa Inggris digunakan oleh penduduk yang berpendidikan tinggi.

### d. Perekonomian dan Komoditas Perdagangan

Pendapatan per kapita penduduk Myanmar mencapai 930 Dollar AS. Pada dasarnya, Myanmar merupakan negara agraris. Sekitar 57.2% angkatan kerja Myanmar bekerja di sektor pertanian, sementara yang bekerja di sektor jasa mencapai 33%, sisanya di sektor industri. Sebelum meletusnya Perang Dunia II, Myanmar merupakan negara pengekspor beras nomor satu di dunia. Setelah usainya Perang dunia II, lahan pertanian di Myanmar mulai ditanami dengan aneka tanaman selain padi untuk menghasilkan variasi komoditas ekspor.

Sekitar 15 persen lahan di Myanmar digunakan untuk pertanian. Namun hanya 3% saja yang telah mendapat irigasi secara teratur. Petani Myanmar diwajibkan menjual setengah hasil panen mereka pada pemerintah dengan harga murah. Dengan begitu, Myanmar masih menjadi salah satu negara pengekspor beras terbesar di dunia, meskipun kini mereka kalah bersaing dengan Vietnam dan Thailand. Areal persawahan untuk padi di Myanmar mencapai luas 5,1 juta hektar. Tanaman lain yang banyak dibudidayakan ialah wijen (dengan lahan 1,2 juta hektar), dan kacang (600.000 hektar). Beberapa jenis tanaman lainnya yang ditanam dalam jumlah yang tidak terlalu banyak antara lain bunga matahari, tebu, jagung, kapas, dan gandum.

Selain pertanian, hutan Myanmar juga memberikan sumbangan yang cukup besar bagi pendapatan negara. Hasil hutan yang paling utama adalah kayu jati, karet, dan pohon para. Adapun di bidang pertambangan, hasil yang dominan di Myanmar ialah minyak dan gas. Untuk hasil tambang nonmigas, aneka batu hias seperti rubi, safir, dan permata cukup dominan. Hasil tambang lainnya mencakup tembaga, nikel, perak, timah, dan seng. Bidang industri tidak terlalu memegang peranan penting di Myanmar. Industri Myanmar terbatas pada penggilingan padi, pengolahan makanan, minyak sayur, tepung gandum, tekstil, dan rokok.

## 7. Singapura

Singapura memiliki nama resmi internasional *Republic of Singapore*. Ibukota Singapura ialah Kota Singapura yang berada di Pulau Singapura Utama. Sistem pemerintahannya republik. Kepala negara dijabat oleh seorang presiden, sedangkan kepala pemerintahan dijabat oleh seorang perdana menteri yang diangkat oleh presiden. Mata uang negara ini ialah *Dollar Singapura*. Singapura mendapatkan kemerdekaan dari penjajah Inggris pada tahun 1957.

### a. Letak dan Luas

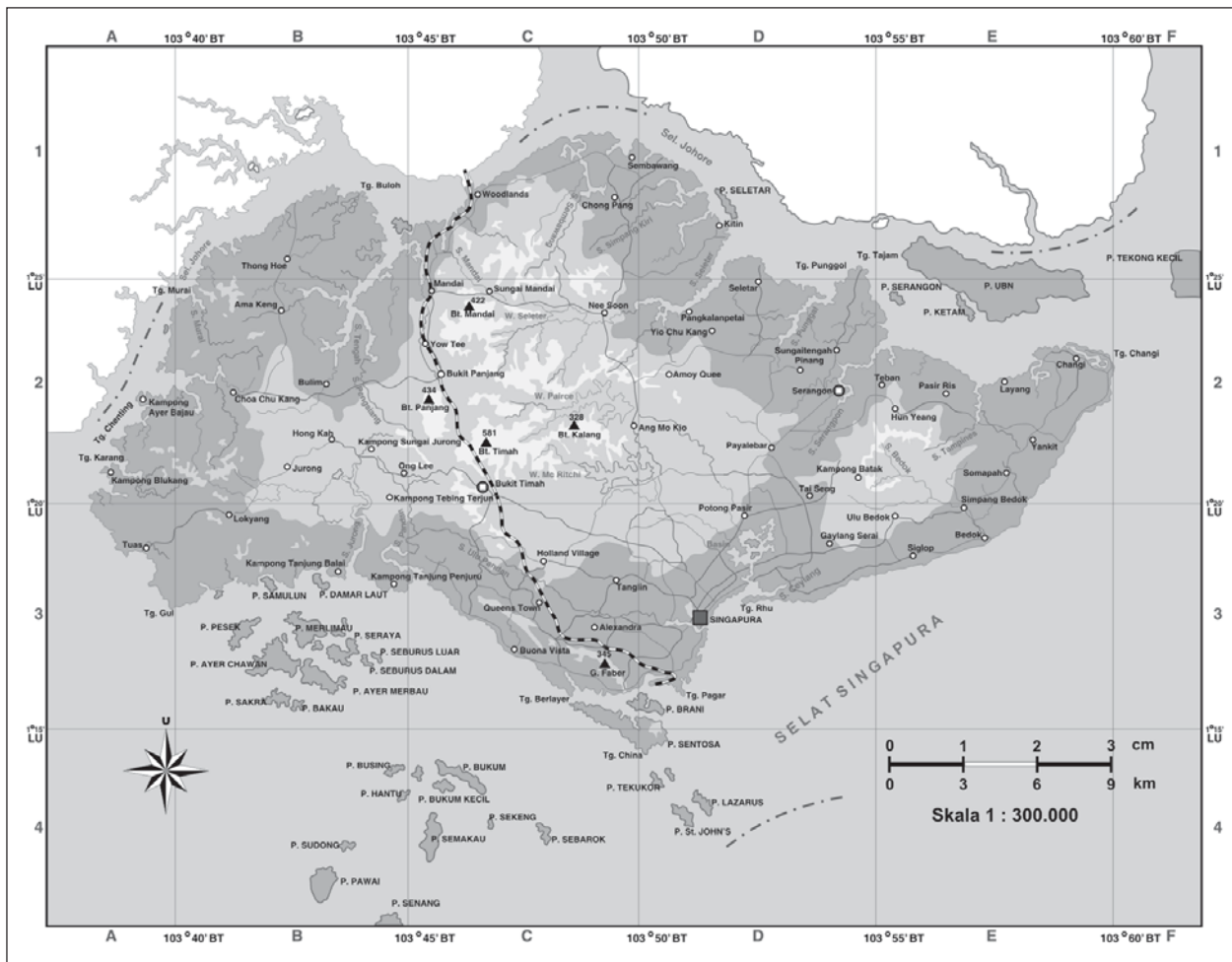
Singapura merupakan sebuah negara kota yang terletak di kepulauan sebelah selatan Malaysia. Wilayahnya terdiri atas satu Pulau Singapura dan beberapa pulau kecil di sekitarnya.

## Tugas Mandiri

Buatlah tabel untuk mengisikan informasi tentang Singapura selengkapnya. Setelah selesai, bandingkan dengan negara kita dengan panduan guru. Perbaiki daftarmu apabila ada tambahan.



Secara astronomis Singapura terletak pada  $1^{\circ}28' - 1^{\circ}10' \text{LU}$  dan  $103^{\circ}37' - 104^{\circ}00' \text{BT}$ . Singapura berbatasan dengan Selat Johor di sebelah utara, barat, dan timur serta dengan Selat Singapura di sebelah selatan. Singapura hanya memiliki luas wilayah sekitar  $648 \text{ km}^2$  ( $250 \text{ mil}^2$ ).




**Gambar 7.19** Peta wilayah Singapura dengan segala simbol kenampakannya.  
**Sumber:** *Atlas Dunia Buana Raya*

#### b. Kondisi Alam dan Iklim

Pulau Singapura memiliki permukaan yang menonjol. Hal ini ditandai dengan adanya bukit di pusat pulau ini, yakni Bukit Timah yang memiliki ketinggian 176 meter. Ada banyak saluran air buatan di pulau ini, termasuk di antaranya ialah Kanal Singapura yang oleh penduduknya disebut Sungai Singapura.

Di bagian barat pulau ini, terdapat kawasan perbukitan rendah. Beberapa rawa dapat ditemukan di bagian selatan pulau. Sebagian besar kenampakan geografis di Pulau Singapura merupakan kenampakan buatan seperti gedung dan rumah-rumah. Area hijau hanya terdapat di sekitar Bukit Timah yang dijadikan cagar alam. Di situ, hidup beberapa binatang khas daerah tropis seperti rusa, landak, musang,



**Gambar 7.20** Cagar Alam Bukit Timah.  
**Sumber:** *Microsoft Student 2006*



dan aneka jenis kadal. Area pantai di Singapura banyak ditumbuhi oleh hutan bakau yang sengaja ditanam untuk kepentingan reklamasi pantai.

Letak Singapura yang hanya satu derajat dari khatulistiwa menjadikannya memiliki iklim tropis dengan dua musim. Seperti halnya Indonesia dan Malaysia, angin monsun sangat memengaruhi musim di Singapura. Musim hujan berlangsung antara September hingga Maret dan musim kemarau berlangsung antara April hingga Agustus.

c. Kependudukan

Berdasarkan perhitungan, pada tahun 2007 jumlah penduduk Singapura hanya berjumlah 4.553.009 jiwa. Pertumbuhan penduduk relatif rendah, hanya 1.27% per tahun. Rata-rata kepadatan penduduk sangat tinggi, mencapai 6.676 orang per km<sup>2</sup> (17.291 per mil<sup>2</sup>). Hampir seluruh kawasan Singapura adalah kota, karena itu semua penduduknya tinggal di perkotaan.

Penduduk Singapura terdiri dari beragam etnis. Etnis Cina merupakan yang paling dominan, mencapai jumlah hingga hampir 77%. Kemudian diikuti oleh etnis Melayu dan India. Etnis lainnya terdiri atas Eropa dan Arab. Sebagian besar penduduk Singapura menganut agama Budha Theravada. Agama Islam dianut oleh sebagian besar penduduk etnis Melayu dan Arab. Sisanya beragama Kristen, Hindu, dan Kong Hucu. Bahasa resmi di Singapura adalah bahasa Inggris, Melayu, Cina, dan Tamil. Dalam kegiatan pemerintahan, pendidikan, dan interaksi antaretnis, Bahasa Inggris sangat dominan digunakan.

d. Perekonomian dan Komoditas Perdagangan

Singapura merupakan negara industri paling maju di kawasan Asia Tenggara. Pendapatan per kapita penduduk Singapura mencapai 26.893 Dollar AS pada tahun 2007. Hal ini menjadikan Singapura sebagai negara dengan per kapita tertinggi di Asia Tenggara.

Industri Singapura dipusatkan di kawasan Rawa Jurong. Sebelumnya kawasan ini merupakan rawa yang kemudian dikeringkan untuk bisa dibangun pabrik-pabrik di atasnya. Berbagai jenis industri yang ada di Singapura mencakup pengolahan karet, timah, dan minyak, barang elektronika, makanan kaleng, pengolahan logam, dan industri berat lainnya.

Sektor jasa menyumbangkan 68% dari total pendapatan negara. Bidang bisnis dan keuangan di sektor ini merupakan yang paling utama diikuti oleh perdagangan, transportasi, komunikasi, dan pariwisata.

Wilayah yang sempit menjadikan Singapura memiliki keterbatasan dalam pengadaan sumber daya alam. Namun, hal ini dapat diatasi dengan impor dari hasil pendapatan



**Gambar 7.21** Wajah Kota Singapura.  
**Sumber:** *Geographica The Complete Illustrated World Reference*



### Wawasan Sosial

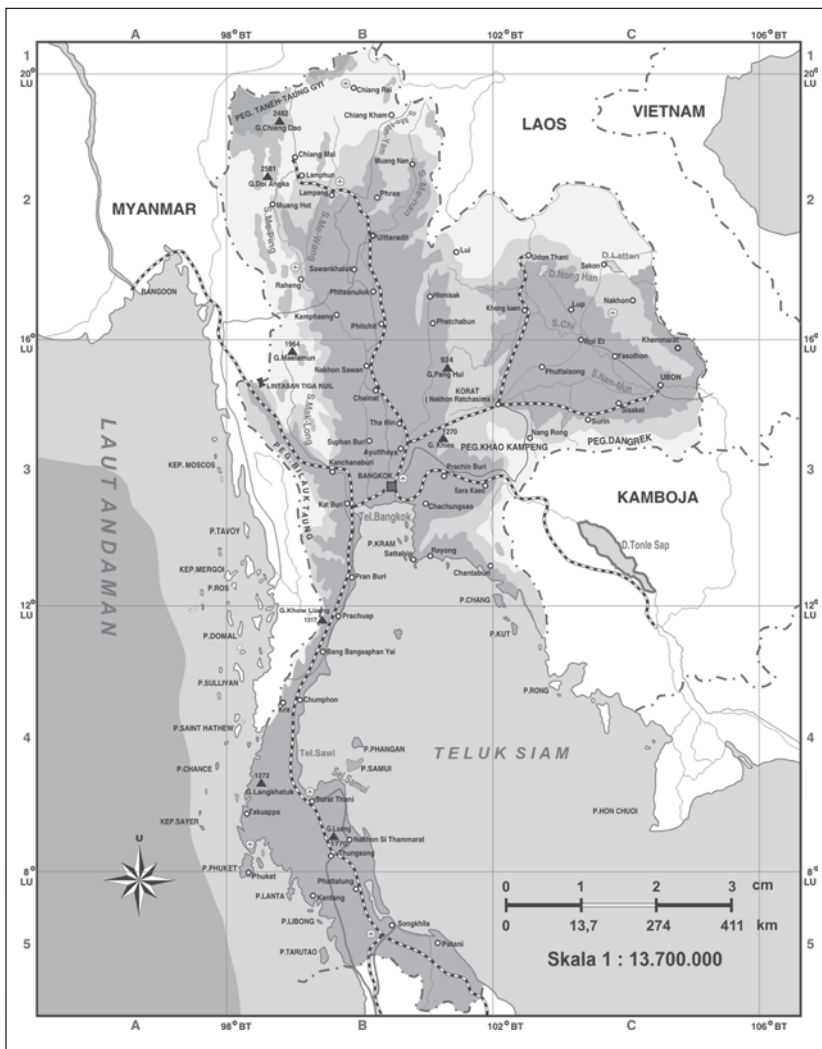
Singapura menjadi salah satu pusat komunikasi utama dunia dengan dukungan sarana dan prasarana yang telekomunikasi modern.



negara yang besar. Keterbatasan wilayah juga tidak menjadi halangan bagi Singapura untuk mengembangkan pertanian dan peternakan. Singapura dikenal sebagai penghasil sayuran dan buah-buahan berkualitas tinggi. Pertanian di Singapura diusahakan dengan sistem hidroponik.

## 8. Thailand

Thailand memiliki nama resmi nasional *Prathet Thai* dan nama resmi internasional *the Kingdom of Thailand*. Ibukota Thailand terletak di Kota Bangkok. Sistem pemerintahannya ialah kerajaan konstitusional. Kepala negara Thailand dijabat oleh Raja Thailand, sementara kepala pemerintahan dijabat oleh seorang perdana menteri yang dipilih dari anggota Dewan Perwakilan Rakyat. Mata uang negara ini ialah *Baht*. Thailand merupakan satu-satunya negara di Asia Tenggara yang tidak pernah dijajah oleh bangsa mana pun juga, karena para Raja Thailand sejak dulu sangat pintar membangun kekuatan militer dan berdiplomasi.




**Gambar 7.22** Peta wilayah Thailand.

**Sumber:** Atlas Dunia Buana Raya



## Wawasan Sosial

Sejak 1946, Thailand dipimpin oleh Raja Bhumibol Adulyadej yang bergelar Raja Rama IX. Bhumibol Adulyadej dikenal sebagai raja yang adil dan murah hati. Bhumibol Adulyadej lahir di Massachusetts, Amerika Serikat tahun 1927 dan menjadi raja sejak 5 Mei 1950 setelah kakaknya yang sebelumnya menjabat raja terbunuh dan tidak memiliki putra mahkota.



**Gambar 7.23** Suku Suey Thailand terkenal sebagai pelatih gajah yang mahir.

**Sumber:** *Ensiklopedi Umum untuk Pelajar, Ihtiar baru van Hoeve*

## Tugas Mandiri

Buatlah tabel untuk mengisikan informasi tentang Thailand selengkapny. Setelah selesai, diskusikan di kelas unsur-unsur fisik dan sosial negara Thailand dan bandingkan dengan negara kita dengan panduan guru. Perbaiki daftarmu apabila ada tambahan.

### a. Letak dan Luas

Thailand merupakan negara yang terletak di jantung kawasan Asia Tenggara daratan. Secara astronomis Thailand terletak pada  $5^{\circ}$ – $21^{\circ}$ LU dan  $97^{\circ}$ – $106^{\circ}$ BT. Thailand berbatasan dengan Laos di sebelah utara, dengan Myanmar dan Laut Andaman di barat, dengan Malaysia dan Selat Malaka di selatan, serta dengan Kamboja dan Teluk Thailand di timur. Luas wilayah Thailand mencapai  $513.115 \text{ km}^2$  ( $198.115 \text{ mil}^2$ ).

### b. Kondisi Alam dan Iklim

Secara umum, wilayah Thailand terbagi menjadi lima bagian. Bagian yang pertama merupakan kawasan pegunungan utara yang membatasi Thailand dengan Myanmar. Di pegunungan ini, terdapat Gunung Doi Inthanon yang merupakan gunung tertinggi di Thailand dengan ketinggian mencapai 2.595 meter. Bagian kedua ialah dataran rendah di wilayah tengah Thailand yang dilewati oleh aliran Sungai Chao Phraya. Bagian ketiga merupakan Dataran Tinggi Korat yang diapit oleh aliran Sungai Mekong dan Sungai Pa Sak. Bagian keempat di wilayah tenggara Thailand merupakan daerah pegunungan yang berbukit-bukit. Adapun bagian kelima ialah kawasan yang termasuk daerah Semenanjung Malaka yang membujur dari Tennaserim hingga ke perbatasan Malaysia.

Seperti negara-negara tetangganya, iklim di Thailand sangat dipengaruhi oleh angin musim. Musim hujan berlangsung antara April hingga Oktober, sedangkan musim kemarau berlangsung antara November hingga Maret. Karena iklim tropis tersebut, Thailand pun memiliki hutan tropis yang luas. Kawasan hutan tropis Thailand menutupi sebagian wilayah tenggara hingga ke utara. Di Dataran Tinggi Korat, selain terdapat hutan juga ada beberapa sabana. Hutan tropis Thailand ditumbuhi oleh berbagai tanaman tropis seperti rotan, ulin, eboni, dan bakau. Beberapa satwa yang dapat ditemukan di hutan Thailand mencakup badak, macan tutul, harimau, kucing siam, gajah, dan aneka jenis reptil.

### c. Kependudukan

Pada tahun 2007, diperkirakan jumlah penduduk Thailand mencapai 65.068.149 jiwa. Pertumbuhan penduduk mencapai 1% per tahun. Rata-rata kepadatan penduduk hanya 127 orang per  $\text{km}^2$  (329 per  $\text{mil}^2$ ), salah satu yang terendah di Asia. Sebagian besar penduduk Thailand tinggal di kawasan perkotaan. Penduduk Thailand yang tinggal di Kota Bangkok saja mencapai jumlah 10% dari total penduduk Thailand.

Penduduk Thailand terdiri atas beragam etnis dan suku bangsa. Bangsa Thai yang merupakan penduduk asli Thailand adalah yang jumlahnya paling dominan, mencapai 75% dari total penduduk. Kemudian diikuti oleh etnis Cina yang mencapai jumlah 14%. Sisanya terdiri atas etnis Melayu, Laos, Kamboja, dan India.



Mayoritas penduduk Thailand menganut agama Buddha Theravada (95%). Agama Islam dianut oleh 7% penduduk. Sisanya beragama Kristen, Hindu, dan Kong Hucu. Bahasa persatuan Thailand adalah bahasa Thai. Selain itu, penduduk di wilayah selatan Thailand ada yang berbahasa Melayu. Sebagian lainnya menggunakan bahasa Cina, Mon-Khmer, dan Laos. Bahasa Inggris digunakan di bidang pemerintahan dan perdagangan.

d. **Perekonomian dan Komoditas Perdagangan**

Pendapatan per kapita penduduk Thailand mencapai 2.750 Dollar AS pada tahun 2007. Sektor perekonomian negara ini sangat mengandalkan pertanian. Thailand merupakan negara penghasil beras nomor satu di dunia. Selain beras, hasil pertanian Thailand meliputi jagung, ketela, karet, kayu jati, tebu, dan yute. Daerah pertanian utama dibangun di kawasan daerah aliran Sungai Chao Phraya.

Selain pertanian, bidang yang menjadi andalan Thailand ialah perikanan. Thailand giat membangun perikanan laut. Di beberapa kawasan, Thailand membangun tambak-tambak tempat pembudidayaan ikan dan hewan laut yang memiliki nilai komoditas tinggi seperti tuna, udang, dan kerang.

Untuk bidang pertambangan, Thailand menjadi negara penghasil timah terbesar di dunia. Hasil tambang lainnya yang dihasilkan Thailand meliputi batubara, bijih besi, dan seng. Bidang industri yang dibangun Thailand pun berkembang pesat. Industri Thailand meliputi kendaraan bermotor, rokok, dan pengolahan minyak bumi.



**Gambar 7.24** Arum Wat di Thailand yang dibangun pada abad 14–18.

**Sumber:** *Ensiklopedi Umum untuk Pelajar, Ichtiar baru van Hoeve*



**Gambar 7.25** Patung emas Buddha di Kota Chiang Mai, Thailand.

**Sumber:** *Dokumen Penerbit*

## 9. Timor Leste

Timor Leste memiliki nama resmi nasional *República Democrática de Timor-Leste* dan nama resmi internasional *Democratic Republic of East Timor*. Ibukota Timor Leste adalah Dilli. Sistem pemerintahannya republik sosialis. Kepala negara Timor Leste dijabat oleh seorang presiden, sedangkan kepala pemerintahan dijabat oleh seorang perdana menteri yang diangkat oleh presiden. Mata uang negara ini ialah Dollar Amerika. Dahulu, negara ini bernama Timor Timur dan merupakan salah satu provinsi di negara Indonesia. Namun, pada jajak pendapat yang diadakan tahun 1999, sebagian besar penduduknya menginginkan kemerdekaan sehingga Timor Leste pun berdiri sebagai negara merdeka yang berdaulat penuh.

a. **Letak dan Luas**

Timor Leste merupakan negara yang sebagian besar wilayahnya terletak di bagian timur Pulau Timor. Bagian lainnya terletak di barat laut Pulau Timor. Secara astronomis Timor Leste terletak pada 8°–9°LS dan 124,5°–127°20'BT. Timor Leste berbatasan dengan Laut Banda di sebelah utara dan timur, dengan Laut Timor di selatan, serta dengan Indonesia di barat. Luas wilayah Timor Leste mencapai 14.874 km<sup>2</sup> (5.743 mil<sup>2</sup>).



### Wawasan Sosial

Presiden Timor Leste yang pertama ialah José Alexandre ("Xanana") Gusmão yang pernah mendekam di Penjara Cipinang Jakarta karena tuduhan pemberontakan terhadap pemerintah Indonesia. Setelah Timor Leste merdeka, Presiden Xanana Gusmão pernah menyatakan bahwa dirinya tidak merasa dendam pada rakyat Indonesia, bahkan dia menyatakan bahwa Indonesia adalah saudara tua Timor Leste. Presiden Xanana Gusmão membangun hubungan diplomatik yang erat dengan Indonesia.



b. Kondisi Alam dan Iklim

Sebagian lahan Timor Leste berbukit-bukit dan terjal. Gunung Tata Mailau yang berketinggian 2.950 meter di kawasan barat merupakan puncak tertinggi. Di kawasan pegunungan selatan, banyak terdapat hutan akasia dan ekaliptus, namun bagian utaranya gersang dan kering. Binatang yang hidup di Timor Leste sama dengan binatang yang dapat ditemukan di bagian Pulau Timor lainnya seperti kuda, rusa, dan aneka jenis kadal.

Suhu di Timor Leste sama dengan suhu di kawasan Indonesia bagian timur yang panas dengan curah hujan tinggi. Iklim yang tropis membuat Timor Leste memiliki dua musim. Musim hujan berlangsung antara Desember hingga Maret. Sementara musim kemarau jatuh pada bulan April hingga Oktober. Antara bulan Oktober hingga Desember merupakan musim peralihan.



**Gambar 7.26** Peta wilayah Timor Leste.  
**Sumber:** *Atlas Dunia Buana Raya*

c. Kependudukan

Perkiraan jumlah penduduk Timor Leste pada tahun 2007 mencapai 1.084.971 jiwa. Sekitar 92% di antaranya hidup di kawasan perkotaan. Sebagian besar penduduk Timor Leste adalah suku Tetum. Etnis lainnya meliputi keturunan Indonesia, Portugis, dan Arab yang hidup dalam komunitas-komunitasnya sendiri. Walau begitu, etnis minoritas juga memegang peranan yang cukup penting. Bahkan pada Pemilihan Umum Pertama Timor Leste tahun 2002, salah seorang etnis Arab, yakni Mari Alkatiri, berhasil terpilih sebagai Perdana Menteri Timor Leste yang pertama.

Mayoritas penduduk Timor Leste menganut agama Katolik Roma (90%). Sisanya menganut agama Islam, Kristen

**Wawasan Sosial**

Rumah adat Timor Leste dihiasi dengan gambar buaya. Menurut legenda, Pulau Timor berasal dari buaya.



Protestan, dan kepercayaan animisme. Bahasa nasional Timor Leste adalah bahasa Portugal dan bahasa Tetum. Selain itu, penduduknya juga ada yang berbicara dalam bahasa Indonesia dan bahasa Inggris.

d. **Perekonomian dan Komoditas Perdagangan**

Sejak kemerdekaannya, Timor Leste merupakan salah satu negara termiskin di dunia yang sangat mengandalkan bantuan dari negara-negara lain. Pendapatan nasional brutto negara ini mencapai 349.000.000 Dollar Amerika, dengan pendapatan per kapita 357 dolar Amerika. Sebanyak 49.8% dihasilkan melalui sektor jasa, 27.4% dari industri, 22.8% dari pertanian.

Sebanyak 73% angkatan kerja Timor Leste bekerja di sektor pertanian. Beberapa tanaman yang giat dikembangkan ialah kopi, kacang, cengkeh, kakao, beras, ketela, dan ubi. Kopi merupakan komoditas ekspor utama Timor Leste. Sebanyak 22% angkatan kerja lainnya bekerja di sektor jasa yang meliputi perdagangan, keuangan, dan pelayanan publik. Sisanya 5% bekerja di sektor industri yang terbatas pada tekstil, pembuatan botol, dan pengolahan kopi.



**Gambar 7.27** Pasar tradisional di Timor Leste.

**Sumber:** Microsoft Student 2006

## 10. Vietnam

Vietnam memiliki nama resmi internasional *the Socialist Republic of Vietnam*. Ibukota Vietnam terletak di Kota Hanoi. Sistem pemerintahannya ialah republik sosialis-komunis. Kepala negara Vietnam dijabat oleh seorang presiden, sedangkan kepala pemerintahan dijabat oleh seorang perdana menteri. Baik presiden maupun perdana menteri dipilih oleh Majelis Nasional Vietnam. Mata uang negara ini ialah *Dong*. Vietnam memproklamasikan kemerdekaannya dari tangan Prancis pada bulan September 1945.

a. **Letak dan Luas**

Vietnam merupakan negara yang terletak di kawasan pesisir timur Indocina. Secara astronomis Vietnam terletak pada  $8^{\circ}$ – $21^{\circ}$ LU dan  $102^{\circ}$ – $109^{\circ}$ BT. Sebagian besar wilayah Vietnam merupakan kawasan pantai yang memanjang. Vietnam berbatasan dengan Republik Rakyat Cina di sebelah utara, dengan Laos dan Kamboja di barat, dan dengan Laut Cina Selatan di selatan dan timur. Luas wilayah Vietnam mencapai  $331.690 \text{ km}^2$  ( $128.066 \text{ mil}^2$ ).

b. **Kondisi Alam dan Iklim**

Kawasan barat laut Vietnam merupakan suatu dataran tinggi yang dikenal dengan nama Dataran Tinggi Yunan. Di dataran tinggi inilah terdapat gunung tertinggi di Vietnam, yakni Gunung Fan Si Pan yang berketinggian 3.143 meter. Sementara di kawasan timur Vietnam terdapat Delta Sungai Merah di sepanjang Teluk Tonkin. Pada bagian selatan, terdapat Dataran Tinggi Annam yang membujur dari arah barat laut ke tenggara. Di ujung selatan tersebut juga terdapat wilayah Delta Sungai Mekong yang merupakan kawasan subur.



**Gambar 7.28** Sungai Mekong di Vietnam selain dimanfaatkan untuk pertanian, juga untuk transportasi.

**Sumber:** Microsoft Student 2006



## Tugas Mandiri

Buatlah tabel untuk mengisikan informasi tentang Vietnam selengkapnya. Setelah selesai, diskusikan di kelas unsur-unsur fisik dan sosial negara Vietnam dan bandingkan dengan negara kita dengan panduan guru. Perbaiki daftarmu apabila ada tambahan.

Iklim tropis mewarnai kondisi alam Vietnam. Temperatur dan curah hujan di Vietnam sangat tinggi. Karena itu, sebagian besar wilayah Vietnam diselubungi oleh hutan hujan tropis. Jenis tanaman yang banyak ditemukan di hutan-hutan Vietnam ialah pinus, bambu, jati, dan beberapa jenis pohon berdaun lebar. Adapun di daerah pesisir banyak terdapat hutan bakau. Beberapa jenis binatang yang hidup di Vietnam meliputi binatang-binatang khas Asia seperti harimau, lembu, macan kumbang, dan gajah.



**Gambar 7.29** Peta wilayah Vietnam.  
**Sumber:** *Atlas Dunia Buana Raya*

### c. Kependudukan

Pada tahun 2007, diperkirakan jumlah penduduk Vietnam mencapai 85.262.356 jiwa. Rata-rata kepadatan penduduk mencapai 262 orang per km<sup>2</sup> (679 per mil<sup>2</sup>). Sebagian besar penduduk Vietnam tinggal di kawasan Delta Sungai Merah atau Sungai Mekong.

Penduduk Vietnam terdiri dari beragam etnis dan suku bangsa. Bangsa Viet yang merupakan penduduk asli Vietnam mencapai jumlah 90% dari total penduduk. Kemudian



diikuti oleh etnis Cina yang merupakan etnis minoritas terbesar. Sisanya terdiri atas etnis Campa, Kamboja, Thailand, dan Laos.

Sebagai negara komunis-sosialis, Vietnam tidak mengakui keberadaan agama. Namun, mayoritas penduduk Vietnam menganut agama Buddha Mahayana. Agama lainnya ialah Kong Hucu, Buddha Theravada, Katolik Roma, dan sedikit pemeluk Islam. Bahasa persatuan Vietnam adalah bahasa Viet. Selain itu, penduduk Vietnam juga ada yang berbahasa Prancis. Sebagian lainnya menggunakan bahasa Cina, Mon-Khmer, dan Campa. Bahasa Inggris dan bahasa Rusia banyak digunakan oleh orang-orang yang tinggal di kawasan perkotaan.

d. **Perekonomian dan Komoditas Perdagangan**

Pendapatan per kapita penduduk Vietnam hanya mencapai 630.50 Dollar AS pada tahun 2005. Vietnam merupakan negara agraris. Sektor perekonomian negara ini sangat mengandalkan pertanian. Vietnam merupakan negara penghasil beras nomor tiga di dunia setelah Thailand dan Amerika Serikat. Selain beras, hasil pertanian Vietnam meliputi buah-buahan, jagung, ketela, karet, kayu jati, tebu, teh, dan ubi. Daerah pertanian utama dibangun di kawasan daerah aliran Sungai Mekong dan Sungai Merah.

Selain pertanian, bidang yang menjadi andalan Vietnam ialah perikanan. Vietnam giat membangun perikanan laut maupun darat. Kawasan Vietnam yang sebagian besar merupakan pesisir dengan banyak aliran sungai memungkinkan negara ini mengembangkan sektor perikanan dengan baik. Ikan dan hewan laut yang dikembangkan merupakan jenis yang memiliki nilai komoditas tinggi seperti kerang, udang, kepiting, dan makarel.

Untuk bidang pertambangan, Vietnam menjadi salah satu negara penghasil batubara terbesar di dunia. Hasil tambang lainnya yang dihasilkan Vietnam meliputi tembaga, timah, seng, dan krom. Bidang industri yang dibangun Vietnam pun berkembang pesat setelah usainya perang Vietnam. Industri Vietnam meliputi makanan, tekstil, semen, kimia, kertas, dan industri pupuk.

## Wawasan Sosial

Manusia perahu vietnam berasal dari pengungsi akibat perang dengan menggunakan perahu-perahu



**Gambar 2.30** Pertanian menjadi andalan perekonomian di Vietnam.

**Sumber:** *Ensiclopedia Umum untuk Pelajar, Ichtiar Baru van Hoeve*





## Rangkuman

- ❖ Asia Tenggara adalah wilayah yang terletak di sebelah selatan kawasan Asia Timur.
- ❖ Kawasan Asia Tenggara terdiri atas daerah Indocina, Semenanjung Melayu, dan beberapa pulau serta kepulauan di sekitarnya.
- ❖ Secara umum wilayah Asia Tenggara terbagi atas subwilayah daratan dan kepulauan.
- ❖ Negara-negara yang berada di subwilayah daratan ialah Myanmar, Laos, Kamboja, Thailand, Vietnam, dan sebagian Malaysia.
- ❖ Adapun negara-negara yang berada di subwilayah kepulauan antara lain Brunei Darussalam, Indonesia, Filipina, Singapura, Timor Leste, dan sebagian wilayah Malaysia.
- ❖ Kebudayaan dan kehidupan ekonomi penduduk di kawasan Asia Tenggara sangat dipengaruhi oleh alur sungai dan hutan tropis.
- ❖ Seluruh negara-negara di kawasan Asia Tenggara adalah anggota ASEAN, kecuali Timor Leste yang sedang dalam proses menjadi anggota.

## Refleksi

Kamu sudah belajar mengenai unsur geografis dan penduduk Asia Tenggara. Sekarang berilah tanda cek (√) pada kolom Ya atau Tidak.

No	Pernyataan	Ya	Tidak
1.	Apakah kamu sudah mengetahui negara-negara yang berada di kawasan Asia Tenggara?		
2.	Apakah kamu mampu mendeskripsikan keadaan geografis negara-negara di kawasan Asia Tenggara?		
3.	Sudah pahamkah kamu bahwa keadaan geografis suatu wilayah mempengaruhi keadaan sosial penduduknya?		

## Latihan Soal

7

*Kerjakan di buku tugasmu!*

### I. Pilihlah satu jawaban yang paling tepat!

1. Berikut ini negara yang berada di sub-wilayah Asia Tenggara kepulauan adalah ....
  - a. Myanmar
  - b. Kamboja
  - c. Filipina
  - d. Vietnam
2. Di bawah ini merupakan nama sungai yang ada di Asia Tenggara, *kecuali* ....
  - a. Sungai Mekhong
  - b. Sungai Chao Phraya
  - c. Sungai Irawadi
  - d. Sungai Gangga



3. Puncak tertinggi di negara Brunei Darussalam ialah ....
  - a. Bukit Pagon
  - b. Bukit Jalil
  - c. Bukit Barisan
  - d. Bukit Tursina
4. Usaha pertanian yang digarap Brunei Darussalam menghasilkan ....
  - a. anggur
  - b. kelapa
  - c. apel
  - d. buah kiwi
5. Pulau terbesar di sebelah utara Filipina ialah ....
  - a. Pulau Luzon
  - b. Pulau Mindanao
  - c. Pulau Jolo
  - d. Pulau Sulu
6. Suku bangsa yang paling dominan di Filipina adalah ....
  - a. Tagalog
  - b. Ilocano
  - c. Bicolano
  - d. Melayu
7. Barang yang diimpor Indonesia dari Filipina ialah ....
  - a. madu dan semen putih
  - b. batu bata dan sirup
  - c. mobil dan motor
  - d. beras dan gandum
8. Salah satu danau yang terdapat di Kamboja adalah ....
  - a. Danau Sap
  - b. Danau Toba
  - c. Danau Lake
  - d. Danau Mekong
9. Mayoritas penduduk Kamboja menganut agama ....
  - a. Islam
  - b. Buddha Theravada
  - c. Katolik Roma
  - d. Yahudi
10. Satu-satunya negara di Asia Tenggara yang tidak berbatasan dengan laut ialah ....
  - a. Laos
  - b. Thailand
  - c. Filipina
  - d. Singapura
11. Kepala pemerintahan negara Kamboja adalah ....
  - a. kaisar
  - b. raja
  - c. presiden
  - d. perdana menteri
12. Ibu kota negara Laos adalah ....
  - a. Phnom Phen
  - b. Manila
  - c. Vientiane
  - d. Bangkok
13. Berikut ini adalah suku bangsa utama yang terdapat di Laos, *kecuali* ....
  - a. Lao Lum
  - b. Lao Thoeng
  - c. Lao Sung
  - d. Lao Mung
14. Malaysia bagian barat terletak di ....
  - a. Semenanjung Malaya
  - b. Pulau Kalimantan
  - c. Pulau Sumatra
  - d. kepulauan
15. Timor Leste adalah negara termuda di Asia Tenggara yang merdeka pada tahun ....
  - a. 1998
  - b. 1999
  - c. 2000
  - d. 2001

## II. Jawablah pertanyaan berikut dengan benar!

1. Jelaskan kondisi perekonomian dan jenis-jenis komoditas perdagangan negara Singapura!
2. Jelaskan kondisi alam dan iklim di Thailand!
3. Bagaimanakah letak dan luas negara Timor Leste?
4. Bagaimanakah keadaan bentang alam Vietnam?
5. Jelaskan pembagian wilayah di Brunei Darussalam!



*Bacalah wacana di bawah ini dengan saksama!*

### Sultan Terengganu di Pucuk Malaysia

Raja baru Malaysia dilantik. Selain melestarikan tradisi Melayu, sosok raja juga punya kekuatan politik seperti mengesahkan undang-undang.

Berdasarkan sistem pergiliran, Sultan Mizan terpilih menggantikan Tuanku Syed Sirajuddin Syed Putra Jamalullail sebagai Yang di-Pertuan Agong ke-13. Ia akan duduk di kursi barunya selama lima tahun.

Malaysia memang mempertahankan tradisi kesultanan sebagai kelanjutan dari eksistensi Kerajaan Melayu masa lalu. Etnis Melayu menguasai 60 persen dari 25 juta penduduk Malaysia. Pengamat politik dan budaya Melayu, Shamsul Amri Baharruddin, menyatakan sistem monarki akan tetap dipertahankan di Malaysia lantaran itu adalah identitas bangsa Melayu. Ia menganggap negara yang menghapus sistem kerajaan adalah “negara yang kalah oleh pengaruh Barat”. Ia menunjuk contoh Hong Kong dan Indonesia.

Raja Malaysia tidak cuma bertugas dalam acara-acara seremonial, tapi terlibat juga dalam kehidupan politik praktis negeri itu. Sultan bertugas mengesahkan undang-undang. “Tanpa ada tanda tangan sultan, semuanya tidak bisa jalan,” kata Samsul. Selain itu, ia juga menjadi simbol pemimpin Islam Malaysia.

Selain itu monarki di Malaysia dilihat sebagai simbol kekuatan, kekuasaan, dan pemerintahan. Apa pun tindakan pemerintah dilakukan atas nama Yang di-Pertuan Agong yang bertindak sebagai penasihat pemerintah.

**Sumber:** *Tempo*, 24 Desember 2006 dengan perubahan.


#### Langkah-langkah mengerjakan:

1. Bentuklah kelompok yang terdiri atas lima siswa.
2. Bacalah kutipan berita di atas dengan saksama!
3. Carilah berita atau artikel lain yang mendukung atau berkaitan dengan berita di atas!
4. Jawablah pertanyaan-pertanyaan berikut ini dengan mendiskusikannya dalam kelompokmu!
  - a. Menurutmu apakah manfaat mempertahankan tradisi melayu yang dilakukan oleh negara Malaysia?
  - b. Apasajakah kewenangan raja dan perdana menteri di Malaysia?
  - c. Perhatikan ungkapan berikut.  
Negara yang menghapus sistem kerajaan adalah “negara yang kalah oleh pengaruh Barat”. Bagaimana menurutmu?
  - d. Berikan contoh negara lain di Asia Tenggara yang masih menganut sistem monarki, dan berilah uraian singkatnya!
5. Buatlah laporan tertulisnya untuk didiskusikan dengan kelompok lain di kelas!



# Bab 8

## Mempertahankan Keutuhan Bangsa

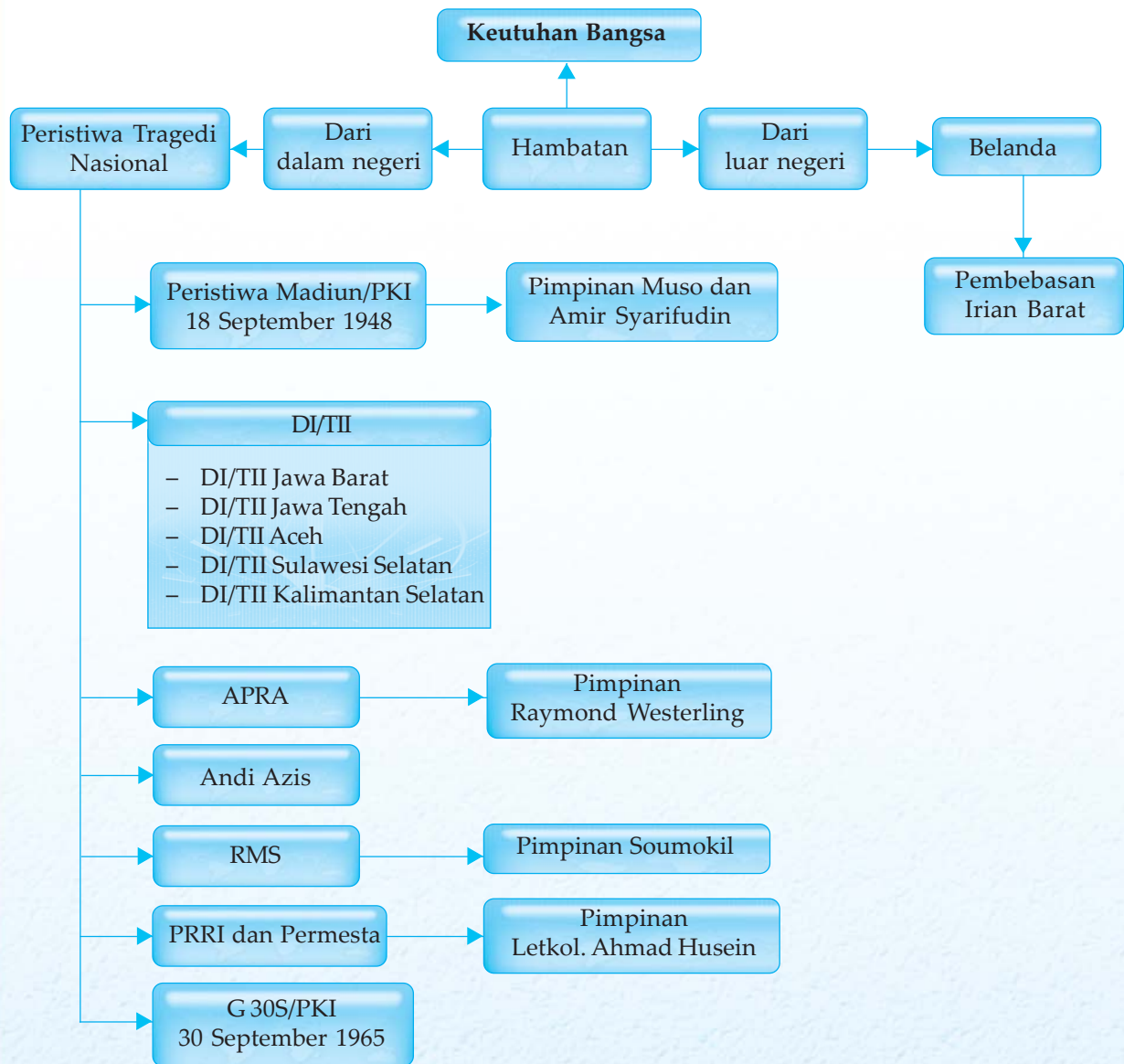


Perjuangan bangsa Indonesia yang bertujuan menyatukan seluruh rakyat Indonesia ternyata harus melewati banyak rintangan dan gangguan.

Untuk lebih memahami usaha-usaha mempertahankan Republik Indonesia, marilah kita mempelajari lewat perjuangan bangsa dalam pembebasan Irian Barat. Selain itu, pada bab ini juga akan dibahas mengenai tragedi-tragedi seputar usaha mempertahankan kedaulatan bangsa, seperti Peristiwa Madiun/PKI, DI/TII, G 30S/PKI, dan konflik-konflik internal lainnya.



# Peta Konsep



## Kata Kunci

- perjuangan
- diplomasi
- Trikora
- pepera
- DI/TII
- komunis



Dalam upaya mempertahankan kemerdekaan, bangsa Indonesia menghadapi berbagai pergolakan, baik dari dalam maupun luar negeri. Pergolakan dari dalam negeri terutama berkaitan dengan hubungan antara pemerintah pusat dengan pemerintah daerah, serta permasalahan ideologi. Sementara proses perjuangan yang dilakukan bangsa Indonesia dalam pembebasan Irian Barat berikut ini menunjukkan campur tangan bangsa lain yang berusaha merongrong keutuhan bangsa Indonesia.



## A. Perjuangan Membebaskan Irian Barat

Bentuk perjuangan yang dijalankan pemerintah cenderung menerapkan upaya diplomasi untuk menyelesaikan konfliknya dengan penjajah. Namun, karena watak penjajah yang selalu ingkar janji, maka kesepakatan pun tidak terlaksana. Demikian juga dengan perjuangan diplomasi yang dilakukan bangsa Indonesia untuk membebaskan Irian Barat.

Sesuai isi KMB, Irian Barat akan diserahkan oleh Belanda satu tahun setelah pengakuan kedaulatan RIS. Namun, pada kenyataannya lebih dari satu tahun pengakuan kedaulatan Indonesia, Belanda tidak kunjung menyerahkan Irian Barat pada Indonesia. Bahkan pada tahun 1952, Belanda memasukkan Irian Barat ke dalam wilayah kekuasaan Kerajaan Belanda. Padahal, sebelumnya Indonesia berupaya melakukan pendekatan bilateral dengan Belanda dalam penyelesaian masalah Irian Barat sejak masa Kabinet Natsir. Akhirnya, Indonesia membawa masalah Irian Barat ke forum PBB pada masa Kabinet Ali Sastroamijoyo I dan dilanjutkan pada masa Kabinet Burhanuddin Harahap. Namun upaya ini tidak membawa hasil.

Pembebasan Irian Barat merupakan tuntutan nasional yang didukung oleh semua partai politik dan semua golongan. Tuntutan itu didasarkan atas Pembukaan UUD 1945, yang berbunyi, “untuk membentuk suatu pemerintahan negara Indonesia yang melindungi segenap bangsa Indonesia dan seluruh tumpah darah Indonesia ....” Sedangkan Irian Barat adalah bagian mutlak dari tumpah darah Indonesia.

Oleh karena berbagai upaya diplomasi tidak berhasil, pemerintah Indonesia akhirnya memutuskan untuk menempuh sikap keras melalui konfrontasi total terhadap Belanda.

Pada tahun 1956, Indonesia secara sepihak membatalkan hasil KMB dan secara otomatis membubarkan Uni Indonesia-Belanda. Melalui UU No. 13 Tahun 1956 tanggal 3 Mei 1956, Indonesia menyatakan bahwa Uni Indonesia-Belanda tidak ada.

Pada 18 November 1957, diadakan rapat umum pembebasan Irian Barat di Jakarta. Rapat tersebut mendorong seluruh rakyat Indonesia untuk mendukung kebijakan yang ditempuh pemerintah Indonesia dalam upaya merebut Irian Barat.



### Wawasan Sosial

Pasal 1 persetujuan Konferensi Meja Bundar (KMB) mengenai penyerahan kedaulatan atas Indonesia berbunyi, “Kerajaan Belanda menyerahkan kedaulatan sepenuhnya atas Indonesia kepada Republik Indonesia Serikat dengan tidak bersyarat dan tidak dapat dicabut dan karena itu mengakui Republik Indonesia Serikat sebagai negara yang berdaulat”.

Sumber: Sejarah Nasional Indonesia



### Tugas Mandiri

Apa yang dimaksud nasionalisasi perusahaan Belanda yang ada di Indonesia?



## Tugas Bersama

Diskusikan dengan temanmu sebangku! Berikan penilaian mengenai kemampuan strategi perjuangan, baik bersenjata maupun secara diplomasi!



**Gambar 8.1** Suasana rapat umum pembebasan Irian Barat di Jakarta pada 18 November 1957.

**Sumber:** 30 Tahun Indonesia Merdeka

Para buruh Indonesia yang bekerja di perusahaan-perusahaan Belanda melakukan mogok massal yang diikuti oleh pemboikotan berbagai media massa dan film-film buatan Belanda. Akhirnya pemerintah melakukan nasionalisasi terhadap berbagai perusahaan Belanda yang ada di Indonesia pada tahun 1957, seperti Bank Escompto, perusahaan Philips dan KLM, serta percetakan *de Uni*. Untuk mencegah tindakan anarki dan untuk menampung keinginan rakyat banyak, maka Kepala Staf Angkatan Darat (Kasad) Jenderal Nasution selaku Penguasa Perang Pusat memutuskan untuk mengambil alih semua perusahaan Belanda, dan kemudian menyerahkannya kepada pemerintah.

Pada 17 Agustus 1960, Indonesia secara sepihak memutuskan hubungan diplomatik dengan Belanda yang diikuti oleh pemecatan seluruh warga negara Belanda yang bekerja di Indonesia. Kemudian pemerintah Indonesia mengusir semua warga negara Belanda yang tinggal di Indonesia dan memanggil pulang duta besar serta para ekspatriat Indonesia yang ada di Belanda. Menghadapi konfrontasi Indonesia tersebut, ditanggapi Belanda dengan mempersiapkan pembentukan negara Papua serta segala kelengkapannya seperti lagu kebangsaan dan bendera. Untuk menandingi pembentukan negara Papua, pemerintah RI membentuk Provinsi Irian Barat dengan ibu kota di Soasiu (Tidore).

Usaha merebut Irian Barat yang sebelumnya dilakukan dengan cara diplomasi dan tekanan-tekanan ekonomi, mulai ditingkatkan ke arah perjuangan dengan kekuatan bersenjata.

Dalam rangka persiapan suatu kekuatan militer untuk merebut Irian, pemerintah Republik Indonesia mencari bantuan senjata ke luar negeri. Pembelian senjata itu dilakukan ke negara Moskow, India, Pakistan, Thailand, Filipina, Australia, Selandia baru, Jerman, Prancis, dan Inggris.

Mengetahui usaha yang dilakukan oleh Indonesia tersebut, Belanda mulai menyadari bahwa bila Irian Barat tidak diserahkan secara damai kepada Indonesia, maka Indonesia akan membebaskannya dengan kekuatan militer. Menghadapi



persiapan-persiapan Indonesia itu, Belanda mengajukan protes kepada PBB dengan menuduh Indonesia melakukan agresi, selanjutnya PBB memperkuat kedudukannya di Irian Barat dengan mendatangkan bantuan dan mengirimkan kapal perangnya ke perairan Irian Barat, di antaranya kapal induk Karel Doorman.

Puncak konfrontasi Indonesia terhadap Belanda terjadi saat Presiden Soekarno mengumandangkan Trikora (Tri Komando Rakyat) pada tanggal 19 Desember 1961 di Jogjakarta. Adapun isi Trikora adalah sebagai berikut.

1. Gagalakan pembentukan negara boneka Papua buatan Belanda kolonial.
2. Kibarkan sang Merah Putih di Irian Barat tanah air Indonesia.
3. Bersiaplah untuk mobilisasi umum mempertahankan kemerdekaan dan kesatuan tanah air dan bangsa.

Untuk melaksanakan Trikora, pada tanggal 2 Januari 1962 Presiden/Pangti ABRI/Panglima Besar Komando Tertinggi Pembebasan Irian Barat mengeluarkan keputusan Nomor 1 Tahun 1962 untuk membentuk *Komando Mandala Pembebasan Irian Barat* di Makassar (Ujung Pandang). Komando Mandala bertugas untuk berikut ini.


1. Merencanakan, mempersiapkan, dan menyelenggarakan operasi-operasi militer dengan tujuan mengembalikan wilayah Provinsi Irian Barat ke dalam kekuasaan negara Republik Indonesia.
2. Mengembangkan situasi militer di wilayah Irian Barat:
  - a. sesuai dengan taraf taraf perjuangan di bidang diplomasi;
  - b. supaya dalam waktu yang sesingkat-singkatnya di wilayah Provinsi Irian Barat dapat secara *de facto* diciptakan daerah-daerah bebas atau didudukkan untuk kekuasaan/pemerintah daerah Republik Indonesia.



**Gambar 8.2** Pengambilalihan perusahaan KLM yang dilakukan di Jakarta pada bulan Desember 1957.

**Sumber:** 30 Tahun Indonesia Merdeka





**Gambar 8.3** Saat berpidato pada rapat raksasa di Jogjakarta tanggal 19 Desember 1961, Presiden Soekarno mengumandangkan Trikora.

**Sumber:** 30 Tahun Indonesia Merdeka

Komando Mandala merencanakan operasi-operasi pembebasan Irian Barat dalam tiga fase, yaitu sebagai berikut.

1. Fase Infiltrasi

Fase ini berlangsung sampai akhir 1962. Pada fase ini usaha pembebasan wilayah Irian Barat melibatkan rakyat dalam perjuangan fisik. Perjuangan pembebasan Irian Barat adalah perjuangan seluruh rakyat Indonesia. Di mana-mana dibentuk kesatuan-kesatuan sukarelawan seperti di kantor-kantor, sekolah-sekolah, organisasi-organisasi, dan sebagainya. Sebagian dari para sukarelawan tersebut bersama-sama dengan ABRI turut serta dalam operasi infiltrasi.

2. Fase Eksploitasi

Fase ini dimulai awal 1963 dengan dilakukan serangan terbuka terhadap lawan untuk menduduki pos-pos pertahanan musuh yang penting.

3. Fase Konsolidasi

Fase ini terjadi awal 1964, di mana mulai ditegakkannya kekuasaan Republik Indonesia di seluruh wilayah Irian Barat.

Antara bulan Maret sampai bulan Agustus 1962 oleh Komando Mandala dilakukan serangkaian operasi-operasi pendaratan melalui laut dan penerjunan dari udara di daerah Irian Barat. Operasi-operasi infiltrasi tersebut berhasil mendaratkan pasukan-pasukan ABRI dan sukarelawan di berbagai tempat di Irian Barat. Antara lain Operasi Banteng di Fak-Fak dan Kaimana, Operasi Srigala di sekitar Sorong dan Teminabuan, Operasi Naga dengan sasaran Merauke, serta Operasi Jatayu di Sorong, Kaimana, dan Merauke.

Sementara itu mulai disusun suatu rencana serangan terbuka merebut Irian Barat sebagai suatu operasi penentuan yang dinamai Operasi Jayawijaya. Untuk melaksana-kan operasi-



operasi tersebut Angkatan Laut Mandala di bawah pimpinan Kolonel Soedomo membentuk Angkatan Tugas Amphibi 17, terdiri atas tujuh gugus tugas, sedangkan Angkatan Udara membentuk enam kesatuan tempur baru.

Pada mulanya Belanda mencemoohkan persiapan-persiapan Komando Mandala tersebut. Mereka mengira, bahwa pasukan Indonesia tidak mungkin dapat masuk ke wilayah Irian. Tetapi setelah ternyata bahwa operasi-operasi infiltrasi dari pihak kita ber-hasil yang antara lain terbukti dengan jatuhnya Teminabuan ke tangan pasukan Indonesia, maka Belanda bersedia untuk duduk pada meja perundingan guna menyelesaikan sengketa Irian. Dan dunia luar pun yang dulunya mendukung posisi Belanda di forum PBB mulai mengerti bahwa Indonesia tidak main-main.

Sementara itu Pemerintah Kerajaan Belanda sedikit banyak mendapat tekanan dari pihak Amerika Serikat untuk berunding, untuk mencegah terseretnya Uni Sovyet dan Amerika Serikat ke dalam suatu konfrontasi langsung di Pasifik Barat-daya di mana masing-masing pihak memberi bantuan kepada pihak yang lain di-antara yang bersengketa, yaitu Republik Indonesia dan Kerajaan Belanda. Dengan demikian pada tanggal 15 Agustus 1962 ditandatangani suatu perjanjian antara Pemerintah Indonesia dengan Pemerintah Belanda di New York, yang terkenal dengan *Perjanjian New York*.

Adapun isi dari Perjanjian New York adalah sebagai berikut.

1. Kekuasaan Belanda atas Irian Barat berakhir pada 1 Oktober 1962.
2. Irian Barat akan berada di bawah perwalian PBB hingga 1 Mei 1963 melalui lembaga UNTEA (*United Nations Temporary Executive Authority*) yang dibentuk PBB.
3. Pada 1 Mei 1963, Irian Barat akan diserahkan kepada pemerintah Indonesia.
4. Pemerintah Indonesia wajib mengadakan penentuan pendapat rakyat (pepera) Irian Barat untuk menentukan akan berdiri sendiri atau tetap bergabung dengan Indonesia, pada tahun 1969 di bawah pengawasan PBB.

Perjanjian itu berdasarkan prinsip-prinsip yang diusulkan oleh Duta Besar Ellsworth Bunker dari Ameirika Serikat, yang oleh Sekretaris Jenderal PBB diminta untuk menjadi penengah. Soal yang terpenting dalam perjanjian itu, ialah mengenai penyerahan pemerintahan di Irian dari pihak Kerajaan Belanda kepada PBB. Untuk kepentingan tersebut dibentuklah United Nations Temporary Excecutive Authority (UNTEA) yang pada gilirannya akan menyerahkan pemerintahan itu kepada Republik Indonesia se-belum tanggal 1 Mei 1963. Sedangkan Indonesia menerima kewajiban untuk mengadakan Penentuan Pendapat Rakyat (Pepera) di Irian sebelum akhir tahun 1969, dengan ketentuan bahwa: kedua belah pihak, Indonesia dan Belanda, akan menerima hasil-hasilnya.

### Tugas Mandiri

Kapan Komando Tertinggi Pembebasan Irian Barat dibentuk dan dibubarkan?

### Tugas Bersama

Jelaskan tahap-tahap pengambilan alihan Irian Barat ke Indonesia, sesuai Perjanjian New York! Diskusikan dengan temanmu sebangku!



Selanjutnya untuk menjamin keamanan di wilayah Irian Barat, PBB membentuk pasukan keamanan yang dinamakan *United Nations Security Forces* (UNSF) di bawah pimpinan Brigadir Jenderal Said Udin Khan dari Pakistan.

Sesuai dengan Persetujuan New York, pada tanggal 1 Mei 1963 kekuasaan pemerintahan atas Irian Barat dari UNTEA diserahkan kepada Indonesia. Dengan kembalinya Irian Barat ke pangkuan Republik Indonesia, maka Komando Mandala juga dibubarkan. Operasi terakhir yang dilaksanakan oleh Komando Mandala untuk menyelenggarakan penyerahan kekuasaan pemerintahan Irian Barat dari UNTEA kepada pemerintah RI adalah Operasi Wisnumurti.

Dari hasil Pepera tahun 1969 itu, Dewan Musyawarah Pepera secara aklamasi memutuskan bahwa Irian Barat tetap ingin bergabung dengan Indonesia. Hasil musyawarah pepera tersebut dilaporkan dalam Sidang Majelis Umum PBB ke-24 oleh diplomat PBB, Ortiz Sanz yang bertugas di Irian Barat.

Kembalinya Irian Barat ke pangkuan pemerintah Republik Indonesia berarti kembali membaiknya hubungan diplomatik antara Indonesia dengan Belanda. Oleh karena itu, pada tahun 1963 itu juga, dilakukan pembukaan Kedutaan Besar Republik Indonesia di Den Haag dan Kedutaan Besar Kerajaan Belanda di Jakarta.



**Gambar 8.4** Suasana tanggal 1 Mei 1963 saat penurunan bendera PBB (UNTEA) yang sejak bulan Oktober 1962 berkibar berdampingan dengan Sang Merah Putih.

**Sumber:** 30 Tahun Indonesia Merdeka

## **B. Peristiwa Tragedi Nasional**

Pengakuan kedaulatan Indonesia oleh Belanda tidak lantas menjadikan negara Indonesia aman dan sejahtera. Jalannya pemerintahan di Indonesia mengalami pasang surut seiring berbagai pergolakan yang terjadi.



Beberapa pergolakan yang muncul akibat ketidakharmonisan hubungan pusat dan daerah serta persaingan ideologis memicu ketidakpuasan dari pihak-pihak yang merasa tersisihkan dalam pemerintahan. Hal ini lambat laun berkembang menjadi pemberontakan yang bertujuan menggulingkan pemerintahan yang sah. Dalam upaya mengatasi persoalan tersebut, salah satu kepedulian pemerintah adalah membentuk Kabinet Juanda. Melalui Kabinet Juanda pemerintah mengadakan Munas pada tanggal 10–14 September 1957 yang bertujuan memperbaiki hubungan antara pusat dengan daerah, menginginkan keutuhan Dwi Tunggal Soekarno–Hatta, dan menjalin hubungan antara pusat dengan daerah.

Berikut ini berbagai pergolakan di beberapa daerah yang berusaha merongrong keutuhan bangsa Indonesia.

### 1. Peristiwa Madiun/PKI

Persetujuan Renville tidak menjamin secara tegas kedudukan Republik Indonesia. Wilayah Republik Indonesia pun juga menjadi semakin sempit. Akibat Persetujuan Renville itu, Kabinet Amir Syarifuddin jatuh, karena dianggap terlalu menguntungkan Belanda. Oleh karena itu, pada tanggal 23 Januari 1948 Amir Syarifuddin menyerahkan mandatnya kepada Presiden Republik Indonesia. Kemudian Presiden Republik Indonesia menunjuk Mohammad Hatta untuk membentuk kabinet.

Setelah menyerahkan mandatnya kepada pemerintah Republik Indonesia, Amir Syarifuddin menjadi oposisi dari pemerintahan Kabinet Mohammad Hatta. Ia menyusun kekuatan dalam Front Demokrasi Rakyat (FDR) yang mempersatukan semua golongan sosialis kiri dan komunis. Melalui kegiatan-kegiatan politik FDR inilah, Amir Syarifuddin merongrong Kabinet Hatta. Kegiatan politik FDR dibarengi dengan usaha-usaha untuk memancing bentrokan dengan golongan lawan politiknya, sehingga berakibat terjadinya kerusuhan, terutama di daerah Surakarta.

Pada tanggal 5 Juli 1948 kaum buruh yang berada di bawah pengaruh FDR mengadakan pemogokan di pabrik karung Delanggu. Kemudian terjadi bentrokan antara sekelompok pemogok dengan Serikat Tani Islam Indonesia (STII) yang menentang pemogokan politik itu.

Bersamaan dengan kegiatan FDR, pada bulan Agustus 1948, seorang tokoh PKI dari zaman sebelum Perang Dunia II yang bernama Muso kembali dari perantauannya di Uni Soviet. Kedatangan Muso ternyata membawa garis baru bagi kaum komunis dan membawa perubahan-perubahan besar dalam gerakan komunis. Partai yang berhaluan komunis, yakni Partai Sosialis pimpinan Amir Syarifuddin pada akhir Agustus 1948 berfusi dengan PKI. Muso terpilih sebagai ketua PKI dan Amir Syarifuddin sebagai sekretarisnya.



**Gambar 8.5** Muso, pemimpin pemberontakan PKI yang berhasil ditembak mati di Ponorogo.

**Sumber:** 30 Tahun Indonesia Merdeka





**Gambar 8.6** Amir Syarifuddin pemimpin FDR tertangkap di hutan Ngrambe, Grobogan daerah Purwodadi.

**Sumber:** 30 Tahun Indonesia Merdeka

Di bidang politik, Muso mengemukakan kebijakan pemerintah dan strategi perjuangan pemerintah. Kampanye politik Muso semakin ditingkatkan dengan mengadakan rapat-rapat raksasa. Dalam rapat raksasa di Madiun, Muso menuduh pemerintah Hatta membawa negaranya kepada penjajahan baru dengan bentuk lain.

Muso dan Amir Syarifuddin rajin berkeliling ke berbagai wilayah untuk menarik simpati rakyat dengan cara menjelek-jelekkan pemerintah. Aksi-aksi mereka memicu timbulnya perpecahan di tubuh TNI. Sebagian tentara ada yang bersimpati pada FDR dan sebagian lainnya tetap setia pada pemerintah yang sah.

Pertentangan politik ini meningkat menjadi insiden bersenjata di Solo. Insiden terjadi antara simpatisan FDR/PKI dengan lawan-lawan politiknya, serta dengan TNI. Setelah terjadi insiden bersenjata di Solo, pada tanggal 18 September 1948 di Madiun oleh tokoh-tokoh PKI diproklamasikan berdirinya Republik Sovyet Indonesia. Maka pecahlan pemberontakan PKI di Madiun. Tujuannya meruntuhkan negara Republik Indonesia dan mengganti dengan sebuah negara komunis.

Pemerintah langsung bertindak tegas terhadap aksi pemberontakan PKI Madiun. Panglima Besar Jenderal Sudirman memerintahkan Panglima Divisi II Jawa Tengah Kolonel Gatot Subroto dan Panglima Divisi I Jawa Timur Kolonel Sungkono untuk menggerakkan kekuatan TNI dan polisi guna mematahkan kekuatan PKI.

Akhirnya pada 30 September 1948, Madiun dapat direbut kembali dari tangan PKI. Dalam upaya penumpasan tersebut Muso tewas tertembak di Ponorogo, sementara Amir Syarifuddin dapat ditangkap di Purwodadi–Grobogan yang selanjutnya diadili dan dijatuhi hukuman mati.

## 2. Pemberontakan DI/TII

Sesuai Perjanjian Renville, pasukan TNI harus ditarik mundur dari wilayah-wilayah yang diduduki tentara Belanda. Dengan demikian, semua kesatuan di Jawa Barat juga harus ditarik mundur ke Jawa Tengah yang merupakan wilayah RI.

### a. Pemberontakan DI/TII di Jawa Barat

Dari kesepakatan yang dilakukan antara Indonesia dengan Belanda, ternyata Pasukan Hisbullah dan Sabilillah tidak mau mengakui dan menaati hasil Perjanjian Renville dan tetap bertahan di Jawa Barat yang ketika itu masuk dalam wilayah Belanda. Mereka bertahan di Jawa Barat di bawah pimpinan Sekarmaji Marijan Kartosuwiryo. Kelompok ini menamakan dirinya Derakan Darul Islam. Pada tanggal 7 Agustus 1949, Kartosuwiryo memproklamasikan berdirinya Negara Islam Indonesia (NII) atau Darul Islam (DI) di Malangbong, Tasikmalaya, Jawa Barat. Kartosuwiryo menghimpun pasukan Hisbullah dan Sabilillah untuk membentuk Tentara Islam Indonesia (TII) sebagai kelengkapan pertahanan NII/DI. Gerakan ini kemudian dikenal dengan singkatan DI/TII.

### Tugas Mandiri

Terangkan pelaksanaan Operasi Pagar Betis yang dijalani TNI dengan rakyat di Jawa Barat!



Negara yang baru yang didirikan Kartosuwiryo ini berlandaskan pada ajaran-ajaran Islam. Namun, pada kenyataannya banyak tindakan-tindakan yang di luar ajaran Islam. Tidak sedikit rakyat yang menderita akibat tindakan-tindakan gerombolan DI/TII, seperti perampokan, pembakaran, bahkan pembunuhan.

Semula, pemerintah mencoba menempuh langkah-langkah musyawarah untuk mengatasi pemberontakan. Namun, cara ini tidak berhasil sehingga pemerintah menempuh langkah tegas dengan cara operasi militer. Pemberontakan DI/TII merupakan pemberontakan terpanjang yang pernah terjadi di Indonesia. Hal ini disebabkan DI/TII memperoleh banyak simpati dari rakyat dengan memberikan bantuan dan perlindungan. Oleh karena itu, upaya penumpasan DI/TII sering menemui jalan buntu.

Memasuki awal tahun 1960-an, pasukan TNI dari Divisi melibatkan masyarakat. Operasi tersebut dinamakan Operasi Pagar Betis dan Operasi Bratayuda. Akhirnya, pemberontakan DI/TII dapat ditumpas total pada tanggal 4 Juni 1962. Kartosuwiryo tertangkap di Gunung Geber, Majalaya, untuk kemudian diadili dan dijatuhi hukuman mati.



**Gambar 8.7** Sekarmaji Marjan Kartosuwiryo ditangkap hidup-hidup di Gunung Geber, Majalaya, Jawa Barat pada tanggal 4 Juni 1962.

**Sumber:** 30 Tahun Indonesia Merdeka

#### b. Pemberontakan DI/TII di Jawa Tengah

Kartosuwiryo mengangkat Amir Fatah untuk memimpin gerakan DI/TII di Jawa Tengah. Kemudian Amir Fatah menghimpun kekuatan di Brebes, Tegal, dan Pekalongan. Sementara di wilayah Kebumen, Kiai Somalangu membentuk Angkatan Umat Islam (AUI) untuk membantu perjuangan NII. Pemberontakan ini semakin kuat setelah Batalion 624 pada Desember 1951 membelot dan menggabungkan diri dengan DI/TII.



## Wawasan Sosial

Pemberontakan DI/TII di Aceh dimulai dengan proklamasi Daud Beureueh bahwa Aceh merupakan bagian Negara Islam Indonesia di bawah pimpinan Kartosuwiryo pada tanggal 20 September 1953.

## Tugas Mandiri

Sebutkan peran pendekatan persuasif yang dilakukan pemerintah dalam penumpasan DI/TII di Aceh!



**Gambar 8.7** Kahar Muzakar, selama kurang lebih 14 tahun melakukan teror dan pengacauan di Sulawesi Selatan berhasil ditembak mati oleh pasukan TNI Divisi Siliwangi.

**Sumber:** 30 Tahun Indonesia Merdeka

Penumpasan terhadap pemberontakan DI/TII di Jawa Tengah dilakukan dengan Operasi Guntur dan Gerakan Banteng Negara, yang tergabung dalam Pasukan Banteng Raiders di bawah pimpinan Letnan Kolonel Ahmad Yani. Berkat operasi itu pemberontakan DI/TII di Jawa Tengah dapat ditumpas pada 1954. Sementara itu, untuk mengatasi pembelotan Batalion 624, pemerintah melancarkan Operasi Merdeka Timur pimpinan Letkol. Soeharto.

### c. Pemberontakan DI/TII di Aceh

Pemberontakan DI/TII di Aceh digerakkan oleh Daud Beureueh, yaitu seorang mantan gubernur militer di Aceh yang merasa sakit hati karena pemerintah pusat di Jakarta menurunkan status Aceh yang semula Daerah Istimewa menjadi sebuah karesidenan di bawah Provinsi Sumatra Utara. Pemberontakan ini ditandai dengan diproklamasikannya Aceh sebagai bagian dari NII Kartosuwiryo pada 20 September 1953. Seperti halnya penanganan DI/TII di daerah lain, di Aceh pun pemerintah mencoba menempuh langkah-langkah musyawarah untuk mengatasi pemberontakan ini. Pada tanggal 21 Desember 1962, diadakan musyawarah kerukunan rakyat Aceh yang melibatkan semua pihak atas usul Pangdam Iskandar Muda Kolonel M. Yasin. Dalam musyawarah tersebut, pemerintah berhasil membujuk Daud Beureueh untuk kembali ke pangkuan Republik Indonesia.

### d. Pemberontakan DI/TII di Sulawesi Selatan

Pemberontakan DI/TII di Sulawesi Selatan digerakkan oleh Kahar Muzakar, yaitu seorang mantan Komandan Komando Gerilya Sulawesi Selatan (KGSS) yang sakit hati pada pemerintah pusat di Jakarta karena ditolak usulnya untuk memasukkan semua anggota KGSS sebagai anggota APRI (Angkatan Perang Republik Indonesia). Ketika itu pemerintah justru lebih mengutamakan para mantan anggota KNIL yang jelas-jelas berpihak kepada Belanda dalam revolusi fisik.

Oleh karena itu, Kahar Muzakar membawa semua pasukan dan persenjataannya ke hutan. Pada bulan Januari 1952, Kahar Muzakar menyatakan Sulawesi Selatan sebagai bagian dari NII yang diproklamasikan Kartosuwiryo. Pemberontakan yang digalang Kahar Muzakar sangat dahsyat. Bahkan lebih lama dari pemberontakan DI/TII Pusat yang dipimpin langsung Kartosuwiryo di Jawa Barat. hal ini disebabkan gerombolan memanfaatkan keadaan medan pertempuran yang sudah mereka kenal. Selain itu, gerombolan telah mengenal karakter rakyat Sulawesi Selatan dengan menanamkan kesukuan yang kuat di hati rakyat. Pada bulan Februari 1965, Kahar Muzakar terbunuh dalam sebuah serangan TNI. Pemberontakan DI/TII yang dipimpin Kahar Muzakar baru dapat ditumpas sepenuhnya pada bulan Juli 1965. Penumpasan dilakukan oleh pasukan Teritorium VII diteruskan Divisi Siliwangi.



e. Pemberontakan DI/TII di Kalimantan Selatan

Pemberontakan DI/TII di Kalimantan Selatan digerakkan oleh Ibnu Hajar, yaitu seorang mantan anggota TNI berpangkat letnan dua yang merasa sakit hati pada pemerintah pusat di Jakarta. Ibnu Hajar memimpin sebuah pasukan yang dinamakannya Kesatuan Rakyat Yang Tertindas (KRYT) dan menyatakan Kalimantan Selatan sebagai bagian dari NII yang diproklamasikan Kartosuwiryo. KRYT di bawah pimpinan Ibnu Hajar gencar menyerang pos-pos TNI di berbagai wilayah.

Seperti halnya penanganan DI/TII di daerah lain, pemerintah terlebih dahulu mencoba menempuh langkah-langkah musyawarah untuk mengatasi pemberontakan. Pemerintah menawarkan penerimaan kembali seluruh anggota KRYT ke dalam TNI, asal mereka menghentikan pemberontakannya. Namun hal ini justru digunakan oleh Ibnu Hajar dan KRYT untuk mengelabui pemerintah. Tepat setelah upacara penerimaan kembali KRYT sebagai anggota TNI, seluruh anggota KRYT melarikan diri ke hutan dengan membawa seluruh persenjataan yang baru mereka peroleh dari TNI.

Akhirnya, pemerintah mengambil tindakan tegas dengan melancarkan operasi militer besar-besaran di seluruh Kalimantan Selatan. Dalam sebuah operasi pada bulan Juli 1963, Ibnu Hajar berhasil ditangkap yang selanjutnya diadili dalam Mahkamah Militer. Dalam pengadilan tersebut, ia dinyatakan bersalah dan dijatuhi hukuman mati.

### 3. Pemberontakan APRA (Angkatan Perang Ratu Adil)

Menjelang tahun 1950, kedudukan RIS sudah melemah akibat tuntutan rakyat di seluruh Indonesia yang menghendaki kembalinya bentuk negara kesatuan. Pada saat itu, tokoh-tokoh negara Pasundan bentukan Belanda berpihak pada RI dan berencana membubarkan negara Pasundan untuk kembali bersatu dengan Republik Indonesia.

Pada bulan Januari 1950 seorang mantan tentara KNIL, Kapten Raymond Westerling, menghimpun seluruh unsur APRIS dari para mantan anggota KNIL. Mereka menamakan dirinya Angkatan Perang Ratu Adil (APRA).

Istilah 'Ratu Adil' berasal dari salah satu ramalan Raja Jayabaya dari Kediri bahwa Indonesia baru akan makmur jika dipimpin oleh seorang Ratu Adil. Dengan menggunakan nama 'Ratu Adil' mereka berharap akan dapat menarik simpati rakyat.

APRA mengajukan tuntutan pada pemerintah RIS agar diakui sebagai tentara Pasundan dan negara Pasundan tetap dipertahankan. Karena tidak mendapat tanggapan, maka pada tanggal 23 Januari 1950 APRA secara mendadak menyerang dan dengan cepat menduduki Kota Bandung. Setiap anggota TNI yang mereka jumpai segera ditembak dan tidak kurang dari 79 anggota TNI terbunuh. Seorang perwira TNI bernama Kolonel Lembong mereka bunuh di tengah jalan.

#### Tugas Mandiri

Apa yang melatarbelakangi para pemberontak di negara Pasundan menamakan dirinya sebagai 'Ratu Adil'?





**Gambar 8.9** Gedung Stafkwartier (Markas) Divisi Siliwangi (yang pertama) di Bandung, merupakan salah satu sasaran pokok serangan gerombolan APRA di Bandung pada 23 Januari 1950.

**Sumber:** 30 Tahun Indonesia Merdeka

Untuk menumpas pemberontakan APRA, pemerintah RIS mendatangkan pasukan dari kesatuan-kesatuan polisi Jawa Tengah dan Jawa Timur yang ketika itu sedang berada di Jakarta. Dalam suatu pertempuran di daerah Pacet pada tanggal 24 Januari 1950, APRA berhasil dihancurkan. Akhirnya diketahui bahwa pemberontakan APRA didalangi oleh Sultan Hamid II. Dan tindakan selanjutnya adalah merebut kembali Kota Bandung serta pembersihan pada semua anggota KNIL dan para tokoh negara Pasundan yang terlibat, sehingga APRA dan dalangnya dapat diringkus. Namun, Kapten Raymond Westerling dapat melarikan diri ke negeri Belanda.

#### 4. Pemberontakan Andi Azis

Seperti kamu ketahui, menjelang tahun 1950 kedudukan RIS semakin melemah akibat tuntutan rakyat di seluruh Indonesia yang menghendaki kembali ke bentuk negara kesatuan. Pada saat itu, di Makassar pun sering terjadi aksi unjuk rasa. Untuk itu, pemerintah mengirimkan satu batalyon TNI untuk mengamankan Makassar di bawah pimpinan Mayor Worang. Kebijakan pemerintah tersebut memicu ketidakpuasan oleh sebagian anggota APRIS dari unsur mantan KNIL yang dipimpin oleh Kapten Andi Azis. Mereka menuntut agar hanya anggota APRIS dari unsur mantan KNIL yang bertanggung jawab atas keamanan di Negara Indonesia Timur.

Pada tanggal 8 April 1950, Andi Azis dan pasukannya menyerang pos-pos polisi militer dan menyandera Panglima Teritorial Indonesia Timur Letkol. Mokoginta. Selain itu, mereka juga menduduki beberapa tempat penting lainnya seperti lapangan terbang dan pusat-pusat telekomunikasi.

#### Tugas Mandiri

Jelaskan penyebab awal terjadinya pemberontakan Andi Azis di Makassar!



Tiga hari kemudian, pemerintah RIS memberi ultimatum kepada pasukan Andi Azis. Dalam Ultimatum tersebut dinyatakan bahwa dalam waktu 4×24 jam Andi Azis harus menarik semua pasukan, menyerahkan semua senjata, dan membebaskan seluruh tawanan. Andi Azis juga diwajibkan datang ke Jakarta untuk melaporkan diri.

Akhirnya, Andi Azis tidak menganggap enteng ultimatum yang diberikan pemerintah. Andi Azispun datang ke Jakarta namun pada saat batas waktu yang ditentukan telah lewat. Ia ditangkap dan diadili oleh Mahkamah Militer dengan dijatuhi hukuman mati.

Mekipun Andi Azis sendiri telah menyerahkan diri pada bulan April, namun bukan berarti menghentikan pemberontakan tersebut. Oleh karena itu, pemerintah RIS menggelar operasi militer yang dipimpin oleh Kolonel Alex Kawilarang yang terdiri atas berbagai kesatuan dari ketiga angkatan dan kepolisian. Akhirnya, pada bulan Agustus 1950 seluruh pasukan KNIL yang memberontak dapat dibersihkan dari kawasan Makassar dan sekitarnya.



**Gambar 8.10** Pengadilan Kapten Andi Azis tahun 1953 di Pengadilan Militer Jogjakarta.  
**Sumber:** 30 Tahun Indonesia Merdeka

## 5. Pemberontakan Republik Maluku Selatan (RMS)

Mr. Dr. Ch. R. S. Soumokil ialah Jaksa Agung Negara Indonesia Timur. Saat Andi Azis dan pasukan KNIL melakukan pemberontakan di Makassar, ia turut mendukungnya. Kemudian, setelah Andi Azis dan kawan-kawannya dapat ditumpas, Soumokil lari ke Maluku dan memproklamasikan berdirinya Republik Maluku Selatan (RMS) di Ambon pada tanggal 25 April 1950.

Pemerintah RIS mencoba melakukan pendekatan lewat Dr. J. Leimena untuk membujuk Soumokil agar kembali ke pangkuan RIS. Namun, Soumokil menolak ajakan tersebut. Akhirnya, pemerintah menempuh langkah tegas dan mengirimkan pasukan di bawah pimpinan Kolonel Alex Kawilarang untuk menumpas RMS.



Pada bulan November 1950, Ambon dapat diduduki oleh TNI. Namun, Soumokil lari ke hutan bersama pasukannya dan melancarkan perang gerilya. Soumokil baru dapat ditangkap pada tanggal 12 Desember 1963. Ia dijatuhi hukuman mati oleh Mahkamah Militer Luar Biasa.

## 6. Pemberontakan PRRI dan Permesta

Pemberontakan PRRI berawal dari sebuah reuni mantan Divisi Banteng di Padang pada 20 November 1956. Dalam reuni tersebut disetujui pembentukan Dewan Banteng yang diketuai oleh Letkol Achmad Husein. Dewan Banteng mengajukan tuntutan kepada pemerintah pusat mengenai otonomi daerah. Kondisi serupa juga terjadi di Sulawesi dan Sumatra yang dipicu oleh ketidakpuasan seputar masalah otonomi pemerintahan dan pembagian keuangan antara pusat dengan daerah. Ketidakpuasan juga terjadi pada sejumlah politisi dan pimpinan militer. Beberapa pimpinan militer yang tidak puas kemudian membentuk dewan-dewan daerah, di antaranya sebagai berikut.

- a. Dewan Banteng di Sumatra Barat, yang dibentuk oleh Letkol. Achmad Hussein pada tanggal 20 Desember 1956.
- b. Dewan Gajah di Sumatra Utara, yang dibentuk oleh Kolonel Mauluddin Simbolon pada tanggal 22 Desember 1956.
- c. Dewan Garuda di Sumatra Selatan, yang dibentuk oleh Letkol. Barlian pada Januari 1957.
- d. Dewan Manguni di Sulawesi Utara, yang dibentuk oleh Mayor Somba pada tanggal 17 Februari 1957.

Pada tanggal 9 Januari 1958, para tokoh politik dan militer yang tidak puas pada pemerintah melakukan pertemuan rahasia di Sungai Dareh, Sumatra Barat. Para tokoh politik yang hadir saat itu antara lain M. Natsir, Soemitro Joyohadikusumo, Syafruddin Prawiranegara, dan Burhanuddin Harahap. Sementara para tokoh militer yang hadir antara lain Kolonel Simbolon, Letkol. Ventje Sumual, Letkol. Barlian, dan Letkol. Achmad Hussein.

Dalam pertemuan tersebut, para tokoh menyepakati untuk mendirikan gerakan perjuangan menyelamatkan Republik Indonesia. Gerakan tersebut mengirimkan ultimatum pada pemerintah RI agar presiden kembali pada kedudukannya sesuai undang-undang dasar dan membubarkan Kabinet Juanda (Kabinet Karya) untuk diganti dengan kabinet yang dipimpin oleh Mohammad Hatta dan Sri Sultan Hamengku Buwono IX. Pemerintah RI menolak mentah-mentah ultimatum tersebut dan menjawabnya dengan pemecatan terhadap semua perwira militer yang terlibat.

Akibat penolakan pemerintah tersebut, pada 15 Februari 1958 Letkol. Achmad Hussein menyatakan berdirinya Pemerintahan Revolusioner Republik Indonesia (PRRI) di Padang dengan Syafruddin Prawiranegara sebagai perdana menteri. Dua hari setelah pernyataan pendirian PRRI, Dewan Manguni yang telah membentuk Piagam Perjuangan Semesta (Permesta) menyatakan Permesta mengakui kepemimpinan PRRI dan memutuskan hubungan dengan pemerintah pusat RI di Jakarta.

### Wawasan Sosial

Operasi Merdeka menumpas PRRI/Permesta terdiri atas beberapa bagian.

1. Operasi Saptamarga I, pimpinan Letkol. Soemarsono untuk Sulawesi Utara bagian tengah.
2. Operasi Saptamarga II, pimpinan Letkol. Agus Prasmono untuk Sulawesi Utara bagian selatan.
3. Operasi Saptamarga III, pimpinan Letkol. Magenda untuk kepulauan sebelah utara Manado.
4. Operasi Saptamarga IV, pimpinan Letkol. Rukmito Hendraningrat untuk Sulawesi Utara.
5. Operasi Mena I, pimpinan Letkol. Pieters dengan daerah sasaran Jailolo.
6. Operasi Mena II, pimpinan Letkol. KKO Hunhole untuk merebut Lapangan Udara Morotai di sebelah utara Halmahera.



Pemerintah menjawab pemberontakan tersebut dengan menggelar operasi militer gabungan yang melibatkan ketiga angkatan TNI dan polisi. Secara perlahan, wilayah-wilayah yang diduduki PRRI di Sumatra mulai diduduki kembali oleh TNI. Pada tanggal 29 Mei 1958, Letkol. Achmad Hussein dan pasukannya menyerah. Kemudian, satu per satu tokoh PRRI pun menyerah.

Sementara itu, operasi yang digelar TNI untuk menumpas Permesta di Sulawesi mendapat perlawanan yang lebih sengit. Untuk mengimbangnya, Pemerintah menggelar operasi militer gabungan dengan sandi Operasi Merdeka yang dipimpin oleh Letkol. Rukminto Hendraningrat.



**Gambar 8.11** Piagam Perjuangan Semesta (Permesta) diproklamasikan pada 2 Maret 1957, dengan tokoh-tokoh (dari kiri ke kanan) Letkol. Ventje Sumual, Mayor Gerungan, Mayor Runturambi, dan Letkol. Saleh Lahade.

**Sumber:** 30 Tahun Indonesia Merdeka

Akhirnya pada Agustus 1958, pemberontakan Permesta dapat ditumpas. Pemerintah memberikan kesempatan kepada para tokoh Permesta untuk menyerah dengan janji akan mendapatkan amnesti. Para tentara Permesta pun akhirnya banyak yang menyerah.

Penumpasan terhadap PRRI dilakukan dengan melaksanakan operasi militer yang terdiri atas gabungan AD, AL, dan AU. Operasi militer tersebut ditujukan untuk menumpas pemberontakan dan mencegah turut campurnya kekuatan asing dalam menyebarkan pemberontakan ke daerah lain.

Operasi militer yang dilaksanakan antara lain sebagai berikut.

- Operasi 17 Agustus dipimpin Kolonel Ahmad Yani.
- Operasi Tegas dipimpin Letkol. Kaharudin Nasution.
- Operasi Saptamarga dipimpin Brigjen. Jatikusumo.
- Operasi Sadar dipimpin Letkol. Dr. Ibnu Sutomo.

Selain itu, pada tanggal 18 Mei 1958 pasukan TNI berhasil menembak jatuh sebuah pesawat tempur Permesta yang ternyata diterbangkan oleh seorang pilot warga negara Amerika Serikat bernama Allan Lawrence Pope.

### Tugas Mandiri

Apa yang kamu ketahui tentang Dewan Manguni?



## C. Peristiwa G 30S/PKI

Pada masa Demokrasi Terpimpin, presiden menetapkan ajaran Nasakom sebagai ajaran negara yang diikuti dengan *Politik Poros*. Politik Poros tersebut ternyata lebih mendekatkan Indonesia dengan negara-negara komunis.

### 1. Latar Belakang Peristiwa G 30S/PKI

PKI memanfaatkan ajaran Nasakom untuk kepentingan-kepentingan penyebaran paham komunis di Indonesia. Adanya ajaran Nasakom dan kecenderungan Indonesia dengan negara-negara komunis menjadikan PKI lebih dekat dengan presiden. Oleh karena itu, PKI berkembang menjadi partai yang disegani dalam peta politik Indonesia saat itu. Perlahan-lahan, PKI mencoba menggusur Pancasila sebagai dasar negara dan menggulingkan pemerintah yang sah.

Selain PKI, sistem demokrasi terpimpin pun memberi celah pada TNI untuk menjadi kekuatan politik yang cukup berpengaruh di Indonesia. Unsur pimpinan TNI ketika itu sangat didominasi oleh angkatan darat. TNI angkatan darat merasa memiliki kepentingan untuk melindungi ideologi negara Pancasila dari rongrongan paham komunis yang terus dilakukan oleh PKI. Akibatnya, sering terjadi pertentangan dan ketegangan antara PKI dengan angkatan darat.

Menjelang tahun 1965, pertentangan dan ketegangan antara PKI dengan angkatan darat makin memuncak. PKI berkali-kali melakukan provokasi terhadap angkatan darat, begitu juga sebaliknya angkatan darat pun membalasnya.

#### Wawasan Sosial

Komunisme di Indonesia dibawa oleh seorang sosialis Belanda, Hendricus Sneevliet (1883–1942), dengan mendirikan *Indische Sociaal Democratische Vereeniging (ISDV)* pada tahun 1974 yang berkembang menjadi Partai Komunis Indonesia.



**Gambar 8.12** Presiden Soekarno bersama D.N. Aidit pada ulang tahun PKI di Gelanggang Olahraga Senayan Jakarta pada tanggal 23 Mei 1965.

**Sumber:** 30 Tahun Indonesia Merdeka

Tindakan yang merupakan provokasi PKI meliputi berbagai aksi politik dan kekerasan seperti berikut ini.



- a. Menuntut pembubaran sebuah organisasi seniman, Manifesto Kebudayaan (Manikebu) yang dituduh PKI sebagai upaya menentang Manifesto Politik (Manipol). Manikebu merupakan organisasi yang beranggotakan para seniman anti-PKI.
- b. Melakukan penyerangan-penyerangan fisik dan politik terhadap pihak-pihak yang menjadi lawan politik PKI, seperti penyerangan kepada Pelajar Islam Indonesia dan Himpunan Mahasiswa Islam. Selain itu, dibubarkannya Partai Masyumi oleh pemerintah juga tidak terlepas dari provokasi PKI.
- c. Melakukan berbagai hasutan kepada kaum buruh dan tani untuk merebut lahan-lahan perkebunan dan pabrik.
- d. Mengemukakan gagasan pembentukan angkatan kelima dalam tubuh ABRI yang terdiri atas kaum buruh dan tani yang dipersenjatai dengan alasan untuk menyukseskan Dwikora. Alasan sebenarnya dari gagasan ini ialah agar tercipta kekuatan militer yang dapat dipengaruhi PKI karena pendukung PKI ketika itu sebagian besar ialah kaum buruh dan tani.
- e. Menuduh adanya sebuah dewan dalam tubuh angkatan darat yang disebut 'Dewan Jenderal' yang menurut PKI berencana merebut kekuasaan dari tangan Presiden Soekarno dengan bantuan Amerika Serikat dan Inggris.

Sementara itu, dalam upaya menandingi pengaruh PKI dalam bidang pemerintahan dan sosial, angkatan darat juga melakukan beberapa tindakan.

Adapun tindakan yang dilakukan angkatan darat adalah sebagai berikut.

- a. Mencoba memperingatkan presiden agar tidak terlalu dekat dengan PKI.
- b. Menolak pembentukan Kabinet Gotong Royong oleh Presiden Soekarno yang diperkirakan angkatan darat akan memberi peluang kekuasaan lebih besar bagi PKI.
- c. Menolak ide pembentukan angkatan kelima dengan alasan tidak berguna dan hanya merugikan revolusi Indonesia.
- d. Membantah isu adanya Dewan Jenderal dengan mengemukakan bahwa lembaga yang beranggotakan para jenderal dalam angkatan darat hanya Wanjakti (Dewan Jabatan Kepangkatan Tertinggi) yang bertugas melakukan pemetaan posisi dan kepangkatan para perwira angkatan darat.

Segala bentuk pertentangan antara angkatan darat dengan PKI juga diperburuk oleh ketidaktegasan presiden dalam menengahi masalah tersebut. Ditambah, kondisi kesehatan presiden ketika itu mulai memburuk dan sering sakit-sakitan, sehingga presiden kurang begitu memahami apa yang sebenarnya tengah terjadi dalam dunia politik Indonesia.



## 2. Kronologi Peristiwa G 30S/PKI

Pertentangan antara angkatan darat dan PKI berimbas ke dalam tubuh angkatan darat sendiri. Sebagian anggota dan perwira angkatan darat mulai bersimpati pada PKI dan mempercayai berbagai isu yang dihembuskan PKI seperti adanya Dewan Jenderal, rencana makar, dan bantuan dari Amerika Serikat dan Inggris. Pertentangan angkatan darat dan PKI mencapai puncak dengan terjadinya peristiwa G 30S/PKI.

Pada tanggal 30 September 1965, sepasukan tentara yang menggunakan atribut dan kendaraan berlambang Batalyon I Cakrabirawa (pasukan khusus pengawal Presiden RI) melakukan penculikan terhadap sejumlah petinggi angkatan darat. Pasukan tersebut dipimpin oleh Komandan Batalyon I Cakrabirawa Letkol. Untung. Para perwira yang diculik antara lain sebagai berikut.

- Men/Pangad, Letjen. Ahmad Yani
- Asisten I Men/Pangad, Mayjen. S. Parman
- Deputi II Men/Pangad, Mayjen. R. Soeprapto
- Deputi III Men/Pangad, Mayjen. M.T. Haryono
- Asisten IV Men/Pangad, Brigjen. D.I. Panjaitan
- Oditur Jenderal AD, Brigjen. Sutoyo Siswomiharjo

Salah seorang perwira TNI lain, yakni Jenderal A.H. Nasution berhasil lolos dari penculikan setelah meloncat dari pagar rumahnya dan bersembunyi di rumah sebelah. Namun dalam peristiwa penculikan tersebut, putrinya yang bernama Ade Irma Suryani Nasution tewas karena tertembak peluru. Selain itu, seorang anggota polisi Pembantu Letnan Satu Karel Satsuit Tubun yang sedang berpatroli di dekat rumah Jenderal A.H. Nasution pun ditembak hingga tewas. Karena tidak berhasil menculik Jenderal A.H. Nasution, pasukan penculik membawa ajudannya, Lettu. Pierre Tendean. Para penculik tersebut membawa para perwira tinggi angkatan darat ke daerah Lubang Buaya di Jakarta Selatan. Di sana, mereka menyiksa para perwira tinggi tersebut dengan keji hingga meninggal.

Keesokan harinya, pasukan yang dipimpin Letkol. Untung bergerak dan menduduki sejumlah sarana penting, antara lain Gedung Telekomunikasi dan Stasiun RRI Pusat.

Melalui siaran radio, pasukan PKI menyatakan bahwa negara berada dalam keadaan genting dan mereka menekankan bahwa G 30S/PKI merupakan gerakan intern dalam tubuh angkatan darat untuk membersihkan para anggota Dewan Jenderal yang hendak melakukan kudeta pada Presiden Soekarno. Mereka juga menyatakan bahwa Kabinet Dwikora telah demisioner, sebagai gantinya telah dibentuk sebuah Dewan Revolusi. Selain itu, pasukan PKI menyatakan bahwa pangkat tertinggi dalam angkatan darat ialah letnan kolonel dan semua pangkat jenderal dihapuskan. Pengumuman tersebut sangat mengejutkan dan membingungkan masyarakat.



**Gambar 8.12** Suasana pemakaman Ade Irma Suryani yang turut jadi korban dalam peristiwa G 30S/PKI.

**Sumber:** 30 Tahun Indonesia Merdeka

### Tugas Mandiri

Sebutkan perbedaan Dewan Jenderal dengan Dewan Revolusi!



### 3. Penumpasan G 30S/PKI

Segera setelah diumumkannya G 30S/PKI, para petinggi angkatan darat yang masih ada melakukan konsolidasi. Kepemimpinan angkatan darat diambil alih oleh Panglima Kostrad Mayjen. Soeharto. Beliau menghimpun kekuatan dalam tubuh angkatan darat yang masih setia pada pemerintah. Pasukan Kostrad di bawah pimpinan Mayjen. Soeharto mulai bergerak untuk menandingi pasukan PKI.

Satu per satu sarana penting seperti Gedung Telekomunikasi dan RRI dapat direbut oleh Kostrad. Kemudian, pasukan Kostrad berhasil menghancurkan markas G 30S/PKI di Lubang Buaya setelah mendapat informasi dari seorang petugas bantuan polisi bernama Sukiman yang berhasil meloloskan diri dari Lubang Buaya pada malam terjadinya penculikan 30 September.

Pada tanggal 3 Oktober 1965 jenazah korban G 30S/PKI ditemukan dalam sebuah sumur tua di daerah Lubang Buaya. Jenazah-jenazah korban baru dapat diangkat pada 4 Oktober 1965. Proses ini dilakukan oleh anggota Kesatuan Intai Para Amphibi KKOAL bersama RPKAD. Jenazah baru dimakamkan pada keesokan harinya di Taman Makam Pahlawan Kalibata.

Berdasarkan hasil penyelidikan angkatan darat, diduga kuat bahwa G 30S didalangi oleh PKI. Oleh karena itu, sejak akhir bulan Oktober 1965, angkatan darat mencoba mengamankan para tokoh PKI dan tokoh lainnya yang diduga terlibat G 30 S/PKI. Masyarakat yang sudah gerah melihat sepak terjang PKI pun kemudian bereaksi keras dan menuntut agar PKI dibubarkan.

Kegagalan PKI dalam mengubah dasar negara Pancasila menjadi komunis membuktikan bahwa paham komunis tidak cocok untuk bangsa Indonesia. Kehancuran PKI menjadi tolok ukur saktinya Pancasila.

#### Tugas Bersama

Bersama temanmu sebangku jelaskan mengapa G 30S/PKI tidak mendapat dukungan dari rakyat Indonesia.



**Gambar 8.13** Monumen Pancasila Sakti untuk mengenang peristiwa G 30S/PKI.

**Sumber:** [www.google.com/image](http://www.google.com/image)

#### Rangkuman

- ❖ Perjuangan mempertahankan keutuhan bangsa Indonesia dilakukan, baik melalui perjuangan bersenjata maupun diplomasi.
- ❖ Perjuangan secara diplomasi dilakukan para tokoh bangsa Indonesia melalui perundingan, yang secara internasional diungkapkan melalui forum PBB.
- ❖ Perjuangan bangsa Indonesia dalam menjaga keutuhan bangsa bukanlah hal yang mudah. Permasalahan Irian Barat menunjukkan bahwa perjuangan diplomasi, baik bilateral maupun dalam forum PBB ternyata belum membawa hasil sehingga diperlukan perjuangan dalam bentuk konfrontasi.
- ❖ Trikora yang dikumandangkan oleh Presiden Soekarno pada tanggal 19 Desember 1961 di Jogjakarta merupakan puncak konfrontasi Indonesia terhadap Belanda.
- ❖ Peristiwa 30S/PKI yang terjadi pada tahun 1965 merupakan catatan lembaran hitam dalam sejarah Indonesia.
- ❖ Kegagalan PKI dalam menancapkan ideologi komunis di Indonesia menunjukkan kesaktian Pancasila sebagai dasar negara Indonesia.



## Refleksi

Kamu sudah belajar tentang mempertahankan keutuhan bangsa pada bab ini. Sekarang berilah tanda cek (✓) pada kolom Ya atau Tidak.

No	Pernyataan	Ya	Tidak
1.	Sudahkah kamu paham bagaimana perjuangan bangsa Indonesia membebaskan Irian Barat dari kekuasaan Belanda?		
2.	Apakah kamu sudah paham apa yang mendasari dilakukannya pemberontakan di beberapa daerah yang merongrong keutuhan bangsa?		
3.	Dapatkah kamu menjelaskan kronologi peristiwa G30S/PKI?		

## Latihan Soal

8

*Kerjakan di buku tugasmu!*

### I. Pilihlah satu jawaban yang paling tepat!

- Masalah Irian Barat dikemukakan dalam forum PBB pada masa ....
  - Kabinet Natsir
  - Kabinet Ali Sastroamijoyo I
  - Kabinet Wilopo
  - Kabinet Juanda
- Uni Indonesia–Belanda dibubarkan pada tahun ...
  - 1956
  - 1957
  - 1960
  - 1963
- Rapat umum pembebasan Irian Barat di Jakarta diselenggarakan pada tanggal ....
  - 17 November 1957
  - 18 November 1957
  - 17 Agustus 1960
  - 18 Agustus 1960
- Operasi pembebasan Irian Barat yang dilakukan dengan serangan terbuka terhadap lawan disebut fase ....
  - infiltrasi
  - eksploitasi
  - konsolidasi
  - nasionalisasi
- Puncak konfrontasi Indonesia terhadap Belanda terjadi saat ....
  - disampaikannya masalah Irian Barat di forum PBB
  - dikumandangkannya Trikora
  - diadakannya rapat umum pembebasan Irian Barat
  - Indonesia membatalkan hasil KMB
- Soekarno mengumandangkan Trikora (Tri Komando Rakyat) pada tanggal ....
  - 19 Desember 1961
  - 21 Desember 1961
  - 19 Desember 1962
  - 21 Desember 1960
- Lembaga PBB yang mewakili pemerintahan sementara di Irian Barat adalah ....
  - UNSF
  - UNTEA
  - UNESCO
  - UNICEF
- Pemberontakan Soviet Republik Indonesia (PKI di Madiun) didalangi oleh ....
  - Moh. Natsir
  - Sukiman
  - Muso dan Amir Syarifuddin
  - Mr. Wilopo



9. Pemberontakan DI/TII di Sulawesi Selatan digerakkan oleh ....
  - a. Ibnu Hajar
  - b. Amir Fatah
  - c. Daud Beureueh
  - d. Kahar Muzakar
10. Kartosuwiryo memproklamasikan berdirinya Negara Islam Indonesia (NII) pada tanggal ....
  - a. 4 Agustus 1949
  - b. 17 Agustus 1945
  - c. 19 Agustus 1956
  - d. 13 Agustus 1949
11. DI/TII di Jawa Tengah dapat ditumpas dalam Operasi Merdeka Timur pimpinan ....
  - a. Letkol. Ahmad Yani
  - b. Letkol. Soeharto
  - c. Letkol. Untung
  - d. Jenderal Sudirman
12. Pemberontakan APRA dipimpin oleh ....
  - a. Raymond Westerling
  - b. Raymond Van der Gouw
  - c. Ratu Adil
  - d. Raja Jayabaya
13. Partai-partai berikut merupakan anggota Front Demokrasi Rakyat (FDR), *kecuali* ....
  - a. PSI
  - b. PBI
  - c. Pesindo
  - d. Manikebu
14. Upaya PKI untuk merebut kekuasaan dan menggulingkan pemerintahan yang sah tampak dari ....
  - a. pengumuman pembentukan Dewan Revolusi dan pembubaran Kabinet Dwikora
  - b. keikutsertaan pasukan Cakrabirawa sebagai inti G 30S/PKI
  - c. dikuasainya pusat-pusat komunikasi penting di Jakarta
  - d. tindakan penculikan dan pembunuhan terhadap para jenderal TNI AD
15. Tindakan berikut yang merupakan provokasi PKI terhadap Angkatan Darat adalah ....
  - a. menolak pembentukan Kabinet Gotong Royong
  - b. membantah adanya Dewan Jenderal
  - c. menolak pembentukan angkatan kelima
  - d. menuntut pembubaran Manikebu

## II. Jawablah pertanyaan berikut ini dengan benar!

1. Sebutkan isi Trikora!
2. Sebutkan dewan militer yang muncul menjelang pemberontakan PRRI dan Permesta!
3. Jelaskan latar belakang pemberontakan Andi Azis di Makassar!
4. Jelaskan kemelut yang terjadi dalam kepemimpinan Angkatan Darat setelah peristiwa G 30S/PKI!
5. Tunjukkan alasan PKI dinyatakan sebagai partai terlarang dan aktivitasnya dibekukan!



*Bacalah wacana di bawah ini dengan saksama!*

### Museum Bung Karno



*Kediaman Bung Karno sewaktu dalam pembuangan di Ende*

Bung Karno adalah Presiden pertama republik Indonesia. Beliau memiliki andil yang besar dalam memproklamasikan kemerdekaan Republik Indonesia dan perjuangan dalam mempertahankan kemerdekaan dari rong-rongan penjajah yang ingin menancapkan kembali kekuasaannya. Dalam perjuangan tersebut Bung Karno pernah dibuang atau diasingkan di Kabupaten Ende. Untuk mengenang hal tersebut, maka rumah tempat tinggal Bung Karno itu dijadikan museum.

Semua barang koleksi milik Bung Karno masih tersimpan di dalam

museum ini, seperti foto keluarga, foto pribadi Bung Karno, barang keramik, tongkat berkepala monyet, pulpen ukuran besar, piring nasi, cerek air minum, besi setrika, alat gantungan pakaian, lemari pakaian, tempat tidur besi, dan masih banyak barang-barang koleksi lainnya.

Di dalam Museum Bung Karno juga terdapat tempat sujud/ruang semedi dan tempat sembahyang tanpa alas yang selalu digunakan untuk bersujud kepada Tuhan guna memohon bantuan bagi perjuangan kemerdekaan bangsa Indonesia hingga membekas di lantai.

*Sumber: Obyek Wisata Nusantara Penerbit PT Fery Agung Corporation.*

**Kerjakan kegiatan berikut secara berkelompok! Ikuti langkah-langkah berikut!**

1. Buatlah kelompok dengan anggota lima siswa.
2. Lakukan diskusi dengan menjawab pertanyaan berikut
  - a. Carilah dari buku dan sumber sejarah lain mengenai alasan pemerintah Belanda membuang Bung Karno ke Ende!
  - b. Dari wacana di atas, paragraf manakah yang menunjukkan perjuangan Bung Karno tidak berhenti meskipun dalam pembuangan?
  - c. Keteladanan apa yang dapat kalian petik dari wacana di atas?
3. Buatlah laporan hasil diskusi kelompokmu, kemudian diskusikan kembali dengan kelompok lain!



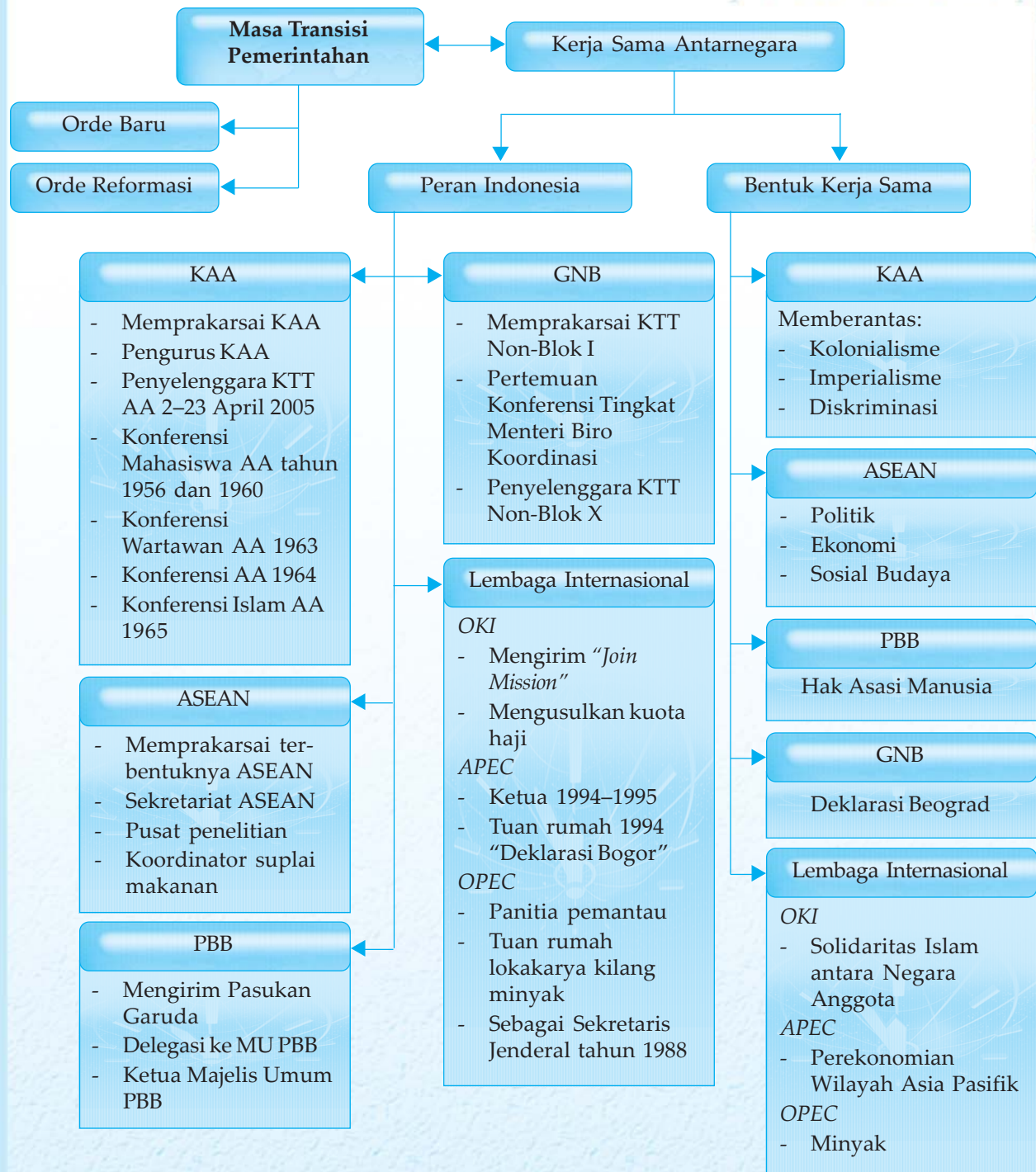
## Kerja Sama Internasional



Keragaman budaya, sistem pemerintahan, serta kepentingan ekonomi dan politik tidak menghalangi negara-negara di berbagai belahan dunia untuk melakukan kerja sama. Demikian juga pemerintah Indonesia, walaupun mengalami beberapa perubahan namun tetap berperan aktif dalam kerja sama internasional. Untuk itu, marilah kita pelajari perubahan pemerintahan yang terjadi di Indonesia dan perannya dalam kerja sama internasional, begitu juga dampak-dampak yang ditimbulkan dari kerja sama tersebut bagi perekonomian Indonesia.



# Peta Konsep



## Kata Kunci

- Orde Baru
- Orde Reformasi
- kerja sama ekonomi
- konsekuensi fungsional
- disfungsional



Setiap bangsa di dunia memiliki beragam kepentingan yang hanya dapat terpenuhi bila melakukan kerja sama. Sebelumnya, pada masa Demokrasi Terpimpin, politik luar negeri Indonesia yang seharusnya bersifat bebas aktif ternyata malah mendekatkan Indonesia pada negara-negara Blok Timur. Namun setelah masa Demokrasi Terpimpin berlalu, Indonesia mulai kembali menunjukkan peran pentingnya dalam pergaulan internasional.

## **A. Masa Transisi Pemerintahan Indonesia**

Pada masa Orde Lama, keadaan negara sangat tidak stabil karena sering terjadi pergantian kabinet. Hal ini berakhir dengan dikeluarkannya Dekrit Presiden 5 Juli 1959. Akibat banyaknya penyimpangan yang terjadi selama Orde Lama berakibat tidak berjalannya sistem yang telah ditetapkan dalam UUD 1945, memburuknya keadaan politik dan keamanan, serta kemerosotan ekonomi. Dan orde selanjutnya yang disebut Orde Baru merupakan koreksi total terhadap penyimpangan-penyimpangan yang terjadi selama Orde Lama.

Perkembangan politik di Indonesia selama Orde Baru mengalami perubahan yang sangat besar. Dengan tetap berdasarkan pada ketentuan-ketentuan yang ada dalam Undang-Undang Dasar 1945, politik di Indonesia telah banyak mengalami perubahan setelah dilakukannya amandemen terhadap UUD 1945. Amandemen terakhir dalam UUD 1945 dilakukan pada tahun 2002.

Untuk lebih jelasnya mengenai pemerintahan selama Orde Baru sampai lahirnya Orde Reformasi, pelajari pembahasan berikut ini.

### **1. Orde Baru**

Orde Baru lahir dengan tekad untuk melaksanakan Pancasila dan UUD 1945 secara murni dan konsekuen. Berikut ini contoh-contoh pelaksanaan ketatanegaraan berdasarkan UUD 1945 pada masa Orde Baru.

- a. Diadakannya pemilu untuk memilih anggota MPR, DPR RI, DPRD I, dan DPRD II.
- b. MPR yang terdiri atas seluruh anggota DPR, utusan daerah, dan golongan mengadakan sidang umum dalam lima tahun.
- c. Presiden dengan dibantu oleh wakil presiden dan menteri yang diangkat dan bertanggung jawab kepada presiden, melaksanakan tugasnya berlandaskan UUD 1945 dan GBHN, yang akan dipertanggungjawabkan dalam Sidang Umum MPR.
- d. Tugas Presiden adalah:
  - 1) membuat undang-undang yang diperlukan dengan persetujuan DPR dalam rangka melaksanakan UUD 1945 dan GBHN,

### **Wawasan Sosial**

Istilah korupsi, kolusi, dan nepotisme (KKN) mulai banyak dikenal orang ketika terjadi pergantian kepemimpinan dari Orde Baru ke Orde Reformasi.



- 2) presiden terpilih harus menyusun Repelita dan mengajukan RAPBN setiap tahun dalam rangka melaksanakan GBHN,
  - 3) mengangkat anggota lembaga tinggi negara DPA dan BPK sesuai dengan tuntutan undang-undang yang bersangkutan,
  - 4) melaksanakan pemilu tepat pada waktunya untuk mengisi keanggotaan MPR, DPR RI, DPRD I, dan DPRD II.
- e. DPR melaksanakan tugasnya mengawasi pelaksanaan tugas presiden dan memberikan persetujuan atas RUU dan sarana pengawasan lainnya.
  - f. DPA dan BPK melaksanakan tugasnya sesuai ketentuan UUD 1945 dan undang-undang yang bersangkutan. Para anggota lembaga negara diangkat untuk masa jabatan lima tahunan.
- Meskipun demikian, selama kurun waktu ini tetap saja ada penyimpangan konstitusional yang antara lain dapat disebutkan sebagai berikut.
- a. Penyelenggaraan negara dilakukan bersifat otoriter.
  - b. Presiden menjabat selama 32 tahun, sehingga tidak sesuai dengan semangat demokrasi.

Akibat adanya penyimpangan tersebut, maka regenerasi kepemimpinan nasional terhambat dan aspirasi masyarakat kurang tersalurkan.

## 2. Orde Reformasi

Orde Baru menjalankan pemerintahan di negara Indonesia dalam kurun waktu yang lama sampai munculnya Orde Reformasi. Masa Reformasi muncul setelah bangsa Indonesia dilanda krisis moneter yang berdampak pada krisis ekonomi, krisis politik, dan krisis sosial. Dari krisis tersebut, muncul pula krisis hukum, identitas, budaya, dan moral. Puncaknya, muncullah kerusuhan sosial yang melahirkan krisis kepercayaan. Akibatnya, rakyat pun menuntut pemerintahan Soeharto untuk meletakkan jabatan dan melakukan reformasi. Setelah Presiden Soeharto mengundurkan diri, sistem ketatanegaraan pun berubah secara cepat, termasuk adanya kebijakan untuk melakukan amandemen terhadap UUD 1945. Pada masa ini, pemilu berlangsung sebanyak dua kali, yaitu masa kepemimpinan Presiden B.J. Habibie (1999) yang diikuti 48 parpol dan masa kepemimpinan Presiden Megawati Sukarnoputri (2004) yang diikuti 24 parpol. Pelaksanaan demokrasi Pancasila pada masa ini, telah banyak memberi ruang gerak kepada parpol (multipartai), Amandemen UUD 1945, maupun lembaga negara, penghapusan Fraksi TNI Polri, dan DPA.

Dengan munculnya reformasi menimbulkan harapan baru terwujudnya demokratisasi di negara Indonesia.

### Tugas Mandiri

Apakah yang dimaksud dengan krisis kepercayaan? Jelaskan!



## B. Lembaga-Lembaga Internasional dan Peran Indonesia dalam Kerja Sama Internasional

Kerja sama yang dilakukan Indonesia dilandasi oleh kebijakan politik luar negeri yang bebas dan aktif. Berbagai bentuk kerja sama internasional dan lembaga-lembaga internasional itu dalam memperjuangkan ketertiban, perdamaian, dan kesejahteraan antarbangsa.

Konflik-konflik yang terjadi selama berlangsungnya pemerintahan Indonesia tidak menyurutkan perannya dalam hubungan internasional di antaranya di beberapa lembaga dan organisasi dunia. Bahkan, ada beberapa organisasi dunia yang dalam pendiriannya melibatkan Indonesia. Selain partisipasi dalam lembaga dan organisasi dunia, peran Indonesia juga meliputi penyelenggaraan beberapa konferensi penting.

### 1. Persatuan Bangsa-Bangsa (PBB)

Untuk mewujudkan politik luar negeri bebas aktif dan berpartisipasi dalam pelaksanaan ketertiban dunia dan perdamaian abadi, Indonesia menjadi anggota PBB pada tanggal 27 September 1950, dengan nomor urut anggota 60 dan sejak itu bendera Merah Putih pun dikibarkan di Markas Besar PBB bersama dengan bendera 59 negara anggota PBB lainnya..

Keanggotaan PBB ada dua yaitu anggota asli dan tambahan. Anggota asli PBB yaitu yang menandatangani Piagam San Fransisco (*Charter of Peace*), beranggotakan 51 negara. Dan, anggota tambahan yaitu negara yang keanggotaannya setelah ditentukan oleh Majelis Umum atas pertimbangan Dewan Keamanan. Syarat menjadi anggota PBB adalah:

- cinta damai,
- negara merdeka dan berdaulat,
- mendapat persetujuan dari Majelis Umum atas usul dewan keamanan PBB,
- sanggup bersedia memenuhi kewajiban yang tercantum dalam Piagam PBB.

PBB memiliki berbagai organisasi lain yang bergerak di bidang sosial, budaya, pendidikan, perburuhan, dan sebagainya. Organisasi-organisasi tersebut di antaranya sebagai berikut.

#### a. UNICEF

UNICEF (*United Nations International Children Emergency Fund*) didirikan pada tanggal 11 Desember 1946 dan memiliki tugas menolong dan menyantuni anak-anak yang mengalami penderitaan akibat kemiskinan, cacat, bencana alam, dan korban perang. UNICEF memiliki 41 anggota yang dipilih oleh Dewan Ekonomi dan Sosial PBB untuk masa tiga tahun berdasarkan pembagian kawasan geografi, perwakilan negara-negara penyumbang dan penerima.



**Gambar 9.1** Pengibaran bendera Merah Putih di depan Markas Besar PBB setelah Indonesia diterima sebagai anggota yang ke-60.

**Sumber:** 30 Tahun Indonesia Merdeka.





b. UNESCO

UNESCO (*United Nations Educational Scientific and Cultural Organization*) merupakan organisasi pendidikan, ilmu pengetahuan, dan kebudayaan PBB yang didirikan pada 4 November 1946. UNESCO bertugas membina kerja sama internasional di bidang pendidikan, ilmu pengetahuan, dan kebudayaan.



c. UNHCR

UNHCR (*United Nations High Commissioner for Refugees*) merupakan komisi PBB untuk pengungsi yang didirikan pada 1 Januari 1951. UNHCR bertugas menangani dan membantu pengungsi antarnegara.

d. WHO

WHO (*World Health Organization*) merupakan organisasi kesehatan dunia yang didirikan pada 7 April 1948. WHO bertugas membantu negara anggota PBB dalam meningkatkan kesehatan masyarakat.



e. IMF

IMF (*International Monetary Fund*) atau Dana Moneter Internasional didirikan 27 Desember 1945. Tugas IMF yaitu meningkatkan kerja sama moneter dan perdagangan internasional.

f. ILO

ILO (*International Labour Organization*) merupakan organisasi perburuhan internasional yang didirikan pada 11 April 1911. ILO bergabung dengan PBB pada tahun 1946. ILO memiliki tugas untuk mengusahakan keadilan sosial ekonomi dan meningkatkan taraf hidup buruh (pekerja).



g. FAO

FAO (*Food and Agriculture Organizations*) merupakan organisasi pangan dan pertanian PBB. FAO didirikan pada 16 Oktober 1945. FAO memiliki tugas mengembangkan pertanian dan meningkatkan standar gizi penduduk dunia.

Diterimanya Indonesia menjadi anggota PBB, bertujuan agar Indonesia yang ketika itu baru merdeka mendapat pengakuan dunia internasional sebagai negara yang berdaulat.

Setelah diterima sebagai anggota PBB, untuk pertama kalinya Indonesia mengirim delegasi pada Sidang Umum PBB dengan susunan sebagai berikut.

Ketua : Mr. Mohammad Roem

Wakil Ketua : L.N. Palar

Anggota : Dr. Darmasetiawan, Mr. Soemanang, Mr. Tambunan, Prawoto, Mr. Soedjono

Pada awal masa keanggotaan di PBB, hak tersebut digunakan Indonesia dengan sebaik-baiknya untuk memperjuangkan Irian Barat hingga akhirnya wilayah Irian Barat dikembalikan pada Indonesia tahun 1963.





**Gambar 9.2** Pidato Presiden dimuka rapat umum anti pangkalan militer asing di Jakarta pada tanggal 7 Januari 1965, dalam rapat itu presiden mengeluarkan pernyataan keluar dari PBB. Pernyataan presiden itu didukung oleh mahasiswa yang tergabung dalam PPMI.

**Sumber:** 30 Tahun Indonesia Merdeka.

Namun, Indonesia pernah menyatakan diri keluar dari PBB pada tanggal 7 Januari 1965. Keluarnya Indonesia dari keanggotaan PBB saat itu karena terpilihnya Malaysia sebagai anggota tidak tetap Dewan Keamanan PBB. Saat itu, Indonesia dan Malaysia sedang terlibat konfrontasi. Setelah jatuhnya rezim Orde Lama dan dihentikannya konfrontasi dengan Malaysia, Indonesia kembali menjadi anggota PBB pada 28 September 1966.

Berbagai manfaat diperoleh Indonesia dengan menjadi anggota PBB. Dalam revolusi mempertahankan kemerdekaan dan upaya mendapat pengakuan kedaulatan antara tahun 1945–1950, Dewan Keamanan PBB mengeluarkan resolusi tanggal 28 Januari 1949 tentang perubahan Komisi Tiga Negara (KTN) menjadi UNCI (*United Nations Commission on Indonesia*) yang bertugas membantu kelancaran perundingan Republik Indonesia dan Belanda. UNCI berhasil mengajak pihak Indonesia dan Belanda bertemu di meja perundingan pada tanggal 7 Mei 1949. Perundingan tersebut dikenal dengan *Perundingan Roem - Royen* (diambil dari nama ketua delegasi Indonesia Mr. Moh. Roem dan ketua delegasi Belanda Dr. Van Royen). Perundingan Roem Royen merupakan tahap awal sebelum digelarnya Konferensi Meja Bundar (KMB) yang diselenggarakan pada tanggal 27 Desember 1949, dengan hasil adanya pengakuan kedaulatan pemerintah Belanda terhadap Republik Indonesia.

Manfaat lain dengan menjadi anggota PBB yaitu memungkinkan Indonesia mendapat banyak bantuan dari berbagai lembaga yang bernaung di bawah PBB. Dari UNESCO, pemerintah Indonesia pernah mendapat bantuan keuangan untuk perbaikan Candi Borobudur dan pengembangan ilmu pengetahuan. Dari UNICEF, Indonesia mendapat bantuan berupa susu bubuk bergizi tinggi untuk memelihara kesehatan anak-anak Indonesia. FAO memberikan bantuan yang sangat berguna dalam bidang pertanian. IMF dan ADB berjasa dengan memberikan pinjaman berbunga rendah untuk membiayai pembangunan Indonesia.

### Tugas Mandiri

Belajar dari kejadian yang kamu alami sehari-hari, dapat mengenal diri kamu lebih dalam.

Berikan penilaian mengenai diri kamu dengan menjawab per-  
Sebutkan syarat menjadi anggota PBB dan manfaat yang diperoleh Indonesia sebagai anggota PBB!



## Tugas Mandiri

1. Sebutkan peran Indonesia dalam PBB!
2. Apa peran PBB terhadap Indonesia?



**Gambar 9.3** Upacara pelepasan Pasukan Garuda oleh Presiden Soekarno di halaman Istana Merdeka pada tanggal 31 Desember 1956.

**Sumber:** 30 Tahun Indonesia Merdeka

Sebagai anggota PBB, Indonesia juga mencoba untuk aktif melaksanakan tugas-tugas yang diberikan PBB. Pada 6 Januari 1957 pemerintah Indonesia mengirimkan Pasukan Garuda I ke Sinai, yang dipimpin oleh *Kolonel Hartoyo* yang digantikan oleh *Kolonel Suadi*. Pasukan Garuda I tergabung dalam UNEF (*United Nation Emergency Forces*), terdiri atas Teritorium IV Diponegoro dan Teritorium Brawijaya berkekuatan 550 personel.

Untuk kedua kalinya, Indonesia diminta mengirimkan pasukan untuk bergabung dengan Pasukan Penjaga Perdamaian PBB. Pada 10 September 1960, pasukan Indonesia bergabung dengan UNOC. Pasukan Indonesia terdiri atas Batalyon 330/Siliwangi, Detasemen Polisi Militer, dan Peleton STB/KKO AL. Pasukan tersebut dinamakan Pasukan Garuda II. Pasukan Garuda II dipimpin oleh Letkol. Solichin Gautama Purwanegara. Pasukan Garuda II bertugas sampai bulan Mei 1961. Namun, UNOC meminta agar pasukan Indonesia diperbesar menjadi satu brigade yang dinamakan Pasukan Garuda III. Pasukan Garuda III terdiri atas Batalyon 530/Brawijaya, Batalyon BB-1/Bukit Barisan, Batalyon 7 Kavaleri, satu Batalyon Artileri Sasaran Udara (ARSU), dan beberapa unsur bantuan seperti detasemen peralatan dan kesehatan. Pasukan Garuda III bertugas di Kongo antara bulan Desember 1962 sampai bulan Agustus 1964. Pasukan Garuda III dipimpin oleh *Brigadir Jenderal Kemal Idris*.

Selanjutnya untuk mengatasi masalah Vietnam Selatan yang berkembang menjadi masalah internasional yang membahayakan perdamaian dunia, PBB pun meminta Indonesia, Kanada, Hongaria, dan Polandia untuk mengirimkan tentaranya guna melaksanakan tugas ICCS (*Internasional Commission of Control and Supervision*).

## Wawasan Sosial

ICCS (*International Commision of Control and Supervision*) memangkul tugas sebagai berikut.

1. Mengawasi atau mencegah pelanggaran-pelanggaran dan menjaga *status quo*.
2. Mengawasi evakuasi pasukan.
3. Mengawasi evakuasi alat-alat perang.
4. Mengawasi pertukaran tawanan perang.



Pemerintah Indonesia mengirimkan Pasukan Garuda IV dengan kekuatan 290 orang dipimpin oleh *Letnan Jenderal H.R. Dharsono*. Pasukan Garuda IV bertugas antara Januari 1973 hingga Juli 1973, selanjutnya digantikan oleh Pasukan Garuda V dan VI. Pasukan Garuda VI ditarik dari Vietnam tahun 1975, karena seluruh Vietnam diduduki Vietnam Utara yang berhaluan komunis.

Pada Oktober 1973, perang antara Mesir–Israel kembali pecah. Guna menyelesaikan krisis Timur Tengah, Dewan Keamanan PBB menyerukan diadakannya gencatan senjata dan pengosongan daerah Gaza oleh Israel. Untuk itu, pemerintah Indonesia pada tanggal 25 Desember 1973 mengirimkan Pasukan Garuda VII yang tergabung dalam Pasukan Pemelihara Perdamaian UNEF (*United Nation Emergency Forces*). Tugas Pasukan Garuda VII selesai pada tanggal 23 September 1974, kemudian digantikan Pasukan Garuda VIII dipimpin *Kolonel Sudiman Saleh* yang bertugas dari tanggal 17 Februari 1975 hingga tahun 1979.

Pada saat terjadi perang saudara di Yugoslavia hingga berkembang menjadi perang antaretnik yang berlangsung lama dan memakan banyak korban jiwa, Indonesia pun ikut berpartisipasi mengirimkan pasukan dan bergabung dalam Pasukan Pemelihara Perdamaian di Bosnia.

Peran Indonesia dalam pasukan perdamaian PBB antara lain juga ditunjukkan dengan mengirimkan Pasukan Garuda ke IX ke Irak dan Iran pada tahun 1988 di bawah pimpinan Letkol. Soeharto, yang selanjutnya bergabung dengan UNIMOG. Selain itu juga dalam pengiriman Pasukan Garuda ke XII ke Kamboja pada tahun 1992.

## 2. Konferensi Asia Afrika (KAA)

Kerja sama antarbangsa Asia dan Afrika pernah diusahakan oleh para mahasiswa Asia dan Afrika yang belajar di Eropa sebelum Perang Dunia II. Pada tanggal 15 Januari 1927, beberapa pemuda Asia menyelenggarakan *Kongres Liga Internasional Antipenindasan dan Penjajahan* di Brussel, Belgia. Dalam kongres ini, beberapa mahasiswa Indonesia yang sedang belajar di negeri Belanda seperti Mohammad Hatta, Ali Sastroamijoyo, dan Nazir Sutan Pamuncak juga turut hadir.

Setelah Perang Dunia II, masih ada beberapa bangsa di kawasan Asia dan Afrika yang belum merdeka. Di Asia ada beberapa daerah yang masih berstatus jajahan bangsa Eropa. Misalnya Malaysia dan Singapura yang merupakan jajahan Inggris. Sementara itu di Benua Afrika, Kongo masih dijajah Belgia, Angola dijajah Portugis, Aljazair dijajah Prancis, dan bangsa-bangsa lainnya. Penduduk daerah jajahan umumnya hidup kekurangan, tidak berpendidikan serta tidak dapat ikut mengatur pemerintahan dan mengelola perekonomian di negerinya sendiri.

Sementara itu, bangsa-bangsa Asia yang telah merdeka masih sering bersengketa karena kepentingan tertentu. Misalnya, India

### Tugas Mandiri

Apakah peran Indonesia dalam Konferensi Asia Afrika?



## Wawasan Sosial

Penggalangan solidaritas politik Asia Afrika mendapat prioritas tinggi dalam politik luar negeri Indonesia pada waktu itu.

Berbagai konferensi yang diselenggarakan di Indonesia, antara lain sebagai berikut.

1. Sidang Dewan Setia Kawan Rakyat Asia Afrika di Bandung 10 April 1961.
2. Konferensi Wartawan Asia Afrika di Jakarta 24 April 1963.
3. Sidang Komite Eksekutif Konferensi Pengarang Asia Afrika di Denpasar 16 Juli 1963.
4. Konferensi Buruh Asia Afrika di Jakarta 1964.
5. Konferensi Ahli-Ahli Pediatrik Asia Afrika (Jakarta, 19 Agustus 1964).
6. Festival Film Asia Afrika (Jakarta, 1 Februari 1964).
7. Konferensi Islam Asia Afrika (Bandung, 6 Maret 1965).
8. Rapat Solidaritas Wanita Asia Afrika (Jakarta, 21 Juli 1965).

bersengketa dengan Pakistan memperebutkan daerah Kashmir, dan Vietnam dilanda perang saudara. Terkadang, negara-negara besar seperti Uni Soviet dan Amerika Serikat ikut campur sehingga makin memperkeruh suasana.

Berbagai peristiwa tersebut menimbulkan kesadaran bangsa Asia dan Afrika akan pentingnya persatuan untuk mengatasi masalah mereka bersama. Selain itu, bangsa-bangsa Asia dan Afrika umumnya memiliki nasib yang sama. Misalnya, hampir semua bangsa Asia dan Afrika merupakan bekas jajahan bangsa Eropa.

Pada tanggal 2 April 1947 Perdana Menteri India Sri Pandhit Jawaharlal Nehru menggelar Konferensi Hubungan Antar-Asia (*Inter-Asia Relation Conference*) di New Delhi. Dalam konferensi tersebut, beberapa negara Asia sepakat untuk menjalin kerja sama dalam menentang penjajahan demi kemajuan dan kemakmuran Asia. Dalam konferensi ini, Haji Agus Salim hadir sebagai wakil Republik Indonesia. Salah satu poin penting dalam konferensi ini ialah pernyataan negara-negara Asia guna bersatu menentang Belanda yang berusaha menjajah kembali Indonesia.

Gagasan penyelenggaraan KAA muncul dalam *Konferensi Pancanegara I* yang diselenggarakan pada 28 April–2 Mei 1954 di Kolombo, Sri Lanka. Dalam konferensi ini, kepala pemerintahan yang hadir yakni Perdana Menteri Ali Sastroamijoyo (Indonesia), Perdana Menteri Sri Pandhit Jawaharlal Nehru (India), Perdana Menteri Mohammad Ali Jinnah (Pakistan), Perdana Menteri Sir John Kotelawala (Sri Lanka), dan Perdana Menteri U Nu (Myanmar). Konferensi tersebut diadakan untuk menyamakan persepsi dalam menyikapi masalah Vietnam sebagai bekal dalam menghadapi Konferensi Jenewa 1954 yang akan membicarakan masalah tersebut.

Dalam konferensi di Kolombo tersebut, Perdana Menteri Ali Sastroamijoyo mengemukakan perlunya diselenggarakan Konferensi Asia Afrika. Gagasan tersebut disambut oleh empat perdana menteri lainnya. Kemudian, kelima perdana menteri tersebut mengadakan pertemuan di Bogor pada tanggal 28–29 Desember 1954 yang dikenal dengan *Konferensi Pancanegara II*.



**Gambar 9.4** Suasana Sidang Konferensi Asia Afrika yang berlangsung dari tanggal 18 April sampai 24 April 1955 di Bandung.

**Sumber:** 30 Tahun Indonesia Merdeka



Pada tanggal 18–24 April 1955 di Gedung Merdeka, Bandung Konferensi Asia Afrika dibuka oleh Presiden Soekarno. Konferensi ini dihadiri 29 negara dari 30 negara yang diundang. Satu negara yang tidak hadir ialah Federasi Afrika Tengah karena sedang terjadi pergolakan politik di negara tersebut.

29 negara peserta Konferensi Asia Afrika terdiri atas 23 negara Asia dan enam negara Afrika.

#### Negara-negara yang hadir dalam Konferensi Asia Afrika

1. Indonesia	15. Yordania
2. India	16. Laos
3. Burma (sekarang Myanmar)	17. Libanon
4. Pakistan	18. Liberia
5. Sri Lanka	19. Libya
6. Afghanistan	20. Nepal
7. Kamboja	21. Filipina
8. Republik Rakyat Cina	22. Saudi Arabia
9. Mesir	23. Sudan
10. Ethiopia	24. Siria
11. Ghana (Pantai Emas)	25. Thailand
12. Iran	26. Turki
13. Irak	27. Vietnam Utara
14. Jepang	28. Vietnam Selatan
	29. Yaman

Dalam Konferensi Asia Afrika, Perdana Menteri Ali Sastroamijoyo terpilih sebagai ketua konferensi, Ruslan Abdul Gani sebagai sekretaris jenderal, Muhammad Yamin sebagai ketua komite kebudayaan, dan Prof. Ir. Rooseno sebagai ketua komite ekonomi.

Beberapa keputusan penting yang dihasilkan dalam Konferensi Asia Afrika meliputi kerja sama ekonomi, kebudayaan, Hak Asasi Manusia, dan menyikapi masalah bangsa-bangsa yang masih dijajah.

Keputusan dalam bidang ekonomi meliputi hal-hal berikut.

- Kerja sama ekonomi atas dasar saling menguntungkan dan saling pengertian serta menghormati kedaulatan nasional masing-masing.
- Saling memberi bantuan teknik berupa tenaga ahli, fasilitas latihan, proyek-proyek percontohan dan pendirian lembaga riset serta latihan.
- Secepatnya dibentuk badan khusus PBB untuk pembangunan ekonomi dan pengalokasian dana yang lebih besar dari Bank Internasional untuk pembangunan negara-negara Asia Afrika.
- Perlunya pemantapan perdagangan komoditas di kawasan Asia Afrika.

#### Tugas Mandiri

Sebutkan pengaruh KAA bagi negara-negara di Asia dan Afrika!



Keputusan dalam bidang kebudayaan meliputi hal-hal berikut.

- a. Menumbuhkan saling pengertian dalam membangun kerja sama bidang kebudayaan.
- b. Pertukaran informasi mengenai kebudayaan masing-masing yang saling menguntungkan.

Dalam bidang Hak Asasi Manusia adalah sebagai berikut.

- a. Mendukung prinsip-prinsip dasar HAM seperti yang tercantum dalam *Universal Declaration of Human Rights*.
- b. Mengecam diskriminasi rasial serta bertekad menghapuskannya.

Keputusan dalam menyikapi masalah bangsa-bangsa yang masih dijajah antara lain sebagai berikut.

- a. Kolonialisme dalam bentuk apa pun merupakan suatu kejahatan yang harus segera diakhiri.
- b. Penaklukan bangsa-bangsa, dominasi dan eksploitasi asing merupakan pelanggaran hak-hak asasi manusia.
- c. Mendukung perjuangan dan kemerdekaan bangsa-bangsa yang masih terjajah, seperti Aljazair, Maroko, dan Tunisia untuk menentukan nasib sendiri.
- d. Mendukung penuh hak-hak rakyat Palestina atas tanah airnya dan menyerukan penyelesaian masalah secara damai.
- e. Mendukung posisi Indonesia dalam masalah Irian Barat.
- f. Mendukung Yaman dalam masalah Aden.

Keputusan dalam bidang perdamaian dan kerja sama internasional adalah sebagai berikut.

- a. Menyokong masuknya beberapa negara yang memenuhi syarat untuk menjadi anggota PBB, seperti Jepang, Kamboja, Libya, Nepal, Sri Lanka, Vietnam, dan Yordania.
- b. Menghimbau semua pihak untuk membatasi, mengontrol, dan mengurangi persenjataan.

Dalam bidang politik, KAA merumuskan pokok perdamaian yang dinamakan *Dasasila Bandung*.

#### Isi Dasasila Bandung

1. Menghormati hak-hak dasar manusia dan tujuan-tujuan serta asas-asas yang termuat dalam Piagam PBB.
2. Menghormati kedaulatan dan integritas teritorial semua bangsa.
3. Mengakui persamaan ras dan persamaan semua bangsa, baik besar maupun kecil.
4. Tidak melakukan intervensi atau campur tangan masalah dalam soal-soal negeri orang lain.
5. Menghormati hak tiap-tiap bangsa untuk mempertahankan diri sendiri, secara sendirian maupun secara kolektif, yang sesuai dengan Piagam PBB.
6.
  - a. Tidak menggunakan peraturan-peraturan pertahanan kolektif untuk bertindak bagi kepentingan khusus salah satu negara besar.
  - b. Tidak melakukan tekanan terhadap negara lain.
7. Tidak melakukan tindakan-tindakan atau ancaman agresi ataupun penggunaan kekerasan terhadap integritas teritorial atau kemerdekaan politik suatu negara.



8. Menyelesaikan segala perselisihan internasional dengan jalan damai, seperti perundingan, persetujuan, arbitrase atau penyelesaian hukum atau cara damai lain-lain lagi menurut pilihan pihak-pihak yang bersangkutan, yang sesuai dengan Piagam PBB.
9. Memajukan untuk kepentingan bersama dan kerja sama.
10. Menghormati hukum dan kewajiban-kewajiban internasional.

Konferensi Asia Afrika memiliki pengaruh yang besar dalam politik internasional di masa tersebut. Konferensi Asia Afrika pula yang mendorong berdirinya Gerakan Non-Blok.

Peran Indonesia dalam KAA.

- a. Merupakan negara pemrakarsa KAA.
- b. Memegang peranan dalam kepemimpinan KAA.
- c. Penyelenggara KAA.
- d. Penyelenggara konferensi dalam lingkup Asia Afrika.
  - 1) Konferensi mahasiswa Asia-Afrika
  - 2) Konferensi wartawan
  - 3) Konferensi film Asia-Afrika II
  - 4) Konferensi Islam Asia-Afrika

Indonesia juga berperan dalam menyelenggarakan KTT Asia-Afrika 2–23 April 2005 di Jakarta dengan kesepakatan sebagai berikut.


- a. Mendasarkan kemitraan strategi Asia-Afrika pada sembilan prinsip kerja sama, salah satunya Dasasila Bandung.
- b. Menjalin kerja sama erat dalam menghadapi tantangan era globalisasi, memperbaiki kesejahteraan di kawasan Asia-Afrika melalui kerja sama teknis.
- c. Melibatkan semua lapisan masyarakat dalam kemitraan Asia-Afrika mulai dari pemerintahan, organisasi regional, subregional, dan masyarakat umum.

Arti penting KAA adalah sebagai berikut.

- a. Mengilhami berdirinya GNB.
- b. Penengah blok Barat dan Blok Timur.
- c. Merupakan cetusan rasa setia kawan dan kebangunan bangsa Asia-Afrika untuk menggalang persatuan.
- d. Pendorong perjuangan kemerdekaan bangsa-bangsa di dunia umumnya dan Asia-Afrika khususnya.

### 3. ASEAN (*Association of South East Asian Nation*)

Setelah dilakukannya normalisasi hubungan dengan Malaysia, pemerintah Indonesia mencoba menindaklanjutinya melalui upaya peningkatan hubungan dengan negara-negara Asia Tenggara lainnya. Untuk itu, bersama negara-negara Asia Tenggara lainnya Indonesia kemudian mencoba meningkatkan kerja sama dalam bidang sosial, ekonomi, dan kebudayaan di kawasan Asia Tenggara dalam suatu wadah organisasi. Maka, dibentuklah ASEAN (*Association of South East Asian Nation*).



**Gambar 9.5** Lambang ASEAN menggambarkan persatuan negara-negara anggota ASEAN.

**Sumber:** 30 Tahun Indonesia Merdeka



## Tugas Mandiri

Apa yang menjadi latar belakang berdirinya ASEAN?

ASEAN merupakan suatu organisasi regional yang resmi berdiri pada 8 Agustus 1967 melalui Deklarasi Bangkok (*Bangkok Declaration*) yang ditandatangani oleh utusan dari lima negara di kawasan Asia Tenggara, yakni sebagai berikut.

- a. Adam Malik (Menteri Utama Bidang Politik/Menteri Luar Negeri Indonesia).
- b. Tun Abdul Razak (Wakil Perdana Menteri/Menteri Pembangunan Nasional Malaysia).
- c. S. Rajaratnam (Menteri Luar Negeri Singapura).
- d. Narciso Ramos (Menteri Luar Negeri Filipina).
- e. Thanat Khoman (Menteri Luar Negeri Thailand).

Adapun tujuan ASEAN antara lain sebagai berikut.

- a. Mempercepat pertumbuhan ekonomi, perkembangan sosial, dan mengembangkan kebudayaan di kawasan Asia Tenggara.
- b. Meningkatkan perdamaian dan stabilitas regional dengan menghormati keadilan dan tata tertib di kawasan Asia Tenggara serta mematuhi berbagai prinsip dalam Piagam PBB.
- c. Meningkatkan kerja sama aktif dan saling membantu satu sama lain dalam mengatasi masalah bersama di bidang ekonomi, sosial, budaya, ilmu pengetahuan dan teknologi, serta administrasi.
- d. Saling membantu dalam hal sarana latihan dan pelatihan dalam bidang pendidikan, profesionalisme, teknologi, dan administrasi.
- e. Bekerja sama dalam meningkatkan pendayagunaan pertanian dan industri, perluasan perdagangan komoditi internasional, perbaikan sarana distribusi dan komunikasi, serta peningkatan taraf hidup rakyat.
- f. Mempererat kerja sama dengan organisasi-organisasi internasional.

Kini, anggota ASEAN berjumlah 10 negara. Perkembangan tersebut menunjukkan jati diri ASEAN sebagai organisasi terbuka bagi semua negara di kawasan Asia Tenggara tanpa membedakan sistem politik ataupun ideologi.



**Gambar 9.6** Penandatanganan Piagam Deklarasi Bangkok yang melahirkan ASEAN di Bangkok pada tanggal 8 Agustus 1967.

**Sumber:** 30 Tahun Indonesia Merdeka.



Dewasa ini ASEAN telah berkembang serta menghasilkan kerja sama yang saling menguntungkan, baik di bidang regional maupun internasional, serta memberi kerangka hubungan bilateral antara sesama anggota.

#### 10 Negara-Negara Anggota ASEAN

- |                      |                             |
|----------------------|-----------------------------|
| 1. Indonesia         | (Pendiri)                   |
| 2. Malaysia          | (Pendiri)                   |
| 3. Filipina          | (Pendiri)                   |
| 4. Singapura         | (Pendiri)                   |
| 5. Thailand          | (Pendiri)                   |
| 6. Brunei Darussalam | (diterima 7 Januari 1984)   |
| 7. Vietnam           | (diterima 28 Juli 1995)     |
| 8. Laos              | (diterima 23 Juli 1997)     |
| 9. Myanmar           | (diterima 23 Juli 1997)     |
| 10. Kamboja          | (diterima 16 Desember 1998) |

Struktur organisasi ASEAN meliputi sekretaris tetap dan sekretaris nasional komite ASEAN yang terdiri atas standing komite, komite tetap, dan komite khusus.

ASEAN telah menyelenggarakan KTT beberapa kali.

- a. KTT ASEAN I 23–24 Februari 1976 di Denpasar menghasilkan deklarasi kesepakatan ASEAN dan perjanjian persahabatan.
- b. KTT ASEAN II 4–5 Agustus 1977 di Kuala Lumpur, hasil yang diperoleh:
  - 1) memperjuangkan kawasan Asia Tenggara dari ancaman kekuatan negara di luar ASEAN sebagai wilayah damai bebas netral,
  - 2) persetujuan didirikan proyek industri ASEAN,
  - 3) dikembangkan hubungan damai dan saling menguntungkan.
- c. KTT ASEAN III (14–15 Desember 1987) di Manila, menghasilkan Deklarasi Manila yaitu penegasan keterikatan anggota ASEAN, untuk meningkatkan kerja sama bidang ekonomi, budaya, dan politik.
- d. KTT ASEAN IV (27–28 Januari 1992) di Singapura, menghasilkan Deklarasi Singapura serta ditandatangani persetujuan tentang *common effective preferential tariff*.
- e. KTT ASEAN V (14–15 Desember 1995) di Bangkok, menghasilkan Deklarasi Bangkok ditandatangani traktat kawasan bebas senjata nuklir.
- f. KTT ASEAN VI di Hanoi 1998.
- g. KTT ASEAN VII diadakan di Kamboja 4–5 November 2002
- h. KTT ASEAN VIII (November 2002) di Phnom Penh, menandatangani *ASEAN Tourism Agreement*, sebagai upaya mewujudkan ASEAN sebagai *Single Tourism Destination*.

#### Wawasan Sosial

KTT ASEAN pertama di Bali pada tahun 1976 menghasilkan empat buah dokumen yang merupakan tonggak sejarah bagi ASEAN.

1. Deklarasi Kesepakatan ASEAN (*Declaration of Asean Concord*).
2. Perjanjian Persahabatan dan Kerja Sama di Asia Tenggara (*Treaty of Amity and Cooperation in South East Asia*).
3. Persetujuan mengenai Pembentukan Sekretariat ASEAN (*Agreement on the Establishment of the Asean Secretariat*).
4. Komunike Pers Bersama (*Joint Press Communiqué*).



- i. KTT ASEAN IX di Nusa Dua, Bali pada tanggal 7–8 Oktober 2003 menghasilkan kesepakatan kerja sama dalam bidang politik, ekonomi, sosial, keamanan, masalah regional, serta internasional.

Peran Indonesia dalam ASEAN adalah sebagai berikut.

- a. Ikut memprakarsai terbentuknya ASEAN.
- b. Melalui Jakarta Informal Meeting, ikut menyelesaikan konflik Kamboja.
- c. Tempat pusat karantina tanaman dan hewan.
- d. Tempat diselenggarakan KTT ASEAN I dan KTT ASEAN IX.
- e. Tempat kedudukan Sekretariat Tetap ASEAN.
- f. Pusat penelitian biologi ASEAN.

#### 4. Gerakan Non-Blok (GNB)

Dalam Konferensi Asia Afrika di Bandung tahun 1955, muncul gagasan untuk membentuk organisasi yang tidak terikat pada dua blok yang sedang bersaing dalam perang dingin karena penjajahan yang masih terjadi di sejumlah negara, salah satunya disebabkan oleh Perang Dingin.

Kegiatan GNB meliputi berikut ini.

- a. Dalam bidang politik, ikut serta dalam perdamaian dunia.
- b. Bidang ekonomi, ikut mewujudkan tata ekonomi dunia baru dengan mengadakan kegiatan-kegiatan yaitu dialog Utara-Selatan, Kelompok 77, negosiasi global, dan kerja sama Selatan–Selatan.

Gerakan Non-Blok (*Non-Aligned Movement*) didirikan untuk menyikapi persaingan antara Blok Barat yang menganut kapitalisme dan Blok Timur yang menganut komunisme pada awal tahun 1960-an. Saat itu, kedua blok dipimpin oleh dua negara adidaya, yakni Amerika Serikat dan Uni Soviet. Persaingan kedua blok memicu terjadinya Perang Dingin (*Cold War*) yang dapat mengancam perdamaian dunia.

Pada tahun 1961, ketegangan antara Blok Barat dan Blok Timur semakin menjadi-jadi. Saat itu, Blok Timur sengaja membangun tembok yang memisahkan Kota Berlin bagian barat dengan bagian timur. Pada tahun yang sama, di Kuba terjadi krisis setelah Uni Soviet membangun pangkalan rudal di negara tersebut. Ketegangan tersebut memicu terbentuknya Gerakan Non-Blok.

Masih pada tahun 1961, dilangsungkan pertemuan untuk persiapan KTT I Gerakan Non-Blok yang diselenggarakan di Kairo. Dalam pertemuan tersebut, diputuskan lima prinsip yang menjadi dasar Gerakan Non-Blok yaitu sebagai berikut.

- a. Tidak berpihak terhadap persaingan antara Blok Barat dan Blok Timur.
- b. Berpihak terhadap perjuangan anticolonialisme.
- c. Menolak ikut serta dalam berbagai bentuk aliansi militer.
- d. Menolak ikut serta dalam aliansi bilateral dengan negara adikuasa.

#### Wawasan Sosial

Penyenggaraan KTT Non-Blok.

1. KTT Non-Blok I di Beograd (Yugoslavia), 1–6 September 1961.
2. KTT Non-Blok II di Kairo (Mesir), 5–10 Oktober 1964.
3. KTT Non-Blok III di Lusaka (Zambia), 8–10 September 1970.
4. KTT Non-Blok IV di Aljir (Aljazair), 5–9 September 1973.
5. KTT Non-Blok V di Kolombo (Sri Lanka), 16–19 September 1976.
6. KTT Non-Blok VI di Havana (Kuba), 3–9 September 1979.
7. KTT Non-Blok VII di New Delhi (India), 7–12 Maret 1983.
8. KTT Non-Blok VIII di Harare (Zimbabwe), 1–6 September 1986.
9. KTT Non-Blok IX di Beograd (Yugoslavia), 4–7 September 1989.
10. KTT Non-Blok X di Jakarta (Indonesia), 1–6 September 1992.
11. KTT Non-Blok XI di Cartagena (Kolombia), 16–22 Oktober 1995.
12. KTT Non-Blok XII di Durban (Afrika Selatan), 1–6 September 1998.
13. KTT Non-Blok XIII di Kuala Lumpur (Malaysia), 20–25 Februari 2003.



- e. Menolak pendirian basis militer negara adikuasa di wilayah masing-masing.

Adapun tujuan GNB adalah sebagai berikut.

- a. Menentang imperialisme, kolonialisme, rasialisme, zionisme, neokolonialisme, dan anti apartheid.
- b. Menyelesaikan sengketa secara damai.
- c. Mengusahakan pengembangan sosial ekonomi agar tidak dikuasai negara maju.
- d. Membantu perdamaian dunia, berusaha meredakan ketegangan Amerika Serikat dengan Uni Soviet.

Peran penting Konferensi Asia Afrika dalam terbentuknya Gerakan Non-Blok memperlihatkan besarnya pengaruh Indonesia dalam gerakan tersebut. Indonesia pun terlibat aktif dalam persiapan KTT I Gerakan Non-Blok di Beograd, Yugoslavia.

Berdirinya Gerakan Non-Blok diprakarsai oleh PM India Jawaharlal Nehru, PM Ghana Kwame Nkrumah, Presiden Mesir Gamal Abdul Nasser, Presiden Indonesia Soekarno, dan Presiden Yugoslavia Jossep Broz Tito yang dikenal dengan nama *The Initiative of Five*.

Gerakan Non-Blok berkembang pesat dari jumlah anggota 25 negara pada KTT I di Yugoslavia tahun 1961 menjadi 113 negara anggota. Anggota Gerakan Non-Blok (GNB) tidak memiliki aturan baku dan juga sekretariat yang tetap. Keputusan tertinggi berada pada Ketua KTT yang merangkap sebagai tuan rumah KTT. KTT Gerakan Non-Blok dilaksanakan tiga tahun sekali. Jabatan ketua GNB dan tuan rumah KTT selanjutnya diputuskan melalui KTT. Kuba merupakan Ketua GNB periode 2006–2009 yang juga merupakan tuan rumah KTT GNB XIV. Untuk menata dan menyesuaikan perubahan situasi global, GNB perlu menjalin kerja sama internasional untuk memperjuangkan “tata ekonomi dunia baru”. Hal ini memperkuat GNB yang didukung negara-negara berkembang.



**Gambar 9.7** Presiden Soekarno ketika menyampaikan pidatonya pada sidang KTT Non-Blok di Beograd.

**Sumber:** 30 Tahun Indonesia Merdeka.

## Tugas Mandiri

Sebutkan latar belakang dibentuknya Gerakan Non-Blok!



## Wawasan Sosial

Penyelenggara KTT OKI.

1. KTT I di Rabat, Maroko (1969).
2. KTT II di Lahore, India (1974).
3. KTT III di Makkah, Arab Saudi (1981).
4. KTT IV di Casablanca, Maroko (1984).
5. KTT V di Kuwait City, Kuwait (1987).
6. KTT VI di Dakar, Mauritania (1991).
7. KTT VII di Rabat, Maroko (1994).
8. KTT VIII di Teheran, Iran (1997).
9. KTT IX di Doha, Qatar (2000).
10. KTT X di Putrajaya, Malaysia (2003).

## 5. Organisasi Konferensi Islam (OKI)

Organisasi Konferensi Islam ialah suatu organisasi yang menghimpun negara-negara Islam dan negara-negara yang mayoritas penduduknya beragama Islam. OKI didirikan di Karachi, Pakistan pada bulan Desember 1970, dalam suatu konferensi tingkat menteri luar negeri negara-negara Islam. Awalnya, OKI didirikan akibat jatuhnya Kota Yerusalem ke tangan Israel dalam *Perang Enam Hari* tahun 1967. Gagasan pembentukan OKI semakin menguat setelah Masjidil Aqsa di Palestina yang merupakan salah satu tempat suci umat Islam dibakar Israel pada tanggal 21 Agustus 1969. Peristiwa tersebut memicu kemarahan umat Islam sedunia.

Setelah peristiwa tersebut, Raja Hasan II dari Maroko menyerukan kepada para pemimpin dunia Arab dan umat Islam untuk bersama-sama menuntut pertanggungjawaban Israel. Pada tanggal 22 Agustus 1969, berlangsung konferensi darurat para menteri luar negeri negara-negara anggota Liga Arab. Dalam konferensi tersebut, dikeluarkan sejumlah resolusi untuk diselenggarakannya konferensi tingkat tinggi (KTT) negara-negara Islam. Arab Saudi dan Maroko dipercaya untuk menyelenggarakan KTT tersebut.

Arab Saudi dan Maroko membentuk panitia penyelenggara KTT yang terdiri atas enam negara, yakni Malaysia, Palestina, Somalia, Nigeria, Arab Saudi, dan Maroko. Akhirnya, KTT dapat terselenggara di Rabat (Maroko) pada tanggal 22–25 September 1969. Dalam KTT tersebut, dihasilkan sejumlah keputusan berkenaan dengan masalah Israel dan perencanaan konferensi tingkat menteri luar negeri di Jeddah, Saudi Arabia.

### Negara-Negara Anggota OKI

Afghanistan	Guyana	Maroko	Suriname
Albania	Indonesia	Mauritania	Syria
Aljazair	Irak	Mesir	Tajikistan
Arab Saudi	Iran	Mozambik	Togo
Azerbaijan	Jibouti	Niger	Tunisia
Bahrain	Kamerun	Nigeria	Turki
Bangladesh	Kazakhstan	Oman	Turkmenistan
Benin	Komoro	Pakistan	Uganda
Brunei Darussalam	Kuwait	Palestina	Uni Emirat Arab
Burkina Faso	Kyrgyztan	Pantai Gading	Uzbekistan
Chad	Lebanon	Qatar	Yaman
Gabon	Libya	Senegal	Yordania
Gambia	Maladewa	Sierra Leone	
Guinea	Malaysia	Somalia	
Guinea-Bissau	Mali	Sudan	



Perdana Menteri Malaysia Tengku Abdul Rachman diangkat sebagai Sekjen OKI yang pertama. Saat dibentuk, anggota OKI hanya berjumlah 28 negara, yakni negara-negara yang hadir dalam KTT I di Rabat (Maroko) saja. Kini, anggota OKI berjumlah 57 negara.

Indonesia bukan negara Islam, namun Indonesia adalah negara dengan jumlah pemeluk agama Islam terbanyak di dunia. Maka, Indonesia menjadi anggota OKI dan memanfaatkan OKI sebagai forum perjuangan untuk menciptakan perdamaian dunia. Dengan berlandaskan politik luar negeri bebas aktif, Indonesia berusaha untuk berperan sebagai pemersatu umat Islam sedunia dan berusaha ikut memecahkan berbagai masalah yang dihadapi oleh umat Islam. Keanggotaan Indonesia dalam OKI memberikan banyak kesempatan terciptanya jalinan kerja sama dengan negara lain.

Dalam bidang politik, Indonesia memiliki peran yang cukup kuat dalam OKI. Pada KTT OKI 1981 di Thaif, Arab Saudi, Indonesia mengajukan resolusi tentang solidaritas dunia Islam atau *Ukhuwah Islamiyah*, yang langsung diterima oleh seluruh peserta KTT. Resolusi tersebut melahirkan komite perdamaian Islam. Di samping itu Indonesia juga memiliki andil dalam penyelesaian sengketa antara Pakistan dan Bangladesh dan penyelesaian masalah minoritas muslim Moro di Filipina. Termasuk di dalamnya mengusulkan masalah kuota haji, dan membantu perjuangan Palestina.

## 6. APEC (Asia Pacific Economic Cooperation)

APEC (*Asia-Pacific Economic Cooperation*) ialah forum kerja sama ekonomi antarnegara di kawasan Asia dan Pasifik yang dibentuk di Canberra (Australia), pada bulan Desember 1989 dalam suatu pertemuan tingkat menteri. APEC sebagai organisasi multilateral. Gagasan awal untuk pembentukan APEC berasal dari Perdana Menteri Australia, Robert Hawke.

APEC didirikan dengan latar belakang sebagai berikut.

- a. Kekhawatiran atas perekonomian masa depan dunia.
- b. Saling ketergantungan perekonomian negara-negara di kawasan Asia Pasifik.
- c. Adanya kelompok perdagangan regional yang bersifat tertutup.
- d. Perubahan politik dan ekonomi Uni Soviet dan Eropa Timur.

Awalnya, APEC hanya beranggotakan 12 negara yang terdiri atas enam negara ASEAN dan enam mitra dialognya, yakni Indonesia, Thailand, Malaysia, Filipina, Singapura, Brunei Darussalam, Jepang, Korea Selatan, Australia, Selandia Baru, Kanada, dan Amerika Serikat. Kemudian tahun 1991, RRC, Hongkong dan Taiwan diterima sebagai anggota. Pada pertemuan di Seattle, Amerika Serikat di bulan November 1993, Papua Nugini dan Meksiko diterima sebagai anggota dan setahun kemudian menyusul Chile.

### Tugas Mandiri

1. Sebutkan latar belakang pendirian OKI!
2. Sebutkan peran Indonesia dalam Organisasi Konferensi Islam!



Indonesia mempunyai peran yang cukup penting dalam APEC. Pada pertemuan di Seattle, Indonesia ditunjuk sebagai ketua APEC periode 1994–1995 dan berhasil menyelenggarakan pertemuan APEC di Bogor pada 14–15 November 1994. Pertemuan tersebut dihadiri 18 negara anggota APEC.

Selain bentuk kerja sama yang dilakukan oleh lembaga-lembaga di atas, masih terdapat lembaga-lembaga kerja sama lain yang bertujuan memberikan bantuan kepada suatu negara yang dibentuk oleh kelompok negara-negara tertentu. Lembaga-lembaga tersebut antara lain sebagai berikut.

1. *Asian Development Bank (ADB)*

Bank Pembangunan Asia bergerak di bidang pembangunan khusus bagi negara-negara di Asia yang sedang membangun.

2. *Islamic Development Bank (IDB)*

Bank Pembangunan Islam, didirikan 20 Oktober 1975 dengan tujuan utama membantu dan menggalakkan pembangunan ekonomi dan sosial di negeri-negeri Islam baik secara individu ataupun kolektif berupa pinjaman dengan syarat yang lunak.

3. *Inter Governmental Group on Indonesia (IGGI)*

Kelompok ini terdiri atas negara yang memberikan bantuan kepada Indonesia sejak 1967. Bantuan yang diberikannya dengan syarat yang sangat lunak, seperti masa pembayaran kembali antara 30 – 40 tahun dengan masa bebas membayar bunga 7 – 10 tahun, bunga sekitar 2,5% per tahun.

Lembaga ini didirikan di Den Haag, Belanda pada tahun 1967. Yang menjadi ketua IGGI adalah menteri kerja sama pembangunan kerajaan Belanda. Namun beberapa tahun terakhir menjelang tahun 1992, Belanda mencampuri urusan dalam negeri Indonesia dan selalu mengancam ingin menghentikan bantuannya ke Indonesia. Oleh karena itu, pada tanggal 25 Maret 1992 Indonesia menolak bantuan dana dari Belanda (anggota IGGI) dan meminta pembubaran IGGI.

Bantuan-bantuannya berupa penanaman modal swasta, memajukan perdagangan, menstabilkan dan memajukan ekonomi melalui pimpinan pemerintah dan swasta.

4. *Consultative Group for Indonesia (CGI)*

CGI dibentuk atas permintaan pemerintah Indonesia sebagai pengganti IGGI. Anggota-anggota CGI terdiri atas negara-negara dan lembaga-lembaga internasional yang sebagian besar merupakan mantan anggota IGGI.

Negara-negara anggota CGI adalah Amerika Serikat, Australia, Austria, Belgia, Denmark, Finlandia, Inggris, Italia, Jerman, Jepang, Kanada, Korea Selatan, Norwegia, Prancis, Spanyol, Selandia Baru, Swiss, dan Swedia.



#### 5. *Organization of Petroleum Exporting Countries (OPEC)*

OPEC merupakan organisasi dari para pengekspor minyak kini beranggotakan 11 negara. Dibentuk tahun 1960 atas prakarsa Irak, Iran, Kuwait, Arabi Saudi, dan Venezuela. Indonesia masuk menjadi anggota OPEC tahun 1962. Indonesia senantiasa memainkan peran aktif dalam keanggotaannya dan telah beberapa kali menjadi tuan rumah Konferensi Tingkat Tinggi (KTT) OPEC.

Tujuan OPEC adalah untuk menjaga kestabilan harga minyak dunia dan keseragaman harganya.

### **C. Perilaku Masyarakat dalam Perubahan Sosial Budaya di Era Global**

Kamu pasti sudah sering mendengar istilah globalisasi. Nah, tahukah kamu, apa yang dimaksud dengan globalisasi itu? Globalisasi menunjuk pada makin menguatnya kesadaran mengenai dunia sebagai satu-kesatuan. Kenyataan ini terwujud melalui meningkatnya saling ketergantungan dalam hubungan antarbangsa serta pertemuan antarbudaya. Wujud konkret adanya saling ketergantungan dalam hubungan antarbangsa adalah adanya hubungan kerja sama antarnegara.

Hubungan kerja sama yang dilakukan oleh suatu negara, tentu saja membawa dampak perubahan pada masyarakat di negara tersebut. Perilaku masyarakat dalam menyikapi perubahan yang terjadi terdiri berbagai macam bentuk.

Pada umumnya, masyarakat lebih menyukai kehidupan yang biasa, bahkan sebagian menolak hal-hal baru yang dapat menimbulkan perubahan. Semakin mencolok suatu hal (perubahan-perubahan kebiasaan, lembaga-lembaga, dan ideologi), akan semakin besar pula tantangan masyarakat terhadapnya. Akan tetapi bisa juga perubahan sosial budaya diterima atau secara diam-diam disetujui.

Terjadinya perubahan sosial budaya idealnya harus melalui perencanaan yang matang, agar hasilnya dapat diterima dan memiliki manfaat bagi kehidupan manusia. Artinya, perubahan sosial budaya harus bermuara pada penciptaan suasana dan tatanan kehidupan yang lebih baik. Namun, terjadinya perubahan sosial budaya sebenarnya memiliki dua dimensi, yaitu keharmonisan masyarakat (*equilibrium social*) dan disorganisasi. Keharmonisan masyarakat akan terjadi ketika perubahan sosial budaya itu sesuai dengan tuntutan kebutuhan masyarakat. Adapun disorganisasi terjadi ketika perubahan sosial budaya itu sedikit atau tidak memberikan manfaat bagi masyarakat yang bersangkutan.

Keharmonisan merupakan suatu keadaan yang diidam-idamkan oleh seluruh masyarakat. Keharmonisan dapat terjadi ketika seluruh lembaga kemasyarakatan mampu menjalankan

#### **Tugas Mandiri**

Amatilah lingkungan di sekitar tempat tinggalmu! Tunjukkan beberapa contoh perubahan yang menimbulkan disorganisasi dalam masyarakat! Jelaskan akibat perubahan itu bagi masyarakat!



fungsi dan perannya dengan baik sehingga individu dan masyarakat merasakan adanya ketenangan atau ketenteraman. Setiap kali terjadi gangguan terhadap keserasian, masyarakat dapat menolaknya. Jika ada unsur-unsur yang baru, terlebih dahulu diuji coba, diperkenalkan, dan dimusyawarahkan oleh para tokoh masyarakat bersama seluruh lapisan masyarakat. Ketidakserasian tersebut harus dipulihkan setelah terjadinya perubahan.

Penyebaran ide-ide baru kepada masyarakat dalam konteks perubahan sosial budaya hendaknya melalui tiga tahapan berikut ini.

1. *Invensi (invention)*, yaitu proses di mana ide-ide baru diciptakan atau dikembangkan.
2. *Difusi (diffusion)*, yaitu proses penyebaran ide-ide baru ke dalam suatu sistem sosial.
3. *Konsekuensi (consequency)*, yaitu perubahan-perubahan yang terjadi dalam sistem sosial sebagai akibat pengadopsian atau penolakan inovasi.

Proses pengadopsian sesuatu yang baru oleh masyarakat pada dasarnya akan melewati lima tahapan berikut ini.

1. Tahap kesadaran, ketika seseorang mengetahui adanya ide-ide baru.
2. Tahap menaruh minat, ketika seseorang mulai menaruh minat dan mencari tahu dari pihak lain.
3. Tahap penilaian, ketika seseorang melakukan penilaian dan menghubungkannya dengan situasi dirinya, baik untuk kepentingan sekarang maupun masa yang akan datang.
4. Tahap percobaan, ketika seseorang menerapkan ide-ide baru dalam skala yang relatif kecil untuk menentukan manfaatnya.
5. Tahap penerimaan, ketika seseorang menggunakan ide baru itu secara permanen untuk skala yang lebih luas.

Jika perubahan sosial budaya itu berpengaruh terhadap semakin tenteramnya masyarakat, maka disebut konsekuensi yang fungsional. Selain dapat mengakibatkan konsekuensi yang fungsional, perubahan sosial budaya juga dapat menyebabkan akibat-akibat yang tidak diharapkan. Akibat yang tidak diharapkan tersebut dinamakan konsekuensi yang disfungsional. Bahkan, pengaruh perubahan sosial budaya juga ada yang langsung dapat dirasakan dan ada pula yang memerlukan waktu dan proses yang lama.

Salah satu contoh perubahan sosial budaya yang mengakibatkan terjadinya disfungsional adalah pudarnya norma-norma dan nilai-nilai dalam masyarakat. Norma-norma atau nilai-nilai dalam suatu sistem sosial mungkin tidak akan memudar jika ketenteraman dan kesejahteraan masyarakat tersebut tetap terpelihara dengan baik.

### Tugas Mandiri

Era reformasi telah mengakibatkan terjadinya perubahan sosial dalam masyarakat. Bagaimana kamu menyikapinya?



Suatu perubahan sosial budaya mungkin akan berfungsi bagi masyarakat tertentu, tetapi belum tentu bagi masyarakat yang lain. Keberfungsian dari suatu proses perubahan sosial budaya akan sangat bergantung pada kebutuhan masyarakat yang bersangkutan dan juga pada waktunya. Model perubahan sosial budaya yang terjadi pada saat ini belum tentu cocok digunakan untuk sepuluh atau dua puluh tahun yang akan datang. Jadi, perubahan sosial budaya itu senantiasa akan tetap berlangsung sepanjang manusia masih ada di permukaan bumi.

Di era global ini, perubahan sosial budaya merupakan suatu hal yang sangat wajar terjadi. Globalisasi telah melahirkan kemajuan di berbagai bidang, seperti transportasi, komunikasi, serta ilmu pengetahuan dan teknologi. Kemajuan itu telah menyebabkan dunia menjadi semakin sempit. Misalnya di bidang teknologi komunikasi dan informasi. Kamu dapat mengetahui peristiwa atau kejadian di negara lain dengan cepat melalui internet atau berita di televisi.

Globalisasi yang melahirkan perubahan sosial budaya dapat membentuk perilaku-perilaku anggota masyarakat. Perilaku masyarakat sebagai akibat perubahan sosial budaya di era global ini menunjukkan adanya perilaku-perilaku positif sesuai dengan arah dan tujuan perubahan, serta perilaku-perilaku negatif sebagai konsekuensi ketidakmampuan untuk mengikuti perubahan.

## 1. Perilaku Positif Masyarakat di Era Global

Perubahan sosial budaya secara umum dimaksudkan untuk menciptakan keadaan yang baru atau menyempurnakan keadaan yang sudah ada agar sesuai dengan perkembangan zaman. Dengan perubahan sosial budaya diharapkan taraf hidup dan kesejahteraan manusia menjadi lebih baik, kaitannya dengan pemanfaatan hasil-hasil perkembangan atau kemajuan teknologi.

Tahukah kamu, perilaku positif apa yang muncul dalam perubahan sosial budaya di era global? Berikut ini akan kamu pelajari beberapa contoh perilaku tersebut.

### a. Pola Pikir Modern


Perubahan sosial budaya diharapkan mampu untuk merubah pola pikir anggota masyarakat, dari pola pikir tradisional menjadi pola pikir modern. Misalnya kepercayaan terhadap animisme dan dinamisme. Animisme merupakan kepercayaan akan adanya kekuatan roh nenek moyang yang ada di alam semesta, sedangkan dinamisme merupakan kepercayaan akan benda-benda gaib yang memiliki kekuatan tertentu. Anggota masyarakat yang memiliki pola pikir modern tidak percaya akan hal tersebut, karena segala sesuatu yang ada di alam ini adalah kehendak Tuhan Yang Maha Esa.





**Gambar 9.8** Internet sebagai wujud kemajuan teknologi informasi memudahkan manusia dalam memperoleh informasi.

**Sumber:** Dokumen Penerbit.



**Gambar 9.9** Perilaku konsumtif masyarakat, salah satu bentuk *mestizo culture* dalam masyarakat.

**Sumber:** Dokumen Penerbit.

#### b. Percaya pada Ilmu Pengetahuan dan Teknologi

Dengan ilmu pengetahuan, manusia menciptakan berbagai teknologi untuk memudahkannya dalam memenuhi kebutuhannya. Misalnya manusia menciptakan telepon untuk membantu memudahkan manusia dalam berkomunikasi, terutama komunikasi yang dilakukan jarak jauh.

Dengan teknologi pula yaitu internet, manusia memperoleh informasi aktual dari segala penjuru dunia secara cepat dan dalam waktu yang singkat.

## 2. Perilaku Negatif Masyarakat di Era Global

Perubahan sosial budaya yang bersifat negatif dapat menimbulkan keguncangan atau konflik dalam masyarakat yang dapat mengarah pada terjadinya proses disorganisasi atau disintegrasi. *Disorganisasi sosial* adalah suatu proses berkurangnya pengaruh kekuatan norma-norma yang ada terhadap warga masyarakat. Beberapa perilaku negatif yang banyak dilakukan anggota masyarakat sebagai akibat perubahan sosial budaya di era global antara lain sebagai berikut.

#### a. Kurang Menaati Peraturan dalam Masyarakat

Sebagai contohnya norma-norma dalam berlalu lintas. Sopan santun berlalu lintas yang menyangkut ketaatan seorang pengemudi atau pejalan kaki terhadap peraturan-peraturan lalu lintas sering dilanggar. Padahal peraturan itu dibuat untuk menjaga keselamatan masyarakat, termasuk para pengemudi dan pejalan kaki.

#### b. Pengrusakan Fasilitas Umum

Globalisasi telah melahirkan perkembangan teknologi yang sangat cepat. Pada dasarnya teknologi diciptakan oleh manusia untuk memudahkan dalam memenuhi kebutuhannya. Namun, dalam kenyataannya masyarakat belum sepenuhnya dapat memanfaatkan kemajuan teknologi itu dengan sebaik-baiknya. Hal ini karena perkembangan alam pikiran sebagian masyarakat tidak secepat perkembangan teknologi. Salah satu akibatnya banyak fasilitas umum sebagai bentuk kemajuan teknologi dirusak oleh masyarakat. Misalnya telepon umum. Ini membuktikan bahwa alam pikiran manusia belum bisa menyesuaikan diri dengan kemajuan teknologi.

#### c. Perilaku Konsumtif

Perilaku konsumtif ditandai dengan peningkatan pola konsumsi masyarakat dan keinginan untuk pamer kekayaan akibat dari iklan atau promosi yang ditawarkan. Secara psikologis kondisi seseorang yang mengalami gejala ini akan mudah mengalami keguncangan atau ketidakpuasan serta kecemasan akan harapan-harapan yang diinginkan. Pada tahapan berikutnya akan menimbulkan disintegrasi sosial.



d. Aksi Protes

Aksi protes adalah suatu tuntutan atau keinginan dari seseorang atau kelompok yang dilakukan dengan lisan atau tertulis untuk memperjuangkan kepentingan atau suatu objek tindakan. Sebab-sebab terjadinya aksi protes antara lain adanya pihak-pihak yang merasa dirugikan, rasa tidak puas atau kecewa atas suatu keputusan, adanya tindakan sewenang-wenang dari suatu pihak terhadap pihak lain, dan munculnya prasangka dari pihak-pihak tertentu.

Akibat-akibat yang ditimbulkan dari aksi protes antara lain sebagai berikut.

- 1) Menimbulkan rasa tidak percaya.
- 2) Menimbulkan bibit-bibit konflik yang mengarah pada perpecahan.
- 3) Menghambat kerja sama dalam beraktivitas.
- 4) Timbulnya kelompok-kelompok primordial.

e. Demonstrasi

Demonstrasi adalah suatu gerakan bersifat massal yang dilakukan secara langsung dan terbuka baik secara lisan, tulisan, dan tindakan secara bersama-sama dalam memperjuangkan suatu tuntutan atau kepentingan. Sebab-sebab terjadinya demonstrasi antara lain adanya penyimpangan dalam suatu sistem yang berlaku, terjadinya perubahan dalam sistem yang bersifat inkonstitusional, dan tidak berfungsinya sistem yang dipilih. Misalnya demonstrasi terhadap pelaksanaan pemerintahan yang otoriter dan korup.



**Gambar 9.10** Demonstrasi dapat dilakukan untuk mengupayakan perbaikan dan perubahan kehidupan.

**Sumber:** [www.pabelanpos.com](http://www.pabelanpos.com).

Akibat yang ditimbulkan dari demonstrasi antara lain sebagai berikut.

- 1) Mengganggu stabilitas.
- 2) Mendorong tindakan kejahatan politik dan ekonomi.
- 3) Menghambat proses pembangunan.



Selain dampak negatif, demonstrasi yang dilakukan dengan tertib dan lancar dapat menyebabkan terjadinya perubahan kebijakan dan sistem kehidupan yang lebih baik.

f. Pergolakan daerah

Pergolakan daerah adalah suatu gerakan sosial, baik secara vertikal maupun horizontal yang dilakukan secara serentak pada suatu daerah dengan berbagai cara untuk memaksakan tuntutan dan cita-citanya. Secara umum pergolakan daerah terjadi apabila ikatan primordial kedaerahan yang menumbuhkan sentimen kedaerahan berkembang tidak sebanding dengan tumbuhnya sentimen nasional.

Sebab-sebab terjadinya pergolakan daerah antara lain sebagai berikut.

- 1) Adanya ketidakadilan dalam pengelolaan sumber daya alam.
- 2) Perbedaan ideologi antargolongan yang terdapat di masyarakat.
- 3) Adanya tokoh intelektual yang memengaruhi dan mendorong terjadinya pergolakan.
- 4) Adanya pertentangan-pertentangan sosial yang berkepanjangan dan tidak teratasi.
- 5) Adanya tindakan sewenang-wenang atau kekerasan dari pemegang kekuasaan.

Akibat-akibat pergolakan daerah antara lain sebagai berikut.

- 1) Aktivitas dan mobilisasi masyarakat menjadi terganggu.
- 2) Merugikan berbagai pihak, baik secara materi maupun moral.
- 3) Munculnya berbagai kerawanan-kerawanan sosial.
- 4) Terjadinya perubahan-perubahan yang bersifat negatif terhadap berbagai aspek kehidupan masyarakat.
- 5) Apabila tidak segera diatasi dapat mengarah pada disintegrasi sosial.

g. Prostitusi

Arus informasi yang tidak terbandung di era globalisasi menyebabkan tersebarnya informasi dan berbagai budaya Barat yang tidak sesuai dengan kepribadian bangsa. Salah satu akibatnya adalah berkurangnya norma kesusilaan yang selama ini menjadi pegangan hidup anggota masyarakat. Hal ini berakibat semakin maraknya praktik prostitusi, baik yang terselubung maupun yang terang-terangan.

Prostitusi adalah tindakan yang melanggar norma agama dan kesusilaan dengan melakukan pekerjaan yang mengarah pada penyerahan diri kepada umum untuk melakukan perbuatan seksual dengan imbalan tertentu. Faktor-faktor yang menyebabkan terjadinya prostitusi menurut Soerjono Soekanto adalah sebagai berikut.

### Tugas Mandiri

Sebutkan dampak positif dan negatif yang mungkin timbul dari adanya demonstrasi!

### Tugas Bersama

Mengapa kekayaan alam dan budaya daerah di negara kita harus disikapi dengan positif dan menguntungkan semua pihak? Diskusikan dengan teman kelompokmu!



- 1) Faktor internal yang meliputi sifat malas, rusaknya moral, rasa balas dendam atas perlakuan orang lain terhadap dirinya, serta keinginan untuk hidup mewah tanpa harus susah payah bekerja.
- 2) Faktor eksternal yang meliputi adanya keterpaksaan kondisi yang harus dilakukan karena pihak lain, usaha mempertahankan hidup akibat urbanisasi, dan faktor ekonomi.

Akibat-akibat yang ditimbulkan dari prostitusi antara lain sebagai berikut.

- 1) Menimbulkan keresahan sosial dalam masyarakat.
- 2) Merusak generasi muda dan tatanan keluarga.
- 3) Adanya eksploitasi pihak tertentu terhadap pihak lain sebagai pelaku.

#### h. Kriminalitas

Media massa di era global saat ini turut memberikan andil bagi munculnya tindakan kriminalitas di masyarakat. Hal itu bisa kita lihat dari pemutaran film-film yang menekankan kekerasan dan berbagai berita tentang kriminalitas yang terjadi di masyarakat yang dikupas secara tuntas.

Kriminalitas adalah suatu pelanggaran terhadap nilai-nilai dan norma-norma hukum yang berlaku di dalam masyarakat yang dapat diancam sanksi pidana. Ilmu yang mempelajari tentang kriminalitas disebut *kriminologi*.

Dalam masyarakat modern sekarang ini, tindakan kriminal disebabkan adanya ambisi untuk memperoleh kepuasan materiil tanpa memperhitungkan kesesuaian antara keinginan diri dengan kemampuan yang dimiliki secara umumnya.

Secara umum faktor-faktor yang menyebabkan terjadinya tindakan kriminal antara lain sebagai berikut.

- 1) Jalan pintas untuk mendapatkan kekayaan.
- 2) Pertentangan dan persaingan kebudayaan.
- 3) Perbedaan distribusi kekayaan dan pendapatan.
- 4) Mentalitas yang tidak stabil.
- 5) Pengaruh media komunikasi, seperti televisi, radio, film, dan media cetak yang dapat mendorong atau mensugesti seseorang untuk menerima atau menolak perilaku jahat.

Contoh tindakan kriminal yang dilakukan tanpa kekerasan adalah korupsi. Menurut Joel Krieger korupsi dibedakan menjadi tiga, yaitu korupsi ekstortif, korupsi manipulatif, korupsi nepotistik.

- 1) Korupsi ekstortif adalah tindakan yang dilakukan dengan memberikan suap (*bribery*) kepada penguasa atau pejabat untuk memperoleh kemudahan atau perlindungan atas kepentingannya.

#### Wawasan Sosial

Korupsi adalah tindakan memperkaya diri dengan mengambil atau menggunakan uang atau benda-benda milik negara atau lembaga pemerintahan maupun swasta.



- 2) Korupsi manipulatif adalah tindakan yang dilakukan oleh seseorang untuk memengaruhi pembuatan kebijakan, peraturan, atau keputusan dari suatu lembaga atau pemerintah.

Misalnya tindakan memanipulasi data atau laporan dengan harapan mendapatkan keuntungan setinggi-tingginya walaupun tindakan tersebut merugikan rakyat atau pihak lain.

- 3) Korupsi nepotistik adalah tindakan yang dilakukan dengan memberikan fasilitas atau keistimewaan dari seseorang atau pejabat kepada pihak-pihak tertentu yang dikenal atau ada ikatan keluarga.

Akibat-akibat kriminalitas yang terjadi di masyarakat adalah sebagai berikut.

- 1) Mengganggu stabilitas keamanan masyarakat.
- 2) Merugikan pihak-pihak lain, baik secara materi maupun moral, misalnya pencurian, perampokan, dan pembunuhan.
- 3) Merugikan masyarakat dan negara, misalnya tindakan korupsi, kolusi, dan nepotisme.

#### i. Kenakalan Remaja

Kenakalan remaja adalah tindakan pelanggaran terhadap norma-norma sosial yang dilakukan oleh anak-anak atau remaja. Tanda-tanda kenakalan remaja, misalnya bolos sekolah, membuat suasana gaduh di dalam kelas, melakukan tindakan-tindakan asusila, kebut-kebutan di jalanan, perkelahian antarpelajar, dan mengonsumsi narkoba.

Faktor-faktor yang menyebabkan kenakalan remaja antara lain sebagai berikut.

- 1) Berasal dari dalam diri anak (*intrinsik*), meliputi faktor usia, jenis kelamin, inteligensi, dan kedudukan anak dalam keluarga.
- 2) Berasal dari pengaruh luar (*ekstrinsik*), meliputi faktor rumah tangga, pendidikan atau sekolah, pergaulan anak, lingkungan masyarakat, dan media massa.

Akibat-akibat dari kenakalan remaja antara lain sebagai berikut.

- 1) Merusak diri sendiri, keluarga, dan sekolah.
- 2) Mengganggu ketertiban umum, misalnya ngebut di jalanan atau perkelahian antarpelajar.
- 3) Meresahkan lingkungan masyarakat.
- 4) Mendorong ke arah perbuatan asusila.
- 5) Mendorong untuk bertindak jahat atau kriminal.



**Gambar 9.11** Mengonsumsi narkoba selain dilarang agama juga merugikan diri sendiri dan orang lain.

**Sumber:** Dokumen Penerbit.





## D. Kerja Sama Antarnegara di Bidang Ekonomi

Kemampuan manusia sangat terbatas, sementara kebutuhan manusia sangat banyak, tidak terbatas, dan beraneka ragam. Oleh karena itu, manusia selalu membutuhkan bantuan orang lain. Demikian pula kehidupan masyarakat suatu negara. Setiap negara selalu berusaha untuk memenuhi kebutuhan rakyatnya agar tercapai kemakmuran. Namun, dengan kekayaan alam dan teknologi yang terbatas, setiap negara pasti membutuhkan bantuan negara lain. Oleh sebab itu, hubungan kerja sama ekonomi dengan negara-negara lain sangatlah penting.

Kerja sama ekonomi antarnegara adalah bentuk hubungan kerja sama dalam bidang ekonomi yang dilakukan oleh suatu negara dengan negara lain di dunia. Hubungan kerja sama ekonomi antarnegara diwujudkan dengan cara melakukan pertukaran barang/jasa atau melakukan perdagangan internasional. Kegiatan ini selain berfungsi untuk menyebarluaskan hasil produksi suatu negara ke negara lain, juga untuk mendapatkan hasil produksi negara lain yang tidak dihasilkan dalam negeri.

Dari pengertian tentang kerja sama ekonomi antarnegara di atas dapat dipahami bahwa tujuan diadakannya kerja sama ekonomi antarnegara adalah sebagai berikut.

1. Memenuhi kebutuhan barang-barang atau jasa bagi bangsa itu sendiri di dalam negeri.
2. Melindungi pertumbuhan dan pengembangan industri di dalam negeri.
3. Meningkatkan dan memperluas lapangan kerja.
4. Meningkatkan pendapatan negara (devisa).
5. Meningkatkan kestabilan dalam bidang ekonomi, politik, sosial, budaya, dan pertahanan keamanan.
6. Memelihara ketertiban dan perdamaian dunia.
7. Meningkatkan dan mempererat tali persahabatan antarbangsa di dunia.

Kerja sama ekonomi antarnegara ini bisa dilakukan dalam kawasan regional maupun internasional.

### 1. Kerja Sama Ekonomi Regional

Untuk melindungi kepentingan ekonomi dalam negerinya, negara-negara di kawasan tertentu menjalin kerja sama ekonomi. Berikut ini dapat kamu ketahui beberapa contoh organisasi kerja sama ekonomi regional.

#### a. AFTA (*Asean Free Trade Area*)

AFTA (Kawasan Pedagang Bebas Asean) adalah wujud kesepakatan negara-negara ASEAN untuk membentuk suatu kawasan bebas perdagangan. AFTA dibentuk pada Konferensi Tingkat Tinggi (KTT) ASEAN ke IV di Singapura tahun 1992. Kawasan perdagangan bebas ASEAN ini mulai



diberlakukan pada tahun 2002 untuk Singapura, Malaysia, Filipina, Thailand, Brunei Darussalam, dan Indonesia. Dan, tahun 2006–2010 untuk Vietnam, Laos, Myanmar, dan Kamboja.

b. APEC (*Asia Pacific Economic Cooperation*)

APEC atau kerja sama Ekonomi Asia Pasifik bertujuan mempromosikan kerja sama ekonomiregional dan perdagangan bebas global di antara negara-negara yang berbatasan dengan lautan Pasifik. Pada tahun 1994, negara maju anggota APEC sepakat menghapus hambatan perdagangan mulai tahun 2010. Sedangkan sesama negara berkembang anggota APEC sepakat mengikutinya mulai tahun 2020.

## 2. Kerja Sama Ekonomi Internasional

Lembaga-lembaga internasional sebagai wadah kerja sama antarnegara di bidang ekonomi antara lain sebagai berikut.

a. WTO (*World Trade Organization*)

WTO atau Organisasi Perdagangan Dunia berperan mempromosikan serta memperkuat diterapkannya aturan dan hukum perdagangan internasional yang telah disepakati. Organisasi ini bahkan memiliki kekuasaan untuk mengelola serta memlihara kesepakatan perdagangan bebas, mengawasi berbagai praktik perdagangan dunia, serta menyelesaikan sengketa perdagangan di antara negara-negara anggota. Organisasi ini didirikan pada 25 April 1994 di Maroko.

b. GATT (*General Agreement on Tariffs and Trade*)

GATT (Perjanjian Umum tentang Tarif-Tarif dan Perdagangan) didirikan pada tahun 1948 di Jenewa, Swiss. Tujuan pendirian lembaga ini adalah untuk menghilangkan atau mengurangi rintangan-rintangan di dalam perdagangan Internasional.

## E. Dampak Kerja Sama Antarnegara terhadap Perekonomian Indonesia

Dengan adanya berbagai bentuk kerja sama ekonomi, perekonomian dunia dapat berkembang sangat pesat. Apabila didukung oleh kemajuan di bidang teknologi dan informasi, perkembangan itu tampak sangat luar biasa. Banyak negara memang bisa menikmati dan memetik keuntungan dari perkembangan ekonomi dunia tersebut. Akan tetapi, di sisi lain kekhawatiran pun tidak bisa dihindari.

Bagi negara-negara maju, kerja sama ekonomi akan memperluas pemasaran produk-produknya. Dengan demikian, konsumen produk mereka semakin banyak. Apalagi, karena



teknologi mereka sudah sangat maju, produk-produknya pun sangat kompetitif. Lain halnya dengan negara-negara yang dari sisi teknologi masih ketinggalan. Kerja sama ekonomi di satu sisi bagi mereka justru bisa menjadi ancaman terhadap produk-produk dalam negeri. Produk dalam negeri mereka akan kalah bersaing dengan produk dari negara maju sehingga terancam bangkrut. Hal ini dialami juga oleh Indonesia. Misalnya, impor dengan mudah dari luar negeri justru akan mematikan sebagian perusahaan di Indonesia.

Memang tidak semua kerja sama memiliki dampak positif bagi setiap negara. Ada kalanya justru membawa dampak buruk bagi beberapa pihak di dalam negara tersebut. Meskipun sebenarnya dari kerja sama ekonomi regional maupun internasional diharapkan masing-masing pihak diuntungkan. Berikut ini dampak kerja sama ekonomi bagi suatu negara.

### 1. Posisi Perdagangan Makin Menguat

Melalui kerja sama ekonomi, baik regional maupun internasional diharapkan tercapai kesepakatan berupa aturan dan saling pengertian yang dapat mengatasi hambatan perdagangan. Berdasarkan aturan yang telah disepakati itu, Indonesia mampu menjual produknya ke luar negeri dan membuka kesempatan masuknya produk impor. Sehingga dapat memperlancar aliran ekspor impor antarnegara. Semakin kuatnya perdagangan nasional tampak dari rata-rata ekspor Indonesia ke ASEAN pada tahun 1996–2001 sebesar USD 9,2 milyar atau 17,2% dari total ekspor.

### 2. Meningkatkan Daya Saing

Kerja sama ekonomi menciptakan persaingan yang sehat dengan menghasilkan produk yang mampu bersaing. Hasil yang diharapkan adalah kesetaraan daya saing produk-produk Indonesia di antara negara-negara lain yang terlibat perdagangan internasional. Hal ini menjadi tantangan bagi Indonesia untuk menghasilkan produk yang berkualitas.

Misalnya dalam memproduksi pakaian. Dengan kualitas yang bagus, produksi pakaian kita bisa diekspor dan bersaing dengan produk-produk dari negara lain.

### 3. Terjalinnya Hubungan Dagang

Pada dasarnya hubungan dagang harus menguntungkan semua pihak yang terlibat, maka kerja sama ekonomi menempatkan tiap negara dalam perlakuan yang sama. Berbagai masalah dan kendala dapat dibicarakan dalam pertemuan internasional. Jadi, terjalinnya hubungan dagang dengan negara lain memberi peluang pemasaran produk Indonesia semakin luas. Contohnya hubungan dagang antara Indonesia dengan Jerman, memberi peluang bagi Indonesia untuk menjual tembakau di Bremen, Jerman.

#### Tugas Mandiri

Indonesia adalah salah satu negara pelopor dan perintis berdirinya ASEAN. Menurutmu, apakah Indonesia sudah merasakan 315 manfaat dari kerja sama ekonomi ASEAN? Berikan Penjelasan!





## Rangkuman

- ❖ Orde Baru lahir dengan tekad untuk melaksanakan Pancasila dan UUD 1945 secara murni dan konsekuen. Orde Baru menjalankan pemerintahan di negara Indonesia dalam kurun waktu yang lama sampai munculnya Orde Reformasi.
- ❖ Munculnya reformasi menimbulkan harapan baru terwujudnya demokratisasi di negara Indonesia.
- ❖ Kerja sama yang dilakukan Indonesia dilandasi oleh kebijakan politik luar negeri yang bebas dan aktif. Realisasinya yaitu Indonesia menjadi anggota PBB pada tanggal 27 September 1950, dengan nomor urut anggota 60.
- ❖ Selain berpartisipasi dalam lembaga dan organisasi dunia, peran Indonesia juga meliputi penyelenggaraan beberapa konferensi penting, seperti Konferensi Asia Afrika pada 28 April–2 Mei 1954 di Kolombo, Sri Lanka.
- ❖ Bentuk kerja sama lain yang melibatkan Indonesia dengan negara-negara lain, di antaranya ASEAN (Association of South East Asian Nation), Gerakan Non-Blok (Non-Aligned Movement), OKI, APEC, dan sebagainya.
- ❖ Perubahan sosial harus bermuara pada penciptaan suasana dan tatanan kehidupan yang lebih baik. Jika perubahan itu berpengaruh terhadap semakin tenteramnya masyarakat maka disebut konsekuensi yang fungsional. Sebaliknya, bila perubahan menyebabkan akibat-akibat yang tidak diharapkan dinamakan konsekuensi yang disfungsional.
- ❖ Melalui kerja sama ekonomi baik regional maupun internasional diharapkan masing-masing pihak diuntungkan. Adapun dampak kerja sama ekonomi bagi perekonomian Indonesia di antaranya posisi perdagangan makin menguat, meningkatkan daya saing, serta terjalinnya hubungan dagang.

## Refleksi

Kamu sudah belajar mengenai kerja sama internasional. Untuk mengetahui pemahamanmu mengenai materi ini, berilah tanda cek (√) pada kolom Ya atau Tidak.

No	Pernyataan	Ya	Tidak
1.	Sudahkah kamu tahu macam-macam organisasi atau lembaga internasional?		
2.	Apakah kamu sudah paham bentuk-bentuk kerja sama yang dilakukan organisasi atau lembaga-lembaga internasional tersebut?		
3.	Sudah pahamkah kamu dampak dari adanya kerja sama internasional bagi bangsa Indonesia?		



I. Pilihlah satu jawaban yang paling tepat!

1. Pejabat negara yang diperlukan oleh bangsa Indonesia adalah ....
  - a. dapat membawa rakyat dalam kemakmuran
  - b. bersih dari KKN
  - c. dicintai rakyat
  - d. berwibawa dan kharismatik
2. Kekuasaan yang penuh dengan praktik kolusi, korupsi, dan nepotisme (KKN) telah membawa Indonesia mengalami ....
  - a. krisis kepemimpinan
  - b. krisis kepercayaan
  - c. krisis moneter
  - d. krisis sosial
3. Kerja sama yang dilakukan antara dua negara, dari segi bentuknya disebut kerja sama ....
  - a. internasional
  - b. multilateral
  - c. regional
  - d. bilateral
4. Berikut ini syarat-syarat menjadi anggota PBB, *kecuali* ....
  - a. cinta damai
  - b. merdeka dan berdaulat
  - c. berpihak pada negara adikuasa
  - d. disetujui oleh Majelis Umum
5. Organisasi yang membantu keuangan untuk perbaikan Candi Borobudur dan pengembangan ilmu pengetahuan adalah ....
  - a. IMF
  - b. CGI
  - c. UNESCO
  - d. UNICEF
6. Contoh kerja sama regional adalah ....
  - a. MEE
  - b. Indonesia–Malaysia
  - c. OPEC
  - d. Indonesia–Amerika Serikat
7. Gagasan penyelenggaraan KAA muncul dalam ....
  - a. Konferensi Pancasila I
  - b. Konferensi Pancasila II
  - c. Konferensi Hubungan Antar-Asia
  - d. Konferensi Jenewa
8. Berikut ini wakil negara-negara yang menandatangani Deklarasi Bangkok, *kecuali* ....
  - a. Narciso Ramos
  - b. Thanat Khoman
  - c. Tun Abdul Razak
  - d. U Nu
9. Salah satu dampak positif kerja sama internasional bagi perekonomian Indonesia adalah ....
  - a. masuknya barang impor membuat sebagian perusahaan Indonesia bangkrut
  - b. semakin banyaknya pengangguran
  - c. semakin banyak rakyat miskin
  - d. perekonomian Indonesia semakin maju
10. CGI merupakan organisasi kelompok negara pemberi pinjaman bagi Indonesia sebagai pengganti IGGI, yang didirikan karena ....
  - a. IGGI telah mencampuri urusan dalam negeri Indonesia
  - b. Indonesia masih memerlukan dana pinjaman yang lebih besar setiap tahun
  - c. Belanda sebagai ketua IGGI sudah tidak mendapat kepercayaan para anggota
  - d. Belanda sebagai ketua IGGI menginginkan berdirinya CGI
11. Perilaku positif yang muncul dalam perubahan sosial budaya di era global adalah ....
  - a. demonstrasi
  - b. pola pikir modern
  - c. aksi protes
  - d. pergolakan daerah



12. Organisasi internasional berikut ini yang tidak bernaung di bawah PBB adalah ....
- IMF
  - WTO
  - UNDP
  - CGI
13. Berikut ini langkah-langkah yang dapat ditempuh pemerintah Indonesia untuk mempertahankan kemandirian perekonomian, *kecuali* ....
- meningkatkan ekspor
  - meningkatkan impor
  - memajukan teknologi
  - mempererat hubungan kerja sama antarnegara
14. Meletusnya pergolakan daerah, maraknya aksi protes, maupun meningkatnya kriminalitas dalam masyarakat dapat mengakibatkan ....
- revolusi sosial
  - reformasi politik
  - perubahan sosial
  - disintegrasi sosial
15. Berikut ini pemrakarsa Gerakan Non-Blok, *kecuali* ....
- Jawaharlal Nehru
  - Adam Malik
  - Gamal Abdul Nasser
  - Kwame Nkrumah

## II. Jawablah pertanyaan berikut dengan benar!

- Jelaskan salah satu alasan suatu negara melakukan kerja sama dengan negara lain!
- Tuliskan tujuan kerja sama ASEAN!
  - Tuliskan 10 negara anggota ASEAN!
- Jelaskan faktor-faktor penyebab munculnya *cultural lag* dalam masyarakat!
- Mengapa mulai 25 Maret 1992, Indonesia menolak bantuan Belanda yang tergabung dalam IGGI?
- Tuliskan dampak kerja sama antarnegara bagi suatu negara!



*Bacalah wacana dari media massa berikut ini dengan saksama!*

### Mewujudkan Perdagangan Bebas RI – Jepang

Indonesia mengharapkan agar dalam waktu dekat bisa merealisasikan terbentuknya perdagangan bebas dengan Jepang. Kerja sama yang lebih erat diharapkan juga tercipta dalam bidang investasi dan kemaritiman.

Indonesia sangat berharap bisa mencapai sebuah kesepakatan yang bersifat strategis. *Pertama*, adanya peningkatan hubungan yang menyeluruh antara Indonesia dan Jepang. *Kedua*, mengharapkan dimulainya perundingan terbentuknya kawasan perdagangan bebas (*free trade area*) antara Indonesia dengan Jepang.

Pembahasan mengenai kesepakatan kemitraan ekonomi, yang menjadi cikal bakal terbentuknya perdagangan bebas sudah dilakukan setiap tiga bulan. Pihak Indonesia diwakili Menteri Perdagangan Mari Elka Pangestu, sementara pihak Jepang diwakili Duta Besar Jepang di Jakarta, Yutaka Iimura. Dari hasil kesepakatan yang telah dicapai, bukan mustahil dalam dua atau tiga tahun mendatang perdagangan bebas di antara kedua negara bisa dilaksanakan.

*Ketiga*, diharapkan disepakatinya *investment action plan*. Investasi itu bukan hanya dari pihak pemerintah, tetapi juga dari pihak swasta. Selanjutnya yang *keempat*, Indonesia mengharapkan dibangunnya kerja sama di bidang maritim, di mana Jepang memiliki keunggulan ilmu pengetahuan dan teknologi di bidang itu. Hal yang *kelima*, Indonesia mengharapkan bisa belajar dari Jepang mengenai upaya menghindari ancaman bencana alam. Pihak Jepang menyambut baik terciptanya hubungan yang makin erat antara Indonesia dan Jepang. Apalagi kerja sama di antara kedua negara tersebut tidak hanya terbatas pada bidang ekonomi, tetapi juga dalam bidang sosial, budaya, pendidikan, dan juga media massa.

Pihak Indonesia menangkap adanya minat yang besar dari pengusaha Jepang untuk melakukan kegiatan usahanya di Indonesia. Hanya saja, para pengusaha Jepang meminta jaminan dari pemerintah Indonesia bahwa kegiatan bisnis mereka bisa berjalan aman. Pihak Indonesia sendiri berpendapat, kalau soal jaminan dari pemerintah bisa dibicarakan proyek demi proyek. Sebab, tidaklah mungkin pemerintah Indonesia memberikan jaminan yang bersifat menyeluruh dan berlaku terhadap semua investasi yang ada di Indonesia.

Pemerintah Indonesia juga menyadari bahwa permintaan itu berat untuk bisa dipenuhi. Namun, dengan peringkat Indonesia yang belum masuk kategori layak untuk investasi, pemerintah harus memberikan insentif. Apabila yang diminta adalah jaminan pemerintah terhadap risiko bisnis, jelas itu tidak mungkin. Akan tetapi, jika yang diminta kepastian usaha atau tidak akan adanya nasionalisasi, tentu hal itu bisa diberikan pemerintah.

Dalam pembicaraan antara kedua negara tersebut, pihak Indonesia melontarkan pikiran untuk membentuk Blok Ekonomi Asia Timur Raya (*The Great East Asia*). Hal itu disampaikan menanggapi kekhawatiran pihak Jepang atas terlalu pesatnya investasi Cina di Indonesia.

Menanggapi hal itu, pihak Indonesia sependapat perlu dihindarkan adanya dominasi satu negara terhadap perekonomian di kawasan itu. Oleh karena itulah Indonesia dan



Jepang harus mendorong tumbuhnya Blok Ekonomi Asia Timur Raya. *The Great East Asia* itu jangan hanya terjadi antara ASEAN dan Jepang, Cina, serta Korea Selatan, tetapi harus menarik dua negara di selatan yaitu Selandia Baru dan Australia, serta satu negara di barat yaitu India, untuk masuk.

**Sumber:** Kompas, 19 Mei 2005 (dengan pengubahan seperlunya).

**Kerjakan kegiatan berikut secara berkelompok!**

**Ikuti langkah-langkah pengerjaan berikut ini!**

1. Buatlah kelompok dengan anggota tiga siswa.
2. Lakukan diskusi tentang permasalahan berikut.
  - a. Persoalan apa saja yang dapat kamu temukan dari wacana di atas?
  - b. Dapatkah kesepakatan yang dimaksud pada wacana di atas terealisasi dalam situasi ekonomi saat ini?
  - c. Cobalah buat analisis singkat tentang keuntungan dan kerugian yang diperoleh Indonesia dari kesepakatan atau kerja sama yang disebutkan dalam wacana di atas!
3. Usahakan setiap anggota memberi pendapat secara aktif.
4. Buatlah laporan hasil diskusi kelompokmu dalam kertas tersendiri, kemudian kumpulkan kepada gurumu.



### I. Pilihlah satu jawaban yang paling tepat!

1. Kenampakan alam di permukaan bumi yang merupakan buatan manusia disebut ....
  - a. bentang budaya
  - b. bentang alam
  - c. pola atau ruang
  - d. bangun atau alur
2. Salah satu contoh bentuk alamiah atau bentang alam adalah ....
  - a. rel kereta api
  - b. jalan
  - c. danau
  - d. gedung
3. Berdasarkan mata pencahariannya, sebagian besar penduduk negara berkembang bekerja di sektor ....
  - a. jasa
  - b. pertanian
  - c. industri
  - d. kehutanan
4. Salah satu negara di Benua Amerika yang dikategorikan sebagai negara berkembang adalah ....
  - a. Kanada
  - b. Mongolia
  - c. Bhutan
  - d. Suriname
5. Penduduk di Benua Asia yang bermata pencaharian pertanian umumnya tinggal di sekitar ....
  - a. daerah alira sungai
  - b. daerah rawa
  - c. daerah pegunungan
  - d. daerah pantai
6. Negara yang sampai saat ini masih menggantungkan perekonomiannya dari sektor pertanian adalah ....
  - a. Singapura
  - b. Taiwan
  - c. Kamboja
  - d. Jepang
7. Diantara negara-negara berikut ini yang berada dikawasan Asia Barat adalah ....
  - a. Yaman
  - b. Pakistan
  - c. Jepang
  - d. India
8. Negara-negara berkembang berada di kawasan ....
  - a. Asia Selatan
  - b. Australia
  - c. Amerika Utara
  - d. Eropa Barat
9. Negara yang berada di subwilayah Asia Tenggara daratan adalah ....
  - a. Myanmar
  - b. Indonesia
  - c. Timor Leste
  - d. Filipina
10. Batas Benua Asia di sebelah timur adalah ....
  - a. Selat Dardanela dan terusan Suez
  - b. Samudra Arktik
  - c. Selat Bering dan Samudra Pasifik
  - d. Samudra Hindia
11. Berikut ini merupakan ras utama di Benua Asia Adalah ....
  - a. ras Nordik
  - b. ras Kaukasoid
  - c. ras Pigmi
  - d. ras Alpen
12. Di Indonesia, bank yang memerankan fungsi bank Sentral adalah ....
  - a. Bank Central Asia
  - b. Bank Indonesia
  - c. Bank Negara Indonesia
  - d. Bank Rakyat Indonesia
13. Perjanjian damai antara Indonesia dengan Belanda yang menandai berakhirnya kekuasaan Belanda di Irian barat adalah ....
  - a. Perjanjian Jenewa
  - b. Konferensi Meja Bundar
  - c. Perjanjian New York
  - d. Pepera



14. Angkatan Darat dan PKI terlibat konflik permanen sejak tahun 1948, karena ....
  - a. keduanya berlomba-lomba ingin mendapatkan dukungan Bung Karno
  - b. adanya ingin merebut kekuasaan
  - c. adanya perbedaan di antara keduanya
  - d. PKI menjadikan AD sebagai angkatan kelima
15. Meskipun mayoritas rakyat Indonesia beragama Islam, gerakan DI/TII tidak mendapatkan dukungan rakyat, karena ....
  - a. rakyat lebih mendukung terbentuknya RIS
  - b. rakyat cenderung bergabung dengan negara federal bentukan Belanda
  - c. rakyat menilai DI/TII berkhianat pada cita-cita proklamasi dan Pancasila
  - d. DI/TII dipimpin para tokoh yang tidak disukai rakyat
16. Pemberontakan PRRI dan Permesta berkaitan satu sama lain karena ....
  - a. dilatarbelakangi ketidakharmonisan pemerintah pusat dan daerah
  - b. didukung oleh kalangan sipil yang anti Kabinet Karya (Kabinet Juanda)
  - c. pemberontakan dilakukan oleh kalangan militer
  - d. disebabkan kegagalan pemberontakan Andi Azis
17. Kerja sama regional di kawasan Asia Tenggara diwujudkan dalam ....
  - a. ECOSOC
  - b. OPEC
  - c. ASEAN
  - d. NAFTA
18. Indonesia masuk keanggotaan OPEC pada tahun ....
  - a. 1962
  - b. 1972
  - c. 1964
  - d. 1974
19. Kerja sama ekonomi internasional dikatakan sehat dan adil apabila ....
  - a. posisi perdagangan tiap-tiap negara semakin kuat
  - b. jumlah dan harga produk yang dijual di pasar internasional sama-sama dibatasi
  - c. nilai ekspor masing-masing negara sesuai dengan nilai impor
  - d. masing-masing negara dapat memperdagangkan produknya se bebas mungkin
20. Puncak konfrontasi militer terhadap Belanda yaitu dikumandangkannya Trikora pada tanggal ....
  - a. 18 November 1957
  - b. 19 Desember 1961
  - c. 17 Agustus 1960
  - d. 1 Oktober 1962

## II. Jawablah pertanyaan berikut dengan benar!

1. Sebutkan langkah-langkah membuat penampang melintang suatu bentang alam berdasarkan peta konturnya!
2. Faktor apa saja yang memengaruhi pola persebaran objek geografi?
3. Bagaimanakah letak dan bentang alam negara Timor Leste?
4. Jelaskan aktivitas perekonomian utama di Eropa selain industri!
5. Bagaimanakah letak astronomis Benua Amerika dan batas-batasnya?
6. Apa saja indikator yang menentukan kategori sebuah negara?
7. Masalah apa yang paling lazim dijumpai di negara berkembang?
8. Bagaimanakah kaitan perkembangan industri dengan angka pengangguran?
9. Sebutkan peran pendekatan persuasif dalam penumpasan DI/TII di Aceh!
10. Sebutkan dewan militer yang muncul menjelang pemberontakan PRRI dan Permesta



## Glosarium

**Animisme** adalah paham atau kepercayaan kepada roh yang mendiami benda-benda seperti batu, pohon, sungai, gunung. 230, 233, 237, 241, 251

**Anjak piutang** adalah badan usaha yang melakukan kegiatan pembiayaan dalam bentuk pembelian dan atau pengalihan serta pengurusan piutang atau tagihan jangka pendek suatu perusahaan dari transaksi perdagangan dalam atau luar negeri. 144

**Asuransi** adalah perjanjian di antara dua pihak atau lebih, dengan mana pihak penanggung mengikatkan diri kepada tertanggung, dengan menerima premi asuransi, untuk memberikan penggantian kepada tertanggung karena kerugian, kerusakan, atau kehilangan. 143

**Bank** adalah badan usaha yang menghimpun dana dari masyarakat dalam bentuk simpanan dan menyalurkannya kepada masyarakat dalam bentuk kredit atau bentuk-bentuk lainnya dalam rangka meningkatkan taraf hidup rakyat banyak. 5, 6, 88, 115, 123, 125, 127, 128, 129, 131, 204, 206, 216

**Bank Perkreditan Rakyat (BPR)** adalah bank yang melaksanakan kegiatan usaha secara konvensional atau berdasarkan prinsip syariah yang kegiatannya tidak memberikan jasa dalam lalu lintas pembayaran. 128

**Bank syariah** adalah bank yang beroperasi berdasarkan syariah atau prinsip agama Islam. 131

**Bank umum** adalah bank yang melaksanakan kegiatan usaha secara konvensional atau berdasarkan prinsip syariah yang kegiatannya memberikan jasa dalam lalu lintas pembayaran. 127

**Defisit** adalah keadaan neraca perdagangan di mana total nilai impor lebih besar daripada total nilai ekspor. 73, 158

**Degradasi** adalah kemunduran, kemerosotan, penurunan, dan sebagainya. 82

**Dinamis** adalah penuh semangat dan tenaga sehingga cepat bergerak dan mudah menyesuaikan diri dengan keadaan dan sebagainya. 81

**Diplomasi** adalah urusan atau penyelenggaraan perhubungan resmi antara satu negara dengan negara lain dengan perantara wakil-wakilnya di negeri lain. 52, 259

**Fase eksploitasi** adalah usaha pembebasan Irian Barat dengan melakukan serangan terbuka terhadap lawan untuk menduduki pos-pos pertahanan musuh yang penting. 262

**Fase infiltrasi** adalah usaha pembebasan wilayah Irian Barat yang melibatkan rakyat dalam perjuangan fisik. 262

**Fase konsolidasi** adalah fase pembebasan Irian Barat dengan mulai ditegakkannya kekuasaan Republik Indonesia di seluruh wilayah Irian Barat. 262

**Gencatan senjata** adalah penghentian tembak-menembak. 53

**Interim** adalah sementara waktu. 56

**Interniran** adalah orang atau sekelompok orang (tawaran perang) yang ditempatkan di suatu tempat tertentu dan melarangnya meninggalkan tempat tersebut atau berhubungan dengan orang lain. 53

**Keunggulan mutlak** adalah keuntungan yang dinyatakan dengan banyaknya jam/hari kerja yang dibutuhkan untuk membuat barang-barang tersebut. 15 5



**Koalisi** adalah kerja sama antara beberapa partai untuk memperoleh kelebihan suara dalam parlemen. 62, 63

**Komoditas** adalah barang dagangan utama, atau barang niaga, bahan mentah yang dapat digolongkan menurut mutunya sesuai dengan standar perdagangan internasional. 33, 35, 191, 291

**Konferensi** adalah rapat atau pertemuan untuk berunding atau bertukar pendapat mengenai suatu masalah yang dihadapi bersama. 289, 290

**Konfrontasi** adalah permusuhan; pertentangan; cara menentang musuh dengan berhadapan langsung dan terang-terangan. 263

**Konsepsi** adalah pengertian; pendapat (paham). 84

**Kuota** adalah kebijakan pemerintah untuk membatasi jumlah fisik barang yang diperdagangkan secara internasional. 164

**Kurs valuta asing** adalah perbandingan nilai antara mata uang satu negara dengan mata uang negara lain. 168

**Neraca pembayaran** adalah suatu catatan yang tersusun secara sistematis yang memuat semua transaksi-transaksi ekonomi antara penduduk suatu negara dengan penduduk negara lain dalam jangka waktu tertentu. 159

**Neraca perdagangan** adalah catatan-catatan tentang besarnya jumlah ekspor dan impor dalam suatu periode (bulanan, triwulan, semester, atau setahun). 158

**Orde Baru** merupakan orde yang lahir sebagai koreksi total terhadap penyimpangan yang terjadi selama Orde Lama dan bertekad untuk melaksanakan Pancasila dan UUD 1945 secara murni dan konsekuen. 283

**Otoritas** adalah kekuasaan yang diberikan kepada lembaga dalam masyarakat yang memungkinkan para pejabatnya menjalankan fungsinya. 82

**Pasar modal** merupakan suatu tempat bertemunya para penjual dan pembeli untuk melakukan transaksi dalam rangka menanam dan memperoleh modal. 136

**Pepera (penentuan pendapat rakyat)** adalah penentuan pendapat seluruh rakyat Irian Barat untuk menentukan masa depan Irian Barat, di antara pilihan bergabung dengan Negara Kesatuan republik Indonesia atau berdiri sendiri. 263

**Persepsi** adalah tanggapan langsung dari sesuatu. 84

**Perusahaan modal ventura** adalah badan usaha yang melakukan suatu pembiayaan dalam bentuk penyertaan modal ke dalam suatu perusahaan yang menerima bantuan pembiayaan. 146

**Plato** adalah suatu dataran pada ketinggian di atas 300 m. 188, 197

**Politik dumping** adalah kebijakan suatu negara untuk mengekspor hasil produksinya ke pasar negara lain dengan harga yang lebih rendah daripada harga di dalam negerinya sendiri. 157

**Provokatif** adalah bersifat provokasi, yaitu perbuatan untuk membangkitkan kemarahan. 53

**Ras** adalah golongan bangsa berdasarkan ciri-ciri fisiknya. 199, 200

**Relief** adalah perbedaan ketinggian pada bagian-bagian permukaan Bumi. 192

**Resolusi** adalah putusan atau kebulatan pendapat berupa permintaan atau tuntutan yang ditetapkan oleh rapat (musyawarah, sidang). 51, 56



**Revolusi** adalah perubahan yang cukup mendasar dalam suatu bidang, misalnya kenegaraan. 92, 100

**Sistem barter** merupakan suatu sistem pertukaran antara barang dengan barang, barang dengan jasa, atau jasa dengan barang. 115

**Surplus** adalah keadaan neraca perdagangan di mana total nilai ekspor dalam neraca perdagangan lebih besar daripada nilai impor. 158

**Teori Merkantilis** adalah teori yang memusatkan diri pada dua ide pokok yaitu penumpukan logam mulia dan usaha untuk mencapai dan mempertahankan kelebihan nilai ekspor atas nilai impor. 153

**Transaksi debit** adalah transaksi yang menimbulkan kewajiban untuk membayar kepada negara lain. 159

**Transaksi kredit** adalah transaksi yang menimbulkan hak untuk menerima pembayaran dari negara lain. 159

**Ultimatum** adalah peringatan atau tuntutan yang terakhir dengan diberi batas waktu untuk menjawabnya. 54

**Valuta** adalah alat pembayaran yang dijamin oleh cadangan emas atau perak yang ada di bank pemerintah. 168, 169



# Daftar Pustaka

- Antonio, Muhammad Syafe'i. 2001. *Bank Syariah dari Teori ke Praktik*. Jakarta: Gema Insani Press.
- Astrid S. Susanto, Phil. 1999. *Pengantar Sosiologi dan Perubahan Sosial*. Jakarta: Putra A Bardin.
- Dumairy. 1999. *Perekonomian Indonesia*. Jakarta: Erlangga.
- Syukur, Abdul. dkk. *Ensiklopedi Umum untuk Pelajar*. 2005. Jakarta: PT. Ichtiar Baru van Hoeve.
- Geographica The Complete Illustrated World Reference*. 1999. Singapura: Periplus.
- Hady, Hamdy. 2001. *Ekonomi Internasional, Teori dan Kebijakan Perdagangan Internasional, Buku 1*. Jakarta: Ghalia Indonesia.
- Kartodirjo, Sartono. 1993. *Pengantar Sejarah Indonesia Baru 1 dan 2*. Jakarta: Gramedia.
- Kasmir. 2002. *Bank dan Lembaga Keuangan Lainnya*. Jakarta: PT Raja Grafindo Persada.
- Kelana, Said. 1997. *Teori Ekonomi Makro*. Jakarta: PT Raja Grafindo Persada.
- Kuper, Jessica dan Kuper, Adam. 2000. *Ensiklopedi Ilmu-Ilmu Sosial*. Jakarta: PT RajaGrafindo Persada.
- Marwati Djoenod Poesponegoro, Nugroho Notosusanto. 1992. *Sejarah Nasional Indonesia VI*. Jakarta: Balai Pustaka.
- Microsoft Students, Encarta Reference Library 2008*. Microsoft.Inc.
- Moehadi. 1984. *Materi Pokok Sejarah Indonesia*. Jakarta: Bina Aksara.
- Mutakin, Awan dan Kamil Pasya, G. 2000. *Masyarakat Indonesia dalam Dinamika*. Bandung: Buana Nusa.
- Mutakin, Awan dkk. 2004. *Dinamika Masyarakat Indonesia*. Bandung: PT Genesindo.
- Sanderson, K. Stephen. 2003. *Makro Sosiologi, Sebuah Pendekatan Terhadap Realitas Sosial (edisi ke-2)*. Jakarta: PT Raja Grafindo Persada.
- Salim, Agus. 2002. *Perubahan Sosial: Sketsa Teori dan Refleksi Metodologi Kasus Indonesia*. Yogyakarta: Tiara Wacana Yogya.
- Siahaan, M. Hotman. 1986. *Pengantar Kearah Sejarah dan Teori Sosiologi*. Jakarta: Erlangga.
- Siamat, Dahlan. 1995. *Manajemen Lembaga Keuangan*. Surakarta: Intermedia.
- Soekanto, Soerjono. 1983. *Teori Sosiologi tentang Perubahan Sosial*. Ghalia Indonesia.
- . 1993. *Kamus Sosiologi*. Jakarta: PT Raja Grafindo Persada.
- . 2000. *Sosiologi Sebuah Pengantar*. Jakarta: PT RajaGrafindo Persada.
- Sukirno, Sadono. 2000. *Pengantar Teori Makro Ekonomi*. Jakarta: PT Raja Grafindo Persada.
- Sutjipto Wiryosuparto. 1958. *Dari Lima Zaman Penjajahan Menuju Zaman Kemerdekaan*. Jakarta: Indira.



website:

<http://www.datastatistik-indonesia.com>

<http://www.bps.go.id>

<http://id.wikipedia.org>

<http://www.prb.org>

<http://www.scribd.com>



# Indeks

## A

A.C. Pigou 113  
Adam Smith 154  
aksi protes 305  
akulturasi 94, 96, 97  
Albert Gailort Hart 113  
animisme 230, 233, 237, 241, 251  
anjak piutang 144  
apatis 98  
APEC 299  
ASEAN 293  
*Asian Development Bank* 300  
asimilasi 94, 96, 98  
Astrid S. Susanto 82  
asuransi 143

## B

bangsa Ainu 14  
bank 5, 6, 88, 115, 123, 125, 127, 128, 129, 131, 204, 206, 216  
    asing 129  
    dunia 5, 6  
    Perkreditan Rakyat (BPR) 128  
    sentral 125  
    syariah 131  
    umum 127  
barter 115  
*basic invention* 88  
Benua Hitam 204, 206  
bumerang 216

## C

campos 27  
*cash in advance* 169  
Celah Kaiber 28  
*Consultative Group for Indonesia* 300  
*corn Belt* 20  
*cotton Belt* 20

## D

dana pensiun 146  
danau 189, 200, 202, 203, 212, 215  
Dasasila Bandung 292  
David Ricardo 156  
defisit 158  
Deklarasi Bangkok 294  
demografi 87  
demonstrasi 305  
*demonstration effect* 94  
devaluasi 173  
devisa 173  
difusi 94, 96, 99, 302  
*discovery* 88  
disfungsional 302

## E

E. B. Taylor 83  
elevador 20  
era industrialisasi 14  
evolusi 100, 101

## F

FAO 286  
Fasenda 28  
Fellahin 33  
fungsional 302

## G

*gains from trade* 153, 167  
Gerakan Non-Blok 296  
Grand Canyon 18  
gulfstream 22

## H

hidroponik 14  
hieroglif 33

## I

ILO 286  
IMF 286  
Indra Prasta 28  
*Inter Governmental Group on Indonesia* 300  
interaksi sosial 82  
invensi 302  
Invention 88  
invention 88  
*Islamic Development Bank* 300  
isobath 190, 193

## J

Jamhuriya 33

## K

Karl Marx 90  
kartel 21  
kartu kredit 146  
kenakalan remaja 308  
Kesultanan Islam 229  
keunggulan komparatif 156  
keunggulan mutlak 155  
Kingsley Davis 83  
Kip 236  
KMB 287  
Koentjaraningrat 83  
Konferensi 289, 290  
    Asia Afrika 289  
    Pancanegara I 290  
    Pancanegara II 290  
konflik nilai 86  
konsekuensi 302



konsepsi 84  
kontak budaya 94, 96, 97  
kontur 187, 193, 194  
koperasi 141  
Kopta 33  
kriminalitas 307  
kriminologi 307  
kuota 164  
kurs tambatan 173  
kurs valuta asing 168  
Kyat 242

## L

larangan impor 163  
*Letters of Credit* 170

## M

Mahatma Gandhi 28  
*marginal survivals* 99  
Melayu 227, 230, 241, 246, 248, 249  
Mill 157  
monokultur 20

## N

negara 5, 6, 7, 8, 9, 10, 11, 12,  
    berkembang 5, 6, 7, 8, 11  
    dunia ketiga 5  
    maju 5  
    maju 5, 6, 8, 9, 10, 11, 12  
    pengekspor minyak 5, 11  
neraca 158, 159, 161  
    pembayaran 159  
    perdagangan 158  
    tekening berjalan 161  
    tekening modal 161  
Ngai 34  
nilai 82, 84, 86, 91, 92, 104  
norma 82, 91, 92

## O

oase 31  
obelisk 33  
*open account* 169  
Orde Baru 283  
Orde Reformasi 284  
*Organization of Petroleum Exporting Countries* 301  
otokritik 86

## P

Pandit Jawaharlal Nehru 28  
pasar modal 136  
pasar uang 137  
pegadaian 139  
pergolakan daerah 306  
Persatuan Bangsa-Bangsa 285  
persepsi 84  
perubahan kebudayaan 83  
perubahan kebudayaan 84  
perubahan sosial 81, 82, 83, 84

Perundingan Roem-Royen 287  
perusahaan modal ventura 146  
Peso 231  
Piagam San Fransisco 285  
piramida 33  
pirethrum 34  
*Planned Change* 102  
pola perilaku 82  
*Politik Dumping* 165  
*private compensation* 170  
proses sosial 85  
prostitusi 306

## R

R.S. Sayers 114  
rawa 189  
rawa 187, 189, 203  
relief muka bumi 192  
*reproving invention* 88  
resolusi 51, 56  
revolusi 92, 100  
Revolusi Prancis 16  
*rhododendron* 242  
riba 131  
riel 233  
ringgit 238  
Robertson 114  
Rollin G. Thomas 114

## S

Selo Soemardjan 82  
sewa guna usaha 140  
sikap 99  
    inferioritas 99  
    superioritas 99  
simpati 98  
Sirkum Pasifik 13  
sistem  
    budaya 97, 99  
    kurs mengambang 172  
    pengawasan devisa 172  
    sosial 83, 86, 92, 97, 99  
    standar emas 171  
spinx 33  
struktur sosial 85  
subsidi 165  
suburban 90  
sungai 187, 188, 189, 196, 197, 200, 203, 204, 206,  
    207, 208, 211, 212, 215, 219, 220  
surplus 158

## T

Tagalog 232, 233  
Tanah Genting Panama 212  
tarif impor 162  
tekanan penduduk 7  
Teori Merkantilis 153  
Terusan Suez 31, 33  
*The Great Barrier Reef* 216



*The Initiative of Five* 297

*Tobacco Belt* 20

toleransi 98

transaksi 159

    debit 159

    kredit 159

trust 21

## U

uang 113, 115, 119, 120, 121, 122,

    barang 115

    internasional 122

    kartal 121

    kertas 120

    logam 119

    lokal 122

    regional 122

UNESCO 286

UNHCR 286

UNICEF 285

*Universal Declaration of Human Rights* 292

*Unplanned Change* 102

urban 11

## V

*vested interest* 95

## W

*Wheat Belt* 20

WHO 286

## Y

Yang Dipertuan Agong 238



*Manusia yang baik mampu mengenali lingkungannya dengan baik.*

Bagaimana denganmu? Sudahkah kamu mengenali lingkungan sekitarmu?

Lingkungan hidup manusia terdiri atas lingkungan fisik dan nonfisik. Dalam pelajaran Ilmu Pengetahuan Sosial (IPS), kamu mempelajari kedua macam lingkungan tersebut. Dengan mempelajari secara intensif, kamu akan memiliki pengetahuan, pemahaman, dan kemampuan analisis terhadap kondisi sosial masyarakat yang dinamis.

*Apa saja yang dipelajari dalam Ilmu Pengetahuan Sosial?*

Ruang lingkup mata pelajaran IPS meliputi aspek-aspek berikut.

1. Manusia, tempat, dan lingkungan.
2. Waktu, keberlanjutan, dan perubahan.
3. Sistem sosial dan budaya.
4. Perilaku ekonomi dan kesejahteraan.

Buku ***Ilmu Pengetahuan Sosial untuk SMP dan MTs*** ini disusun untuk membantumu memahami dan mengenali keadaan masyarakat dan lingkungan, serta segala komponennya. Dengan memahami dan mengenali lingkungan, kamu diharapkan dapat menjadi warga negara Indonesia yang demokratis dan bertanggung jawab, serta warga dunia yang cinta damai.

Isi buku ini sesuai dengan Kurikulum Tingkat Satuan Pendidikan yang telah ditetapkan. Diharapkan buku ini akan membuka cakrawala dan wawasanmu, sekaligus membantumu memiliki kemampuan memahami unsur-unsur lingkungan dan pengaruhnya terhadap kehidupan manusia.

ISBN : 978-979-068-103-3 ( No. Jilid Lengkap )  
978-979-068-109-5

Buku ini telah dinilai oleh Badan Standar Nasional Pendidikan (BSNP) dan telah dinyatakan layak sebagai buku teks pelajaran berdasarkan Peraturan Menteri Pendidikan Nasional Nomor 69 Tahun 2008 tanggal 7 November 2008 tentang Penetapan Buku Teks yang Memenuhi Syarat Kelayakan untuk Digunakan dalam proses pembelajaran.

Harga Eceran Tertinggi ( HET ) Rp 20.831